

11.2. Problemas

1. Determinar las ecuaciones paramétricas y la ecuación continua de las rectas que pasan por el punto A y con el vector de dirección dado:

a) $A(2, 1, -3), \vec{v} = (-1, 2, -2)$; b) $A(0, 0, 0), \vec{v} = (2, -1, -3)$

Solución:

$$\text{a) } \begin{cases} x = 2 - t \\ y = 1 + 2t \\ z = -3 - 2t \end{cases} ; \quad \text{b) } \begin{cases} x = 2t \\ y = -t \\ z = -3t \end{cases}$$

$$\frac{x-2}{-1} = \frac{y-1}{2} = \frac{z+3}{-2} \qquad \frac{x}{2} = \frac{y}{-1} = \frac{z}{-3}$$

2. Determinar dos puntos pertenecientes a las rectas:

a) $\frac{x-1}{2} = \frac{2-3y}{3} = 1-z$; b) $\begin{cases} x = 2z - 1 \\ y = -3z + 2 \end{cases}$

3. Escribir en forma paramétrica las rectas:

a) $\frac{x-1}{3} = y = \frac{2-z}{2}$; b) $x = y = z$

Solución:

$$\text{a) } \begin{cases} x = 1 + 3t \\ y = t \\ z = 2 - 2t \end{cases} ; \quad \text{b) } \begin{cases} x = t \\ y = t \\ z = t \end{cases}$$

4. Hallar en forma paramétrica y cartesiana la ecuación del plano que pasa por el punto $A(1, -1, 2)$ y con vectores \vec{r}, \vec{s} que se indican como vectores de dirección:

a) $\vec{r} = (0, -1, 2), \vec{s} = (1, 3, 2)$; b) $\vec{r} = (0, -1, -3), \vec{s} = (-1, 2, -3)$

Solución:

$$\text{a) } \begin{cases} x = 1 + s \\ y = -1 - t + 3s \\ z = 2 + 2t + 2s \end{cases} ; \quad \text{b) } \begin{cases} x = 1 - s \\ y = -1 - t + 2s \\ z = 2 - 3t - 3s \end{cases}$$

$$8x - 2y - z - 8 = 0 \qquad 9x + 3y - z - 4 = 0$$

5. Pasar a la forma continua y hallar un vector de dirección de las rectas:

$$\text{a) } \begin{cases} x = 2z - 1 \\ y = -z - 2 \end{cases} \quad ; \quad \text{b) } \begin{cases} y = 2x + 3 \\ z = 2x - 2 \end{cases}$$

Solución:

$$\text{a) } \begin{cases} \frac{x+1}{2} = \frac{y+2}{-1} = \frac{z}{1} \\ \vec{v} = (2, -1, 1) \end{cases} \quad ; \quad \text{b) } \begin{cases} \frac{x}{1} = \frac{y-3}{2} = \frac{z+2}{2} \\ \vec{v} = (1, 2, 2) \end{cases}$$

6. Hallar las ecuaciones paramétricas, ecuación continua y un vector de dirección de la recta:

$$\begin{cases} 2x - 3y + z - 1 = 0 \\ x - y + 2 = 0 \end{cases}$$

Solución:

$$\begin{cases} x = -7 + t \\ y = -5 + t \\ z = t \end{cases} \quad ; \quad \frac{x+7}{1} = \frac{y+5}{1} = \frac{z}{1} \quad ; \quad \vec{v} = (1, 1, 1)$$

7. Hallar la ecuación del plano que contenga al punto $P(1, 1, 1)$ y sea paralelo a las rectas:

$$r \equiv \begin{cases} x - 2y = 0 \\ y - 2z + 4 = 0 \end{cases} \quad ; \quad s \equiv \begin{cases} x = 2 + t \\ y = 1 - t \\ z = t \end{cases}$$

Solución: $x - y - 2z + 2 = 0$

8. Hallar la ecuación del plano que pasa por el punto $P(1, 1, 2)$ y es paralelo a las rectas:

$$r \equiv \begin{cases} 3x + y = 0 \\ 4x + z = 0 \end{cases} \quad ; \quad s \equiv \begin{cases} x - y = 2 \\ y - z = -3 \\ z = t \end{cases}$$

Solución: $x - 5y + 4z - 4 = 0$

9. Obtener las ecuaciones de la recta que pasa por el punto $A(1, 2, 2)$ y es paralela a la recta:

$$\begin{cases} x = z - 1 \\ y = 2z + 1 \end{cases}$$

Solución: $\frac{x-1}{1} = \frac{y-2}{2} = \frac{z-2}{1}$

10. Obtener las ecuaciones de la recta que pasa por el origen y es paralela a la recta:

$$\begin{cases} x - y - z = 0 \\ x + y + z = 0 \end{cases}$$

Solución: $\frac{x}{0} = \frac{y}{-1} = \frac{z}{1}$

11. Averiguar si son paralelos los planos π_1, π_2 de cada uno de los apartados siguientes:

$$\text{a) } \begin{cases} \pi_1 \equiv x - y + z = 0 \\ \pi_2 \equiv x - y = 0 \end{cases} \quad ; \quad \text{b) } \begin{cases} \pi_1 \equiv x + y = 0 \\ \pi_2 \equiv x = 2 \end{cases}$$

Solución: No, No

12. Hallar las ecuaciones de los ejes y planos de coordenadas.

Solución:

$$\begin{aligned} \text{Eje } x &\equiv \begin{cases} y = 0 \\ z = 0 \end{cases} \quad ; \quad \text{Eje } y &\equiv \begin{cases} x = 0 \\ z = 0 \end{cases} \quad ; \quad \text{Eje } z &\equiv \begin{cases} x = 0 \\ y = 0 \end{cases} \\ \text{Plano } xy &\equiv z = 0 \quad ; \quad \text{Plano } yz &\equiv x = 0 \quad ; \quad \text{Plano } xz &\equiv y = 0 \end{aligned}$$

13. Hallar la ecuación del plano que contiene a la recta

$$\frac{x-1}{2} = \frac{y-1}{3} = z$$

y es paralelo al vector de extremos $A(2, 0, 0), B(0, 1, 0)$.

Solución: $x + 2y - 8z - 3 = 0$

14. Dados los puntos $A(1, 0, 2), B(0, 1, 3), C(-1, 2, 0), D(2, -1, 3)$, hallar la ecuación del plano que contiene a la recta que pasa por AB y es paralelo a la recta que pasa por CD .

Solución: $x + y - 1 = 0$

15. Sean las rectas $\vec{x} = (1, 1, 1) + \lambda(2, 1, -1), \vec{x} = \mu(3, 0, 1)$. Hallar la ecuación del plano que pasa por el origen y es paralelo a ambas rectas.

Solución: $x - 5y - 3z = 0$

16. Hallar la ecuación del plano que pasa por el punto $(-1, 2, 0)$ y contiene a la recta:

$$\begin{cases} x - 2y + z - 3 = 0 \\ y + 3z - 5 = 0 \end{cases}$$

Solución: $3x - 14y - 21z + 31 = 0$

17. Hallar los valores de a para que sean paralelas las rectas:

$$r \equiv \frac{x-1}{a} = \frac{y}{2a} = \frac{z}{1} \quad ; \quad s \equiv \begin{cases} x = -t \\ y = -2 - 2t \\ z = -at \end{cases}$$

Solución: $a = \pm 1$

18. Estudiar si las rectas:

$$r \equiv \frac{x-2}{1} = \frac{y+2}{-2} = \frac{z-1}{-1} \quad ; \quad s \equiv \frac{x+3}{2} = \frac{y-2}{-1} = \frac{z}{1}$$

son coplanarias. En caso afirmativo, hallar la ecuación del plano que las contiene.

Solución: Sí, $x + y - z + 1 = 0$

19. Dadas la recta r y el plano π :

$$r \equiv \begin{cases} x - 2y - 2z = 1 \\ x + 5y - z = 0 \end{cases} \quad ; \quad \pi \equiv 2x + y + mz = n$$

determinar la relación (o valores) entre m y n de modo que:

- r y π sean secantes.
- r y π sean paralelos y $r \not\subset \pi$.
- r esté contenida en π

Solución: $7m + 23 \neq 0$; $m = -\frac{23}{7}, n \neq \frac{9}{7}$; $m = -\frac{23}{7}, n = \frac{9}{7}$

20. Hallar las ecuaciones de la recta que pasa por el punto $P(1, 1, 2)$ y se apoya en las rectas:

$$r \equiv \frac{x-1}{3} = \frac{y}{2} = \frac{z-1}{-1} \quad ; \quad s \equiv \frac{x}{2} = \frac{y}{1} = \frac{z+1}{2}$$

Solución: $\frac{x-1}{1} = \frac{y-1}{0} = \frac{z-2}{-1}$

21. Hallar las ecuaciones de una recta paralela al vector $\vec{u} = (1, 2, 3)$ y que corte a las rectas:

$$r \equiv \frac{x-1}{2} = \frac{y+2}{3} = \frac{z}{1} \quad ; \quad s \equiv \begin{cases} x = 2z + 1 \\ y = -z + 2 \end{cases}$$

Sugerencia: Estudiar previamente la posición relativa entre r y s .

Solución: $\frac{x-3}{1} = \frac{y-1}{2} = \frac{z-1}{3}$

22. Averiguar si los puntos $A(1, 0, 4)$, $B(3, 0, 1)$, $C(2, 0, 0)$, $D(0, 4, 0)$ son o no coplanarios.

Solución: No

23. Obtener la condición para que sean coplanarios los puntos

$$A(1, 0, 1) ; B(1, 1, 0) ; C(0, 1, 1) ; D(a, b, c)$$

Solución: $a + b + c = 2$

24. Hallar la ecuación de la recta que pasa por el punto $(-1, -3, 0)$ y es paralela a la recta:

$$\begin{cases} x = z + 2 \\ y = z - 3 \end{cases}$$

Solución: $\frac{x+1}{1} = \frac{y+3}{1} = \frac{z}{1}$

25. Hallar la ecuación de la recta que pasa por el punto $(1, 0, -1)$ y es paralela a la recta:

$$\begin{cases} x + y + z - 3 = 0 \\ 2x - 2y + z - 1 = 0 \end{cases}$$

Solución: $\frac{x-1}{3} = \frac{y}{1} = \frac{z+1}{-4}$

26. Hallar la ecuación del plano paralelo a

$$-x - 2y + 3z - 7 = 0$$

que pasa por el punto $(1, 2, -2)$

Solución: $x + 2y - 3z - 11 = 0$

27. Hallar la ecuación del plano que contiene a la recta:

$$\frac{x-1}{2} = \frac{y-1}{3} = \frac{z-1}{4}$$

y pasa por el origen.

Solución: $x - 2y + z = 0$

28. Hallar la ecuación del plano que pasa por $(1, 0, 0)$ y contiene a la recta:

$$\begin{cases} x = 2 + t \\ y = 3 - 3t \\ z = 4 + 2t \end{cases}$$

Solución: $9x + y - 3z - 9 = 0$

29. Hallar la ecuación del plano que pasa por el origen y es paralelo al plano determinado por el punto $(1, -1, 0)$ y a la recta que pasa por el punto $(2, 2, 2)$ y tiene por vector director $(1, 2, 3)$.

Solución: $5x - y - z = 0$

30. Dadas las rectas:

$$r \equiv \begin{cases} x = 2z + 1 \\ y = 3z + 2 \end{cases} ; \quad s \equiv \begin{cases} x = z + 4 \\ y = 2z + 7 \end{cases}$$

Averiguar si son coplanarias y si lo son hallar el punto de intersección.

Solución: No son coplanarias.

31. Estudiar las posiciones relativas de los siguientes pares de rectas. En caso de corte, hallar el punto de intersección:

$$\begin{aligned} \bullet & r \equiv x = y = z ; \quad s \equiv 2x + 1 = 2y = 2z + 2 \\ \bullet & r \equiv x - 1 = y - 2 = \frac{z - 3}{3} ; \quad s \equiv \frac{x - 1}{3} = y - 2 = \frac{z - 3}{2} \end{aligned}$$

Solución: Son paralelas ; Se cortan en el punto $(1, 2, 3)$.

32. Determinar la posición relativa de las rectas:

$$r \equiv \begin{cases} x = z - 1 \\ y = -z \end{cases} ; \quad s \equiv \begin{cases} x + y + z + 1 = 0 \\ x - y - z - 1 = 0 \end{cases}$$

Solución: Se cruzan.

33. Determinar a para que las siguientes rectas se corten y hallar el punto de corte:

$$r \equiv \frac{x - 3}{2} = \frac{y - 3}{-1} = \frac{z + a}{2} ; \quad s \equiv \begin{cases} x = 1 + 4t \\ y = -1 + 3t \\ z = -4 + 5t \end{cases}$$

Solución: $a = 1, (5, 2, 1)$.

34. Averiguar para qué valor de m se cortan las siguientes rectas y hallar el punto de corte:

$$r \equiv \frac{x - 1}{2} = \frac{y + 1}{3} = \frac{z - 4}{5} ; \quad s \equiv \begin{cases} x + 2y + z - m = 0 \\ 2x - y - z + 2 = 0 \end{cases}$$

Solución: $m = \frac{25}{4}, (\frac{3}{2}, -\frac{1}{4}, \frac{21}{4})$.

35. Sean las rectas:

$$r \equiv \begin{cases} 5z = \lambda(x - 3) + 10 \\ 5y = x + 2 \end{cases} \quad ; \quad s \equiv \frac{x - 1}{-5} = \frac{y}{\lambda} = \frac{z - 1}{2}$$

- Demostrar que se cruzan para todo valor de λ .
- Hallar para qué valor de λ la recta s es paralela al plano $2x + 3y - z + 1 = 0$.

Solución: $\lambda = 4$.

36. Para cada número real λ se considera el plano π de ecuación:

$$\pi \equiv (2\lambda + 1)x + (1 - \lambda)y + (1 + 3\lambda)z + 2\lambda - 1 = 0$$

Demostrar que todos los planos anteriores pasan por una recta r y calcular las ecuaciones paramétricas de dicha recta.

Solución:

$$\begin{cases} x = -3 - 4t \\ y = 2 + t \\ z = 2 + 3t \end{cases}$$

37. Estudiar la posición relativa de la recta:

$$\begin{cases} x = 3t - 1 \\ y = t + 2 \\ z = 2t \end{cases}$$

y el plano determinado por los puntos $A(1, 3, 2), B(2, 0, 1), C(1, 4, 3)$.

Solución: Se cortan en el punto $(\frac{4}{5}, \frac{13}{5}, \frac{6}{5})$.

38. Dadas las rectas:

$$r \equiv \begin{cases} x = 2z + p \\ y = -z + 3 \end{cases} \quad ; \quad s \equiv \begin{cases} x = -z + 1 \\ y = 2z + q \end{cases}$$

- Hallar la condición que deben cumplir p y q para que las rectas estén contenidas en un plano.
- Determinar p, q para que el plano pase por el punto $(1, 1, 1)$.

Solución: $q - p = 2; p = -2, q = 0$.

39. Hallar las ecuaciones de la recta que pasa por el origen y corta a las rectas:

$$x = 2y = z - 1 \quad ; \quad \frac{x}{2} = \frac{y-1}{3} = z$$

Solución: $\frac{x}{2} = \frac{y}{1} = \frac{z}{1}$

40. Dadas las rectas:

$$r \equiv \begin{cases} x - 2y + z + 1 = 0 \\ 2x + y - 2z + 2 = 0 \end{cases} \quad ; \quad s \equiv \begin{cases} x - y + z = -8 \\ 2x + 3y - z = -8 \end{cases}$$

Hallar la ecuación de la recta que se apoya en ambas y pasa por el punto (8, 5, 4).

Solución: $\frac{x-8}{-2} = \frac{y-5}{23} = \frac{z-4}{37}$

41. Dadas las rectas:

$$r \equiv \frac{x-1}{2} = y = z \quad ; \quad s \equiv \begin{cases} y = 2x - 1 \\ z = 3 \end{cases}$$

Obtener la ecuación de la recta que se apoya en ambas y tiene como vector director (-1, 3, -1).

Solución: $\frac{x-17}{-1} = \frac{y-8}{3} = \frac{z-8}{-1}$

42. Dadas las rectas:

$$r \equiv x = y = z \quad ; \quad s \equiv \begin{cases} x = 2 \\ y = 1 \end{cases} \quad ; \quad t \equiv \begin{cases} x + y = 0 \\ x - z = 0 \end{cases}$$

Hallar las ecuaciones de la recta que se apoya en r y s y es paralela a t .

Solución: $\frac{x-2}{1} = \frac{y-1}{-1} = \frac{z-2}{1}$

43. Hallar el valor de k para que los planos:

$$\begin{aligned} \pi_1 &\equiv x + y + z = 2 \\ \pi_2 &\equiv 2x + 3y + z = 3 \\ \pi_3 &\equiv kx + 10y + 4z = 11 \end{aligned}$$

tengan una recta común y hallar las ecuaciones paramétricas de dicha recta.

Solución:

$$k = 7 \quad ; \quad \begin{cases} x = 3 - 2t \\ y = -1 + t \\ z = t \end{cases}$$

44. Estudiar la posición relativa de los planos:

$$\begin{aligned}\pi_1 &\equiv mx + y - z = 1 \\ \pi_2 &\equiv 2x - y + mz = 3m \\ \pi_3 &\equiv x - 2y + (m + 1)z = 3m - 1\end{aligned}$$

según los distintos valores de m .

Solución: Si $m = 1$ los tres planos pasan por una recta. Si $m \neq 1$ los tres planos se cortan en un punto.

45. Determinar a y b para que los planos:

$$\begin{aligned}\pi_1 &\equiv 2x - y + z = 3 \\ \pi_2 &\equiv x - y + z = 2 \\ \pi_3 &\equiv 3x - y - az = b\end{aligned}$$

se corten en una recta r . Hallar la ecuación del plano que contiene a la recta r y pasa por el punto $(2, 1, 3)$.

Solución: Si $a = -1, b = 4, x + y - z = 0$

46. Determinar si las rectas:

$$r \equiv \begin{cases} x + y - 2z + 1 = 0 \\ 2x - y + z - 1 = 0 \end{cases} ; \quad s \equiv \begin{cases} 2x + y - z - 1 = 0 \\ x - y - 2z + 1 = 0 \end{cases}$$

se cortan o se cruzan.

Solución: Se cruzan.

47. Calcular, describiendo el procedimiento empleado, las ecuaciones de una recta que pasa por el origen de coordenadas y es paralela a la recta en que se cortan los planos

$$\Pi_1 \equiv x - y + 2z + 1 = 0 \quad ; \quad \Pi_2 \equiv x + 3y - z + 2 = 0$$

Solución: $\frac{x}{5} = \frac{y}{3} = \frac{z}{4}$.

48. Sean las rectas:

$$r \equiv \frac{x-1}{3} = \frac{y}{2} = \frac{z-m}{-1} \quad ; \quad s \equiv \frac{x}{2} = \frac{y}{m} = \frac{z+1}{2}$$

(1) ¿Para qué valor de m están r y s contenidas en un mismo plano?.

(2) En el caso en que $m = 1$, hallar la ecuación de la recta que pasa por el punto $A(1, 1, 2)$ y corta a r y a s .

Solución: $m = 0$; $\frac{x-1}{-1} = \frac{y-1}{0} = \frac{z-2}{1}$

49. Hallar las ecuaciones de la recta que pasa por el punto $P(1, 0, 2)$ y corta a las rectas r y s dadas por

$$r \equiv \frac{x}{3} = \frac{y+2}{1} = \frac{z}{1} \quad ; \quad s \equiv \begin{cases} 2x + 6y + 2 = 0 \\ y + 2z = 0 \end{cases}$$

Solución: $\frac{x-1}{3} = \frac{y}{-2} = \frac{z-2}{-2}$

50. **Selectividad Junio 2001.** Calcular a sabiendo que los planos

$$ax + y - 7z = -5 \quad y \quad x + 2y + a^2z = 8$$

se cortan en una recta que pasa por el punto $A(0, 2, 1)$ pero que no pasa por el punto $B(6, -3, 2)$.

Solución: $a = -2$.

51. **SL.** Consideremos los tres planos siguientes:

$$\pi_1 \equiv x + y + z = 1, \quad \pi_2 \equiv x - y + z = 2, \quad \pi_3 \equiv 3x + y + 3z = 5$$

¿Se cortan π_1 y π_2 ? ¿Hay algún punto que pertenezca a los tres planos?.

Solución: Sí, No.

52. **Selectividad Junio 2002.** Calcular la ecuación de una recta que pasa por el punto de intersección del plano $\pi \equiv x + y - z + 6 = 0$ con la recta $s \equiv \frac{x}{3} = y - 2 = z + 1$ y es paralela a la recta

$$r \equiv \begin{cases} 3x + y - 4 = 0 \\ 4x - 3y + z - 1 = 0 \end{cases}$$

Solución: $\frac{x+9}{1} = \frac{y+1}{-3} = \frac{z+4}{-13}$

53. **Selectividad septiembre 2009.** Consideremos el punto $P(1, 0, 0)$ y las rectas r y s definidas como

$$r \equiv x - 3 = \frac{y}{2} = \frac{z+1}{-2}, \quad s \equiv (x, y, z) = (1, 1, 0) + \lambda(-1, 2, 0)$$

- Estudiar la posición relativa de r y s .
- Hallar la ecuación del plano π que pasando por P es paralelo a r y a s .

Solución: se cruzan; $\pi \equiv 2x + y + 2z - 2 = 0$.

Capítulo 12

Geometría Euclídea

12.1. Resumen teórico

12.1.1. Producto escalar de dos vectores

Sean $\vec{a} = (a_1, a_2, a_3)$, $\vec{b} = (b_1, b_2, b_3)$ dos vectores. Entonces, el producto escalar de ellos, el cual se escribe como $\vec{a} \cdot \vec{b}$, es el número

$$\vec{a} \cdot \vec{b} = a_1 b_1 + a_2 b_2 + a_3 b_3 \implies \vec{a} \cdot \vec{b} \in \mathbb{R}$$

La norma, módulo o longitud de un vector $\vec{a} = (a_1, a_2, a_3)$, escrita como $\|\vec{a}\|$, es el número

$$\|\vec{a}\| = +\sqrt{a_1^2 + a_2^2 + a_3^2} \implies \|\vec{a}\|^2 = \vec{a} \cdot \vec{a}$$

Se tienen las siguientes propiedades:

[1] $\vec{a} \cdot \vec{b} = \|\vec{a}\| \|\vec{b}\| \cos \varphi$, siendo $\varphi = \widehat{(\vec{a}, \vec{b})}$ el ángulo que forma el vector \vec{a} con el vector \vec{b} . De aquí se deduce la desigualdad de Schwarz

$$|\vec{a} \cdot \vec{b}| \leq \|\vec{a}\| \|\vec{b}\|$$

dándose la igualdad si y solo si los vectores son linealmente dependientes.

[2] **El producto escalar es conmutativo.** En otras palabras, $\vec{a} \cdot \vec{b} = \vec{b} \cdot \vec{a}$.

[3] **El producto escalar es distributivo respecto de la suma.** En otras palabras,

$$\vec{a} \cdot (\vec{b} + \vec{c}) = \vec{a} \cdot \vec{b} + \vec{a} \cdot \vec{c}$$

[4] Si λ es cualquier número real, tenemos

$$(\lambda \vec{a}) \cdot \vec{b} = \lambda(\vec{a} \cdot \vec{b}) = \vec{a} \cdot (\lambda \vec{b})$$

[5] $\vec{a} \cdot \vec{0} = 0$, para cualquier vector \vec{a} .

[6] Dos vectores son perpendiculares (u ortogonales) cuando forman un ángulo de $90^\circ = \frac{\pi}{2}$ rad.

Si dos vectores \vec{a} y \vec{b} son perpendiculares lo escribiremos como $\vec{a} \perp \vec{b}$. Tenemos el siguiente criterio

$$\vec{a} \perp \vec{b} \iff \vec{a} \cdot \vec{b} = 0$$

[7] La norma cumple las siguientes propiedades:

$$\|\lambda \vec{a}\| = |\lambda| \|\vec{a}\|, \quad \|\vec{a} + \vec{b}\| \leq \|\vec{a}\| + \|\vec{b}\|$$

[8] La distancia entre dos puntos A y B , escrita como $d(A, B)$ es

$$d(A, B) = \|\overrightarrow{AB}\|$$

La función distancia d cumple las siguientes propiedades:

a) $d(A, A) = 0$.

b) **Simetría.** $d(A, B) = d(B, A)$.

c) **Desigualdad triangular.**

$$d(A, B) \leq d(A, C) + d(C, B)$$

12.1.2. Propiedad fundamental

Dado un plano $\pi \equiv ax + by + cz + d = 0$, el vector $\vec{n} = (a, b, c)$ formado por los coeficientes de la x, y, z es tal que $\vec{n} \perp \pi$, es decir, el vector \vec{n} es normal al plano, luego un plano queda determinado por un punto y el vector normal.

12.1.3. Ángulo de dos rectas r y s

Por definición, es **el ángulo agudo que forman sus vectores directores**. En otras palabras, si \vec{v} y \vec{w} son los vectores directores de la primera y segunda rectas, entonces

$$\varphi = \widehat{(r, s)} \implies \cos \varphi = \frac{|\vec{v} \cdot \vec{w}|}{\|\vec{v}\| \|\vec{w}\|}$$

12.1.4. Ángulo de dos planos

Dados dos planos

$$\begin{aligned}\pi_1 &\equiv a_1x + b_1y + c_1z + d_1 = 0, & \vec{n}_1 &= (a_1, b_1, c_1) \\ \pi_2 &\equiv a_2x + b_2y + c_2z + d_2 = 0, & \vec{n}_2 &= (a_2, b_2, c_2)\end{aligned}$$

Entonces

$$\varphi = \widehat{(\pi_1, \pi_2)} \implies \cos \varphi = \frac{|\vec{n}_1 \cdot \vec{n}_2|}{\|\vec{n}_1\| \|\vec{n}_2\|}$$

12.1.5. Ángulo de recta y plano

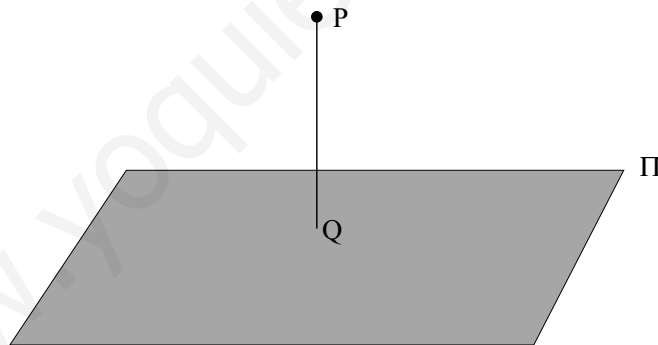
Sea \vec{v} el vector director de la recta r y \vec{n} el vector normal del plano π , entonces:

$$\varphi = \widehat{(r, \pi)} \implies \sin \varphi = \frac{|\vec{v} \cdot \vec{n}|}{\|\vec{v}\| \|\vec{n}\|}$$

¡¡Ojo con la expresión anterior!!, ya que es el seno y no el coseno.

12.1.6. Distancia de un punto P a un plano π

Por definición es la distancia del punto P al punto Q , siendo Q el punto de corte de la perpendicular a π que pasa por P con π (ver siguiente figura)



En estas condiciones, si $P(x_1, y_1, z_1)$ y $\pi \equiv ax + by + cz + d = 0$, entonces:

$$d(P, \pi) = \frac{|ax_1 + by_1 + cz_1 + d|}{\sqrt{a^2 + b^2 + c^2}}$$

12.1.7. Producto exterior de dos vectores

Dados dos vectores $\vec{v} = (v_1, v_2, v_3)$, $\vec{w} = (w_1, w_2, w_3)$, el producto exterior (o vectorial) de estos dos vectores es el siguiente vector, escrito en forma simbólica:

$$\vec{v} \wedge \vec{w} = \begin{vmatrix} \bullet & \bullet & \bullet \\ v_1 & v_2 & v_3 \\ w_1 & w_2 & w_3 \end{vmatrix}$$

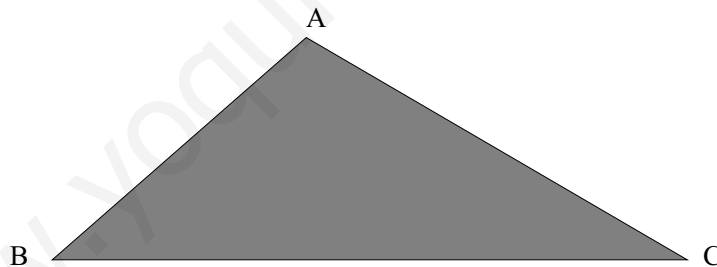
y es un **vector perpendicular tanto a \vec{v} como a \vec{w}** . Se cumplen las siguientes propiedades:

1. $\vec{v} \wedge \vec{w} = -\vec{w} \wedge \vec{v}$.
2. Si \vec{v} y \vec{w} son dependientes, entonces $\vec{v} \wedge \vec{w} = \vec{0}$.
3. $\|\vec{v} \wedge \vec{w}\| = \|\vec{v}\| \|\vec{w}\| \sin \varphi$, siendo $\varphi = \widehat{(\vec{v}, \vec{w})}$.
4. La norma del producto exterior $\|\vec{v} \wedge \vec{w}\|$ es el área del paralelogramo formado con estos dos vectores.

12.1.8. Área de un triángulo

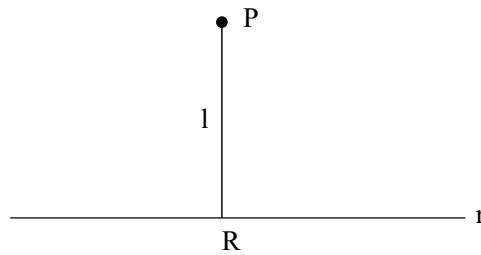
Dado un triángulo con vértices en los puntos A, B, C , el área S de dicho triángulo es

$$S = \frac{1}{2} \|\vec{AB} \wedge \vec{AC}\|$$



12.1.9. Distancia de un punto a una recta

Dado un punto P y una recta r , la distancia del punto P a la recta r es la distancia que se observa en la figura, en concreto, la distancia de P al punto R , el cual es el corte del plano π perpendicular a r que pasa por P con la misma r (ver figura):



Para el cálculo es necesario averiguar un punto cualquiera Q de la recta r , y un vector director \vec{v} (de r), y entonces

$$l = d(P, r) = \frac{\|\overrightarrow{PQ} \wedge \vec{v}\|}{\|\vec{v}\|}$$

12.1.10. Volumen de un tetraedro

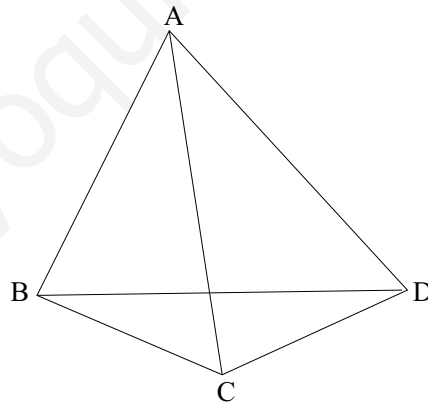
Sea un tetraedro dado por cuatro puntos no coplanarios:

$$A(a_1, a_2, a_3), B(b_1, b_2, b_3), C(c_1, c_2, c_3), D(d_1, d_2, d_3)$$

el volumen es:

$$V = \frac{1}{6} \begin{vmatrix} 1 & 1 & 1 & 1 \\ a_1 & b_1 & c_1 & d_1 \\ a_2 & b_2 & c_2 & d_2 \\ a_3 & b_3 & c_3 & d_3 \end{vmatrix}$$

como es natural, en valor absoluto.



12.1.11. Cálculo de la perpendicular común a dos rectas

Dadas dos rectas $r \equiv (P, \vec{v})$, $s \equiv (Q, \vec{w})$, la perpendicular común tiene como vector director $\vec{d} = \vec{v} \wedge \vec{w}$, y toca a las otras dos, luego el problema queda reducido al caso segundo de la sección 11.1.7.

12.1.12. Distancia entre dos rectas que se cruzan

Dadas dos rectas $r \equiv (P, \vec{v})$, $s \equiv (Q, \vec{w})$ que se cruzan, la distancia entre ambas es:

$$d(r, s) = \frac{|\vec{v}, \vec{w}, \overrightarrow{PQ}|}{\|\vec{v} \wedge \vec{w}\|}$$

www.yoquieroaprobar.es

12.2. Problemas

1. Calcular los vectores de longitud 1 ortogonales a los vectores $(2, -2, 3), (3, -3, 2)$.

Solución: $\left[\left(\frac{1}{\sqrt{2}}, \frac{1}{\sqrt{2}}, 0 \right), \left(-\frac{1}{\sqrt{2}}, -\frac{1}{\sqrt{2}}, 0 \right) \right]$.

2. Calcular el ángulo que forman las rectas:

$$\begin{cases} \frac{x-1}{3} = \frac{y+1}{4} = \frac{z+1}{5} \\ \frac{x+1}{-3} = \frac{y+2}{-4} = \frac{z-1}{5} \end{cases}$$

Solución: $\frac{\pi}{2}$ rad.

3. Calcular el ángulo que forman las rectas:

$$r \equiv x = y = z \quad ; \quad s \equiv \begin{cases} x + z = 1 \\ y = 0 \end{cases}$$

Solución: $\frac{\pi}{2}$ rad.

4. Calcular el área del triángulo de vértices $A(0, 0, 0), C(1, 1, 0)$, y el tercer vértice es el punto de intersección de la recta:

$$\frac{x+1}{2} = \frac{y+1}{3} = \frac{z+2}{1}$$

con el plano XY .

Solución: 1.

5. Hallar la distancia del punto $A(1, 2, 3)$ a la recta r de ecuación $x = 0, z = 0$ como asimismo la ecuación del plano que pasa por A y es perpendicular a r .

Solución: $\sqrt{10}$; $y - 2 = 0$.

6. Dado el triángulo de vértices $A(1, 1, 1), B(0, 3, 5), C(4, 0, 2)$, hallar su área y las longitudes de sus tres alturas.

Solución: $\frac{\sqrt{230}}{2}, \frac{\sqrt{230}}{\sqrt{34}}, \frac{\sqrt{230}}{11}, \frac{\sqrt{230}}{21}$.

7. Hallar el área del triángulo de vértices $(a, 0, 0), (0, b, 0), (0, 0, c)$.

Solución: $\frac{1}{2}\sqrt{b^2c^2 + a^2c^2 + a^2b^2}$

8. Hallar la distancia del punto $(3, 4, 5)$ a la recta:

$$\frac{x+1}{1} = \frac{y+2}{2} = \frac{z+5}{-1}$$

Solución: $\sqrt{146}$

9. Hallar el volumen del tetraedro de vértices $(0, 0, 0)$, $(0, 0, 1)$, $(0, 1, 0)$, $(1, 0, 0)$.

Solución: $\frac{1}{6}$

10. Hallar el volumen del tetraedro que forman los planos:

$$\begin{aligned}\pi_1 &\equiv y = 0 \\ \pi_2 &\equiv z = 0 \\ \pi_3 &\equiv x - y = 0 \\ \pi_4 &\equiv 3x + 2y + z - 15 = 0\end{aligned}$$

Solución: $\frac{75}{2}$

11. Se consideran las rectas:

$$r \equiv \frac{x-1}{1} = \frac{y-2}{1} = \frac{z-1}{2} \quad ; \quad s \equiv \frac{x-3}{-2} = \frac{y-3}{-1} = \frac{z+1}{2}$$

- Comprobar que se cortan y hallar las coordenadas del punto P de intersección.
- Determinar la ecuación de la recta que pasa por P y es perpendicular a r y s .

Solución: $P(1, 2, 1)$; $\frac{x-1}{4} = \frac{y-2}{-6} = \frac{z-1}{1}$

12. Hallar la ecuación de la recta que pasa por el punto $(1, 2, 1)$ y es perpendicular al plano que pasa por dicho punto y contiene a la recta:

$$\frac{x-1}{2} = \frac{y}{3} = \frac{z+1}{2}$$

Solución: $\frac{x-1}{1} = \frac{y-2}{-2} = \frac{z-1}{2}$

13. Hallar las ecuaciones de la recta que pasa por el punto $(1, 2, -1)$, es paralela al plano $2x + y - z = 3$ y es perpendicular a la recta:

$$\begin{cases} x = 3 - t \\ y = 2 + t \\ z = 1 + 3t \end{cases}$$

Solución: $\frac{x-1}{4} = \frac{y-2}{-5} = \frac{z+1}{3}$

14. Hallar las ecuaciones de la recta que pasa por el punto $(-1, 1, 0)$ y cuya dirección es perpendicular a la de las rectas:

$$r \equiv \begin{cases} y = 0 \\ x = z \end{cases} \quad ; \quad s \equiv \begin{cases} x + 3y = 2 \\ y - z = 1 \end{cases}$$

Solución: $\frac{x+1}{-1} = \frac{y-1}{-4} = z$

15. Hallar la recta perpendicular e incidente al eje OZ por el punto $(1, 2, 3)$.

Solución: $\frac{x-1}{1} = \frac{y-2}{2} = \frac{z-3}{0}$

16. Hallar la ecuación de la recta que pasa por el punto $(0, 0, 0)$ y es perpendicular al plano $2x + 3y + z - 7 = 0$.

Solución: $\frac{x}{2} = \frac{y}{3} = \frac{z}{1}$

17. Escribir las ecuaciones de la perpendicular común a las rectas:

$$x = y = z \quad ; \quad x = y = 3z - 1$$

Solución: $\frac{x-1/2}{1} = \frac{y-1/2}{-1} = \frac{z-1/2}{0}$

18. Hallar la ecuación de la recta perpendicular a las rectas:

$$r \equiv \begin{cases} x = 1 \\ y = 1 \\ z = t - 2 \end{cases} \quad ; \quad s \equiv \begin{cases} x = t \\ y = t - 1 \\ z = -1 \end{cases}$$

y que pase por ambas.

Solución: $\frac{x-1}{-1} = \frac{y-1}{1} = \frac{z+1}{0}$

19. Calcular la ecuación del plano (o planos) que contienen al eje OX y distan 6 unidades del punto $(0, 10, 0)$.

Solución: Dos planos: $3y + 4z = 0, 3y - 4z = 0$.

20. Hallar la ecuación del plano perpendicular a la recta:

$$\frac{x-2}{2} = \frac{y-1}{3} = \frac{z-4}{-1}$$

y que corta al eje X en el punto de abscisa 3.

Solución: $2x + 3y - z - 6 = 0$.

21. Hallar la ecuación del plano que contiene a la recta:

$$\frac{x-1}{2} = \frac{1-y}{3} = \frac{z+1}{-1}$$

y perpendicular al plano $x - y + z = 0$.

Solución: $4x + 3y - z - 8 = 0$.

22. Sea el punto $A(1, 1, 3)$ y la recta:

$$r \equiv \begin{cases} x = t \\ y = 2 + t \\ z = 2t \end{cases}$$

Hallar:

- Ecuación del plano perpendicular a r que pasa por A .
- La intersección de este plano con r .
- La distancia de A a r .

Solución: $x + y + 2z - 8 = 0$; $(1, 3, 2)$; $\sqrt{5}$.

23. Determinar un punto de la recta:

$$\frac{x-1}{2} = \frac{y+1}{3} = \frac{z+2}{2}$$

que equidiste de los planos $3x + 4y - 1 = 0$, $4x - 3z - 1 = 0$. ¿Es única la solución?.

Solución: Dos puntos: $(\frac{19}{8}, \frac{17}{16}, -\frac{5}{8})$, $(\frac{3}{10}, -\frac{41}{20}, -\frac{27}{10})$

24. Dada la recta:

$$r \equiv \begin{cases} x = t \\ y = 1 + t \\ z = 2 - t \end{cases}$$

y los puntos $A(2, 1, 0)$, $B(1, 1, 2)$:

- ¿Son paralelas las rectas AB y r ?
- Determinar un punto C de r tal que \vec{CA} y \vec{CB} sean perpendiculares.

Solución: No; Hay dos puntos: $(1, 2, 1)$ y $(\frac{2}{3}, \frac{5}{3}, \frac{4}{3})$.

25. Dada la recta:

$$r \equiv \frac{x+1}{1} = \frac{y-2}{1} = \frac{z-3}{4}$$

y el punto $P(1, 2, 1)$, calcular:

- Las ecuaciones de la recta s que pasa por P y corta perpendicularmente a r .
- El punto de intersección de r y s .
- Las coordenadas del punto simétrico de P respecto de r .

Solución:

- $\frac{x-1}{-7} = \frac{y-2}{-1} = \frac{z-1}{2}$.
- $(-\frac{4}{3}, \frac{5}{3}, \frac{5}{3})$.
- $(-\frac{11}{3}, \frac{4}{3}, \frac{7}{3})$.

26. Dada la recta r de ecuación:

$$r \equiv \frac{x-1}{3} = \frac{y}{2} = \frac{z}{1}$$

y el punto $P(1, 2, -2)$. Hallar las coordenadas del punto simétrico de P respecto de r .

Solución: $(\frac{13}{7}, -\frac{10}{7}, \frac{16}{7})$.

27. Para cada número real λ se considera el plano:

$$\pi_\lambda = (1 + 2\lambda)x + (1 - \lambda)y + (1 + 3\lambda)z + 2\lambda - 1 = 0$$

Demostrar que todos los planos π_λ pasan por una recta r . Encontrar dicha recta así como la distancia de la recta r anterior a la recta:

$$r' \equiv \frac{x-1}{1} = \frac{y+1}{2} = \frac{z-2}{3}$$

Solución:

$$r \equiv \begin{cases} x = -3 - 4t \\ y = 2 + t \\ z = 2 + 3t \end{cases} ; \quad d(r, r') = \frac{19\sqrt{35}}{35}$$

28. El espacio euclídeo tridimensional E está referido a una base $\{\vec{e}_1, \vec{e}_2, \vec{e}_3\}$ formada por vectores unitarios que forman entre sí ángulos de $\frac{\pi}{3}$. Calcular el coseno del ángulo que forman los vectores $\vec{u} = \vec{e}_1 + \vec{e}_2$ y $\vec{v} = \vec{e}_1 - \vec{e}_2 + \vec{e}_3$.

Solución: $\frac{\sqrt{6}}{6}$.

29. Calcular los valores de x e y para que el vector $(x, y, 1)$ sea ortogonal a los vectores $(3, 2, 0)$ y $(2, 1, -1)$.

Solución: $x = 2$ y $y = -3$.

30. Hallar la ecuación del plano que es perpendicular al vector $\vec{v} = (2, 1, -4)$ y pasa por el punto $P(-3, 2, 4)$.

Solución: $2x + y - 4z + 20 = 0$.

31. Dado el tetraedro de vértices:

$$A(4, 0, 0) \quad ; \quad B(0, 3, 0) \quad ; \quad C(0, 0, 2) \quad ; \quad D(3, 2, 4)$$

Hallar:

- (1) La longitud de la arista AB .
- (2) Ecuación de la cara ABC .
- (3) Ecuación de la arista AD .
- (4) Ecuación del plano que pasa por la arista AB y el punto medio de la arista opuesta.
- (5) Ángulo que forman las aristas AC y AB .
- (6) Ecuación del plano que pasa por la arista AB y es perpendicular a la cara ABC .
- (7) Ecuación de la recta que pasa por el vértice D y es perpendicular a la cara ABC .
- (8) Longitud de la altura relativa al vértice D .
- (9) Ángulo de las caras ABC y ACD .
- (10) Ángulo de la arista AD y la cara ABC .
- (11) Volumen del tetraedro.

Solución:

- (1) 5
- (2) $3x + 4y + 6z - 12 = 0$
- (3) $\frac{x-4}{1} = \frac{y}{-2} = \frac{z}{-4}$
- (4) $18x + 24y + 7z - 72 = 0$
- (5) $\arccos\left(\frac{8\sqrt{5}}{25}\right)$
- (6) $18x + 24y - 25z - 72 = 0$
- (7) $\frac{x-3}{3} = \frac{y-2}{4} = \frac{z-4}{6}$
- (8) $\frac{29}{\sqrt{61}}$
- (9) $\arccos\left(\frac{2}{\sqrt{61}\sqrt{69}}\right)$
- (10) $\arcsen\left(\frac{29}{\sqrt{61}\sqrt{21}}\right)$
- (11) $\frac{29}{3}$

32. Hallar sobre la recta:

$$\begin{cases} 3x - 2y - 11 = 0 \\ 2x - y - z - 5 = 0 \end{cases}$$

un punto P equidistante de los puntos $P_1(0, 1, 1)$ y $P_2(1, 2, 1)$.

Solución: $P(3, -1, 2)$.

33. Dadas las rectas:

$$\frac{x-1}{3} = \frac{y-2}{2} = \frac{z+1}{3} \quad ; \quad \frac{x+1}{2} = \frac{y-2}{1} = \frac{z+3}{2}$$

Demostrar que se cortan y hallar el punto de intersección, el ángulo que forman y la ecuación del plano que determinan.

Solución: $P(7, 6, 5)$; $\alpha = \arccos\left(\frac{14}{3\sqrt{22}}\right)$; $x - z - 2 = 0$.

34. Hallar las coordenadas del punto P de la recta:

$$\frac{x+3}{2} = \frac{y+5}{3} = \frac{z+4}{3}$$

que equidista del punto $Q(3, 2, 1)$ y del origen de coordenadas.

Solución: $P(1, 1, 2)$.

35. Hallar el ángulo que forma la recta:

$$r \equiv \begin{cases} 3x - y - z + 1 = 0 \\ x + 2y - 3z = 0 \end{cases}$$

y el plano $\pi \equiv 2x - y + 4z - 2 = 0$.

Solución: $\alpha = \arcsen\left(\frac{10}{\sqrt{322}}\right)$

36. Hallar la ecuación del plano que pasa por los puntos $P_1(2, 1, -3)$ y $P_2(4, 2, 1)$ y es perpendicular al plano de ecuación:

$$2x - y - z + 3 = 0$$

Solución: $3x + 10y - 4z - 28 = 0$.

37. Se tiene un paralelogramo uno de cuyos vértices es el punto $(3, 2)$ y dos de cuyos lados se encuentran contenidos, respectivamente, en las rectas r y s de ecuaciones

$$r \equiv 2x + 3y - 7 = 0, \quad s \equiv x - 3y + 4 = 0$$

Hallar las ecuaciones de las rectas sobre las que se encuentran los otros dos lados.

Solución: $2x + 3y - 12 = 0$, $x - 3y + 3 = 0$.

38. Se consideran los puntos $A(2, -1, -2)$ y $B(-1, -1, 2)$.

- (1) Determinar los puntos del segmento AB que lo dividen en tres segmentos iguales.
- (2) Encontrar un punto C sobre la recta r de ecuaciones

$$r \equiv \frac{x-1}{1} = \frac{y-1}{-1} = \frac{z-1}{2}$$

de forma que el triángulo ABC sea rectángulo en C .

Solución: $A_1(1, -1, -\frac{2}{3})$, $A_2(0, -1, \frac{2}{3})$. Dos soluciones para C que son $C_1(\frac{4}{3}, \frac{2}{3}, \frac{5}{3})$, $C_2(\frac{1}{2}, \frac{3}{2}, 0)$.

39. Un punto M se mueve en el espacio tridimensional de manera que en un instante de tiempo t se encuentra en el punto $(1+t, 3+t, 6+2t)$.

- (1) ¿Es esta trayectoria una línea recta?. Si es así, escribir sus ecuaciones de dos formas distintas.
- (2) Hallar el instante de tiempo en el que el punto está en el plano dado por la ecuación $x - 2y + z - 7 = 0$.
- (3) Hallar la ecuación de la recta que corta perpendicularmente a la trayectoria de M y pasa por el punto $(1, 1, 0)$.

Solución: Sí, $r \equiv \begin{cases} x = 1 + t \\ y = 3 + t \\ z = 6 + 2t \end{cases}$, $r \equiv \frac{x-1}{1} = \frac{y-3}{1} = \frac{z-6}{2}$; a los $t = 6$ seg.; $\frac{x-1}{7} = \frac{y-1}{1} = \frac{z}{-4}$.

40. Se considera el punto $P(-1, 2, 1)$.

- (1) Determinar un punto Q del plano $\pi \equiv -3x + y + z + 5 = 0$ de forma que el vector PQ sea perpendicular al plano π .
- (2) Determinar un punto M de la recta $r \equiv \frac{x-2}{-1} = \frac{y+1}{1} = \frac{z-10}{-1}$ de forma que el vector MP sea paralelo al plano π .
- (3) Calcular el área del triángulo MPQ .

Solución: $Q(2, 1, 0)$, $M(1, 0, 9)$, Superficie = $3\sqrt{22}$.

41. Definir el producto escalar de vectores de \mathbb{R}^3 y enunciar tres de sus propiedades. Encontrar un vector \vec{w} cuya primera componente sea 2 y que sea perpendicular a los vectores $\vec{u} = (1, -1, 3)$ y $\vec{v} = (0, 1, -2)$.

Solución: $\vec{w} = (2, -4, -2)$.

42. ¿Cuál es el punto P de la recta r dada por

$$r \equiv \begin{cases} x + y + 2z = 1 \\ x - 2y - 4z = 1 \end{cases}$$

que está más cerca del punto $A(2, 3, -1)$?. Hallar el área del triángulo cuyos vértices son A , P y $B(1, 0, 0)$.

Solución: $P\left(1, \frac{14}{5}, -\frac{7}{5}\right)$, Superficie = $\frac{7\sqrt{6}}{10}$.

43. Sea π el plano que pasa por los puntos $(1, 0, 0)$, $(0, 1, 1)$ y $(1, 1, 1)$. Sea A el punto $(1, 2, 3)$ y sea B el simétrico de A respecto del plano π . Hallar la recta que pasa por A y por el punto medio del segmento AB . Calcular la recta paralela a la anterior que pasa por el punto $(2, 2, 2)$.

Solución: $\frac{x-1}{0} = \frac{y-2}{1} = \frac{z-3}{-1}$, $\frac{x-2}{0} = \frac{y-2}{1} = \frac{z-2}{-1}$.

44. Sea A la matriz dada por

$$A = \begin{pmatrix} 1 & 3 & -7 \\ 2 & a & b \\ c & -a & d \end{pmatrix}$$

Hallar a, b, c y d sabiendo que:

- (I) El vector cuyas coordenadas son las que aparecen en la primera columna de A es ortogonal al vector $(1, -1, 1)$.
- (II) El producto vectorial del vector cuyas coordenadas son las de la tercera columna de A por el vector $(1, 0, 1)$ es el vector $(-2, 3, 2)$.
- (III) El rango de la matriz A es 2.

Solución: $a = -\frac{6}{5}$, $b = -2$, $c = 1$, $d = -4$.

45. Un objeto se mueve en el espacio siguiendo una línea recta cuya dirección viene dada por el vector $\vec{v} = (1, 2, -1)$. En su movimiento, dicho objeto pasa por el punto $A(2, 1, 2)$.

- (1) Calcular los puntos de corte de la trayectoria del objeto con los planos coordenados.
- (2) Hallar la ecuación del plano que pasa por el origen de coordenadas y es perpendicular a dicha trayectoria.
- (3) ¿Cuál es el ángulo que forma la trayectoria del objeto con el plano OXY ?

Solución: $(0, -3, 4)$, $(\frac{3}{2}, 0, \frac{5}{2})$, $(4, 5, 0)$; $x + 2y - z = 0$; $\phi = \arcsen\left(\frac{\sqrt{6}}{6}\right)$.

46. Se considera el plano π y la recta r dados por

$$\pi \equiv ax + 2y - 4z + b = 0, \quad r \equiv \frac{x-3}{4} = \frac{y-1}{-4} = \frac{z+3}{1}$$

- (1) Hallar los valores de a y b para los que r está contenida en π .
- (2) ¿Existen algún valor de a y algún valor de b para los que la recta dada r es perpendicular al plano π ?

Solución: $a = 3, b = -23$; Ninguno.

47. Un paralelogramo cuyo centro es $M\left(\frac{3}{2}, 3, 4\right)$ tiene por vértices los puntos $A(1, 2, 3)$ y $B(3, 2, 5)$.

- (1) Hallar las coordenadas de los otros dos vértices.
- (2) Hallar la ecuación de la recta r que pasa por M y es perpendicular al plano que contiene al paralelogramo.
- (3) Calcular el área del paralelogramo.

Solución: $C(2, 4, 5), D(0, 4, 3)$; $r \equiv \frac{x-\frac{3}{2}}{2} = \frac{y-3}{1} = \frac{z-4}{-2}$; Superficie = 6.

48. Hallar el punto Q simétrico del punto $P(2, 0, 1)$ respecto de la recta r que pasa por el punto $A(0, 3, 2)$ y es paralela a la recta s de ecuaciones

$$s \equiv \begin{cases} x + 2y = 0 \\ z = 0 \end{cases}$$

Solución: $Q\left(\frac{18}{5}, \frac{16}{5}, 3\right)$.

49. Sea π el plano de ecuación $\pi \equiv 3x - 2y - 6z = 1$ y sea r la recta dada en forma vectorial por

$$r \equiv (x, y, z) = (1, 0, 1) + \lambda(2, -1, 1), \quad \lambda \in \mathbb{R}$$

- (1) ¿Cómo se define la relación de paralelismo entre una recta y un plano?
- (2) En el caso concreto de la recta r y el plano π , comprobar si son paralelos.
- (3) ¿Cómo se define la relación de perpendicularidad entre una recta y un plano?
- (4) En el caso concreto de la recta r y el plano π , comprobar si son perpendiculares.

Solución: No son paralelos ni perpendiculares.

50. **Selectividad Junio 2000.** Los puntos $A(3, 3, 5)$ y $B(3, 3, 2)$ son vértices consecutivos de un rectángulo $ABCD$. El vértice C consecutivo de B está en la recta de ecuaciones $x = \frac{y-6}{-1} = \frac{z+1}{2}$. Determinar los vértices C y D .

Solución: $C\left(\frac{3}{2}, \frac{9}{2}, 2\right)$, $D\left(\frac{3}{2}, \frac{9}{2}, 5\right)$.

51. **Selectividad Septiembre 2000.** Calcular el punto de la recta de ecuaciones

$$x - 1 = \frac{y + 2}{2} = \frac{z + 1}{-3}$$

más cercano al punto $A(1, -1, 1)$.

Solución: $P\left(\frac{5}{7}, -\frac{18}{7}, -\frac{1}{7}\right)$.

52. **Selectividad Junio 2001.** Hallar la ecuación del plano que pasa por el punto $A(1, 0, -1)$, es perpendicular al plano $x - y + 2z + 1 = 0$ y es paralelo a la recta $\begin{cases} x - 2y = 0 \\ z = 0 \end{cases}$.

Solución: $2x - 4y - 3z - 5 = 0$.

53. **SL.** Hallar la distancia entre el origen de coordenadas y la recta intersección de los planos de ecuaciones respectivas $x + y + 2z = 4$ y $2x - y + z = 2$.

Solución: $\frac{2\sqrt{6}}{3}$

54. **SL.** Calcular las coordenadas del punto simétrico del $(1, -3, 7)$ respecto de la recta dada por las ecuaciones

$$x - 1 = y + 3 = \frac{z - 4}{2}$$

Solución: $P(3, -1, 5)$

55. **SL.** Hallar las ecuaciones de la recta que se apoya perpendicularmente en las rectas r y s definidas respectivamente por

$$x - 1 = y - 2 = \frac{z - 1}{-2}, \quad \frac{x - 4}{-1} = \frac{y + 1}{3} = \frac{z}{2}$$

Solución: $\begin{cases} x = -1 + 2t \\ y = 2 \\ z = t \end{cases}$

56. **SL.** Calcular el volumen de un cubo sabiendo que dos de sus caras están, respectivamente, en los planos $2x - 2y + z - 1 = 0$ y $2x - 2y + z - 5 = 0$.

Solución: $\frac{64}{27}$

57. **SL.** Hallar las coordenadas del punto simétrico del $(1, 2, -2)$ respecto del plano de ecuación

$$3x + 2y + z - 7 = 0$$

Solución: $P\left(\frac{13}{7}, \frac{18}{7}, -\frac{12}{7}\right)$

58. **SL.** Hallar la ecuación del plano cuyo punto más próximo al origen es $(-1, 2, 1)$

Solución: $x - 2y - z + 6 = 0$

59. **SL.** Consideremos los puntos

$$A(1, 0, 3), \quad B(3, -1, 0), \quad C(0, -1, 2), \quad D(a, b, -1)$$

Hallar a y b sabiendo que la recta que pasa por A y B corta perpendicularmente a la recta que pasa por C y D .

Solución: $a = -\frac{27}{4}$, $b = -\frac{11}{2}$

60. **SL.** Consideremos los planos

$$\pi_1 \equiv 2x + 5 = 0 \quad \text{y} \quad \pi_2 \equiv 3x + 3y - 4 = 0$$

¿Qué ángulo determinan ambos planos?. Hallar el plano que pasa por el origen de coordenadas y es perpendicular a los dos planos dados.

Solución: $\frac{\pi}{4}$ rad., $z = 0$

61. **SL.** Sea r la recta de ecuaciones $r \equiv \begin{cases} 3x + 2y = 0 \\ 3x + z = 0 \end{cases}$

a) Hallar los puntos de r cuya distancia al origen es de 7 unidades.

b) Calcular la ecuación del plano perpendicular a r que pasa por el punto $P(1, 2, -1)$

Solución: $P(2, -3, -6)$, $Q(-2, 3, 6)$, $2x - 3y - 6z - 2 = 0$

62. **SL.** Calcular las coordenadas del punto simétrico de $A(0, -1, 1)$ respecto de la recta dada por las ecuaciones

$$\frac{x - 5}{2} = y = \frac{z - 2}{3}$$

Solución: $A'(6, -1, -3)$

63. **SL.** Calcular el punto de la recta $x = \frac{y+2}{2} = \frac{z-3}{-1}$ que equidiste del punto $A(1, 2, 1)$ y del origen de coordenadas.

Solución: $(1, 0, 2)$

64. **SL.** Consideremos el plano $2x + y + 2z - 4 = 0$

- a) Hallar el área del triángulo cuyos vértices son los puntos de corte del plano dado con los ejes coordenados.
b) Calcular la distancia del origen al plano dado.

Solución: $6, \frac{4}{3}$

65. **SL.** Determinar todos los puntos del plano $\pi \equiv 2x - y + 2z - 1 = 0$ que equidisten de los puntos $A(3, 0, -2)$ y $B(1, 2, 0)$. ¿Qué representan geoméricamente?

Solución: $P(x, y, z)$, con $\begin{cases} x = -1 - 3t \\ y = -3 - 4t \\ z = t \end{cases}$. Una recta, intersección del plano mediatriz del segmento AB con el plano π .

66. **SL.** Consideremos los puntos $A(1, 2, 3)$, $B(3, 2, 1)$ y $C(2, 0, 2)$. Hallar el punto simétrico del origen de coordenadas respecto del plano que contiene a A , B y C .

Solución: $O'(4, 0, 4)$

67. **Selectividad Junio 2002.** Calcular el área del triángulo de vértices

$$A(1, 1, 2), \quad B(1, 0, -1), \quad C(1, -3, 2)$$

Solución: 6

68. **Selectividad Junio 2003.** Consideremos los vectores

$$\vec{u} = (1, 1, 1), \quad \vec{v} = (2, 2, a), \quad \vec{w} = (2, 0, 0)$$

- a) Hallar los valores de a para los que los vectores $\vec{u}, \vec{v}, \vec{w}$ son linealmente independientes.
b) Determinar los valores de a para los que los vectores $\vec{u} + \vec{v}$ y $\vec{u} - \vec{w}$ son ortogonales.

Solución: $a \neq 2; a = -1$.

69. **Selectividad Junio 2003.** Sabiendo que las rectas

$$r \equiv x = y = z \quad \text{y} \quad s \equiv \begin{cases} x = 1 + \mu \\ y = 3 + \mu \\ z = -\mu \end{cases}$$

se cruzan, hallar los puntos A y B , de r y s respectivamente, que están a mínima distancia.

Solución: $A(1, 1, 1)$, $B(0, 2, 1)$.

70. **Selectividad Junio 2003.** Determinar el punto P de la recta $r \equiv \frac{x-1}{2} = \frac{y+1}{1} = \frac{z}{3}$ que equidista de los planos

$$\pi_1 \equiv x + y + z + 3 = 0 \quad \text{y} \quad \pi_2 \equiv \begin{cases} x = -3 + \lambda \\ y = -\lambda + \mu \\ z = -6 - \mu \end{cases}$$

Solución: $P(-1, -2, -3)$

71. **Selectividad Septiembre 2003.** Se sabe que los puntos $A(1, 0, -1)$, $B(3, 2, 1)$ y $C(-7, 1, 5)$ son vértices consecutivos de un paralelogramo $ABCD$.

- Calcular las coordenadas del punto D .
- Hallar el área del paralelogramo.

Solución: $D(-9, -1, 13)$; Superficie = $2\sqrt{302}$.

72. **Selectividad Septiembre 2003.** Los puntos $A(1, 1, 0)$ y $B(2, 2, 1)$ son vértices consecutivos de un rectángulo $ABCD$. Además, se sabe que los vértices C y D están contenidos en una recta que pasa por el origen de coordenadas. Hallar C y D .

Solución: $C\left(\frac{5}{3}, \frac{5}{3}, \frac{5}{3}\right)$, $D\left(\frac{2}{3}, \frac{2}{3}, \frac{2}{3}\right)$.

73. **Selectividad junio 2004.** Sean los puntos $A(1, 2, 1)$, $B(2, 3, 1)$, $C(0, 5, 3)$ y $D(-1, 4, 3)$.

- Probar que los cuatro puntos están en un mismo plano. Hallar la ecuación de dicho plano.
- Demostrar que el polígono de vértices consecutivos $ABCD$ es un rectángulo.
- Calcular el área de dicho rectángulo.

Solución: $x - y + 2z - 1 = 0$, Superficie = $2\sqrt{6}$

74. **Selectividad junio 2004.** Dados los vectores $\vec{u} = (2, 1, 0)$ y $\vec{v} = (-1, 0, 1)$, hallar un vector unitario \vec{w} que sea coplanario con \vec{u} y \vec{v} y ortogonal a \vec{v} .

Solución: Dos soluciones, $\vec{w} = \pm \frac{\sqrt{3}}{3}(1, 1, 1)$

75. **Selectividad septiembre 2004.** Se sabe que el triángulo ABC es rectángulo en el vértice C , que pertenece a la recta intersección de los planos $y + z = 1$ e $y - 3z + 3 = 0$, y que sus otros dos vértices son $A(2, 0, 1)$ y $B(0, -3, 0)$. Hallar C y el área del triángulo ABC .

Solución: $C(0, 0, 1)$, superficie = $\sqrt{10}$.

76. **Selectividad septiembre 2004.** Hallar la perpendicular común a las rectas:

$$r \equiv \begin{cases} x = 1 \\ y = 1 \\ z = \alpha \end{cases} \quad y \quad s \equiv \begin{cases} x = \beta \\ y = \beta - 1 \\ z = -1 \end{cases}$$

Solución: $p \equiv \begin{cases} x + y - 2 = 0 \\ z = -1 \end{cases}$

77. **Selectividad junio 2005.** Considera el punto $P(2, 0, 1)$ y la recta $r \equiv \begin{cases} x + 2y = 6 \\ z = 2 \end{cases}$

- a) Hallar la ecuación del plano que contiene a P y a r .
- b) Calcular el punto simétrico de P respecto de la recta r .

Solución: $x + 2y - 4z + 2 = 0$, Punto simétrico $(\frac{18}{5}, \frac{16}{5}, 3)$.

78. **Selectividad junio 2005.** Sean los vectores $\vec{v}_1 = (0, 1, 0)$, $\vec{v}_2 = (2, 1, -1)$, $\vec{v}_3 = (2, 3, -1)$.

- a) ¿Son los vectores \vec{v}_1 , \vec{v}_2 y \vec{v}_3 linealmente dependientes?.
- b) ¿Para qué valores de a el vector $(4, a + 3, -2)$ puede expresarse como combinación lineal de los vectores \vec{v}_1 , \vec{v}_2 y \vec{v}_3 ?.
- c) Calcular un vector unitario y perpendicular a \vec{v}_1 y \vec{v}_2 .

Solución: Sí; $\forall a \in \mathbb{R}; \vec{u} = \left(\frac{1}{\sqrt{5}}, 0, \frac{2}{\sqrt{5}}\right)$

79. **Selectividad septiembre 2005.** Consideremos el plano π y la recta r de ecuaciones:

$$\pi \equiv x + y + mz = 3, \quad r \equiv x = y - 1 = \frac{z - 2}{2}$$

- a) Hallar m para que r y π sean paralelos.
- b) Hallar m para que r y π sean perpendiculares.
- c) ¿Existe algún valor de m para que la recta r esté contenida en el plano π ?.

Solución: $m = -1; m = 2; \text{No.}$

80. **Selectividad septiembre 2005.** Sean los planos:

$$\pi_1 \equiv 2x + y - z + 5 = 0, \quad \pi_2 \equiv x + 2y + z + 2 = 0$$

- a) Calcular las coordenadas de un punto P , sabiendo que está en el plano π_1 y que su proyección ortogonal sobre el plano π_2 es el punto $(1, 0, -3)$.
- b) Calcular el punto simétrico de P respecto del plano π_2 .

Solución: $P \left(-\frac{7}{3}, -\frac{20}{3}, -\frac{19}{3} \right); \left(\frac{13}{3}, \frac{20}{3}, \frac{1}{3} \right)$.

81. **Selectividad junio 2006.** Consideremos el plano π y la recta r de ecuaciones:

$$\pi \equiv 2x + y - z + 2 = 0, \quad r \equiv \frac{x - 5}{-2} = y = \frac{z - 6}{m}$$

- a) Hallar la posición relativa de r y π según los valores del parámetro m .
- b) Para $m = -3$, hallar el plano que contiene a la recta r y es perpendicular al plano π .
- c) Para $m = -3$, hallar el plano que contiene a la recta r y es paralelo al plano π .

Solución: si $m = -3$, $r \parallel \pi$, en caso contrario ($m \neq -3$), la recta y el plano se cortan en un punto; $x - 4y - 2z + 7 = 0$; $2x + y - z - 4 = 0$.

82. **Selectividad junio 2006.** Consideremos el punto $P(3, 2, 0)$ y la recta r de ecuaciones:

$$r \equiv \begin{cases} x + y - z - 3 = 0 \\ x + 2z + 1 = 0 \end{cases}$$

- a) Hallar la ecuación del plano que contiene a P y a la recta r .
- b) Determinar las coordenadas del punto Q , simétrico de P respecto de la recta r .

Solución: $x + 2y - 4z - 7 = 0$; $Q(-1, 0, -2)$.

83. **Selectividad septiembre 2006.** Determinar los puntos de la recta

$$r \equiv \begin{cases} x = 0 \\ y - 1 = \frac{z - 3}{2} \end{cases}$$

que equidistan de los planos $\pi \equiv x + z = 1$, $\pi' \equiv y - z = 3$.

Solución: $P_1(0, 4, 9)$, $P_2 \left(0, -\frac{4}{3}, -\frac{5}{3} \right)$.

84. **Selectividad septiembre 2006.** Considera los puntos $A(1, 0, -2)$ y $B(-2, 3, 1)$.

- a) Determinar los puntos del segmento AB que lo dividen en tres partes iguales.

- b) Calcular el área del triángulo de vértices A , B y C , donde C es un punto de la recta de ecuación $-x = y - 1 = z$. ¿Depende el resultado de la elección concreta del punto C ?

Solución: $P_1(0, 1, -1)$, $P_2(-1, 2, 0)$; superficie = $\frac{3\sqrt{2}}{2}$; No.

85. **Selectividad junio 2007.** Consideremos los planos de ecuaciones $x - y + z = 0$ y $x + y - z = 2$.

- a) Determina la recta que pasa por el punto $A(1, 2, 3)$ y no corta a ninguno de los planos dados.
- b) Determina los puntos que equidistan de $A(1, 2, 3)$ y $B(2, 1, 0)$ y pertenecen a la recta intersección de los planos dados.

Solución: $r \equiv \frac{x-1}{0} = \frac{y-2}{1} = \frac{z-3}{1}$. Un único punto: $P(1, \frac{17}{8}, \frac{9}{8})$.

86. **Selectividad junio 2007.** Considera los puntos $A(0, 3, -1)$ y $B(0, 1, 5)$.

- a) Calcula los valores de x sabiendo que el triángulo ABC de vértices A , B y $C(x, 4, 3)$ tiene un ángulo recto en C .
- b) Hallar la ecuación del plano que pasa por los puntos $(0, 1, 5)$ y $(3, 4, 3)$ y es paralelo a la recta r definida por las ecuaciones $r \equiv \begin{cases} x - y + z = 0 \\ 2x + y = 3 \end{cases}$

Solución: $x = \pm\sqrt{5}$, $\pi \equiv 13x - 7y + 9z - 38 = 0$.

87. **Selectividad septiembre 2007.** Hallar los dos puntos que dividen al segmento de extremos $A(1, 2, 1)$ y $B(-1, 0, 3)$ en tres partes iguales. Determinar la ecuación del plano perpendicular al segmento AB que pasa por su punto medio

Solución: $X_1(\frac{1}{3}, \frac{4}{3}, \frac{5}{3})$, $X_2(-\frac{1}{3}, \frac{2}{3}, \frac{7}{3})$; $x + y - z + 1 = 0$.

88. **Selectividad junio 2008.** Dada la recta r definida por

$$r \equiv \frac{x-1}{2} = \frac{y+1}{3} = \frac{z-2}{1}$$

- a) Hallar la ecuación del plano que pasa por el origen y contiene a r .
- b) Hallar la ecuación del plano que pasa por el origen y es perpendicular a r .

Solución: $7x - 3y - 5z = 0$, $2x + 3y + z = 0$

89. **Selectividad junio 2008.** Dados los puntos $A(2, 1, 1)$ y $B(0, 0, 1)$, hallar los puntos C en el eje OX tales que el área del triángulo de vértices A, B y C es 2.

Solución: dos soluciones, $C(\pm\sqrt{11}, 0, 0)$

90. **Selectividad septiembre 2008.** Dada la recta s definida por

$$s \equiv \begin{cases} x - z = -1 \\ 2y + z = 3 \end{cases}$$

a) Hallar la ecuación del plano π_1 que es paralelo a s y contiene a la recta $r \equiv x - 1 = -y + 2 = z - 3$.

b) Estudiar la posición relativa de la recta s y el plano $\pi_2 \equiv x + y = 3$, y deducir la distancia entre ambos.

Solución: $\pi_1 \equiv x - z + 2 = 0$; π_2 y s se cortan, luego $d(s, \pi_2) = 0$.

91. **Selectividad septiembre 2008.** Dados los puntos

$$A(1, 1, 0), B(1, 1, 2), C(1, -1, 1)$$

a) Comprobar que no están alineados y calcular el área del triángulo que determinan.

b) Hallar la ecuación del plano π que contiene al punto A y es perpendicular a la recta determinada por B y C .

Solución: área = 2, $\pi \equiv 2y + z = 2$.

92. **Selectividad junio 2009.** Se consideran las rectas r y s definidas como:

$$r \equiv \begin{cases} x = 1 \\ y = 1 \\ z = \lambda - 2 \end{cases}, \quad s \equiv \begin{cases} x = \mu \\ y = \mu - 1 \\ z = -1 \end{cases}$$

Hallar la ecuación de la perpendicular común a r y a s .

Nota: este problema es idéntico al 18 y 76.

Solución: $\frac{x}{-1} = \frac{y-2}{1} = \frac{z+1}{0}$

93. **Selectividad junio 2009.** Consideremos la recta r definida por $\begin{cases} x + y = 2 \\ y + z = 0 \end{cases}$ y la recta s que pasa por los puntos $A(2, 1, 0)$ y $B(1, 0, -1)$.

a) Estudiar la posición relativa de r y s .

- b) Determinar un punto C de la recta r tal que los segmentos \overline{CA} y \overline{CB} sean perpendiculares.

Solución: Se cortan. Dos soluciones: $C(2, 0, 0)$, $C(1, 1, -1)$.

94. **Selectividad septiembre 2009.** Se consideran las rectas r y s definidas como:

$$r \equiv \begin{cases} x - y + 3 = 0 \\ x + y - z - 1 = 0 \end{cases}, \quad s \equiv \begin{cases} 2y + 1 = 0 \\ x - 2z + 3 = 0 \end{cases}$$

- a) Determinar la ecuación del plano π que contiene a r y es paralelo a s .
b) ¿Existe algún plano que contenga a r y sea perpendicular a s ? Razonar la respuesta.

Solución: $\pi \equiv x + 3y - 2z - 5 = 0$. No.

Capítulo 13

Circunferencia

1. Identificar los gráficos de

$$2x^2 + 2y^2 - 4x + y + 1 = 0$$

$$x^2 + y^2 - 4y + 7 = 0$$

$$x^2 + y^2 - 6x - 2y + 10 = 0$$

Solución: Circunferencia con centro en $C(1, -\frac{1}{4})$, $r = \frac{3}{4}$; \emptyset ; el punto $(3, 1)$.

2. Hallar la ecuación de la circunferencia cuyo centro es el punto $C(2, 3)$ y que pasa por el punto $P(-1, 5)$.

Solución: $(x - 2)^2 + (y - 3)^2 = 13$

3. Hallar la ecuación de la circunferencia que pasa por los puntos $P(3, 8)$, $Q(9, 6)$ y $R(13, -2)$.

Solución: $(x - 3)^2 + (y + 2)^2 = 100$

4. Hallar el centro y el radio de la circunferencia que pasa por $P(1, 1)$ y es tangente a la recta $y = 2x - 3$ en el punto $Q(3, 3)$.

Solución: $C(-1, 5)$, $r = \sqrt{20}$.

5. Hallar la ecuación de la circunferencia que pasa por los puntos $P(1, -1)$, $Q(3, 1)$ y es tangente a la recta $y = -3x$

Solución: Dos soluciones: $(x - \frac{3}{2})^2 + (y - \frac{1}{2})^2 = \frac{5}{2}$, $(x - 4)^2 + (y + 2)^2 = 10$.

6. **Selectividad Junio 2000.** Determinar la ecuación de la circunferencia que pasa por los puntos $A(1, 6)$ y $B(5, 2)$ y tiene su centro sobre la recta $y = 2x$.

Solución: $(x - 1)^2 + (y - 2)^2 = 16$

7. **Selectividad Septiembre 2000.**

- a) Hallar la ecuación de la circunferencia que pasa por los puntos $(0, 2)$, $(0, -2)$ y $(-1, 1)$.
- b) Determinar los valores de m tales que el punto $(3, m)$ esté en la circunferencia determinada en el apartado anterior.

Solución: $(x - 1)^2 + y^2 = 5$; $m = \pm 1$.

8. **SL.** Hallar la ecuación de la circunferencia cuyo centro es el punto de intersección de las rectas de ecuaciones respectivas

$$2x - y - 4 = 0 \quad \text{y} \quad x - 2y + 3 = 0$$

y es tangente a la recta $x - 3y + 3 = 0$. Calcular el punto de tangencia.

Solución: $(x - \frac{11}{3})^2 + (y - \frac{10}{3})^2 = \frac{10}{9}$, $P(4, \frac{7}{3})$.

9. **SL.** Determinar el centro y el radio de la circunferencia que pasa por el origen de coordenadas, tiene su centro en el semieje positivo de abscisas y es tangente a la recta de ecuación $x + y = 1$.

Solución: $C(\sqrt{2} - 1, 0)$, $r = \sqrt{2} - 1$.