

Actividades

- 1** Reduce cada uno de los siguientes ángulos al primer giro e indica el cuadrante al que pertenece cada uno:
- a) 600°
 - b) 405°
 - c) 4800°
 - d) -135°
 - e) 1860°
 - f) -1110°
 - g) 1530°
- 2** Halla las razones trigonométricas directas de los ángulos de la actividad anterior.
- 3** Representa en la circunferencia goniométrica los siguientes ángulos con ayuda de un transportador. Utiliza una hoja de papel milimetrado y dibuja una circunferencia de 10 cm de radio y toma como valor unidad esa equivalencia, escala 10:1.
- a) 0 rad
 - b) 60°
 - c) -60°
 - d) 35°
 - e) 160°
 - f) 250°
- 4** Determina aproximadamente los puntos de corte de los ángulos de la actividad anterior con la circunferencia goniométrica y expresa aproximadamente su seno y coseno.

www.yoquieroaprobar.es

Actividades

5 Calcula, en cada caso, las demás razones trigonométricas de:

a) $\operatorname{sen} \alpha = 0,433$, si $0^\circ < \alpha < 90^\circ$

b) $\operatorname{cos} \alpha = -0,896$, si $\alpha \in \text{II cuadrante}$

c) $\operatorname{tg} \alpha = 0,777$, si $180^\circ < \alpha < 270^\circ$

d) $\operatorname{cos} \alpha = 0,21$, si $\frac{3\pi}{2} \operatorname{rad} < \alpha < 2\pi \operatorname{rad}$

e) $\operatorname{sec} \alpha = -3$, si $\alpha \in \text{II cuadrante}$

f) $\operatorname{sen} \alpha = 0,683$, si $\alpha \in \text{I cuadrante}$

6 Sabiendo que $\operatorname{sen} \alpha = \frac{-2}{5}$ y $270^\circ < \alpha < 360^\circ$, calcula:

a) $\operatorname{cos} \alpha$

b) $\operatorname{cos} \left(\frac{\pi}{2} - \alpha \right)$

c) $\operatorname{tg} (\pi - \alpha)$

d) $\operatorname{sec} (\pi + \alpha)$

7 Dibuja cada uno de los siguientes ángulos en la circunferencia goniométrica, relaciónalos con un ángulo del primer cuadrante.

a) 1230°

b) -690°

c) 840°

d) 855°

8 Halla la medida de todos los ángulos α , del primer giro positivo, que tienen cada una de las siguientes razones:

a) $\operatorname{sen} \alpha = 0,78$

b) $\operatorname{cos} \alpha = 0,78$

c) $\operatorname{tg} \alpha = 8$

d) $\operatorname{tg} \alpha = -0,34$

e) $\operatorname{sen} \alpha = 0,101$

f) $\operatorname{sec} \alpha = 6$

Solución de las actividades

1 a) $\frac{600^\circ}{360^\circ} = 1$ giro antihorario + 240° pertenece al III cuadrante.

b) $\frac{405^\circ}{360^\circ} = 1$ giro antihorario + 45° pertenece al I cuadrante.

c) $\frac{4800^\circ}{360^\circ} = 13$ giros antihorarios + 120° pertenece al II cuadrante.

d) $360^\circ - 135^\circ = 225^\circ$ pertenece al III cuadrante.

e) $\frac{1860^\circ}{360^\circ} = 5$ giros antihorarios + 60° pertenece al I cuadrante.

f) $\frac{-1110^\circ}{360^\circ} = -3$ giros horarios - $30^\circ \Rightarrow$
 $\Rightarrow 360^\circ - 30^\circ = 330^\circ$ pertenece al IV cuadrante.

g) $\frac{1530^\circ}{360^\circ} = 4$ giros antihorarios + 90° división del I y II cuadrante.

2 a) $\sin 600^\circ = \sin 240^\circ = -\sin 60^\circ = -\frac{\sqrt{3}}{2}$,
 $\cos 600^\circ = \cos 240^\circ = -\cos 60^\circ = -\frac{1}{2}$,
 $\operatorname{tg} 600^\circ = \operatorname{tg} 240^\circ = \operatorname{tg} 60^\circ = \sqrt{3}$

b) $\sin 405^\circ = \sin 45^\circ = \frac{\sqrt{2}}{2}$, $\cos 405^\circ = \cos 45^\circ = \frac{\sqrt{2}}{2}$, $\operatorname{tg} 405^\circ = \operatorname{tg} 45^\circ = 1$

c) $\sin 4800^\circ = \sin 120^\circ = \sin 60^\circ = \frac{\sqrt{3}}{2}$,
 $\cos 4800^\circ = \cos 120^\circ = -\cos 60^\circ = -\frac{1}{2}$,
 $\operatorname{tg} 600^\circ = \operatorname{tg} 120^\circ = -\operatorname{tg} 60^\circ = -\sqrt{3}$

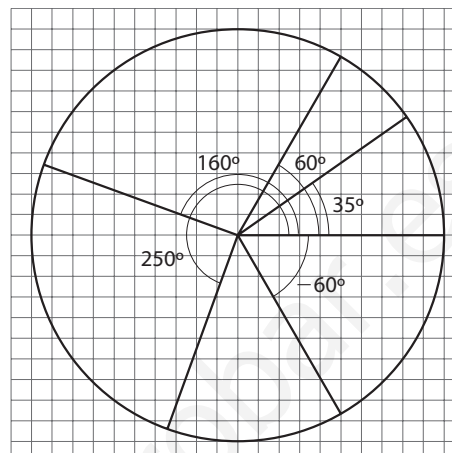
d) $\sin -135^\circ = \sin 225^\circ = -\sin 45^\circ = -\frac{\sqrt{2}}{2}$,
 $\cos -135^\circ = -\cos 45^\circ = -\frac{\sqrt{2}}{2}$, $\operatorname{tg} -135^\circ = \operatorname{tg} 45^\circ = 1$

e) $\sin 1860^\circ = \sin 60^\circ = \frac{\sqrt{3}}{2}$, $\cos 1860^\circ = \cos 60^\circ = \frac{1}{2}$, $\operatorname{tg} 1860^\circ = \operatorname{tg} 60^\circ = \sqrt{3}$

f) $\sin (-1110^\circ) = \sin -30^\circ = -\frac{1}{2}$, $\cos (-1110^\circ) = \cos (-30^\circ) = \frac{\sqrt{3}}{2}$, $\operatorname{tg} -1110^\circ = \operatorname{tg} (-30^\circ) = -\frac{\sqrt{3}}{3}$

g) $\sin 1530^\circ = \sin 90^\circ = 1$, $\cos 1530^\circ = \cos 90^\circ = 0$, $\operatorname{tg} 1530^\circ = \operatorname{tg} 90^\circ = \infty$

3



4 El valor aproximado del coseno es la abscisa y del seno la ordenada de cada punto de corte:

a) corte de $0 \text{ rad} \Rightarrow P(0, 0)$

b) corte de $60^\circ \Rightarrow P(0,5, 0,9)$

c) corte de $-60^\circ \Rightarrow P(0,5, -0,9)$

d) corte de $35^\circ \Rightarrow P(0,8, 0,6)$

e) corte de $160^\circ \Rightarrow P(-0,9, 0,3)$

f) corte de $250^\circ \Rightarrow P(-0,3, -0,9)$

Solución de las actividades

$$5 \ a) \cos \alpha = \sqrt{1 - \operatorname{sen}^2 \alpha} = \sqrt{1 - 0,433^2} = 0,901.$$

$$\operatorname{tg} \alpha = \frac{\operatorname{sen} \alpha}{\cos \alpha} = \frac{0,433}{0,901} = 0,481; \operatorname{cosec} \alpha = \frac{1}{\operatorname{sen} \alpha} = \frac{1}{0,433} = 2,31; \operatorname{sec} \alpha = \frac{1}{\cos \alpha} = \frac{1}{0,901} = 1,11; \operatorname{cotg} \alpha = \frac{1}{\operatorname{tg} \alpha} = \frac{1}{0,481} = 2,08$$

$$b) \operatorname{sen} \alpha = \sqrt{1 - \cos^2 \alpha} = \sqrt{1 - 0,896^2} = 0,444.$$

$$\operatorname{tg} \alpha = \frac{\operatorname{sen} \alpha}{\cos \alpha} = -\frac{0,444}{0,896} = -0,450; \operatorname{cosec} \alpha = \frac{1}{\operatorname{sen} \alpha} = \frac{1}{0,444} = 2,25; \operatorname{sec} \alpha = \frac{1}{\cos \alpha} = \frac{1}{0,896} = -1,12; \operatorname{cotg} \alpha = \frac{1}{\operatorname{tg} \alpha} = -\frac{1}{0,450} = -2,22$$

$$c) \operatorname{sec} \alpha = -\sqrt{1 + \operatorname{tg}^2 \alpha} = -\sqrt{1 + 0,777^2} = -1,26;$$

$$\cos \alpha = \frac{1}{\operatorname{sec} \alpha} = \frac{1}{-1,26} = -0,794; \operatorname{sen} \alpha = \operatorname{tg} \alpha \cdot \cos \alpha = -0,617; \operatorname{cosec} \alpha = \frac{1}{\operatorname{sen} \alpha} = -\frac{1}{0,617} = -1,621; \operatorname{cotg} \alpha = \frac{1}{\operatorname{tg} \alpha} = \frac{1}{0,777} = 1,288$$

$$d) \operatorname{sen} \alpha = -\sqrt{1 - \cos^2 \alpha} = -\sqrt{1 - 0,21^2} = -0,977;$$

$$\operatorname{tg} \alpha = \frac{\operatorname{sen} \alpha}{\cos \alpha} = -\frac{0,977}{0,21} = -4,65; \operatorname{cosec} \alpha = \frac{1}{\operatorname{sen} \alpha} = -\frac{1}{0,977} = -1,02; \operatorname{sec} \alpha = \frac{1}{\cos \alpha} = \frac{1}{0,21} = 4,76; \operatorname{cotg} \alpha = \frac{1}{\operatorname{tg} \alpha} = -\frac{1}{4,65} = -0,215$$

$$e) \operatorname{sec} \alpha = -3, \text{ si } \alpha \in \text{II cuadrante } \cos \alpha = \frac{1}{\operatorname{sec} \alpha} = -\frac{1}{3}; \operatorname{sen} \alpha = \sqrt{1 - \cos^2 \alpha} = \sqrt{1 - 0,333^2} = 0,943; \operatorname{tg} \alpha = \frac{\operatorname{sen} \alpha}{\cos \alpha} = -\frac{0,943}{0,333} = -2,83.$$

$$\operatorname{cosec} \alpha = \frac{1}{\operatorname{sen} \alpha} = \frac{1}{0,943} = 1,06; \operatorname{cotg} \alpha = \frac{1}{\operatorname{tg} \alpha} = -\frac{1}{2,83} = -0,353$$

$$f) \operatorname{sen} \alpha = 0,683, \text{ si } \alpha \in \text{I cuadrante } \cos \alpha =$$

$$= \sqrt{1 - \operatorname{sen}^2 \alpha} = \sqrt{1 - 0,683^2} = 0,73; \operatorname{tg} \alpha = \frac{\operatorname{sen} \alpha}{\cos \alpha} = \frac{0,683}{0,73} = 0,93; \operatorname{cosec} \alpha = \frac{1}{\operatorname{sen} \alpha} = \frac{1}{0,683} = 1,46; \operatorname{sec} \alpha = \frac{1}{\cos \alpha} = \frac{1}{0,73} = 1,37; \operatorname{cotg} \alpha = \frac{1}{\operatorname{tg} \alpha} = \frac{1}{0,93} = 1,07$$

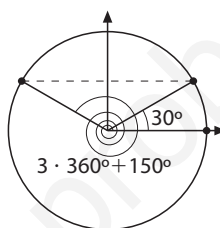
$$6 \ a) \cos \alpha = \sqrt{1 - 0,4^2} = 0,917$$

$$b) \cos \left(\frac{\pi}{2} - \alpha \right) = \operatorname{sen} \alpha = -\frac{2}{5}$$

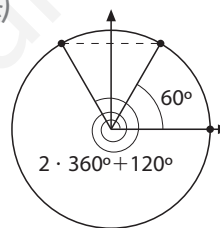
$$c) \operatorname{tg} (\pi - \alpha) = \frac{-\operatorname{sen} \alpha}{\cos \alpha} = \frac{0,4}{0,917} = 0,436$$

$$d) \operatorname{sec} (\pi + \alpha) = \frac{1}{\cos (\pi + \alpha)} = \frac{-1}{0,917} = -1,09$$

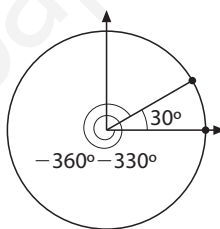
7 a)



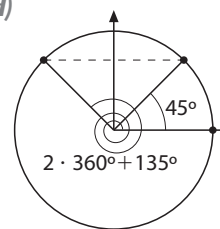
c)



b)



d)



$$8 \ a) \operatorname{sen} \alpha = 0,78 \Rightarrow \alpha = \operatorname{arc} \operatorname{sen} 0,78 = 51,3^\circ \text{ y } 180^\circ - 51,3^\circ = 128,7^\circ$$

$$b) \cos \alpha = 0,78 \Rightarrow \alpha = \operatorname{arc} \cos 0,78 = 38,7^\circ \text{ y } 360^\circ - 38,7^\circ = 321,3^\circ$$

$$c) \operatorname{tg} \alpha = 8 \Rightarrow \alpha = \operatorname{arc} \operatorname{tg} 8 = 82,9^\circ \text{ y } 180^\circ + 82,9^\circ = 262,9^\circ$$

$$d) \operatorname{tg} \alpha = -0,34 \Rightarrow \alpha = \operatorname{arc} \operatorname{tg} (-0,34) = 341^\circ \text{ y } 341^\circ - 180^\circ = 161^\circ$$

$$e) \operatorname{sen} \alpha = 0,101 \Rightarrow \alpha = \operatorname{arc} \operatorname{sen} 0,101 = 5,80^\circ \text{ y } 180^\circ - 5,80^\circ = 174,2^\circ$$

$$f) \operatorname{sec} \alpha = 6 \Rightarrow \cos \alpha = \frac{1}{6} \Rightarrow \alpha = \operatorname{arc} \cos \frac{1}{6} = 80,4^\circ \text{ y } 360^\circ - 80,4^\circ = 279,6^\circ$$