

CONTROL DE CIENCIAS SOCIALES

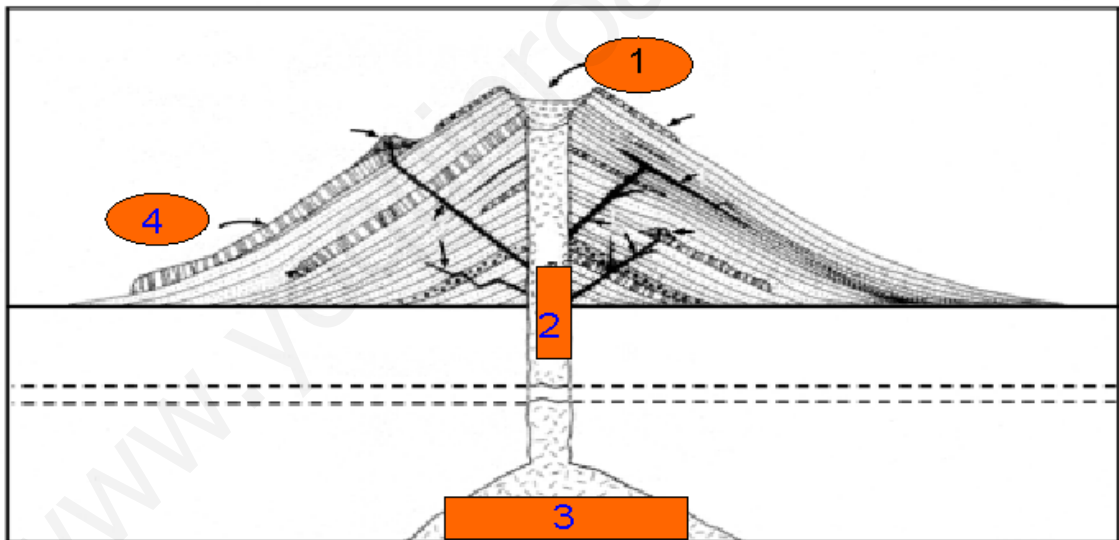
UNIDAD 7

NOMBRE:.....FECHA:.....

1) Une con flechas:

- | | |
|------------|---|
| Volcán | temblores de la corteza terrestre. |
| Terremotos | grietas en la corteza de la tierra por la que salen materiales del interior de la tierra. |
| Tsunami | fuerte borrasca con grandes vientos y lluvias. |
| Huracán | grupo de olas gigantes. |

2) Escribe las partes de este volcán:

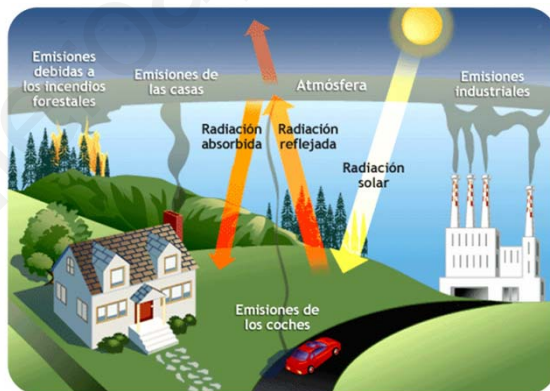


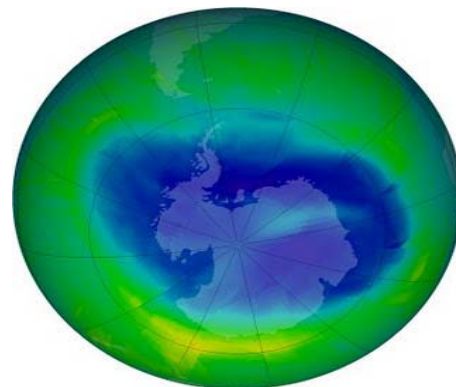
3) ¿Cuál es el riesgo medioambiental más importante?

4) ¿Qué tipos de riesgos medioambientales existen?

5) ¿Cuáles son los riesgos derivados de la contaminación atmosférica?

6) ¿A qué riesgos naturales pertenecen las siguientes fotografías?





7) ¿Qué son las mareas negras? _____

8) ¿Cuáles son las consecuencias del rápido aumento de la demanda de los recursos naturales? _____

9) Explica con un esquema el significado del desarrollo sostenible.

10) Enumera seis medidas para ayudar al desarrollo sostenible individual.