

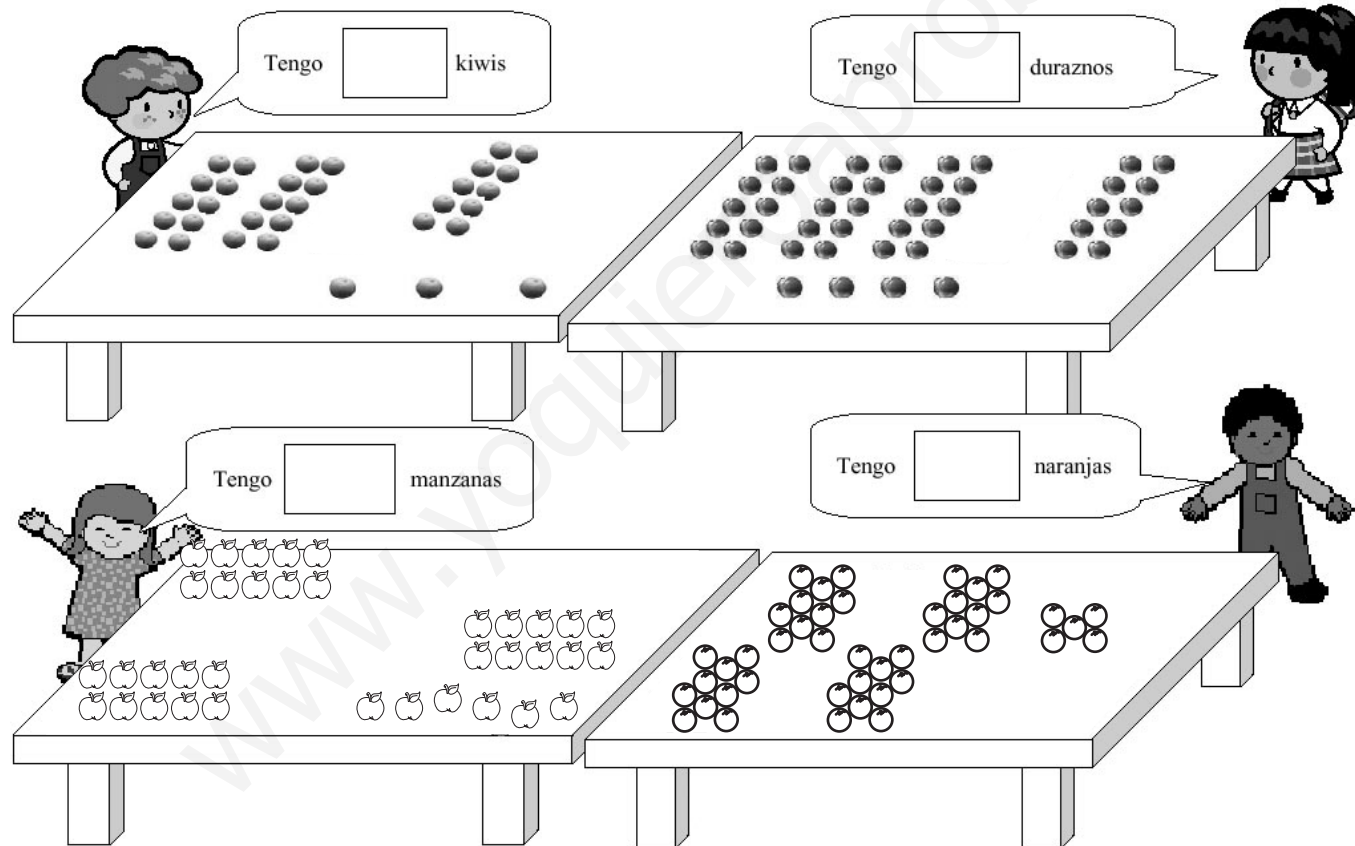


¡Hola!, ¿Cuál es tu nombre?

Curso:

Fecha:

1) Escribe en los espacios señalados la cantidad de fruta que tiene cada niño.



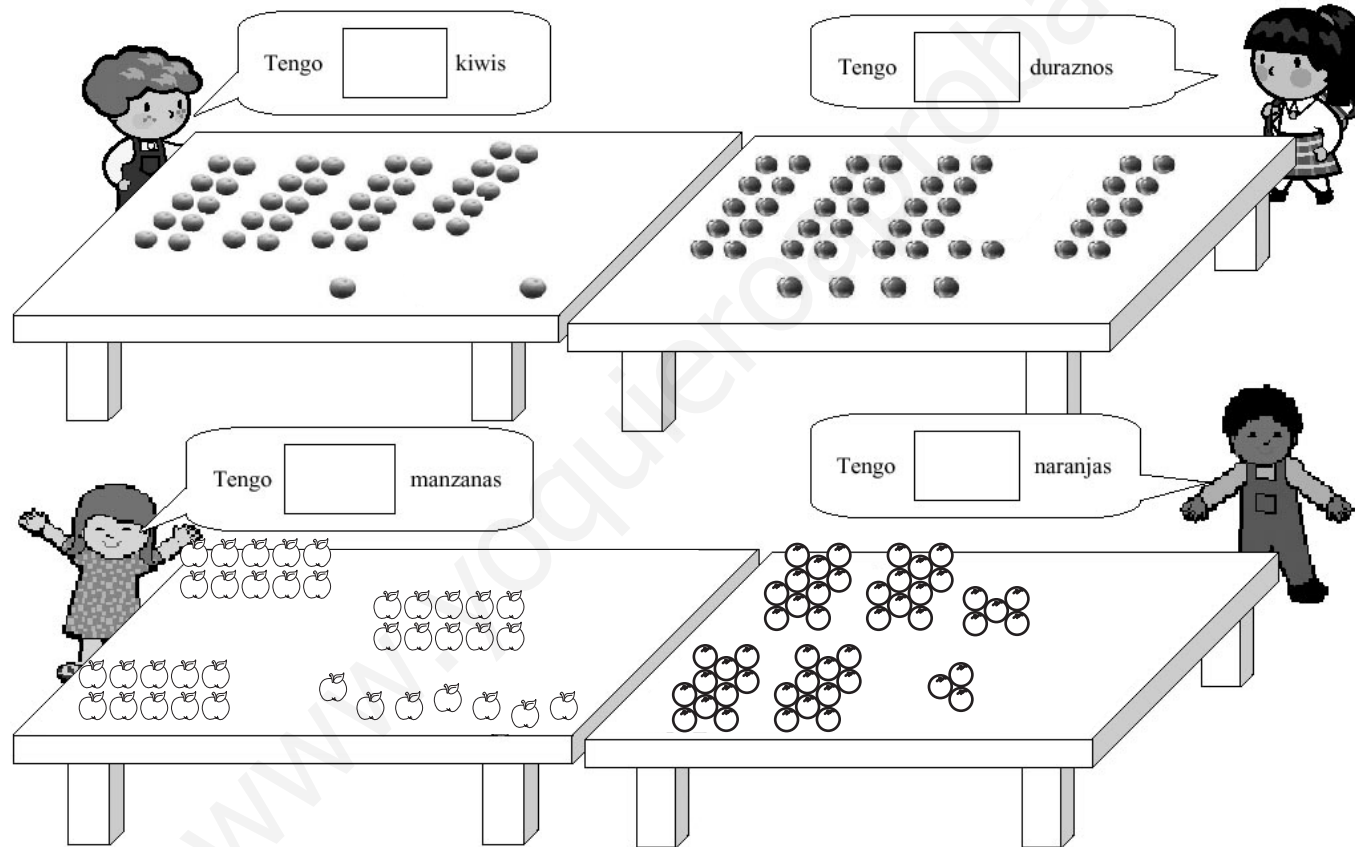
Tengo kiwis

Tengo duraznos

Tengo manzanas

Tengo naranjas

1) Escribe en los espacios señalados la cantidad de fruta que tiene cada niño.




"Contar y comparar números hasta 50."



¡Hola!, ¿Cuál es tu nombre?

Curso:

Fecha:



Juan tiene estos autitos.



Sebastián tiene estas pelotas.



Cristian tiene 2 autitos más que Juan.
Dibújalos.



Marco tiene 3 pelotas más que Sebastián.
Dibújalas.

¡Hola!, ¿Cuál es tu nombre?

Curso:

Fecha:

1) Escribe en los espacios señalados la cantidad de fruta que tiene cada niño.

Tengo naranjas

Tengo naranjas

Tengo manzanas

Tengo peras

"Contar y comparar números hasta 50."

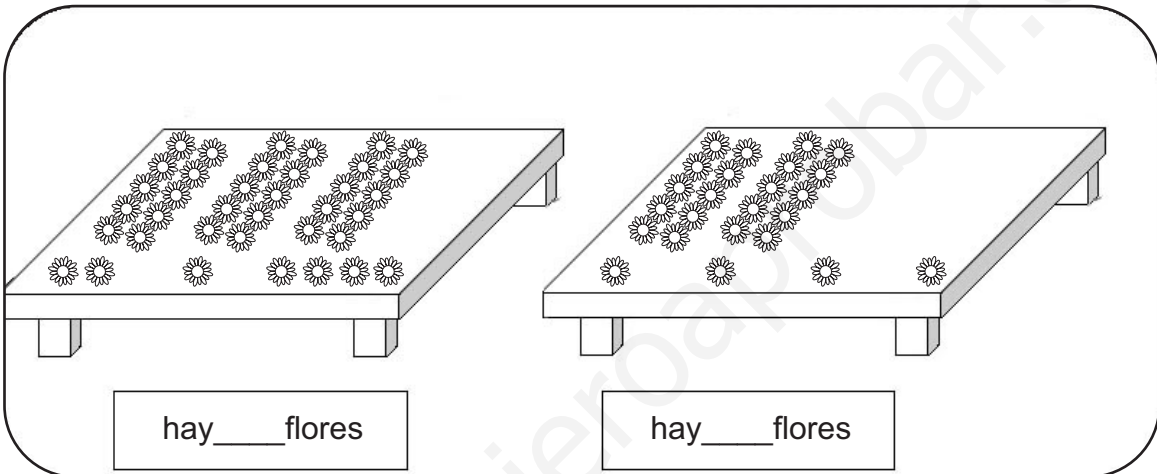


¡Hola!, ¿Cuál es tu nombre?

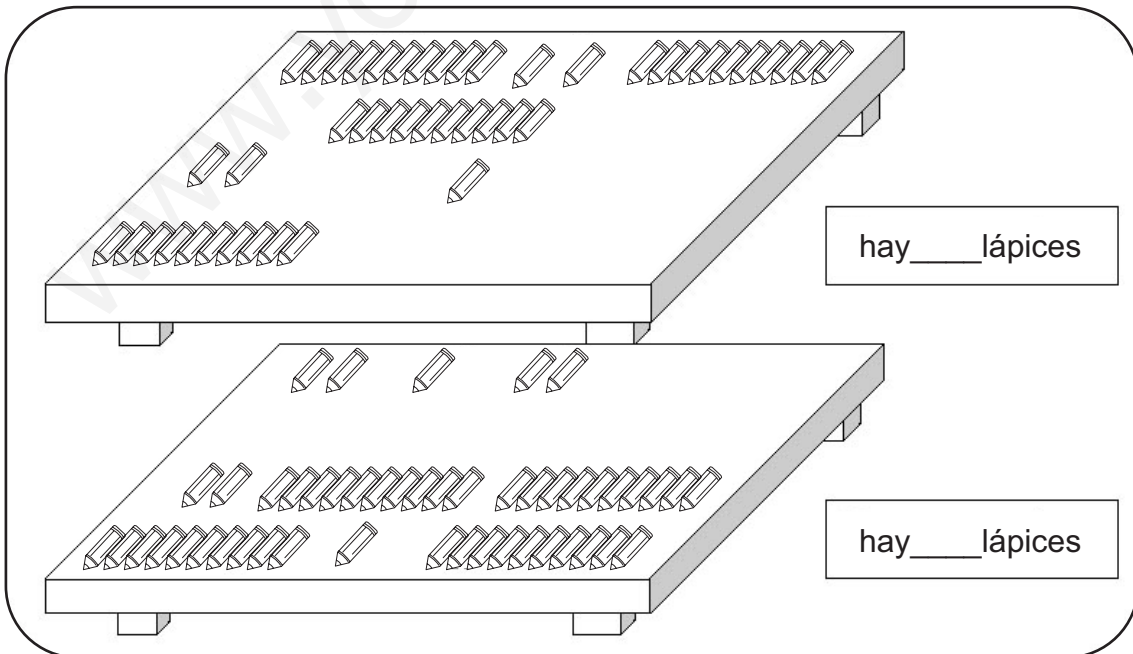
Curso:

..... Fecha:

1) Escribe en los cuadros correspondientes la cantidad de flores y lápices que hay en cada mesa..



hay ___ flores hay ___ flores



hay ___ lápices hay ___ lápices

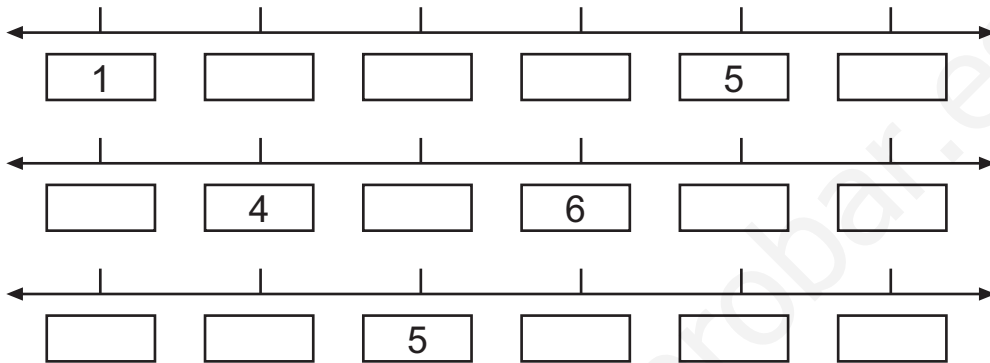


¡Hola!, ¿Cuál es tu nombre?


Curso:

..... Fecha:

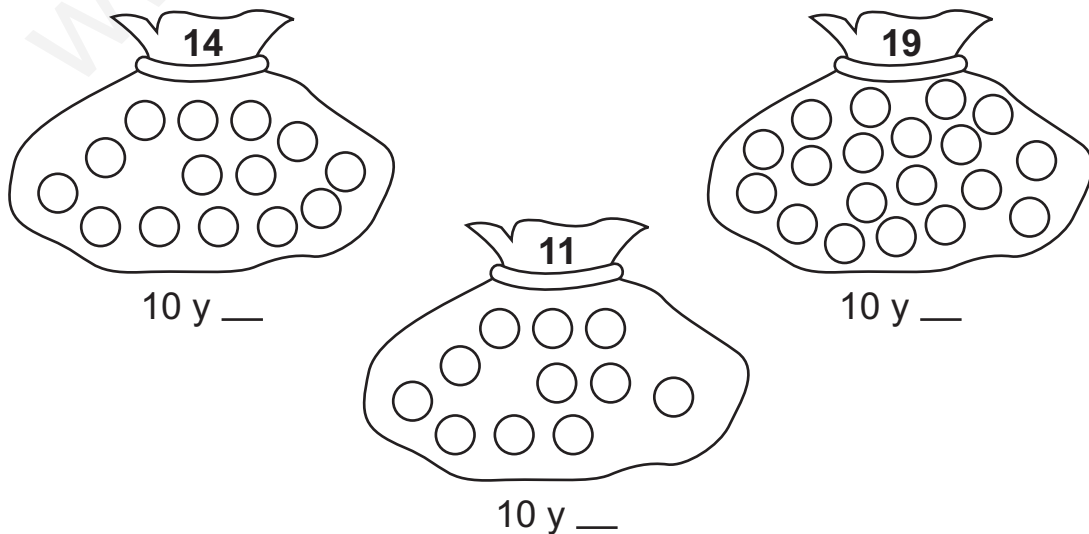
1) Completa la recta numérica, escribiendo el número que falta.



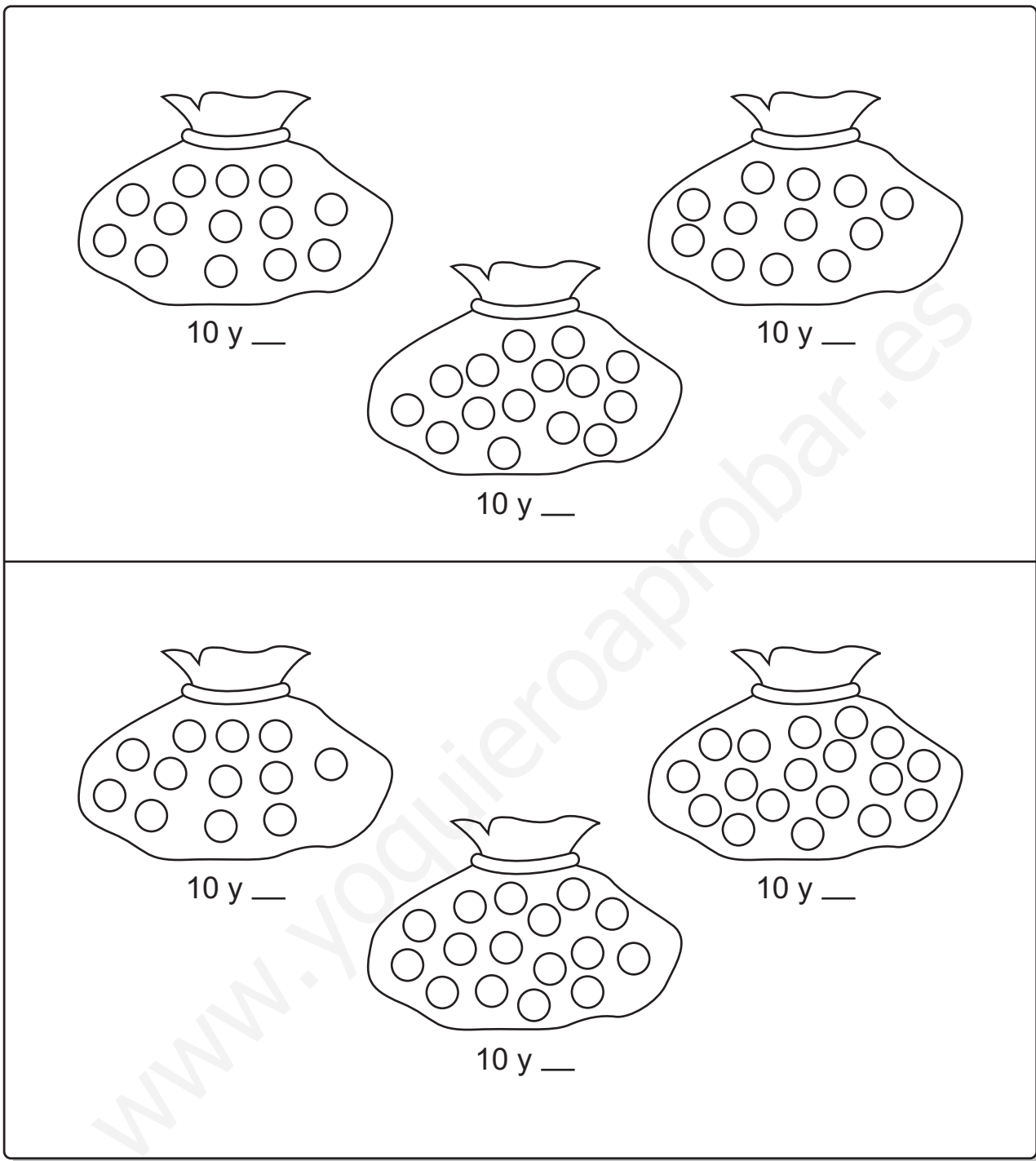
2) Escribe los números de mayor a menor:



3) Pinta 10 rojos y el resto azul y completa.



"Contar y comparar números hasta 50."



10 y ___

10 y ___

10 y ___

10 y ___

10 y ___

10 y ___

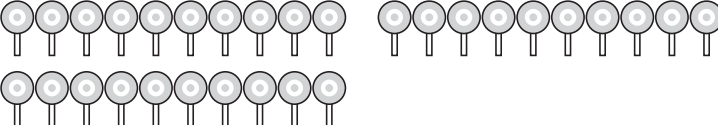
"Contar y comparar números hasta 100."

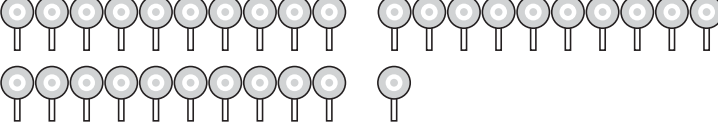


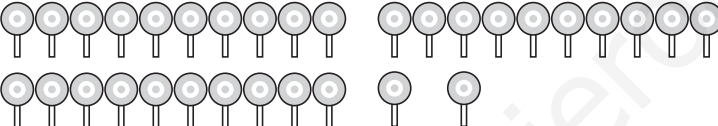
¡Hola!, ¿Cuál es tu nombre? Curso:

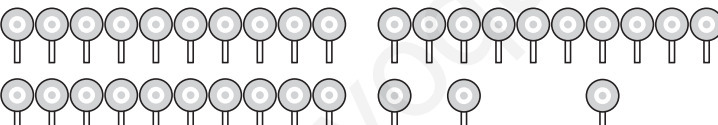
..... Fecha:

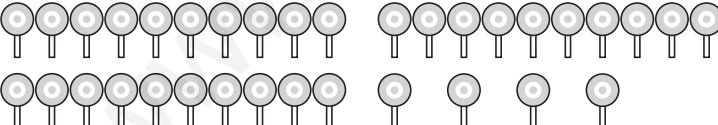
1) ¿Cuántas paletas hay?

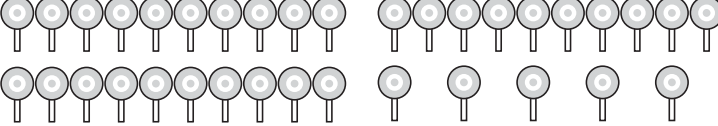
 Hay Paletas.

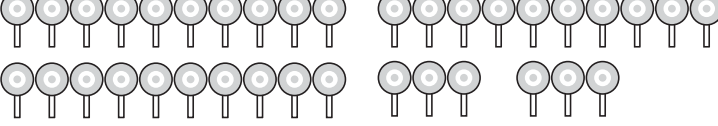
 Hay Paletas.

 Hay Paletas.

 Hay Paletas.

 Hay Paletas.

 Hay Paletas.

 Hay Paletas.

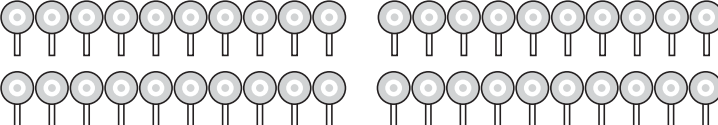


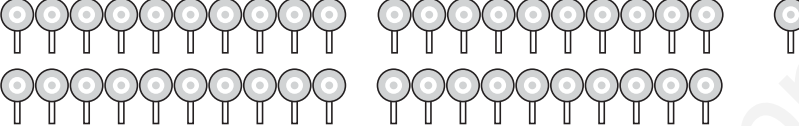
¡Hola!, ¿Cuál es tu nombre?

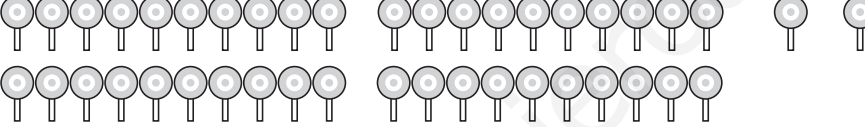
Curso:

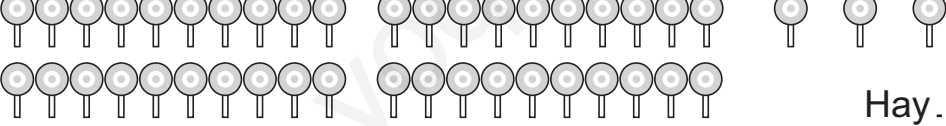
..... Fecha:

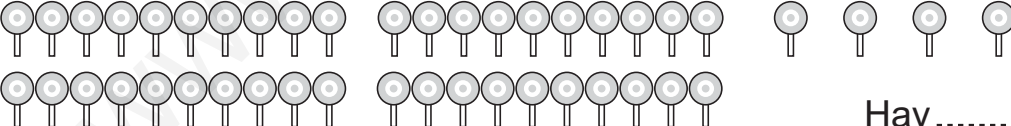
1) ¿Cuántas paletas hay?

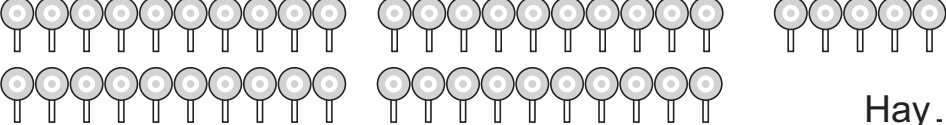
 Hay Paletas.

 Hay Paletas.

 Hay Paletas.

 Hay Paletas.

 Hay Paletas.

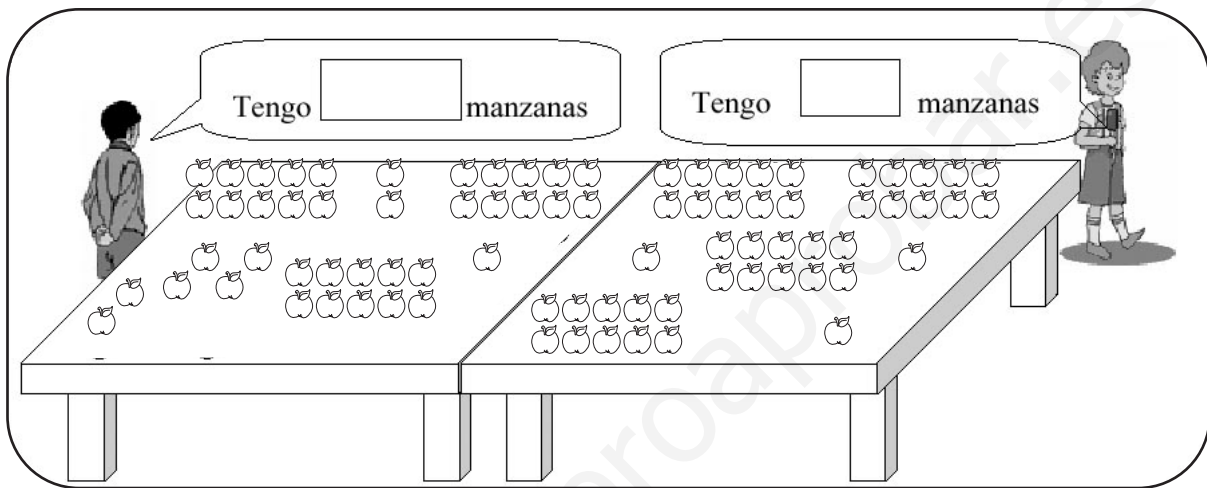
 Hay Paletas.



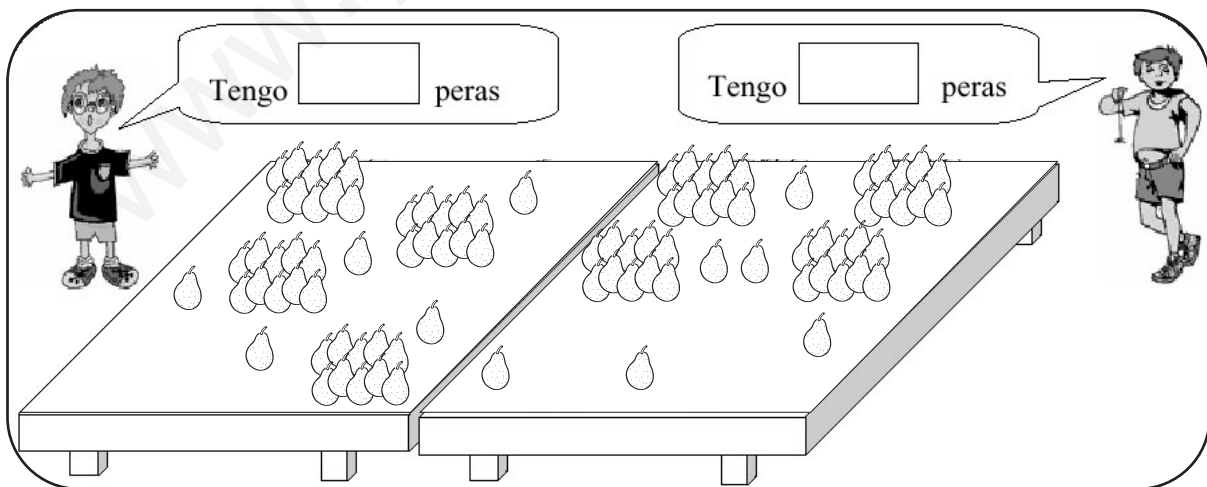
¡Hola!, ¿Cuál es tu nombre? Curso:

..... Fecha:

1) Escribe en los cuadros correspondientes la cantidad de frutas que tiene cada niño. Marca el niño que tiene más manzanas.



2) Escribe en los cuadros correspondientes la cantidad de frutas que tiene cada niño. Marca el niño que tiene más peras.





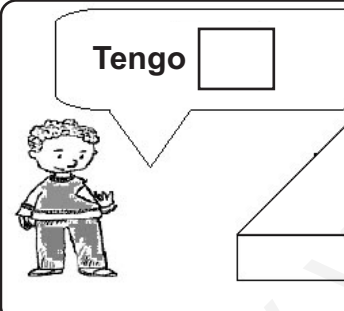
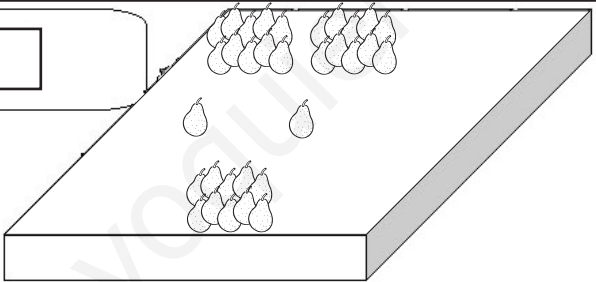

¡Hola!, ¿Cuál es tu nombre? Curso:

..... Fecha:



1) Completa y marca el niño que tiene más manzanas.

	
--	---



2) Completa y marca el niño que tiene más peras.

		
---	--	---

3) Marca el niño que tiene menos.

	
---	--

4) Marca el niño que tiene menos.

	
---	--

"Contar y comparar números hasta 50."



¡Hola!, ¿Cuál es tu nombre?

Curso:

..... Fecha:

1) Observa los siguientes números.

27

36

45

17

Escribe el mayor:

2) Observa los siguientes números.

45

25

15

35

Escribe el menor:

3) Observa los siguientes números.

40

26

16

37

31

Escríbelos en orden de **menor** a mayor:

4) Observa los siguientes números.

17

10

40

39

28

Escríbelos en orden de **mayor** a menor:

"Contar y comparar números hasta 50."

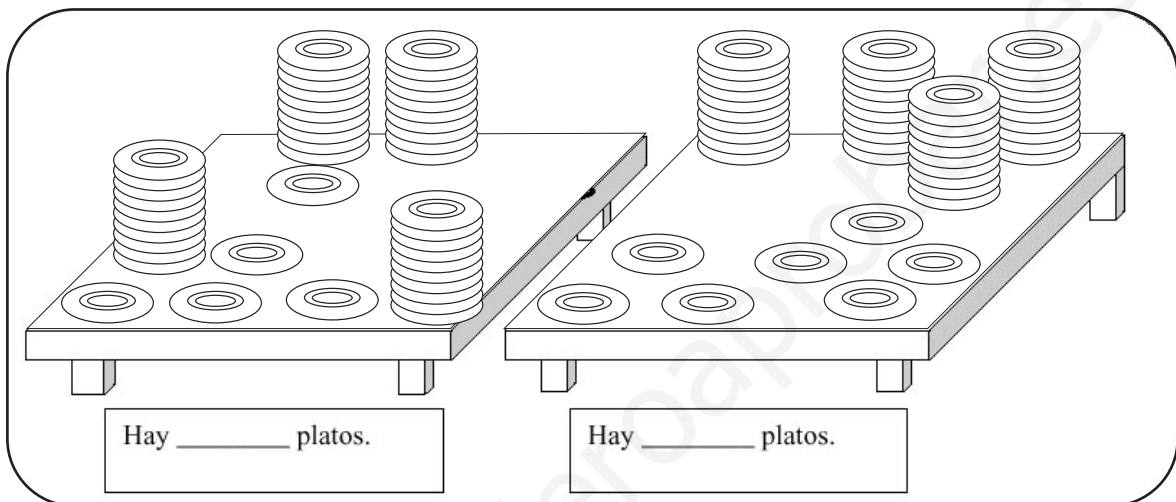


¡Hola!, ¿Cuál es tu nombre?



Curso:

..... Fecha:

1) Escribe en los cuadros correspondientes la cantidad de platos que hay en cada mesa. Marca con una cruz la mesa donde hay **menos** platos.



2) Escribe los nombres de los niños, desde el que tiene **menos** hasta el que tiene **más** pelotas.



--	--	--	--



¡Hola!, ¿Cuál es tu nombre? Curso:

..... Fecha:

1) ¿Cuántos hay?. Escribe los números en el recuadro.



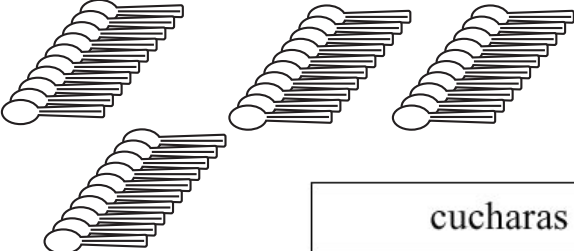
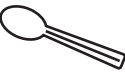
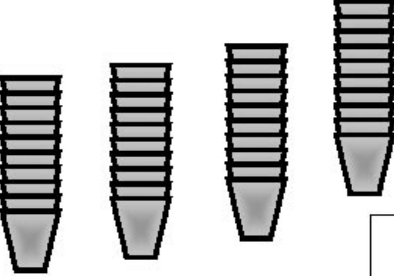

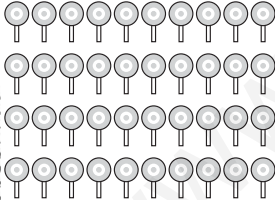
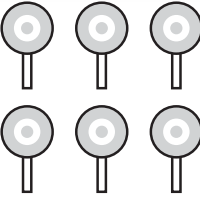
Lalo tiene...

<div style="text-align: center; border: 1px solid black; padding: 5px;">cucharas</div>	<div style="text-align: center; border: 1px solid black; padding: 5px;">cuchara</div>	<div style="border: 1px solid black; width: 80px; height: 80px; margin: 0 auto;"></div>
<div style="text-align: center; border: 1px solid black; padding: 5px;">vasos</div>	<div style="text-align: center; border: 1px solid black; padding: 5px;">vasos</div>	<div style="border: 1px solid black; width: 80px; height: 80px; margin: 0 auto;"></div>
<div style="text-align: center; border: 1px solid black; padding: 5px;">platos</div>	<div style="text-align: center; border: 1px solid black; padding: 5px;">platos</div>	<div style="border: 1px solid black; width: 80px; height: 80px; margin: 0 auto;"></div>
<div style="border: 1px solid black; width: 80px; height: 80px; margin: 0 auto; text-align: center;">20 pelotas</div>	<div style="border: 1px solid black; width: 80px; height: 80px; margin: 0 auto; text-align: center;">3 pelotas</div>	<div style="border: 1px solid black; width: 80px; height: 80px; margin: 0 auto;"></div>

2) ¿Cuántos hay?. Escribe los números en el recuadro.



Lola tiene...

 <p>cucharas</p>	 <p>cucharas</p>	<p>cucharas</p>
 <p>vasos</p>	 <p>vasos</p>	<p>vasos</p>
<p>10 platos</p>	<p>2 platos</p>	<p>platos</p>
 <p>paletas</p>	 <p>paletas</p>	<p>paletas</p>

"Contar y comparar números hasta 50."

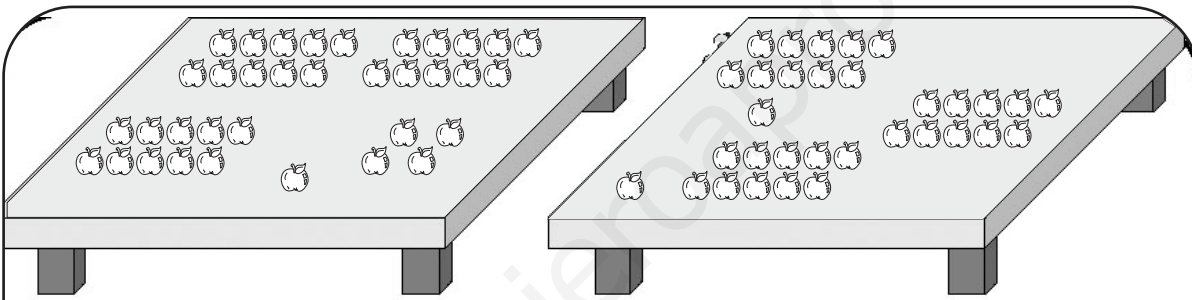


¡Hola!, ¿Cuál es tu nombre? Curso:

..... Fecha:

1) Usando tarjetas de 10 y 1 del mazo M, forma 45 manzanas.

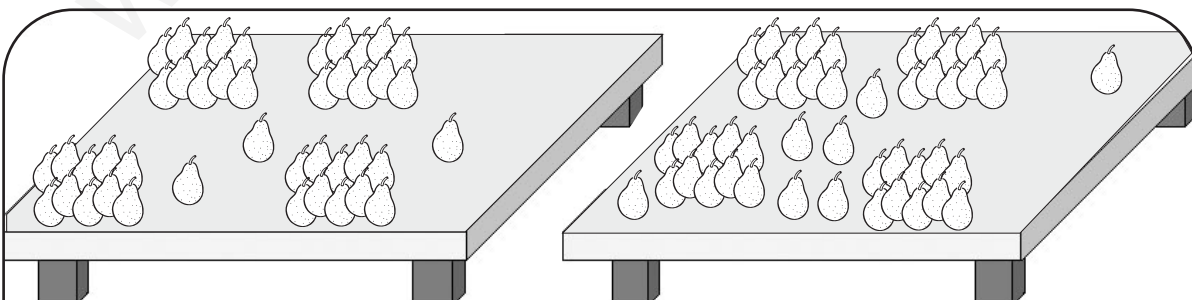
2) Escribe en los cuadros correspondientes la cantidad de manzanas que hay en cada mesa. Marca con una cruz la mesa donde hay **más** manzanas.



Hay	<input type="text"/>	manzanas
-----	----------------------	----------

Hay	<input type="text"/>	manzanas
-----	----------------------	----------

3) Escribe en los cuadros correspondientes la cantidad de peras que hay en cada mesa. Marca con una cruz la mesa donde hay **más** peras.

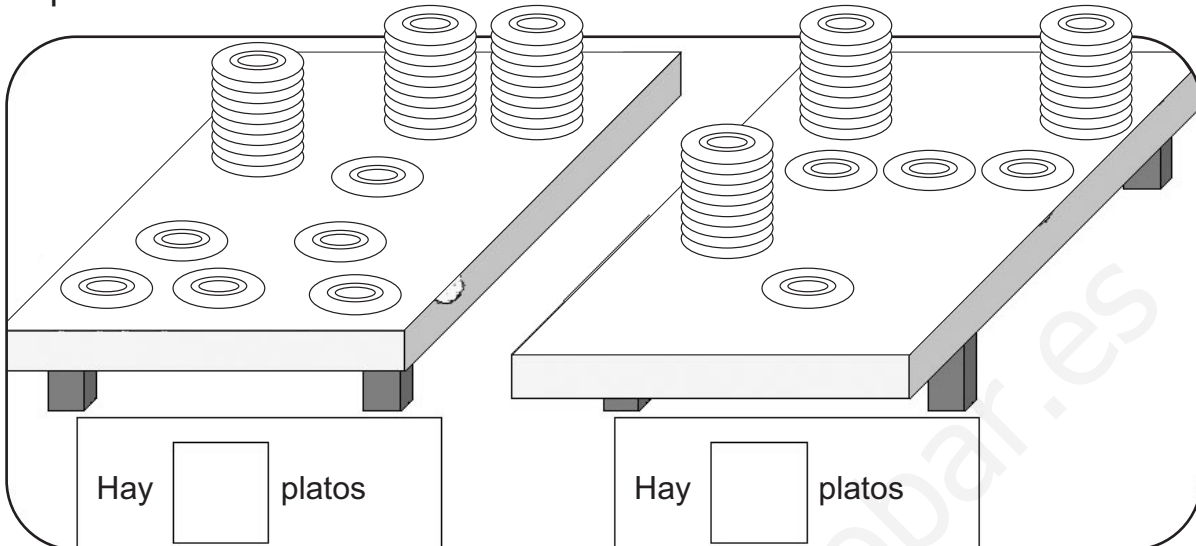


Hay	<input type="text"/>	peras
-----	----------------------	-------

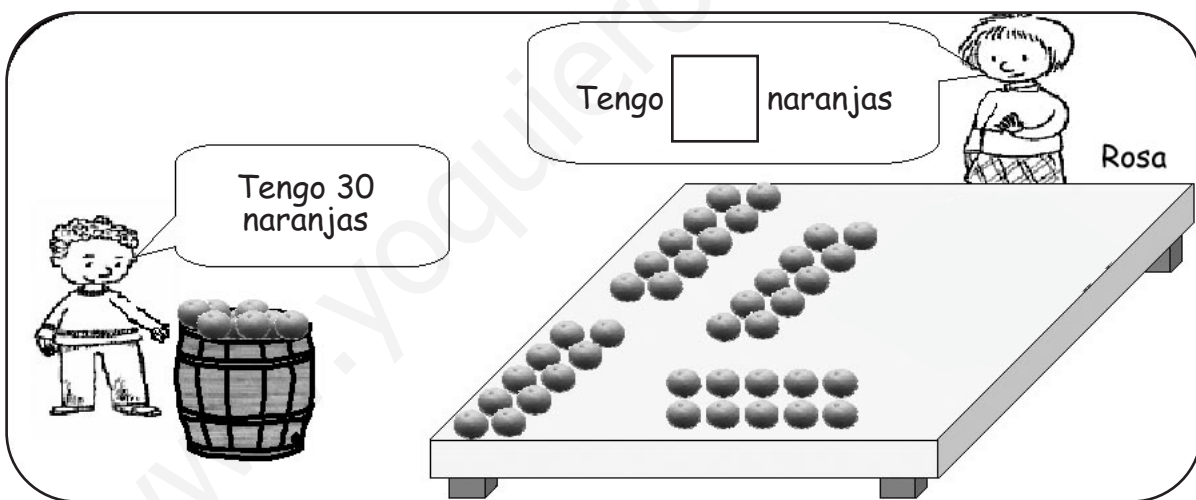
Hay	<input type="text"/>	peras
-----	----------------------	-------

"Contar y comparar números hasta 50."

4) Escribe en los cuadros correspondientes la cantidad de platos que hay en cada mesa. Marca con una cruz la mesa donde hay **más** platos.



5) Escribe la cantidad de naranjas que tiene Rosa en el cuadro correspondiente. Marca con una cruz el niño que tiene **más** naranjas.



6) Ordena de menos a mayor los siguientes números.

28, 40, 36, 23, 45

7) En cada caso pinta el recuadro del número mayor.

23 **32**

34 **43**