

EL EURO

Ejercicios

$$10\text{€} + 5\text{€} = 15\text{€}$$



FICHAS DE ACTIVIDADES VARIADAS DE €UROS:

MONEDAS

BILLETES

ORDENAR

CLASIFICAR

BUSCAR

SUMAR

RESTAR

PROBLEMAS

COMPRAR

COMPARAR

OTROS

FICHA 1 - MONEDAS

Nombre:

Ejercicio: monedas de Euro

Fecha:

1.- Recuerda, ¿cuántas monedas de euro hay?. ¿Qué valor tienen?.
Dibújalas.

2.- Completa con las monedas que faltan para llegar a 6 €





3.- Dibuja las siguientes monedas de euro.

- 1 moneda de 1€
- 2 monedas de 1 €
- 1 moneda de 2 €
- 2 monedas de 2 €
- 1 moneda de 1 € y dos de 2 €
- 2 monedas de 1 € y dos de 2 €

1.- Fíjate en lo siguiente:



Completa tú las siguientes



FICHA 3 – MONEDAS

Nombre:

Ejercicios: monedas de Euro

Fecha:

1.- Une con flechas las monedas con el valor que corresponda.



2 €

1 €

4 €

3 €

FICHA 4 – MONEDAS

Nombre:

Ejercicios: monedas de Euro

Fecha:

1.- Ordena de menor a mayor las siguientes cantidades de euro.

12 euros 20 euros 8 euros 19 euros 0 euros
 , , , ,

2.- Escribe el anterior y el posterior.

..... 12 € 6 € 30 €
 11 € 21 € 15 €
 9 € 3 € 45 €
 2 € 9 € 25 €

3.- Dibuja tres objetos que te gusten y ponle el precio en €

FICHA 5 – MONEDAS

Nombre:

Ejercicios: monedas de céntimo de Euro

Fecha:

1.- Recuerda, ¿cuántas monedas de céntimo de euro hay?. ¿Qué valor tienen?. Dibújalas.

2.- Completa con las monedas que faltan para llegar a 0,30 €



3.- Dibuja las siguientes monedas de céntimo de euro.

- 1 moneda de 0,05
- 2 monedas de 0,10
- 1 moneda de 0,20
- 2 monedas de 0,50
- 1 moneda de 0,05 y dos de 0,20
- 2 monedas de 0,01 y dos de 0,02

FICHA 6 - MONEDAS

Nombre:


Ejercicios: monedas de céntimo de Euro

Fecha:

1.- Fíjate en lo siguiente:



Completa tú las siguientes



FICHA 7 - MONEDAS

Nombre: _____

Ejercicios: monedas de céntimo de Euro

Fecha: _____

1.- Une con flechas las monedas con el valor que corresponda.

0,01



0,10



0,02



0,05



0,20



0,50



0,15



0,03



0,70

FICHA 8 - MONEDAS	Nombre:
Ejercicios: monedas de céntimo de Euro	Fecha:

1.- Ordena de menor a mayor las siguientes cantidades de céntimo.

0,12 0,20 0,8 0,19 0,0
 , , , ,

2.- Escribe el anterior y el posterior.

..... 0,12 0,06 0,30
 0,11 0,21 0,15
 0,09 0,03 0,45
 0,02 0,09 0,25

3.- Dibuja tres objetos que te gusten y ponle el precio en céntimos.

FICHA 9 - MONEDAS

Nombre:

Ejercicios: monedas de Euro y céntimo de Euro

Fecha:

1.- Une con flechas las monedas con el valor que le corresponda.

0,50



0,20



2 €



1€



0,05



0,02

FICHA 10 - MONEDAS

Nombre:

Ejercicios: monedas de Euro y céntimo de Euro

Fecha:

1.- Une con flechas las monedas con el valor que le corresponda.



1,05 €



2,50 €



1,20 €



3,20 €



2,25 €



FICHA 1 - BILLETES	Nombre:
Ejercicios: billetes de Euro	Fecha:

1.- ¿Recuerdas cuántos billetes hay? Dibújalos poniendo su valor y color.

2.- Contesta:


- ¿Cuánto vale el billete más grande?
- El más pequeño vale
- ¿Cuánto vale el de color rojo?

FICHA 2 – BILLETES	Nombre:
Ejercicios: billetes de Euro	Fecha:

1.- Observa:



Completa tú los espacios en blanco



FICHA 3 – BILLETES

Nombre: _____

Ejercicios: billetes de Euro

Fecha: _____

1.- Une con flechas el billete con el valor que le corresponda:



10 €



100 €



5 €



200 €



20 €



50 €

FICHA 4 – BILLETES

Nombre:

Ejercicios: billetes de Euro y monedas

Fecha:

1.- Enrique quiere cambiar estas monedas para conseguir un billete. Rodea las monedas y únelas con los billetes que puede conseguir.



FICHA 5 – BILLETES

Nombre:

Ejercicios: billetes de Euro y monedas

Fecha:

1.- Braulio tiene este dinero. ¿Cuánto dinero tiene?



S: Braulio tiene

2.- Busca en una revista qué podrías comprar con este dinero. Pégalo y pon el precio.

Te sobra algo?

FICHA 1 – ORDENAR	Nombre:
Ejercicios: ordena por tamaño	Fecha:

1.- Ordena los siguientes billetes por tamaño, coloca debajo de cada uno el nº que le corresponda empezando por el más grande con un 1











FICHA 2 – ORDENAR	Nombre:
Ejercicios: ordenar de mayor a menor	Fecha:

1.- Ordena los siguientes billetes de mayor a menor, colocando un 1 en el de más valor.













2.- Escribe las cantidades de los billetes de mayor a menor

...../////

FICHA 3 – ORDENAR	Nombre:
Ejercicios: menor a mayor	Fecha:

1.- Busca en la revista 6 productos de limpieza, recórtalos con sus precios y pégalos aquí.

2.- Escribe los precios de los productos arriba recortados y ordénalos de menor a mayor

....., , , , ,

FICHA 4 - ORDENAR	Nombre:
Ejercicios: ordena de mayor a menor	Fecha:

1.- Busca en la revista 6 productos de aseo personal, recórtalos con sus precios y pégalos aquí.

2.- Escribe los precios de los productos arriba recortados y ordénalos de mayor a menor

....., , , , ,


FICHA 5 – ORDENAR

Nombre:

Ejercicios: ordena de mayor a menor

Fecha:

1.- Ordena los siguientes artículos de mayor a menor, por tamaño, ponle el precio que tú creas que vale cada uno.



.....

.....

.....

.....

1º 2º

3º 4º

Busca en revistas los precios de estos artículos y comprueba sus precios.

1º Vale

2º Vale

3º Vale

4º Vale

Ordénalos ahora de mayor a menor por precios

1º Vale

2º Vale

3º Vale


4º Vale

Contesta:

- Coinciden tus precios con los de la revista?
- Coinciden los precios con el tamaño de los artículos

FICHA 1 - CLASIFICAR	Nombre:
Ejercicios: iguales	Fecha:

1.- Coloca todas las monedas que sean iguales en la misma figura.



Contesta:

- Qué monedas has metido en el cuadrado?
- Qué monedas has metido en el círculo?
- En las dos figuras hay (igual, mas, menos) número de monedas.
- ¿Cuánto suman las monedas del cuadrado?
- ¿Cuánto suman las monedas del círculo?

FICHA 2 - CLASIFICAR

Nombre:

Ejercicios: iguales

Fecha:

1.- Dibuja al lado que billetes o monedas valen igual que las dibujadas.

Ejemplo:  y  es igual q 

Ahora tu:



.....



.....



.....



.....



.....



.....

FICHA 3 - CLASIFICAR

Nombre: _____

Ejercicios: mayor que

Fecha: _____

1.- Rodea los billetes y monedas mayores de 1 €



FICHA 4 – CLASIFICAR

Nombre:

Ejercicios: mas que/ menos que

Fecha:

1.- Busca en una revista un cd, patatas, mantequilla y una cafetera. Recórtalos con sus precios, pégalos y contesta las siguientes preguntas. Completa con "más que o menos que".

El C.D. vale que

Las patatas valen que

La mantequilla vale que

La cafetera vale que

FICHA 5 – CLASIFICAR	Nombre:
Ejercicios: menos que	Fecha:

1.- Busca 4 refrescos en una revista, recórtalos y pégalos aquí con sus precios.

Contesta:

El que menos vale de todos

..... vale menos que

Escribe los precios aquí debajo empezando por el que menos vale.

1.-

2.-

3.-

4.-

2.- Piensa y contesta con "menos que" donde corresponda

- Una coca cola vale un lápiz
- Un coche vale una bicicleta
- Un chicle vale un libro
- Una camisa un peine
- Un coche Una casa
- Una coca cola vale una fanta

FICHA 1 - BUSCAR	Nombre:
Ejercicios: Cosas que valgan 1 Euro o más	Fecha:

1.- Busca en las revistas artículos que valgan 1 € o más, recórtalos y pégalos aquí, escribe debajo el precio.

FICHA 2 - BUSCAR	Nombre:
Ejercicios: cosas que valgan menos de 1 Euro	Fecha:

1.- Busca en las revistas artículos que valgan menos de un 1 €, recórtalos y pégalos aquí, escribe debajo el precio.

FICHA 3 - BUSCAR	Nombre:
Ejercicios: busca cosas para pagar con billetes	Fecha:

1.- Busca en las revistas artículos que tengas que pagar con billetes, recórtalos y pégalos aquí, escribe debajo el precio.


FICHA 4 - BUSCAR

Nombre:

Ejercicios: discriminar

Fecha:

1.- Busca las monedas con las que puedes pagar el libro y rodéalas.



4,05 €



2.- Rodea los grupos de monedas que suman en total 0,20 euros.



FICHA 5 – BUSCAR	Nombre:
Ejercicios: cosas para pagar con billetes y monedas	Fecha:

1.- Coge la ficha 3, de la actividad de buscar, escribe el nombre de los artículos que has recortado, al lado el billete que entregarías para pagar.

FICHA 1 - SUMAR

Nombre:

Ejercicios: sumas de monedas de Euros sin llevada

Fecha:

1.- Realiza las siguientes sumas.

$$\begin{array}{r} 3 \\ + 2 \\ \hline \end{array}$$


$$\begin{array}{r} 5 \\ + 2 \\ \hline \end{array}$$


$$\begin{array}{r} 4 \\ + 1 \\ \hline \end{array}$$


$$\begin{array}{r} 2 \\ + 2 \\ \hline \end{array}$$


$$\begin{array}{r} 7 \\ + 2 \\ \hline \end{array}$$


$$\begin{array}{r} 3 \\ + 2 \\ \hline \end{array}$$


$$\begin{array}{r} 4 \\ + 4 \\ \hline \end{array}$$


FICHA 2 - SUMAR

Nombre:

Ejercicios: sumas

Fecha:

1.- Realiza las siguientes sumas

$$\begin{array}{r} 6 \text{ €} \\ + 3 \text{ €} \\ \hline \end{array}$$

$$\begin{array}{r} 6 \text{ €} \\ + 2 \text{ €} \\ \hline \end{array}$$

$$\begin{array}{r} 7 \text{ €} \\ + 1 \text{ €} \\ \hline \end{array}$$

$$\begin{array}{r} 3 \text{ €} \\ + 2 \text{ €} \\ \hline \end{array}$$

$$\begin{array}{r} 8 \text{ €} \\ + 1 \text{ €} \\ \hline \end{array}$$

$$\begin{array}{r} 4 \text{ €} \\ + 3 \text{ €} \\ \hline \end{array}$$

$$\begin{array}{r} 5 \text{ €} \\ + 4 \text{ €} \\ \hline \end{array}$$

$$\begin{array}{r} 7 \text{ €} \\ + 2 \text{ €} \\ \hline \end{array}$$

$$\begin{array}{r} 3 \text{ €} \\ + 3 \text{ €} \\ \hline \end{array}$$

$$\begin{array}{r} 3 \text{ €} \\ + 2 \text{ €} \\ \hline \end{array}$$

$$\begin{array}{r} 9 \text{ €} \\ + 1 \text{ €} \\ \hline \end{array}$$

$$\begin{array}{r} 8 \text{ €} \\ + 2 \text{ €} \\ \hline \end{array}$$

$$\begin{array}{r} 4 \text{ €} \\ + 0 \text{ €} \\ \hline \end{array}$$

$$\begin{array}{r} 5 \text{ €} \\ + 2 \text{ €} \\ \hline \end{array}$$

$$\begin{array}{r} 0 \text{ €} \\ + 1 \text{ €} \\ \hline \end{array}$$

$$\begin{array}{r} 4 \text{ €} \\ + 2 \text{ €} \\ \hline \end{array}$$

FICHA 3 - SUMAR

Nombre: _____

Ejercicios: sumas con llevada

Fecha: _____

$$\begin{array}{r} 65 \text{ €} \\ + 37 \text{ €} \\ \hline \end{array}$$

$$\begin{array}{r} 16 \text{ €} \\ + 24 \text{ €} \\ \hline \end{array}$$

$$\begin{array}{r} 73 \text{ €} \\ + 18 \text{ €} \\ \hline \end{array}$$

$$\begin{array}{r} 63 \text{ €} \\ + 42 \text{ €} \\ \hline \end{array}$$

$$\begin{array}{r} 95 \text{ €} \\ + 36 \text{ €} \\ \hline \end{array}$$

$$\begin{array}{r} 49 \text{ €} \\ + 43 \text{ €} \\ \hline \end{array}$$

$$\begin{array}{r} 87 \text{ €} \\ + 21 \text{ €} \\ \hline \end{array}$$

$$\begin{array}{r} 43 \text{ €} \\ + 25 \text{ €} \\ \hline \end{array}$$

$$\begin{array}{r} 66 \text{ €} \\ + 34 \text{ €} \\ \hline \end{array}$$

$$\begin{array}{r} 39 \text{ €} \\ + 25 \text{ €} \\ \hline \end{array}$$

$$\begin{array}{r} 74 \text{ €} \\ + 16 \text{ €} \\ \hline \end{array}$$

$$\begin{array}{r} 33 \text{ €} \\ + 77 \text{ €} \\ \hline \end{array}$$

$$\begin{array}{r} 189 \text{ €} \\ + 23 \text{ €} \\ \hline \end{array}$$

$$\begin{array}{r} 653 \text{ €} \\ + 247 \text{ €} \\ \hline \end{array}$$

$$\begin{array}{r} 727 \text{ €} \\ + 194 \text{ €} \\ \hline \end{array}$$

$$\begin{array}{r} 325 \text{ €} \\ + 276 \text{ €} \\ \hline \end{array}$$

$$\begin{array}{r} 852 \text{ €} \\ + 69 \text{ €} \\ \hline \end{array}$$

$$\begin{array}{r} 789 \text{ €} \\ + 254 \text{ €} \\ \hline \end{array}$$

$$\begin{array}{r} 237 \text{ €} \\ + 173 \text{ €} \\ \hline \end{array}$$

$$\begin{array}{r} 358 \text{ €} \\ + 267 \text{ €} \\ \hline \end{array}$$

FICHA 4 - SUMAR

Nombre:

Ejercicios: suma de monedas con llevada

Fecha:

$$\begin{array}{r} 652\text{€} \\ + 358\text{€} \\ \hline \end{array}$$

$$\begin{array}{r} 786\text{€} \\ + 342\text{€} \\ \hline \end{array}$$

$$\begin{array}{r} 957\text{€} \\ + 143\text{€} \\ \hline \end{array}$$

$$\begin{array}{r} 773\text{€} \\ + 277\text{€} \\ \hline \end{array}$$

$$\begin{array}{r} 842\text{€} \\ + 684\text{€} \\ \hline \end{array}$$

$$\begin{array}{r} 147\text{€} \\ + 86\text{€} \\ \hline \end{array}$$

$$\begin{array}{r} 258\text{€} \\ + 951\text{€} \\ \hline \end{array}$$

$$\begin{array}{r} 321\text{€} \\ + 789\text{€} \\ \hline \end{array}$$

$$\begin{array}{r} 753\text{€} \\ + 354\text{€} \\ \hline \end{array}$$

$$\begin{array}{r} 357\text{€} \\ + 64\text{€} \\ \hline \end{array}$$

$$\begin{array}{r} 456\text{€} \\ + 406\text{€} \\ \hline \end{array}$$

$$\begin{array}{r} 368\text{€} \\ + 25\text{€} \\ \hline \end{array}$$

$$\begin{array}{r} 937\text{€} \\ + 203\text{€} \\ \hline \end{array}$$

$$\begin{array}{r} 642\text{€} \\ + 259\text{€} \\ \hline \end{array}$$

$$\begin{array}{r} 727\text{€} \\ + 148\text{€} \\ \hline \end{array}$$

$$\begin{array}{r} 309\text{€} \\ + 292\text{€} \\ \hline \end{array}$$

$$\begin{array}{r} 384\text{€} \\ + 366\text{€} \\ \hline \end{array}$$

$$\begin{array}{r} 515\text{€} \\ + 296\text{€} \\ \hline \end{array}$$

$$\begin{array}{r} 758\text{€} \\ + 162\text{€} \\ \hline \end{array}$$

$$\begin{array}{r} 763\text{€} \\ + 257\text{€} \\ \hline \end{array}$$

FICHA 5 - SUMAR

Nombre:

Ejercicios: sumas de céntimos

Fecha:

$$\begin{array}{r} 0,6 \text{ €} \\ +0,3 \text{ €} \\ \hline \end{array}$$

$$\begin{array}{r} 0,4 \text{ €} \\ + 0,2 \text{ €} \\ \hline \end{array}$$

$$\begin{array}{r} 0,27 \text{ €} \\ + 0,15 \text{ €} \\ \hline \end{array}$$

$$\begin{array}{r} 0,53 \text{ €} \\ + 0,42 \text{ €} \\ \hline \end{array}$$

$$\begin{array}{r} 0,5 \text{ €} \\ +0,3 \text{ €} \\ \hline \end{array}$$

$$\begin{array}{r} 0,76 \text{ €} \\ + 0,02 \text{ €} \\ \hline \end{array}$$

$$\begin{array}{r} 0,17 \text{ €} \\ + 0,51 \text{ €} \\ \hline \end{array}$$

$$\begin{array}{r} 0,3 \text{ €} \\ + 0,2 \text{ €} \\ \hline \end{array}$$

$$\begin{array}{r} 0,1 \text{ €} \\ +0,5 \text{ €} \\ \hline \end{array}$$

$$\begin{array}{r} 0,06 \text{ €} \\ + 0,52 \text{ €} \\ \hline \end{array}$$

$$\begin{array}{r} 0,47 \text{ €} \\ + 0,16 \text{ €} \\ \hline \end{array}$$

$$\begin{array}{r} 0,34 \text{ €} \\ + 0,22 \text{ €} \\ \hline \end{array}$$

$$\begin{array}{r} 0,25 \text{ €} \\ +0,13 \text{ €} \\ \hline \end{array}$$

$$\begin{array}{r} 0,66 \text{ €} \\ + 0,22 \text{ €} \\ \hline \end{array}$$

$$\begin{array}{r} 0,07 \text{ €} \\ + 0,95 \text{ €} \\ \hline \end{array}$$

$$\begin{array}{r} 0,43 \text{ €} \\ + 0,02 \text{ €} \\ \hline \end{array}$$

$$\begin{array}{r} 0,31 \text{ €} \\ +0,33 \text{ €} \\ \hline \end{array}$$

$$\begin{array}{r} 0,79 \text{ €} \\ +0,12 \text{ €} \\ \hline \end{array}$$

$$\begin{array}{r} 0,00 \text{ €} \\ + 0,01 \text{ €} \\ \hline \end{array}$$

$$\begin{array}{r} 0,9 \text{ €} \\ + 0,2 \text{ €} \\ \hline \end{array}$$

FICHA 1 – RESTAR

Nombre:

Ejercicios: resta de monedas de Euro sin llevada

Fecha:

$$\begin{array}{r} 6 \text{ €} \\ - 3 \text{ €} \\ \hline \end{array}$$

$$\begin{array}{r} 6 \text{ €} \\ - 2 \text{ €} \\ \hline \end{array}$$

$$\begin{array}{r} 7 \text{ €} \\ - 1 \text{ €} \\ \hline \end{array}$$

$$\begin{array}{r} 3 \text{ €} \\ - 2 \text{ €} \\ \hline \end{array}$$

$$\begin{array}{r} 5 \text{ €} \\ - 3 \text{ €} \\ \hline \end{array}$$

$$\begin{array}{r} 4 \text{ €} \\ - 2 \text{ €} \\ \hline \end{array}$$

$$\begin{array}{r} 6 \text{ €} \\ - 1 \text{ €} \\ \hline \end{array}$$

$$\begin{array}{r} 2 \text{ €} \\ - 2 \text{ €} \\ \hline \end{array}$$

$$\begin{array}{r} 6 \text{ €} \\ - 4 \text{ €} \\ \hline \end{array}$$

$$\begin{array}{r} 6 \text{ €} \\ - 5 \text{ €} \\ \hline \end{array}$$

$$\begin{array}{r} 7 \text{ €} \\ - 6 \text{ €} \\ \hline \end{array}$$

$$\begin{array}{r} 3 \text{ €} \\ - 1 \text{ €} \\ \hline \end{array}$$

$$\begin{array}{r} 5 \text{ €} \\ - 2 \text{ €} \\ \hline \end{array}$$

$$\begin{array}{r} 5 \text{ €} \\ - 1 \text{ €} \\ \hline \end{array}$$

$$\begin{array}{r} 6 \text{ €} \\ - 0 \text{ €} \\ \hline \end{array}$$

$$\begin{array}{r} 8 \text{ €} \\ - 4 \text{ €} \\ \hline \end{array}$$

$$\begin{array}{r} 8 \text{ €} \\ - 5 \text{ €} \\ \hline \end{array}$$

$$\begin{array}{r} 7 \text{ €} \\ - 4 \text{ €} \\ \hline \end{array}$$

$$\begin{array}{r} 9 \text{ €} \\ - 6 \text{ €} \\ \hline \end{array}$$

$$\begin{array}{r} 8 \text{ €} \\ - 2 \text{ €} \\ \hline \end{array}$$

FICHA 2 - RESTAR

Nombre:

Ejercicios: resta de monedas de Euro sin llevada

Fecha:

$$\begin{array}{r} 62 \text{ €} \\ - 31 \text{ €} \\ \hline \end{array}$$

$$\begin{array}{r} 36 \text{ €} \\ - 24 \text{ €} \\ \hline \end{array}$$

$$\begin{array}{r} 72 \text{ €} \\ - 11 \text{ €} \\ \hline \end{array}$$

$$\begin{array}{r} 43 \text{ €} \\ - 42 \text{ €} \\ \hline \end{array}$$

$$\begin{array}{r} 673 \text{ €} \\ - 352 \text{ €} \\ \hline \end{array}$$

$$\begin{array}{r} 987 \text{ €} \\ - 254 \text{ €} \\ \hline \end{array}$$

$$\begin{array}{r} 278 \text{ €} \\ - 126 \text{ €} \\ \hline \end{array}$$

$$\begin{array}{r} 733 \text{ €} \\ - 632 \text{ €} \\ \hline \end{array}$$

$$\begin{array}{r} 789 \text{ €} \\ - 456 \text{ €} \\ \hline \end{array}$$

$$\begin{array}{r} 654 \text{ €} \\ - 322 \text{ €} \\ \hline \end{array}$$

$$\begin{array}{r} 987 \text{ €} \\ - 654 \text{ €} \\ \hline \end{array}$$

$$\begin{array}{r} 363 \text{ €} \\ - 252 \text{ €} \\ \hline \end{array}$$

$$\begin{array}{r} 359 \text{ €} \\ - 159 \text{ €} \\ \hline \end{array}$$

$$\begin{array}{r} 759 \text{ €} \\ - 426 \text{ €} \\ \hline \end{array}$$

$$\begin{array}{r} 768 \text{ €} \\ - 157 \text{ €} \\ \hline \end{array}$$

$$\begin{array}{r} 312 \text{ €} \\ - 312 \text{ €} \\ \hline \end{array}$$

$$\begin{array}{r} 6673 \text{ €} \\ - 3212 \text{ €} \\ \hline \end{array}$$

$$\begin{array}{r} 789654 \text{ €} \\ - 456321 \text{ €} \\ \hline \end{array}$$

FICHA 3 - RESTAR

Nombre:

Ejercicios: resta de monedas de Euro con llevada

Fecha:

$$\begin{array}{r} 65 \text{ €} \\ - 36 \text{ €} \\ \hline \end{array}$$

$$\begin{array}{r} 63 \text{ €} \\ - 24 \text{ €} \\ \hline \end{array}$$

$$\begin{array}{r} 72 \text{ €} \\ - 13 \text{ €} \\ \hline \end{array}$$

$$\begin{array}{r} 31 \text{ €} \\ - 22 \text{ €} \\ \hline \end{array}$$

$$\begin{array}{r} 30 \text{ €} \\ - 21 \text{ €} \\ \hline \end{array}$$

$$\begin{array}{r} 62 \text{ €} \\ - 34 \text{ €} \\ \hline \end{array}$$

$$\begin{array}{r} 34 \text{ €} \\ - 25 \text{ €} \\ \hline \end{array}$$

$$\begin{array}{r} 51 \text{ €} \\ - 42 \text{ €} \\ \hline \end{array}$$

$$\begin{array}{r} 64 \text{ €} \\ - 32 \text{ €} \\ \hline \end{array}$$

$$\begin{array}{r} 21 \text{ €} \\ - 12 \text{ €} \\ \hline \end{array}$$

$$\begin{array}{r} 87 \text{ €} \\ - 79 \text{ €} \\ \hline \end{array}$$

$$\begin{array}{r} 93 \text{ €} \\ - 82 \text{ €} \\ \hline \end{array}$$

$$\begin{array}{r} 64 \text{ €} \\ - 53 \text{ €} \\ \hline \end{array}$$

$$\begin{array}{r} 91 \text{ €} \\ - 92 \text{ €} \\ \hline \end{array}$$

$$\begin{array}{r} 76 \text{ €} \\ - 58 \text{ €} \\ \hline \end{array}$$

$$\begin{array}{r} 31 \text{ €} \\ - 22 \text{ €} \\ \hline \end{array}$$

$$\begin{array}{r} 6673 \text{ €} \\ - 2785 \text{ €} \\ \hline \end{array}$$

FICHA 1 - PROBLEMAS

Nombre:

Ejercicios: problemas sumas sin llevadas

Fecha:

1.- Julia tiene en su hucha 25 céntimos. El fin de semana le dará su madre 60 céntimos. ¿Cuánto dinero tendrá Julia?

2.- Daniel tiene 50 céntimos. Quiere comprar un chicle por 5 céntimos, una bolsa de pipas por 20 céntimos y una gominola por 4 céntimos. ¿Cuánto gastará? ¿Cuánto dinero le sobraré?

3.- Me he comprado un pantalón por 43 € y una camiseta por 36 €. ¿Cuánto me ha costado toda la compra?

FICHA 2 - PROBLEMAS

Nombre:

Ejercicios: problemas sumas con llevada

Fecha:

1.- Una bolsa de caramelos vale 37 céntimos y una de gusanitos vale 15 céntimos. ¿Cuánto hay que pagar por las dos bolsas?

2.- Un televisor vale 350 € y un frigorífico 474 €. ¿Cuánto cuestan las dos cosas juntas?

3.- El padre de Jorge ha comprado unos pantalones por 28 euros y unas zapatillas de deporte por 25 euros. ¿Cuánto dinero se ha gastado?

FICHA 3 - PROBLEMAS

Nombre:

Ejercicios: problemas restas sin llevada

Fecha:

1.- Lola tenía 12 céntimos. Su dinero se ha mezclado con el de José. Sepáralo tu rodeándolo de distinto color. ¿Cuánto dinero tiene José?



S: José tiene céntimos

2.- Ana ha comprado patatas fritas por 1 € y caramelos por 2 €. Rodea las monedas que se ha gastado Ana. ¿Cuánto le ha sobrado?



S: Le ha sobrado €


FICHA 4 - PROBLEMAS

Nombre:

Ejercicios: problemas restas

Fecha:

1.- Rodea el dinero que necesitas para comprar la bicicleta.



49 €



FICHA 5 - PROBLEMAS

Nombre: _____

Ejercicios: problemas de céntimos y €

Fecha: _____

1.- Lola está haciendo una colección de monedas. Y tiene todas estas. ¿Cuánto dinero tiene en total?



S: Tiene céntimos.

2.- He comprado una caja de cola cao que me ha costado 2,05 €, un paquete de pan de molde 3,2 € y mantequilla 1,50 €. ¿Cuánto me ha costado la compra?

FICHA 1 - COMPRAR	Nombre:
Ejercicios: de compras	Fecha:

1.- Coge una revista, y señala los productos que te gustaría comprar. Recórtalos y pégalos debajo, escribe al lado el precio del producto.

2.- De los productos que has comprado, en la actividad anterior.....

El que más me gusta es y vale

El más caro es, vale

El más barato es, vale

NOTA: los que no saben escribir, se los lee el maestro/a, ellos/as los recortan y los pegan,

FICHA 2 - COMPRAR	Nombre:
Ejercicios: compras para una merienda	Fecha:

1.- Vamos a preparar una merienda. Invita a tus 3 mejores amigos. Haz la lista de lo que vas a comprar.

.....
.....
.....
.....
.....

Busca y recorta los productos que quieres comprar
y los pegas aquí con sus precios.
(los que no saben escribir, pasan directamente a esta parte de la actividad)

1.- De los productos comprados para la merienda, contesta:

- **¿Cuál es el más caro? vale**
- **¿Cuál es el más barato? vale**
- **¿Hay algunos que valgan lo mismo?**
- **Escoge los tres productos que más te gustan:**
.....; **y**
- * **¿Cuánto te cuestan los tres?**
- * **¿Cuánto te cuesta toda la compra?**
- * **Si pagas con un billete de 200 €, te falta o te devuelven dinero?**
.....
- * **¿Cuánto te devuelven?.....**

Para hacer las operaciones

FICHA 3 - COMPRAR	Nombre:
Ejercicios: productos de aseo personal	Fecha:

1.- Haz la lista de los productos de aseo que necesitas y que vas a comprar.

.....
.....
.....
.....
.....

Busca y recorta los productos que quieres comprar y los pegas aquí con sus precios.
(los que no saben escribir, pasan directamente a esta parte de la actividad)

www.yoquieroaprobar.es

1.- De los productos comprados, contesta:

- **¿Cuál es el más caro? vale**
- **¿Cuál es el más barato? vale**
- **¿Hay algunos que valgan lo mismo?**
- **Escoge los tres productos que más te gustan:**
.....; **y**
- * **¿Cuánto te cuestan los tres?**
- * **¿Cuánto te cuesta toda la compra?**
- * **¿Cuántos billetes necesitas para pagar?.....**
- * **¿Cuánto te devuelven?.....**

Para hacer las operaciones

FICHA 4 - COMPRAR	Nombre:
Ejercicios: ropa	Fecha:

1.- Para cambiar de temporada necesitamos ropa nueva. Vamos a salir a comprar. Escribe que ropa necesitas para esta nueva temporada.

.....
.....
.....
.....
.....

Busca y recorta los productos que quieres comprar y los pegas aquí con sus precios.
(los que no saben escribir, pasan directamente a esta parte de la actividad)

1.- De las prendas compradas, contesta:

- **¿Cuál es la más cara? vale**
- **¿Cuál es la más barata? vale**
- **¿Hay algunas que valgan lo mismo?**
- **Escoge las tres prendas que más te gustan:**
.....; **y**
- * **¿Cuánto te cuestan las tres?**
- * **¿Cuánto te cuesta toda la ropa?**
- * **En el monedero llevas: 1 billete de 200 €, 1 de 100 €, 3 de 10 €, 6 monedas de 2 € y 4 monedas de 0,50 €. ¿cuánto dinero llevas?**
- * **¿Te falta? ¿Cuánto te devuelven?.....**

Para hacer las operaciones

FICHA 5 - COMPRAR	Nombre:
Ejercicios: regalos	Fecha:

1.- Es el cumpleaños de una amiga y de tu hermana. Escribe el regalo que le compras a cada una, búscalo en una revista, recórtalo y pégalo con sus precios.

- 1.- regalo de hermana.....**
- 2.- regalo de amiga**

Busca y recorta los regalos que quieres comprar
y los pegas aquí con sus precios.
(los que no saben escribir, pasan directamente a esta parte de la actividad)

1.- De los regalos comprados, contesta:

- **¿Cuál es el más caro? vale**
 - **¿Cuál es el más barato? vale**
 - **¿Cuánto vale más uno que el otro?**
 - **¿Cuánto te cuesta toda la compra?**
 - **¿Qué dinero necesitas para pagar el precio exacto?**
-

Para hacer las operaciones

FICHA 1 - COMPARAR

Nombre:


Ejercicios: mayor que

Fecha:

1.- Rodea las monedas mayores de 10 céntimos.



2.- Rodea las monedas mayores de 2 céntimos.



3.- Rodea los grupos de monedas mayores de 20 céntimos.



FICHA 2 - COMPARAR

Nombre:

Ejercicios: menor que

Fecha:

1.- Rodea de azul todas las monedas menores de 50 céntimos



2.- ¿Qué monedas has rodeado menores de 50 céntimos?. Escríbelas a continuación.

3.- Dibuja las monedas menores de 2 €

FICHA 3 – COMPARAR	Nombre:
Ejercicios: igual que	Fecha:

1.- Une con flechas los siguientes precios iguales. Rodea el más barato.

21,05 €	21 euro y 5 céntimos	25,06 €
	6 euros y 56 céntimos	
41.05 €	25 euros y 6 céntimos	6,56 €
	41 euros y 5 céntimos	

2.- Observa estas dos mesitas con sus precios y contesta:

1		2	
49 €			49 €

- ¿Podemos decir que la mesita 1 es más grande que la mesita 2?
- ¿Podemos decir que la mesita 1 es más pequeña que la mesita 2?
- Entonces, ¿cómo son?
- ¿Cuánto vale cada una? Una vale Y la otra
- Entonces las dos valen
- La mesita 1 y la mesita 2 son Y valen


FICHA 4 – COMPARAR

Nombre: _____

Ejercicios de monedas de céntimo de Euro

Fecha: _____

1.- Compara los recuadros de la izquierda con los de la derecha y contesta.



- ¿Cuántas monedas hay en el recuadro naranja de arriba?
- ¿Cuántas monedas hay en el recuadro naranja de abajo?
- ¿Cuántas monedas hay en el recuadro verde de arriba?
- ¿Y en la parte de abajo?
- ¿Qué recuadro tiene más monedas de todos?
- ¿Es el que más vale?
- ¿Qué recuadro tiene menos monedas de todos?
- ¿Es el que más vale?
- Cada uno de los cuadros vale por lo tanto todos los cuadros son

FICHA 5 - ESTIMAR

Nombre:

Ejercicios: monedas

Fecha:

1.- Dibuja al lado de cada grupo de monedas qué cosas podrías comprar con ellas.



FICHA 1 - VARIOS

Nombre:

Ejercicios de monedas de Euro

Fecha:

1.- Rodea las monedas por las que puedes cambiar este billete.



2.- Rodea las monedas que necesitas para pagar cada cosa.



5 €



0,59 €

FICHA 2 - VARIOS

Nombre:

Ejercicios: problemas de monedas

Fecha:

1.- Pilar llevaba en su monedero 78 céntimos. Ha sacado una moneda y ahora tiene 68 céntimos. ¿Cuántos céntimos ha sacado? Dibuja la moneda que ha sacado.

2.- Carlota tenía 59 euros. Ha gastado 7 euros en un regalo. ¿Cuántos euros le quedan?

3.- Pepe tenía en su cartera 59 euros. Después Esther le ha pagado 15 euros que le debía. ¿Cuántos euros tiene Pepe ahora?

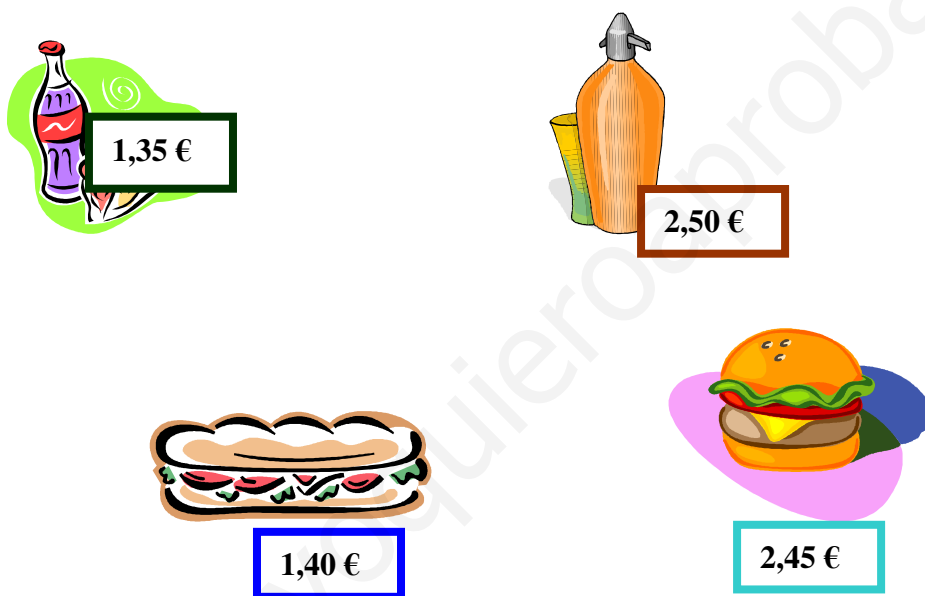
3.- A Raúl le ha dado su madre 15 céntimos y su padre 27 céntimos para que los guarde en el monedero. ¿Cuánto dinero ha guardado Raúl?

Exprésalo en €

FICHA 3 - VARIOS	Nombre:
Ejercicios: de monedas de céntimo de Euro	Fecha:

1.- Maite tiene una moneda de 20 céntimos. Para comprar un álbum de fotos necesita 5 céntimos más. ¿Cuánto vale el álbum de fotos?

2.- Rebeca ha ido al cine y ha elegido el refresco y las palomitas más baratas. Rodea lo que ha elegido.



- ¿Qué ha elegido?
- ¿Cuánto le han costado las dos cosas?
- Si entrega un billete de 5 €. ¿Le devuelven dinero?
- ¿Cuánto?