


 Completa.

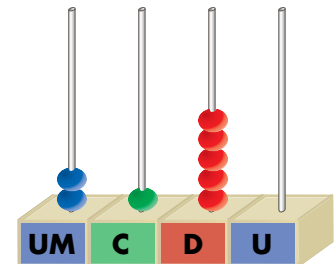
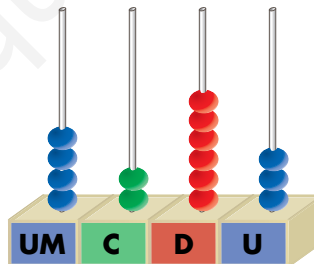
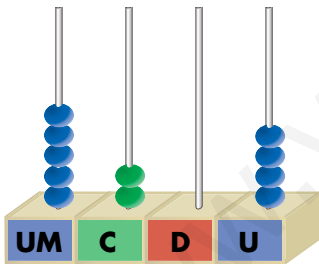
NÚMERO ANTERIOR	NÚMERO	NÚMERO POSTERIOR
	2 600	
1 888		
		3 020
	8 000	

 Escribe el mayor y el menor número de 4 cifras que se pueden formar con estas cifras:

3
4
6
5

Número mayor → Número menor →

 Escribe con cifras y con letras los números representados.




→ _____

→ _____

→ _____

 Completa.

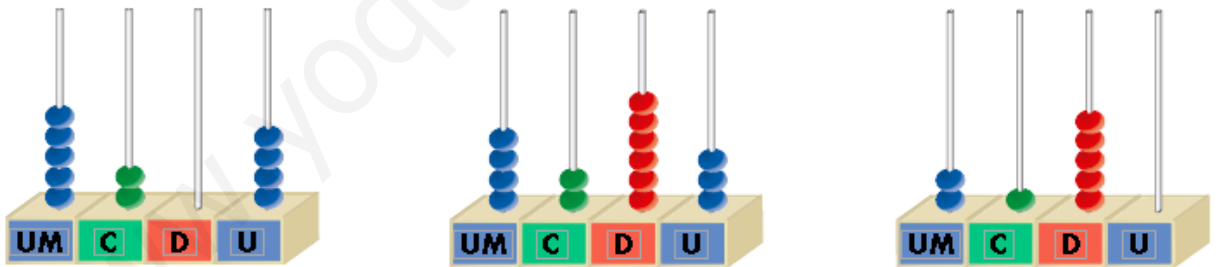
NÚMERO ANTERIOR	NÚMERO	NÚMERO POSTERIOR
2599	2600	2601
1888	1889	1890
3018	3019	3020
7999	8000	8001

 Escribe el mayor y el menor número de 4 cifras que se pueden formar con estas cifras:

3 4 6 5

Número mayor → 6543 Número menor → 3456

 Escribe con cifras y con letras los números representados.



5204 → Cinco mil doscientos cuatro

4263 → Cuatro mil doscientos sesenta y tres

2150 → Dos mil ciento cincuenta

 Descompón estos números como en el ejemplo:

$$5342 \begin{cases} \boxed{5} \text{ UM} + \boxed{3} \text{ C} + \boxed{4} \text{ D} + \boxed{2} \text{ U} \\ \boxed{5000} + \boxed{300} + \boxed{40} + \boxed{2} \end{cases}$$


$$1702 \begin{cases} \boxed{} \text{ UM} + \boxed{} \text{ C} + \boxed{} \text{ D} + \boxed{} \text{ U} \\ \boxed{} + \boxed{} + \boxed{} + \boxed{} \end{cases}$$

$$8961 \begin{cases} \boxed{} \text{ UM} + \boxed{} \text{ C} + \boxed{} \text{ D} + \boxed{} \text{ U} \\ \boxed{} + \boxed{} + \boxed{} + \boxed{} \end{cases}$$

 Escribe el número anterior y posterior a 1 000.

Número anterior \rightarrow

Número posterior \rightarrow

 Completa con los signos $>$, $<$ o $=$.

$$4\ 657 \quad \bigcirc \quad 4\ 000 + 600 + 50 + 7$$

$$6\ 432 \quad \bigcirc \quad 6\ 000 + 300 + 60 + 7$$

$$3\ 169 \quad \bigcirc \quad 3\ 691$$

$$2\ 974 \quad \bigcirc \quad 2\ 749$$

$$1\ 793 \quad \bigcirc \quad 7\ 931$$

$$7\ 034 \quad \bigcirc \quad 7\ 043$$

$$5\ 760 \quad \bigcirc \quad 5\ 706$$

$$1\ 569 \quad \bigcirc \quad 1\ 569$$

 Descompón estos números como en el ejemplo:

$$5342 \begin{cases} \boxed{5} \text{ UM} + \boxed{3} \text{ C} + \boxed{4} \text{ D} + \boxed{2} \text{ U} \\ \boxed{5000} + \boxed{300} + \boxed{40} + \boxed{2} \end{cases}$$


$$1702 \begin{cases} \boxed{1} \text{ UM} + \boxed{7} \text{ C} + \boxed{0} \text{ D} + \boxed{2} \text{ U} \\ \boxed{1000} + \boxed{700} + \boxed{0} + \boxed{2} \end{cases}$$

$$8961 \begin{cases} \boxed{8} \text{ UM} + \boxed{9} \text{ C} + \boxed{6} \text{ D} + \boxed{1} \text{ U} \\ \boxed{8000} + \boxed{900} + \boxed{60} + \boxed{1} \end{cases}$$

 Escribe el número anterior y posterior a 1 000.

Número anterior \rightarrow $\boxed{999}$

Número posterior \rightarrow $\boxed{1001}$

 Completa con los signos $>$, $<$ o $=$.

$$4657 \quad \boxed{=} \quad 4000 + 600 + 50 + 7$$

$$6432 \quad \boxed{>} \quad 6000 + 300 + 60 + 7$$

$$3169 \quad \boxed{<} \quad 3691$$

$$2974 \quad \boxed{>} \quad 2749$$

$$1793 \quad \boxed{<} \quad 7931$$

$$7034 \quad \boxed{<} \quad 7043$$

$$5760 \quad \boxed{>} \quad 5706$$

$$1569 \quad \boxed{=} \quad 1569$$