


# PRIMER TRIMESTRE

## Unidad 1. Lengua


**AR**

Nombre y apellidos: .....


Curso: ..... Fecha: .....

 Completa el abecedario.

a	-	b	-		-	d	-		-		-	
h	-		-	j	-		-	l	-	m	-	
	-	o	-	r	-		-	r	-		-	t
u	-		-		-		-	y	-		-	.


 Escribe los nombres de los dibujos.

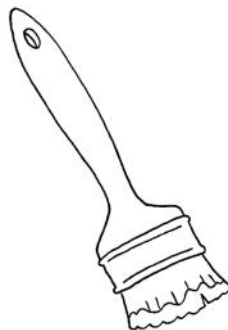












# PRIMER TRIMESTRE

## Unidad 1. Matemáticas

**AR**

Nombre y apellidos: .....

Curso: ..... Fecha: .....

 Une según corresponda.

$$8 \text{ D} + 4 \text{ U}$$

$$37$$

$$50 + 0$$

$$6 \text{ D} + 5 \text{ U}$$

$$65$$

$$30 + 7$$

$$3 \text{ D} + 7 \text{ U}$$

$$50$$

$$80 + 4$$

 Ordena y completa con los signos.

DE MENOR A MAYOR

DE MAYOR A MENOR

36

45

21


69

56

65

○  ○

○  ○

 Escribe el número anterior y el posterior.

← 77 →

← 17 →

← 46 →

← 29 →

← 43 →

← 50 →

 Calcula e indica los términos de las operaciones.

$$\begin{array}{r} 53 \\ + 23 \\ \hline \end{array}$$

$$\begin{array}{r} 96 \\ - 54 \\ \hline \end{array}$$

# PRIMER TRIMESTRE

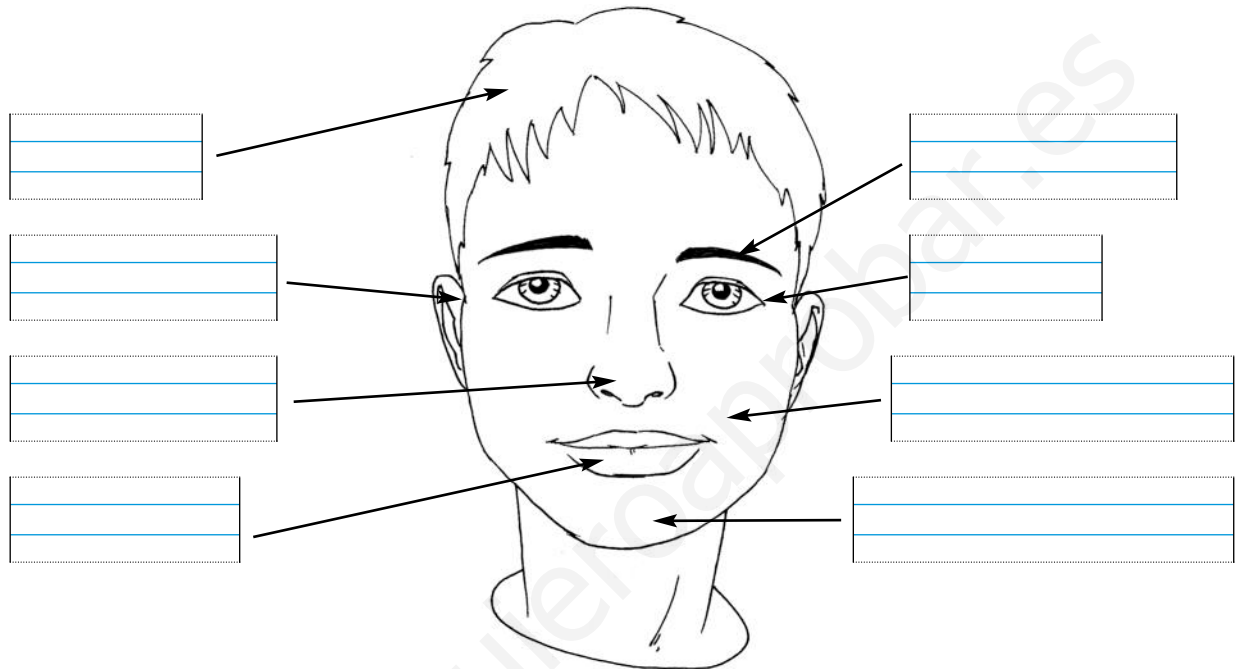
## Unidad 1. Conocimiento del Medio


AR

Nombre y apellidos: .....

Curso: ..... Fecha: .....

 Escribe los nombres de las partes de la cara.



 Une y subraya así:

partes de la cabeza → azul

partes del tronco → rojo

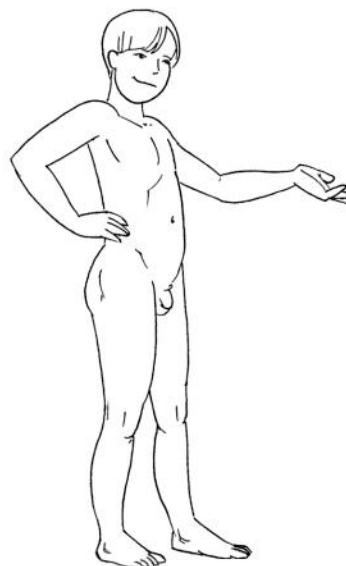
extremidades → amarillo

cara

nalga

pie

espalda



pecho

muslo

mano

abdomen

# PRIMER TRIMESTRE


## Unidad 2. Lengua

AR

Nombre y apellidos: .....


Curso: ..... Fecha: .....

Busca en el recuadro las palabras sinónimas de las que te damos y escríbelas debajo.



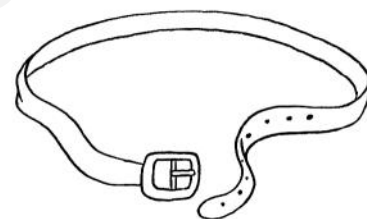
rojo

.....  
.....



frágil

.....  
.....



fino

.....  
.....

Escribe sustituyendo los dibujos por palabras.

La  se ha roto.

.....  
.....

El  es rojo.

.....  
.....

# PRIMER TRIMESTRE

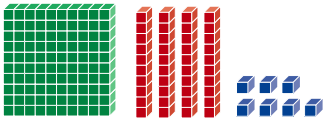
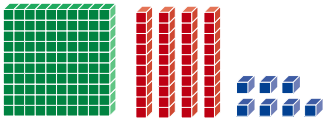
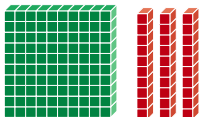

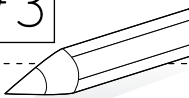
## Unidad 2. Matemáticas


AR

Nombre y apellidos: .....

Curso: ..... Fecha: .....


 Completa.

		
<div style="border: 1px solid black; padding: 5px; width: 60px; margin: 0 auto;">108</div>	<div style="border: 1px solid black; width: 60px; height: 30px; margin: 0 auto;"></div>	<div style="border: 1px solid black; padding: 5px; width: 60px; margin: 0 auto;">173</div>
		
<div style="border: 1px solid black; width: 60px; height: 30px; margin: 0 auto;"></div>	<div style="border: 1px solid black; width: 60px; height: 30px; margin: 0 auto;"></div>	<div style="border: 1px solid black; padding: 5px; width: 60px; margin: 0 auto;">116</div>

 Realiza y contesta.

El mayor más el menor.

El menor más el mayor.





¿Cómo son los resultados?

---



---

¿Por qué?

---



---

# PRIMER TRIMESTRE






## Unidad 2. Conocimiento del Medio

**AR**

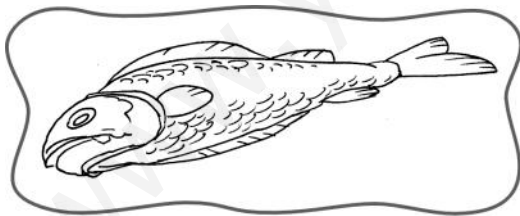
Nombre y apellidos: .....

Curso: ..... Fecha: .....

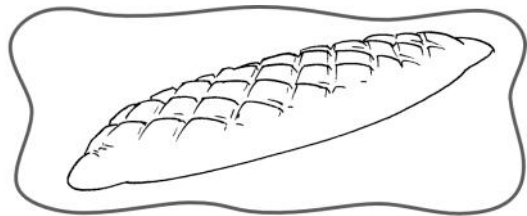
Señala donde corresponda.

					
FRUTAS Y VERDURAS					
CARNES Y PESCADOS					
PAN, PASTAS Y LEGUMBRES					


Escribe dónde se vende cada alimento.



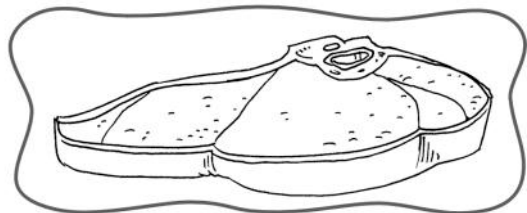
.....  
.....



.....  
.....



.....  
.....




.....  
.....

**PRIMER TRIMESTRE**  
**Unidad 3. Lengua**

**AR**

Nombre y apellidos: .....

Curso: ..... Fecha: .....

 Completa con **gr** o **gl**.

ale \_\_\_ ar

\_\_\_ ifo

\_\_\_ acias

arre \_\_\_ ar


\_\_\_ obo

\_\_\_ itar

\_\_\_ orieta

\_\_\_ acioso

re \_\_\_ a

 Completa con signos de interrogación o de admiración.

\_\_\_ ¿Dónde están las llaves \_\_\_

\_\_\_ ¿Qué frío hace \_\_\_

\_\_\_ ¿Preparamos ya la comida \_\_\_

\_\_\_ ¿Me ayudas un momento \_\_\_

\_\_\_ ¿Por fin, las encontré \_\_\_

 Escribe el principio de un cuento que te guste.

.....  
.....  
.....

.....  
.....  
.....

.....  
.....  
.....

.....  
.....  
.....

.....  
.....  
.....

# PRIMER TRIMESTRE

## Unidad 3. Matemáticas

AR

Nombre y apellidos: .....

Curso: ..... Fecha: .....

 Dibuja.

 <p>235</p>	<p>263</p>	<p>218</p> 
--	------------	--

 Suma.

$\begin{array}{r} 88 \\ + 24 \\ \hline \end{array}$	$\begin{array}{r} 72 \\ + 69 \\ \hline \end{array}$	$\begin{array}{r} 55 \\ + 93 \\ \hline \end{array}$	$\begin{array}{r} 29 \\ + 88 \\ \hline \end{array}$	$\begin{array}{r} 57 \\ + 73 \\ \hline \end{array}$	$\begin{array}{r} 46 \\ + 58 \\ \hline \end{array}$
<input style="width: 50px; height: 30px;" type="text"/>	<input style="width: 50px; height: 30px;" type="text"/>	<input style="width: 50px; height: 30px;" type="text"/>	<input style="width: 50px; height: 30px;" type="text"/>	<input style="width: 50px; height: 30px;" type="text"/>	<input style="width: 50px; height: 30px;" type="text"/>

 Completa.

$\begin{array}{r} 7 \rightarrow \square \\ 6 \rightarrow \square \\ + 4 \rightarrow \square \\ \hline \end{array}$	$\begin{array}{r} 7 \rightarrow \square \\ 6 \rightarrow \square \\ + 4 \rightarrow \square \\ \hline \end{array}$		$\begin{array}{r} 9 \rightarrow \square \\ 1 \rightarrow \square \\ + 3 \rightarrow \square \\ \hline \end{array}$	$\begin{array}{r} 9 \rightarrow \square \\ 1 \rightarrow \square \\ + 3 \rightarrow \square \\ \hline \end{array}$
<input style="width: 50px; height: 30px;" type="text"/>	<input style="width: 50px; height: 30px;" type="text"/>		<input style="width: 50px; height: 30px;" type="text"/>	<input style="width: 50px; height: 30px;" type="text"/>

 Colorea la medida más aproximada:

tu estuche	→	<input style="width: 100px; height: 30px;" type="text" value="8 palmos"/>	<input style="width: 100px; height: 30px;" type="text" value="4 palmos"/>	<input style="width: 100px; height: 30px;" type="text" value="2 palmos"/>
tu mesa	→	<input style="width: 100px; height: 30px;" type="text" value="3 palmos"/>	<input style="width: 100px; height: 30px;" type="text" value="1 palmo"/>	<input style="width: 100px; height: 30px;" type="text" value="15 palmos"/>
el ancho de la clase	→	<input style="width: 100px; height: 30px;" type="text" value="12 pies"/>	<input style="width: 100px; height: 30px;" type="text" value="30 pies"/>	<input style="width: 100px; height: 30px;" type="text" value="120 pies"/>



**PRIMER TRIMESTRE**  
**Unidad 3. Conocimiento del Medio**

**AR**

Nombre y apellidos: .....

Curso: ..... Fecha: .....

📶 Completa las frases con las siguientes palabras.

ventre – domésticos – mamíferos – vertebrados – vivíparos

Los animales que maman cuando nacen se


llaman . Estos animales

tienen huesos, son .

Nacen del  de la madre,

son .

📶 Escribe los nombres de las partes de esta ave:




**PRIMER TRIMESTRE**  
**Unidad 4. Lengua**

**AR**

Nombre y apellidos: .....

Curso: ..... Fecha: .....

 Completa con **pr** o **pl**:

\_\_\_ uma                      \_\_\_ ofesora                      \_\_\_ umero  
\_\_\_ ismáticos                      ex \_\_\_ anada                      \_\_\_ emio  
\_\_\_ eferida                      \_\_\_ ato                      ex \_\_\_ icación

 Escribe un nombre de cada tipo.

Nombre común de persona

.....  
.....  
.....

Nombre propio de persona

.....  
.....  
.....

Nombre común de lugar

.....  
.....  
.....

Nombre propio de lugar

.....  
.....  
.....

 Elige a uno de los personajes y escribe su descripción.



.....  
.....  
.....

.....  
.....  
.....


# PRIMER TRIMESTRE

## Unidad 4. Matemáticas

AR

Nombre y apellidos: .....

Curso: ..... Fecha: .....

 Une y ordena.

Tengo 4 decenas menos que 391

368

Tengo 2 unidades más que 378

380

Tengo 1 centena más que 217

349

Soy el número anterior a 350

351

Soy el número posterior a 299

300

Soy el anterior a 369

317

<  <  <  <  <

 Realiza las operaciones correctas y tacha las incorrectas.

Minuendo: 93

Sustraendo: 56


Minuendo: 75

Sustraendo: 86


Minuendo: 19

Sustraendo: 7


**PRIMER TRIMESTRE**  
**Unidad 4. Conocimiento del Medio**

**AR**

Nombre y apellidos: .....

Curso: ..... Fecha: .....

 Completa las frases con estas palabras:

sobrino – prima – primo – madre – padre – tío – tía

Mis abuelos son los padres de mi

o de mi .

Mi prima es hermana de mi .

La hermana de mi madre es mi .

El hermano de mi padre es mi .

La hija de mis tíos es mi .

Mi primo es el  de mis padres.

 Rodea lo correcto.

La fachada es la pared 

exterior
interior

 de una casa.

La azotea está 

en la entrada
en lo alto

 del edificio.

El portal está 

en la entrada
en lo alto

 del edificio.

En una casa unifamiliar vive 

una
muchas

 familia.

# PRIMER TRIMESTRE


## Unidad 5. Lengua

AR

Nombre y apellidos: .....

Curso: ..... Fecha: .....

 Escribe los nombres de estos dibujos donde corresponda:



fr

fl

.....  
.....  
.....


.....  
.....  
.....

.....  
.....  
.....

.....  
.....  
.....

.....  
.....  
.....

.....  
.....  
.....

 Escribe las oraciones cambiando la palabra destacada por su aumentativo.

Allí hay un **árbol**.

.....  
.....

Utilizo la **cuchara**.

.....  
.....

# PRIMER TRIMESTRE

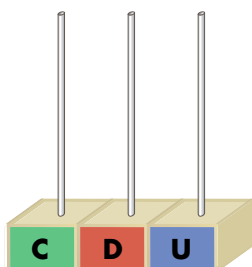
## Unidad 5. Matemáticas

**AR**

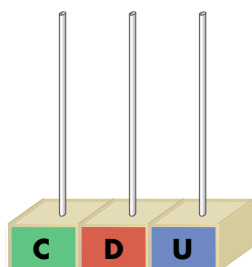
Nombre y apellidos: .....

Curso: ..... Fecha: .....

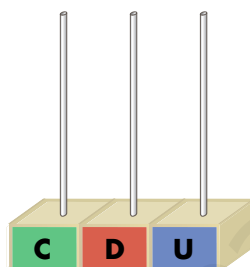
 Completa.



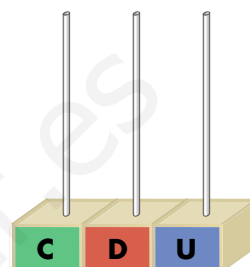
434



450



489



401

 Calcula.

	4	4	7			2	5	6			3	7	8			4	3	9
-	2	6	3		-	1	7	2		-	1	8	1		-	3	5	6

 Colorea las camisetas según el código:

8.º → rojo

5.º → verde

3.º → amarillo

7.º → morado


10.º → azul

1.º → rosa

4.º → naranja

2.º → marrón

9.º → negro



# PRIMER TRIMESTRE


## Unidad 5. Conocimiento del Medio

AR

Nombre y apellidos: .....

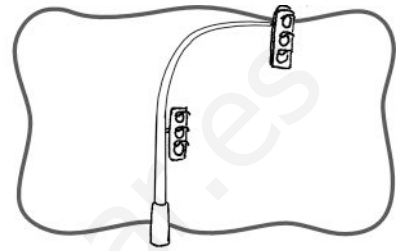
Curso: ..... Fecha: .....

Relaciona cada objeto con su función y escribe su nombre.




ECHAR  
CARTAS

.....  
.....



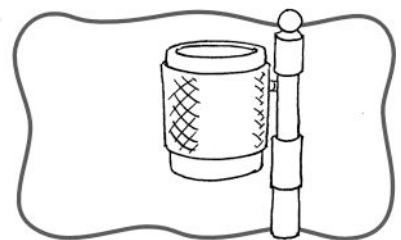
TIRAR  
PAPELES

.....  
.....



CONTROLAR  
EL TRÁFICO

.....  
.....



ILUMINAR LA  
CALLE

.....  
.....

Rodea de azul lo que puedes ver en una calle y de rojo lo que está bajo el suelo.

