

## Límites y continuidad

1. (1p) Dada la gráfica de la función  $f(x)$ :

a. (0.5p) Determina:

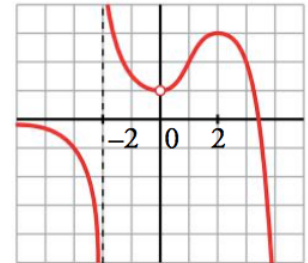
$$f(-2) =$$

$$\lim_{x \rightarrow -2^-} f(x) =$$

$$\lim_{x \rightarrow -2^+} f(x) =$$

$$\lim_{x \rightarrow -\infty} f(x) =$$

$$\lim_{x \rightarrow +\infty} f(x) =$$



b. (0.5) Estudia la continuidad de  $f(x)$  en  $x = 0$ .

2. (1p) Dada la gráfica de la función  $f(x)$ :

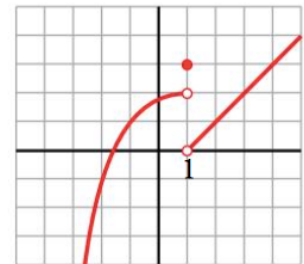
a. (0.5p) Determina:

$$f(1) =$$

$$\lim_{x \rightarrow +\infty} f(x) =$$

$$\lim_{x \rightarrow -\infty} f(x) =$$

$$\lim_{x \rightarrow 1} f(x) =$$



b. (0.5p) Estudia la continuidad de  $f(x)$  en  $x = 1$ .

3. (6p) Calcula los siguientes límites:

a.  $\lim_{x \rightarrow -2} \frac{x - 2}{x^2 + 2x}$

b.  $\lim_{x \rightarrow 1} \frac{-2x}{(x - 1)^2}$

c.  $\lim_{x \rightarrow -\infty} [2^x + 1]$

d.  $\lim_{x \rightarrow +\infty} \left(\frac{1}{3}\right)^{1-x}$

e.  $\lim_{x \rightarrow 1} \frac{x^2 - 1}{x^3 - x^2}$

f.  $\lim_{x \rightarrow -5} \frac{x^2 - 25}{x^2 + 3x - 10}$

g.  $\lim_{x \rightarrow -1} \frac{x^2 + x}{x^3 + 1}$

**h.**  $\lim_{x \rightarrow +\infty} \frac{\sqrt{9x^2 - 4x + 16}}{1 - 2x}$

**3. (1p)** Estudia la continuidad de la siguiente función, clasificando las discontinuidades cuando las haya:

$$f(x) = \begin{cases} \frac{1}{x-1} & \text{si } x < 1 \\ 3x-5 & \text{si } 1 \leq x < 4 \\ 2^x-9 & \text{si } x \geq 4 \end{cases}$$

4. (1p) Calcula el valor de  $k$  para que la siguiente función sea continua en todo su dominio:

$$f(x) = \begin{cases} \frac{2x^3 + 4x^2}{x + 2} & \text{si } x \neq -2 \\ 2k + x & \text{si } x = -2 \end{cases}$$

## SOLUCIÓN

1. Dada la gráfica de la función  $f(x)$ , calcula:

a.  $f(-2)$ ,  $\lim_{x \rightarrow -2^-} f(x)$ ,  $\lim_{x \rightarrow -2^+} f(x)$ ,  $\lim_{x \rightarrow -\infty} f(x)$ ,  $\lim_{x \rightarrow +\infty} f(x)$

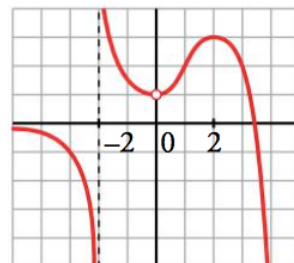
$$f(-2) = \nexists$$

$$\lim_{x \rightarrow -2^-} f(x) = -\infty$$

$$\lim_{x \rightarrow -2^+} f(x) = +\infty$$

$$\lim_{x \rightarrow -\infty} f(x) = 0$$

$$\lim_{x \rightarrow +\infty} f(x) = -\infty$$



b. Estudia la continuidad de  $f(x)$  en  $x = 0$ .

Se estudian los límites laterales y el valor de la función en  $x = 0$ :

$$\lim_{x \rightarrow 0^-} f(x) = 1$$

$$\lim_{x \rightarrow 0^+} f(x) = 1$$

$$f(0) = \nexists$$

Como  $\lim_{x \rightarrow 0^-} f(x) = \lim_{x \rightarrow 0^+} f(x) \neq f(0) \rightarrow$  **Discontinuidad evitable de salto finito**

2. Dada la gráfica de la función  $f(x)$ , calcula:

a.  $f(1)$ ,  $\lim_{x \rightarrow 1} f(x)$ ,  $\lim_{x \rightarrow +\infty} f(x)$ ,  $\lim_{x \rightarrow -\infty} f(x)$

$$f(1) = 3$$

Para calcular el límite en  $x = 1$  se estudian los límites laterales

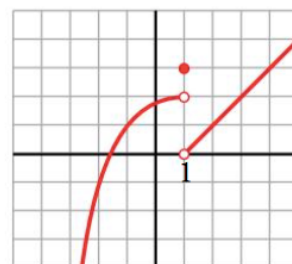
$$\lim_{x \rightarrow 1^-} f(x) = 2$$

$$\lim_{x \rightarrow 1^+} f(x) = 0$$

Como  $\lim_{x \rightarrow 1^-} f(x) \neq \lim_{x \rightarrow 1^+} f(x) \rightarrow \lim_{x \rightarrow 1} f(x) = \nexists$

$$\lim_{x \rightarrow +\infty} f(x) = +\infty$$

$$\lim_{x \rightarrow -\infty} f(x) = -\infty$$



b. Estudia la continuidad de  $f(x)$  en  $x = 1$ .

Como  $\lim_{x \rightarrow 1^-} f(x) = 2 \neq \lim_{x \rightarrow 1^+} f(x) = 0 \rightarrow$  **Discontinuidad inevitable de salto finito**

3. Calcula los siguientes límites:

a.  $\lim_{x \rightarrow -2} \frac{x - 2}{x^2 + 2x}$

$$\lim_{x \rightarrow -2} \frac{x - 2}{x^2 + 2x} = \frac{-4}{0}$$

Se han de calcular los límites laterales:

$$\lim_{x \rightarrow -2^-} \frac{x - 2}{x^2 + 2x} = \frac{-4}{0^+} = -\infty$$

$$\lim_{x \rightarrow -2^+} \frac{x - 2}{x^2 + 2x} = \frac{-4}{0^-} = +\infty$$

b.  $\lim_{x \rightarrow 1} \frac{-2x}{(x - 1)^2}$

$$\lim_{x \rightarrow 1} \frac{-2x}{(x - 1)^2} = \frac{-2}{0}$$

Se han de calcular los límites laterales:

$$\lim_{x \rightarrow 1^-} \frac{-2x}{(x - 1)^2} = \frac{-2}{0^+} = -\infty$$

$$\lim_{x \rightarrow 1^+} \frac{-2x}{(x - 1)^2} = \frac{-2}{0^+} = -\infty$$

c.  $\lim_{x \rightarrow -\infty} [2^x + 1]$

$$\lim_{x \rightarrow -\infty} [2^x + 1] = 2^{-\infty} + 1 = \frac{1}{2^{+\infty}} + 1 = \frac{1}{+\infty} + 1 = 0 + 1 = 1$$

d.  $\lim_{x \rightarrow +\infty} \left(\frac{1}{3}\right)^{1-x}$

$$\lim_{x \rightarrow +\infty} \left(\frac{1}{3}\right)^{1-x} = \left(\frac{1}{3}\right)^{1-\infty} = \left(\frac{1}{3}\right)^{-\infty} = 3^{+\infty} = +\infty$$

e.  $\lim_{x \rightarrow 1} \frac{x^2 - 1}{x^3 - x^2}$

$$\lim_{x \rightarrow 1} \frac{(x-1)(x+1)}{x^2(x-1)} = \lim_{x \rightarrow 1} \frac{x+1}{x^2} = \frac{1+1}{1^2} = 2$$

f.  $\lim_{x \rightarrow -5} \frac{x^2 - 25}{x^2 + 3x - 10}$

$$\lim_{x \rightarrow -5} \frac{x^2 - 25}{x^2 + 3x - 10} = \frac{0}{0} \rightarrow \text{Indeterminación}$$

Se factorizan los polinomios del numerador y denominador:

$$x^2 + 3x - 10 = 0$$

$$x = \frac{-3 \pm \sqrt{3^2 - 4 \cdot 1 \cdot (-10)}}{2 \cdot 1} = \frac{-3 \pm \sqrt{9 + 40}}{2} = \frac{-3 \pm \sqrt{49}}{2} = \frac{-3 \pm 7}{2} =$$

$$x_1 = \frac{-3 + 7}{2} = \frac{4}{2} = 2$$

$$x_2 = \frac{-3 - 7}{2} = \frac{-10}{2} = -5$$

$$\lim_{x \rightarrow -5} \frac{(x-5)(x+5)}{(x-2)(x+5)} = \lim_{x \rightarrow -5} \frac{(x-5)(x+5)}{(x-2)(x+5)} = \lim_{x \rightarrow -5} \frac{x-5}{x-2} = \frac{-10}{-7} = \frac{10}{7}$$

g.  $\lim_{x \rightarrow -1} \frac{x^2 + x}{x^3 + 1}$

$$\lim_{x \rightarrow -1} \frac{x^2 + x}{x^3 + 1} = \frac{0}{0} \rightarrow \text{Indeterminación}$$

Se factorizan los polinomios del numerador y del denominador. En el caso del numerador, bastará sacar factor común. En el denominador se obtienen las raíces de la ecuación  $x^3 + 1 = 0$ :

	1	0	0	1
-1		-1	1	-1
	1	-1	1	0

Luego  $x_1 = -1$

Obtenemos las otras dos posibles raíces resolviendo la ecuación de segundo grado:



$$x^2 - x + 1 = 0$$

$$x = \frac{1 \pm \sqrt{(-1)^2 - 4 \cdot 1 \cdot 1}}{2 \cdot 1} = \frac{1 \pm \sqrt{1 - 4}}{2} = \nexists$$

$$\lim_{x \rightarrow -1} \frac{x(x+1)}{(x+1)(x^2 - x + 1)} = \lim_{x \rightarrow -1} \frac{x}{x^2 - x + 1} = \frac{-1}{1 + 1 + 1} = -\frac{1}{3}$$

**h.**  $\lim_{x \rightarrow +\infty} \frac{\sqrt{9x^2 - 4x + 16}}{1 - 2x}$

$$\lim_{x \rightarrow +\infty} \frac{\sqrt{9x^2 - 4x + 16}}{1 - 2x} = \frac{\infty}{\infty} \rightarrow \text{Indeterminación}$$

Tomando el término de mayor grado en el numerador y en el denominador:

$$\lim_{x \rightarrow -\infty} \frac{\sqrt{9x^2 - 4x + 16}}{1 - 2x} = \lim_{x \rightarrow +\infty} \frac{\sqrt{9x^2}}{-2x} = \lim_{x \rightarrow +\infty} \frac{3x}{-2x} = -\frac{3}{2}$$

**3.** Estudia la continuidad de la siguiente función, clasificando las discontinuidades cuando las haya:

$$f(x) = \begin{cases} \frac{1}{x-1} & \text{si } x < 1 \\ 3x - 5 & \text{si } 1 \leq x < 4 \\ 2^x - 9 & \text{si } x \geq 4 \end{cases}$$

Continuidad en  $x = 1$  :

$$\lim_{x \rightarrow 1^-} \frac{1}{x-1} = \frac{1}{0^-} = -\infty$$

$$\lim_{x \rightarrow 1^+} (3x - 5) = 3 - 5 = -2$$

$$f(1) = 3 - 5 = -2$$

Como  $\lim_{x \rightarrow 1^-} f(x) = -\infty \neq \lim_{x \rightarrow 1^+} f(x) = -2 \rightarrow$  **Discontinuidad inevitable de salto infinito en  $x = 1$**

Continuidad en  $x = 4$  :

$$\lim_{x \rightarrow 4^-} (3x - 5) = 12 - 5 = 7$$

$$\lim_{x \rightarrow 4^+} (2^x - 9) = 16 - 9 = 7$$

$$f(4) = 2^4 - 9 = 7$$

Como  $\lim_{x \rightarrow 4^-} f(x) = \lim_{x \rightarrow 4^+} f(x) = f(4) = 7 \rightarrow$  **Continua en  $x = 4$**

4. Calcula el valor de  $k$  para que la siguiente función sea continua en todo su dominio:

$$f(x) = \begin{cases} \frac{2x^3 + 4x^2}{x + 2} & \text{si } x \neq -2 \\ 2k + x & \text{si } x = -2 \end{cases}$$

En  $x = -2$ :

$$\lim_{x \rightarrow -2^-} \frac{2x^3 + 4x^2}{x + 2} = \frac{0}{0} = \lim_{x \rightarrow -2^-} \frac{2x^2(x + 2)}{x + 2} = \lim_{x \rightarrow -2^-} 2x^2 = 2 \cdot 4 = 8$$

$$\lim_{x \rightarrow -2^+} \frac{2x^3 + 4x^2}{x + 2} = 8$$

$$f(-2) = 2k - 2 = 2k - 2$$

Para que  $f(x)$  sea continua en  $x = -2$ :

$$\lim_{x \rightarrow -2^-} f(x) = \lim_{x \rightarrow -2^+} f(x) = f(-2) \rightarrow 8 = 2k - 2 \rightarrow 2k = 10 \rightarrow k = 5$$