

1.- Escribe seis plantas en cada columna:

árboles

arbustos

hierbas


2.- Escribe si estas oraciones son ciertas o falsas:

Todas las plantas son flores con árboles


Todos los arboles son plantas con flor

Todos los arbustos son plantas con flor

3.- Clasifica estas plantas si son plantas con flor o sin flor:




Musgo



Pino



Césped



Trigo



Helecho



Retama

1.- Escribe seis plantas en cada columna:

árboles

pino
abedul
olivo
castaño
naranja
limonero

arbustos

jara
rosal
retama
flor de pascua
romero
madroño

hierbas

diente de león
césped
trébol
margarita
grama
perejil


2.- Escribe si estas oraciones son ciertas o falsas:

Todas las plantas son flores con árboles (falso)
Todos los arboles son plantas con flor (verdadero)
Todos los arbustos son plantas con flor (verdadero)

3.- Clasifica estas plantas si son plantas con flor o sin flor:




Musgo sin flores



Pino con flores



Césped con flores



Trigo con flores



Helecho sin flores



Retama con flores