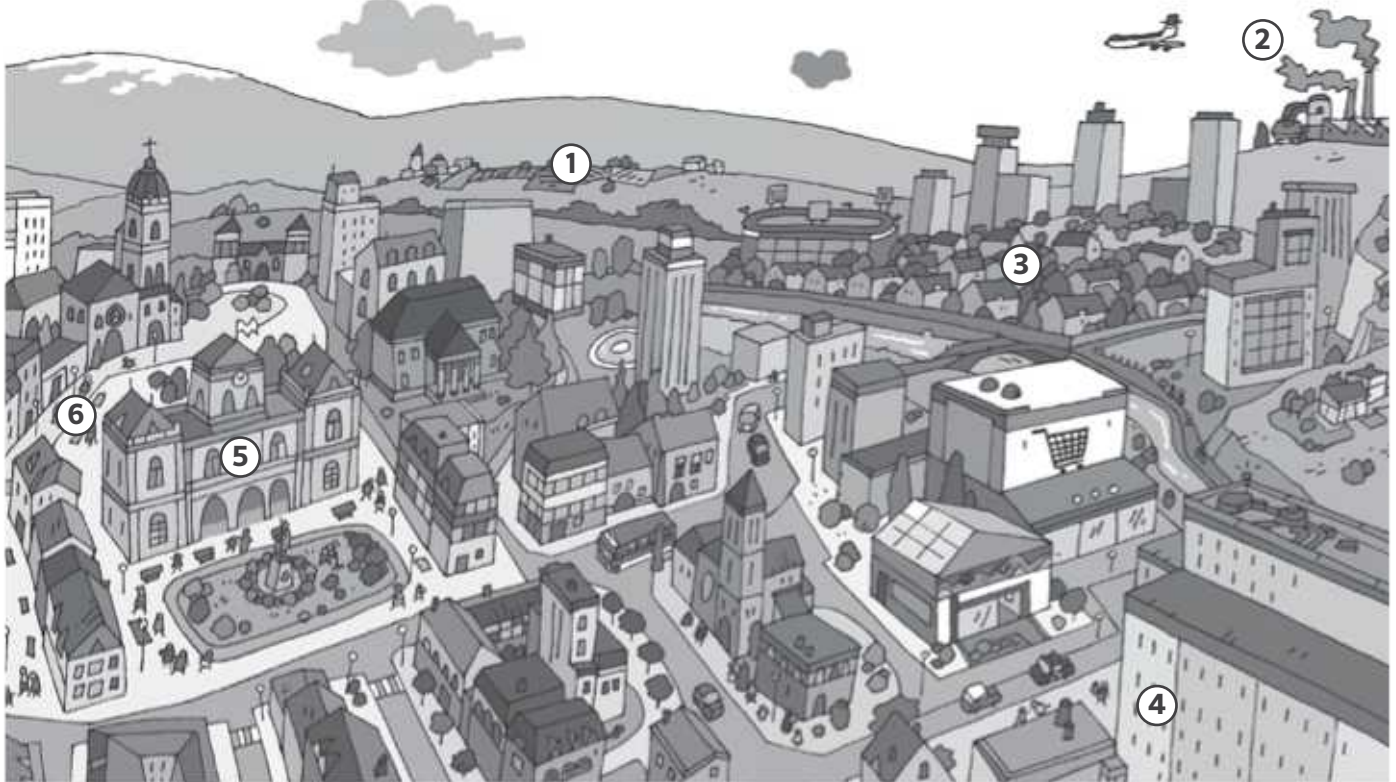


4 Indica el nombre de los distintos espacios de una localidad.



1 Z.....

2 Z.....

3 Z.....

4 E.....


5 A.....

6 C.....

5 Une cada término con su definición correspondiente.

- | | |
|---------------|--|
| MINERÍA ● | ● Obtención de cereales, fruta y verdura de las plantas. |
| PESCA ● | ● Captura en ríos y mares del pescado que comemos. |
| ARTESANÍA ● | ● Extracción de minerales de las minas. |
| AGRICULTURA ● | ● Elaboración de productos con las manos o máquinas sencillas. |

1 Indica cuál de los dos dibujos te parece de un pueblo y cuál de una ciudad.



.....

2 Sitúa en la tabla las características según sean de un pueblo o una ciudad.

PEQUEÑOS COMERCIOS, POCOS COCHES, MUCHOS HABITANTES, MUSEOS, OFICINAS
 GRANDES COMERCIOS, POCOS HABITANTES, AVENIDAS ANCHAS, CASAS BAJAS

PUEBLO	CIUDAD
.....
.....
.....
.....
.....

3 Marca con un tic (V) las acciones de buen ciudadano y con un aspa (X) las de mal ciudadano.

- Viajar en el coche sin el cinturón de seguridad
- Cruzar las calles por los pasos de peatones o semáforos
- Circular con bicicleta sin casco
- Buscar papeleras en las que depositar nuestros papeles

1 Sitúa correctamente los nombres de los barrios de una localidad.

A.....

Z.....
R.....

Z.....
I.....

C.....
A.....

E.....

Z.....
R.....

2 Señala si estas fotografías pertenecen a zonas residenciales, industriales o rurales.



1



2




3


1 Indica el nombre de las siguientes actividades.



943



942



941

.....

2 Sitúa en la celda correspondiente las siguientes actividades, dependiendo de si pertenecen al sector primario o secundario.

SECTOR PRIMARIO	SECTOR SECUNDARIO
.....
.....
.....
.....

AGRICULTURA GANADERÍA INDUSTRIA MINERÍA ARTESANÍA PESCA

3 Señala si las siguientes afirmaciones son verdaderas (V) o falsas (F).

- La agricultura de regadío se riega solo con la lluvia.
- Los mineros extraen minerales de las minas.
- En los talleres los obreros usan grandes máquinas.
- Las materias primas se transforman en productos elaborados en las fábricas.

Nuestros municipios forman parte de organizaciones superiores que son las comunidades autónomas. España está dividida en diecisiete comunidades autónomas. Cada una de ellas, tiene un gobierno propio que se encarga de organizar el funcionamiento de los hospitales, los colegios, los tribunales y otros aspectos.

1 Observa este mapa de las comunidades autónomas y contesta a las preguntas.



- a. ¿En qué comunidad autónoma vives?
 - b. ¿Es una comunidad costera o de interior?
 - c. Escribe el nombre de las comunidades autónomas que hacen frontera con la tuya
-
-