

GEOMETRÍA ANALÍTICA

- 1.- a) Expresa en forma paramétrica y continua la ecuación de la recta que es perpendicular a la recta s de ecuación $s: 5x - 2y + 12 = 0$ y pasa por el punto $B: (-2, 5)$.
- b) Halla la ecuación implícita de una recta paralela a $r: \begin{cases} x = 7 - 2t \\ y = -4 + 3t \end{cases}$, que pasa por el punto $M(1, -2)$
- 2.- Los puntos $A(0, -2)$, $B(1, 1)$, $C(5, 2)$ y $D(4, -1)$ son los vértices de un cuadrilátero. Obtén las ecuaciones de sus diagonales y su longitud. Indica de qué tipo de cuadrilátero se trata. (en caso de ser paralelogramo, de cuál se trata).
- 3.- Los vértices de un triángulo son $A(4,4)$, $B(1,-1)$ y $C(6,2)$.
- a) Demuestra que el triángulo ABC es isósceles.
- b) Calcula su área.
- 4.- Los puntos $A(1,5)$ y $B(6,0)$ son los vértices consecutivos de un rectángulo $ABCD$. El vértice C está en la bisectriz del cuarto cuadrante. Halla los vértices C y D .
- 5.- Un triángulo rectángulo en A tiene dos vértices en los puntos $A(1,3)$ y $B(3,0)$. El otro vértice está situado sobre la recta $y - 1 = 0$. Halla las coordenadas del tercer vértice.
- 6.- Calcula las coordenadas de D para que el cuadrilátero de vértices: $A(-1, -2)$, $B(4, -1)$, $C(5, 2)$ y D ; sea un paralelogramo.
- 7.- Determinar la ecuación de la recta s que pasando por $A(5,-2)$ forme 45° con la recta $r: 3x + 7y - 12 = 0$
- 8.- Determina la recta paralela a r que pasa por el punto simétrico de P respecto de la recta r .
- $r: 2x - 3y + 10 = 0$ $P(4, -7)$
9. a) Calcular la ecuación de la recta que pasa por el punto $A(2,1)$ y forma un ángulo de 120° con la parte positiva del eje x .
- b) ¿Qué ángulo forma la recta $x + y + 5 = 0$ con OX^+ ?
- 10.- Dibujar en unos ejes cartesianos el triángulo de vértices $A(2,0)$, $B(0,1)$ y $C(-3,-2)$, y hallar:
- a) La ecuación de la altura correspondiente al lado AC .
- b) La ecuación de la mediatriz correspondiente a AB .

Todos los procesos que conducen a resultados deben estar suficientemente justificados.

- Serán evaluados negativamente los errores de cálculo operacional básico así como aquellos que denoten errores conceptuales.
- Se valorará positivamente la exposición clara del proceso seguido utilizando el lenguaje formal propio de las Matemáticas.
- Los errores debidos a despistes no se tendrán en cuenta en la calificación, excepto si son reiterados o contradicen resultados teóricos básicos.

SOLUCIÓN GEOMETRÍA ANALÍTICA

1.- a) Expresa en forma paramétrica y continua la ecuación de la recta que es perpendicular a la recta s de ecuación $s: 5x - 2y + 12 = 0$ y pasa por el punto $B: (-2, 5)$.

b) Halla la ecuación implícita de una recta paralela a $r: \begin{cases} x = 7 - 2t \\ y = -4 + 3t \end{cases}$, que pasa por el punto $M(1, -2)$

a) Vector director de $s: \vec{u}_s = (2, 5) \rightarrow \vec{u} \perp \vec{u}_s \rightarrow \vec{u} = (5, -2)$

$$\text{Ecuaciones paramétricas: } \begin{cases} x = -2 + 5t \\ y = 5 - 2t \end{cases}$$

$$\text{Ecuación continua: } \frac{x+2}{5} = \frac{y-5}{-2}$$

b) Llamamos s a la recta paralela a r que pasa por M .

Al ser las dos rectas paralelas sus vectores directores son proporcionales.

El vector director de r es $\vec{u}(-2, 3)$, por tanto, podemos considerar como vector director de s $\vec{v}(-2, 3)$

Por tanto, s es la recta que pasa por M y tiene como vector director \vec{v} . Su ecuación continua es:

$$\frac{x-1}{-2} = \frac{y+2}{3} \rightarrow 3x - 3 = -2y - 4 \rightarrow 3x + 2y + 1 = 0$$

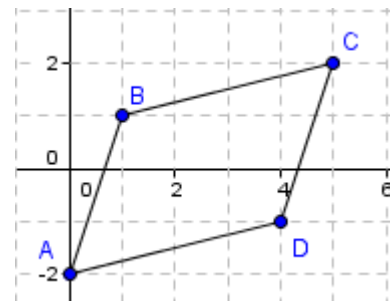
2. Los puntos $A(0, -2)$, $B(1, 1)$, $C(5, 2)$ y $D(4, -1)$ son los vértices de un cuadrilátero. Obtén las ecuaciones de sus diagonales y su longitud. Indica de qué tipo de cuadrilátero se trata.

- Ecuaciones de las diagonales:

Determinamos los vectores de dirección:

$$\overline{AC} = (5, 4) \rightarrow AC: \frac{x}{5} = \frac{y+2}{4} ; |\overline{AC}| = \sqrt{5^2 + 4^2} = \sqrt{41}$$

$$\overline{BD} = (3, -2) \rightarrow BD: \frac{x-1}{3} = \frac{y-1}{-2} ; |\overline{BD}| = \sqrt{3^2 + (-2)^2} = \sqrt{13}$$



- Longitudes de las diagonales:

$$\overline{AC} = (5, 4) \rightarrow |\overline{AC}| = \sqrt{5^2 + 4^2} = \sqrt{41}$$

$$\overline{BD} = (3, -2) \rightarrow |\overline{BD}| = \sqrt{3^2 + (-2)^2} = \sqrt{13}$$

- Estudiamos el paralelismo de los lados para determinar el tipo de cuadrilátero:

$$\overline{AB} = (1, 3) ; \overline{BC} = (4, 1) ; \overline{CD} = (-1, -3) ; \overline{DA} = (4, 1)$$

Los lados son paralelos 2 a 2 \rightarrow El cuadrilátero es un paralelogramo.

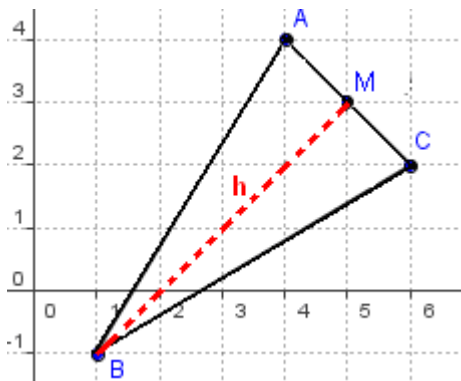
Las diagonales tienen distinta longitud \rightarrow Es un romboide o un rombo.

Las diagonales no son perpendiculares ya que $\overline{AC} \cdot \overline{BD} = 15 - 8 \neq 0 \rightarrow$ Es un romboide

3. Los vértices de un triángulo son $A(4,4)$, $B(1,-1)$ y $C(6,2)$.

a) Demuestra que el triángulo ABC es isósceles.

b) Calcula su área.



a) Demostremos que los lados AB y BC son iguales

$$\overline{BC} = (5, 3) \rightarrow |\overline{BC}| = \sqrt{5^2 + 3^2} = \sqrt{34}$$

$$\overline{AB} = (-3, -5) \rightarrow |\overline{AB}| = \sqrt{3^2 + 5^2} = \sqrt{34}$$

b) El área es:

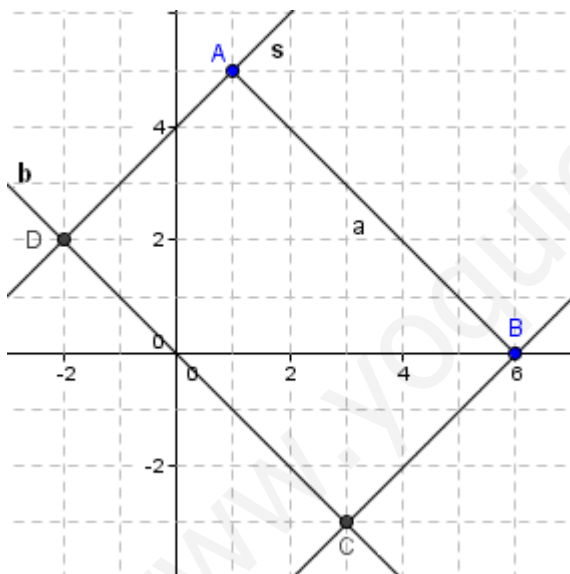
$$A = \frac{1}{2} |\overline{AC}| \cdot |\overline{BM}| = \frac{1}{2} \cdot 2\sqrt{2} \cdot 4\sqrt{2} = 8 \text{ u}^2$$

$$\overline{AC} = (2, -2) \rightarrow |\overline{AC}| = \sqrt{2^2 + (-2)^2} = 2\sqrt{2}$$

M punto medio del segmento \overline{AC} : $M = (5, 3)$

$$\overline{BM} = (4, 4) = |\overline{BM}| = \sqrt{4^2 + 4^2} = 4\sqrt{2}$$

4. Los puntos $A(1,5)$ y $B(6,0)$ son los vértices consecutivos de un rectángulo ABCD. El vértice C está en la bisectriz del cuarto cuadrante. Halla los vértices C y D.



La ecuación de la bisectriz del cuarto cuadrante es:

$$b: x + y = 0$$

El punto C es un punto de la bisectriz b, por tanto sus coordenadas son de la forma $C = (x, -x)$

Al ser un rectángulo, se verifica que $\overline{AB} \perp \overline{BC}$:

$$\overline{AB} \cdot \overline{BC} = 0 \rightarrow (5, -5) \cdot (x - 6, -x) = 0$$

$$5x - 30 + 5x = 0 \rightarrow x = 3 \rightarrow C = (3, -3)$$

Una segunda forma de calcular el punto:

El punto C es la intersección de la recta s y la bisectriz b, siendo s la recta perpendicular a AB que pasa por A

- Ecuación de la recta s: $\overline{AB} = (5, -5) \rightarrow \vec{u}_s = (1, 1) \perp \overline{AB}$

Como s pasa por B: $x - 6 = y \rightarrow x - y - 6 = 0$.

- Coordenadas del punto $C = s \cap b$:

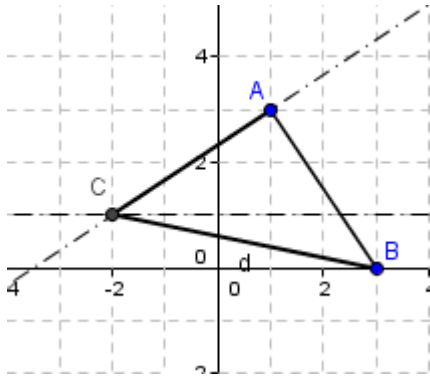
Resolvemos el sistema formado por las ecuaciones de las dos rectas:

$$\begin{cases} x - y - 6 = 0 \\ x + y = 0 \end{cases} \rightarrow 2x - 6 = 0 \rightarrow x = 3, y = -3 \rightarrow C = (3, -3)$$

Por ser ABCD un rectángulo, se verifica: $\overline{AB} = \overline{DC}$

$$\text{Si } D = (x, y) \rightarrow (5, -5) = (3 - x, -3 - y) \rightarrow \begin{cases} 5 = 3 - x \\ -5 = -3 - y \end{cases} \rightarrow x = -2, y = 2 \rightarrow D = (-2, 2)$$

5. Un triángulo rectángulo en A tiene dos vértices en los puntos A(1,3) y B(3,0). El otro vértice está situado sobre la recta $y - 1 = 0$. Halla las coordenadas del tercer vértice.



El vértice C es un punto de la recta $y - 1 = 0$, por tanto, su segunda coordenada vale 1.

Supongamos que las coordenadas de C son $(x, 1)$

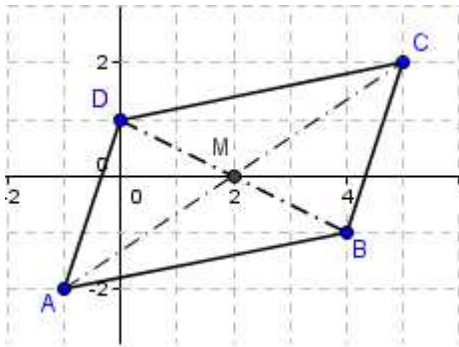
Si el triángulo es rectángulo en A, se verifica que $\overline{AC} \cdot \overline{AB} = 0$

$$\overline{AC} = (x-1, -2) \quad \overline{AB} = (2, -3)$$

$$\overline{AC} \cdot \overline{AB} = 0 \rightarrow 2(x-1) + 6 = 0 \rightarrow 2x + 4 = 0 \rightarrow x = -2$$

Luego el punto C tiene coordenadas $(-2, 1)$

6.- Calcula las coordenadas de D para que el cuadrilátero de vértices: A(-1, -2), B(4, -1), C(5, 2) y D; sea un paralelogramo.



Sea $D = (x, y)$

Por ser un paralelogramo se verifica que las diagonales se cortan en el punto medio:

Sea M el punto medio del segmento \overline{AC} : $M = (2, 0)$

M es el punto medio del segmento \overline{DB} :

$$(2, 0) = \left(\frac{x+4}{2}, \frac{y-1}{2} \right) \rightarrow \begin{cases} 2 = \frac{x+4}{2} \rightarrow x=0 \\ 0 = \frac{y-1}{2} \rightarrow y=1 \end{cases}$$

Por tanto, $D = (0, 1)$

7.- Determinar la ecuación de la recta s que pasando por A(5,-2) forme un ángulo de 45° con la recta $r : 3x + 7y - 12 = 0$

Vectores directores de las rectas: $\vec{u}_r = (7, -3)$ $\vec{u}_s = (1, m)$

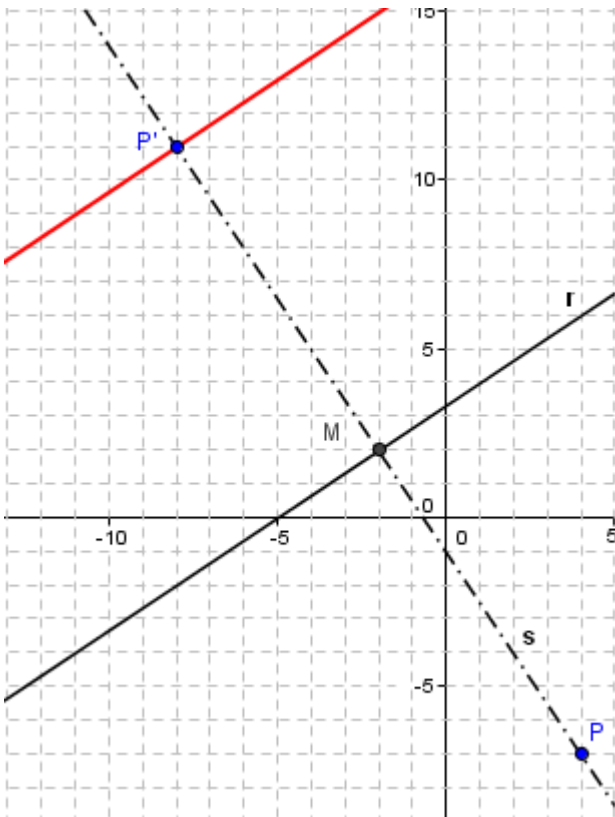
$$\cos 45^\circ = \frac{|\vec{u}_r \cdot \vec{u}_s|}{|\vec{u}_r| \cdot |\vec{u}_s|} = \frac{|7-3m|}{\sqrt{7^2+3^2} \cdot \sqrt{1^2+m^2}} = \frac{|7-3m|}{\sqrt{58} \cdot \sqrt{1+m^2}} = \frac{\sqrt{2}}{2} \rightarrow \cancel{2} \cdot |7-3m| = \cancel{2} \cdot \sqrt{29} \cdot \sqrt{1+m^2}$$

$$9m^2 - 42m + 49 = 29 + 29m^2 \quad \div 2 \rightarrow 10m^2 + 21m - 10 = 0 \rightarrow \begin{cases} m = \frac{2}{5} \\ m = -\frac{5}{2} \end{cases}$$

Ecuaciones de las rectas: $\begin{cases} \text{Si } m = \frac{2}{5} \rightarrow s: y+2 = \frac{2}{5}(x-5) \\ \text{Si } m = -\frac{5}{2} \rightarrow s: y+2 = -\frac{5}{2}(x-5) \end{cases}$

8.- Determina la recta paralela a r que pasa por el punto simétrico de P respecto de la recta r.

$$r: 2x - 3y + 10 = 0 \quad P(4, -7)$$



Calculamos el punto P' simétrico de P respecto de r:

1.- Recta s perpendicular a r que pasa por P:

Vector director de r: $\vec{u}_r = (3, 2)$

Vector perpendicular: $(2, -3)$

$$\text{Recta s: } \begin{cases} x = 4 + 2t \\ y = -7 - 3t \end{cases}$$

2.- Sea M: Punto medio del segmento $\overline{PP'}$

El punto M es el punto de intersección de las rectas r y s.

$$2(4 + 2t) - 3(-7 - 3t) + 10 = 0 \rightarrow 13t + 39 = 0$$

$$t = -3$$

Sustituyendo en s, obtenemos las coordenadas:

$$M = (-2, 2)$$

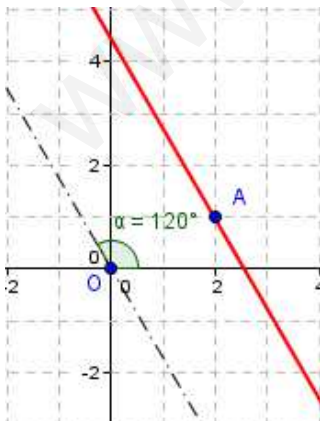
3.- Coordenadas de P'(x, y):

$$(-2, 2) = \left(\frac{x+4}{2}, \frac{y-7}{2} \right) \rightarrow \begin{cases} -2 = \frac{x+4}{2} \rightarrow x = -8 \\ 2 = \frac{y-7}{2} \rightarrow y = 11 \end{cases}$$

Por tanto, el simétrico de P respecto de r es P'(-8, 11)

4.- Recta paralela a r que pasa por P'(-8, 11): $\frac{x+8}{3} = \frac{y-11}{2}$

9. a) Calcular la ecuación de la recta que pasa por el punto A(2,1) y forma un ángulo de 120° con la parte positiva del eje x.



Vectores directores de la recta: OX: $\vec{u}_r = (1, 0)$

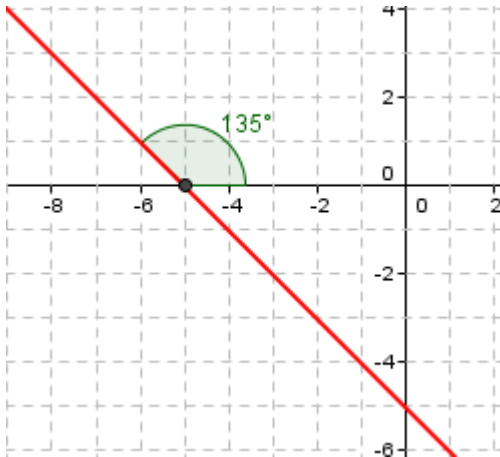
Vector director de la recta buscada: $\vec{u}_s = (1, m)$

$$\cos 120^\circ = \frac{|\vec{u}_r \cdot \vec{u}_s|}{|\vec{u}_r| \cdot |\vec{u}_s|} = \frac{1}{1 \cdot \sqrt{1+m^2}} = -\frac{1}{2} \rightarrow -2 = \sqrt{1+m^2} \rightarrow 4 = 1 + m^2$$

$$m = -\sqrt{3} \quad (\text{ya que el ángulo es obtuso})$$

$$\text{Ecuación de la recta: } y - 1 = -\sqrt{3}(x + 2)$$

b) ¿Qué ángulo forma la recta $x + y + 5 = 0$ con OX^+ ?



Vector director de la recta $m: x + y + 5 = 0$:

$$\vec{u}_m = (1, -1)$$

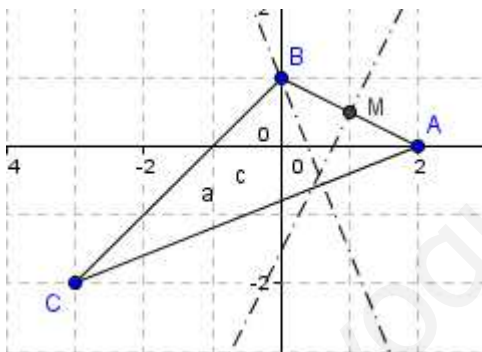
$$\cos \alpha = \frac{|\vec{u}_r \cdot \vec{u}_m|}{|\vec{u}_r| \cdot |\vec{u}_m|} = \frac{|1|}{1 \cdot \sqrt{2}} = \frac{\sqrt{2}}{2} \rightarrow \alpha = 45^\circ$$

Al pedir el ángulo que forma la recta que pasa por el 2º y 4º cuadrante con el eje OX positivo, el ángulo es 135° .

10.- Dibujar en unos ejes cartesianos el triángulo de vértices $A(2,0)$, $B(0,1)$ y $C(-3,-2)$, y hallar:

a) La ecuación de la altura correspondiente al lado AC .

b) La ecuación de la mediatriz correspondiente a AB .



a) Hay que determinar la recta $r \perp AC$, que pasa por B:

$$\vec{AC} = (-5, -2) \rightarrow \vec{u}_r = (2, -5)$$

$$\text{Ecuación de la altura: } \frac{x}{2} = \frac{y-1}{-5}$$

b) Hay que determinar la recta $s \perp AB$, que pasa por M:

$$M = \text{punto medio del segmento } AB: M = \left(1, \frac{1}{2}\right)$$

$$\vec{u}_s \perp \vec{AB} : \vec{AB} = (-2, 1) \rightarrow \vec{u}_s = (1, 2)$$

$$\text{Ecuación de la mediatriz: } \begin{cases} x = 1 + t \\ y = \frac{1}{2} + 2t \end{cases}$$