

1 Completa y escribe el número anterior.

$\xleftarrow{-1}$

1	7	9
---	---	---

 ciento setenta y nueve

$\xleftarrow{-1}$

1	0	7
---	---	---

$\xleftarrow{-1}$

--	--	--

 ciento setenta y cinco

$\xleftarrow{-1}$

1	8	2
---	---	---

2 Escribe los números siguientes y ordénalos de menor a mayor.

Tiene 1 C y 3 U \rightarrow

Tiene 1 C, 7 D y 3 U \rightarrow

Anterior a 180 \rightarrow

Tiene 3 U más que 123 \rightarrow

Tiene 1 C y 4 D \rightarrow




Tiene 1 D más que 90 \rightarrow

Posterior a 167 \rightarrow


Anterior a 110 \rightarrow



< < < < < < <

3 Suma.

	108
	59
	47

 + 

 + 

 + 

4 Suma y aplica la propiedad conmutativa.

Sumandos: 119 y 58

Sumandos: 36 y 127

5 Resuelve aplicando la propiedad asociativa.

Entre mi hermano y yo, hemos bebido 4 vasos de leche, 6 vasos de agua y 5 de zumo ¿Cuántos vasos hemos bebido en total?

$$\square + \square + \square = \square + \square = \square$$

$$\square + \square + \square = \square + \square = \square$$


**6** Lee y resuelve.

En el torneo de mus, había 17 mujeres más que hombres.
¿Cuántas mujeres había si se sabe que jugaron 49 hombres?




1 Completa y escribe cómo se leen los números.

115

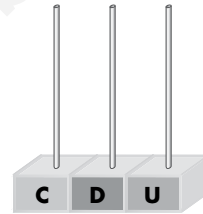
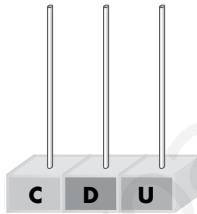
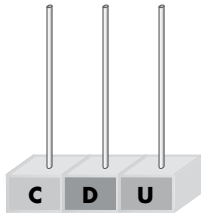


126



2 Dibuja estos números en los ábacos:

131 - 108 - 129



3 Escribe cómo se leen los números de la actividad anterior.

	→	
	→	
	→	

	→	
	→	
	→	

	→	
	→	
	→	

4 Coloca y calcula.

Sumandos:

127 y 39

Sumandos:

105 y 78

Sumandos:

43 y 138

Sumandos:

128 + 56

5 Completa para cumplir la propiedad conmutativa y calcula.

$$12 + 8 = 8 + \boxed{} = \boxed{}$$

$$10 + \boxed{} = 40 + \boxed{} = \boxed{}$$

$$20 + \boxed{} = 30 + \boxed{} = \boxed{}$$

$$\boxed{} + 9 = \boxed{} + 6 = \boxed{}$$

6 Aplica la propiedad asociativa.

$$\begin{array}{c} 13 + 7 + 12 \\ \swarrow \quad \searrow \\ \boxed{} + \boxed{} = \boxed{} \end{array}$$

$$\begin{array}{c} 13 + 7 + 12 \\ \downarrow \quad \swarrow \\ \boxed{} + \boxed{} = \boxed{} \end{array}$$

7 Escribe el mes anterior o posterior en cada caso.

marzo →

 ← enero

septiembre →

 ← julio

julio →

 ← marzo

8 Completa escribiendo la fecha.

HOY

MAÑANA

Lunes, 30 de abril

--

Viernes, 30 de agosto



--

Domingo, 13 de mayo




--

2 Nombre y apellidos: _____ Fecha: _____ Matemáticas 2.º R

1 ¿Cuántas centenas hay? Completa.

 2 centenas = 20 decenas.
 5 centenas = 50 decenas.

2 Relaciona.


 → Ciento sesenta y tres
 → Ciento cuarenta y dos
 → Ciento treinta y seis

3 Escribe cómo se leen estos números:

104 → ciento cuatro
 170 → ciento setenta
 128 → ciento veintiocho

4 Suma y colorea las paellas de los resultados que sean mayores que 99.

$\begin{array}{r} 66 \\ + 36 \\ \hline 102 \end{array}$ $\begin{array}{r} 125 \\ + 49 \\ \hline 174 \end{array}$ $\begin{array}{r} 47 \\ + 29 \\ \hline 76 \end{array}$ $\begin{array}{r} 157 \\ + 13 \\ \hline 170 \end{array}$ $\begin{array}{r} 68 \\ + 24 \\ \hline 92 \end{array}$



2 Nombre y apellidos: _____ Fecha: _____ Matemáticas 2.º R

5 Suma y colorea las mochilas con resultados iguales.



6 Suma y comprueba si los resultados son iguales.

$9 + 11 + 2$
 $\begin{array}{r} 20 \\ + 2 \\ \hline 22 \end{array}$ $9 + 11 + 2$
 $\begin{array}{r} 9 \\ + 13 \\ \hline 22 \end{array}$
 $12 + 6 + 6$
 $\begin{array}{r} 18 \\ + 6 \\ \hline 24 \end{array}$ $12 + 6 + 6$
 $\begin{array}{r} 12 \\ + 12 \\ \hline 24 \end{array}$

7 Colorea qué día es hoy siguiendo las instrucciones.

Ayer fue miércoles → rojo mo lunes martes miércoles
 Mañana será lunes → azul ~ jueves viernes sábado ~
 Ayer fue viernes → verde ~ jueves viernes sábado ~
 Mañana será martes → morado az domingo

8 Observa un calendario, escribe los meses que tienen 30 días y contesta.

Abril, junio, septiembre y noviembre

 ¿Qué mes es el que tiene menos de 30 días? Febrero

28

29

Área fotocopiable

REFUERZO

REFUERZO

Área fotocopiable

2 Nombre y apellidos: _____ Fecha: _____ Matemáticas 2.º A


1 Completa y escribe el número anterior.

178 ←⁻¹ 1 7 9 ciento setenta y nueve
106 ←⁻¹ 1 0 7 ciento siete
174 ←⁻¹ 1 7 5 ciento setenta y cinco
181 ←⁻¹ 1 8 2 ciento ochenta y dos

2 Escribe los números siguientes y ordénalos de menor a mayor.

Tiene 1 C y 3 U → 103 Tiene 1 C, 7 D y 3 U → 173
 Anterior a 180 → 179 Tiene 3 U más que 123 → 126
 Tiene 1 C y 4 D → 140 Tiene 1 D más que 90 → 100
 Posterior a 167 → 168 Anterior a 110 → 109
100 < 103 < 109 < 126 < 140 < 168 < 173 < 179

3 Suma.


 $\begin{array}{r} 108 \\ + 47 \\ \hline 155 \end{array}$ $\begin{array}{r} 108 \\ + 59 \\ \hline 167 \end{array}$ $\begin{array}{r} 47 \\ + 47 \\ \hline 94 \end{array}$

30

Área fotocopiable

AMPLIACIÓN

2 Nombre y apellidos: _____ Fecha: _____ Matemáticas 2.º A

4 Suma y aplica la propiedad conmutativa.

Sumandos: 119 y 58 $\begin{array}{r} 119 \\ + 58 \\ \hline 177 \end{array}$ $\begin{array}{r} 58 \\ + 119 \\ \hline 177 \end{array}$
 Sumandos: 36 y 127 $\begin{array}{r} 36 \\ + 127 \\ \hline 163 \end{array}$ $\begin{array}{r} 127 \\ + 36 \\ \hline 163 \end{array}$

5 Resuelve aplicando la propiedad asociativa.

Entre mi hermano y yo, hemos bebido 4 vasos de leche, 6 vasos de agua y 5 de zumo. ¿Cuántos vasos hemos bebido en total?
 $4 + 6 + 5 = 10 + 5 = 15$
 $4 + 6 + 5 = 4 + 11 = 15$
hemos bebido 15 vasos

6 Lee y resuelve.

En el torneo de mus, había 17 mujeres más que hombres. ¿Cuántas mujeres había si se sabe que jugaron 49 hombres?
49 hombres $\begin{array}{r} 49 \\ + 17 \\ \hline 66 \end{array}$
17 mujeres más
Había 66 mujeres

31


Área fotocopiable


AMPLIACIÓN

Área fotocopiable

2 Nombre y apellidos: _____ Fecha: _____ Matemáticas 2.º EV


1 Completa y escribe cómo se leen los números.

115  *ciento quince*

126  *ciento veintiséis*

2 Dibuja estos números en los ábacos:

131 - 108 - 129



3 Escribe cómo se leen los números de la actividad anterior.

131 → *ciento treinta y uno*

108 → *ciento ocho*

129 → *ciento veintinueve*

4 Coloca y calcula.

Sumandos: 127 y 39	Sumandos: 105 y 78	Sumandos: 43 y 138	Sumandos: 128 + 56
$\begin{array}{r} 127 \\ + 39 \\ \hline 166 \end{array}$	$\begin{array}{r} 105 \\ + 78 \\ \hline 183 \end{array}$	$\begin{array}{r} 43 \\ + 138 \\ \hline 181 \end{array}$	$\begin{array}{r} 128 \\ + 56 \\ \hline 184 \end{array}$

32

© Grupo Anaya, S.A. Material fotocopiable autorizado.

Área fotocopiable

EVALUACIÓN

2 Nombre y apellidos: _____ Matemáticas 2.º EV

5 Completa para cumplir la propiedad conmutativa y calcula.

$12 + 8 = 8 + 12 = 20$ $10 + 40 = 40 + 10 = 50$

$20 + 30 = 30 + 20 = 50$ $6 + 9 = 9 + 6 = 15$

6 Aplica la propiedad asociativa.

$13 + 7 + 12 = 30 + 12 = 32$ $13 + 7 + 12 = 13 + 19 = 32$

7 Escribe el mes anterior o posterior en cada caso.

marzo → *abril* *diciembre* ← enero

septiembre → *octubre* *junio* ← julio

julio → *agosto* *febrero* ← marzo

8 Completa escribiendo la fecha.

HOY	MAÑANA
Lunes, 30 de abril	<i>Martes</i> 1 <i>de mayo</i>
Viernes, 30 de agosto	<i>Sábado</i> 31 <i>de agosto</i>
Domingo, 13 de mayo	<i>Lunes</i> 14 <i>de mayo</i>

© Grupo Anaya, S.A. Material fotocopiable autorizado.

33

Área fotocopiable

EVALUACIÓN