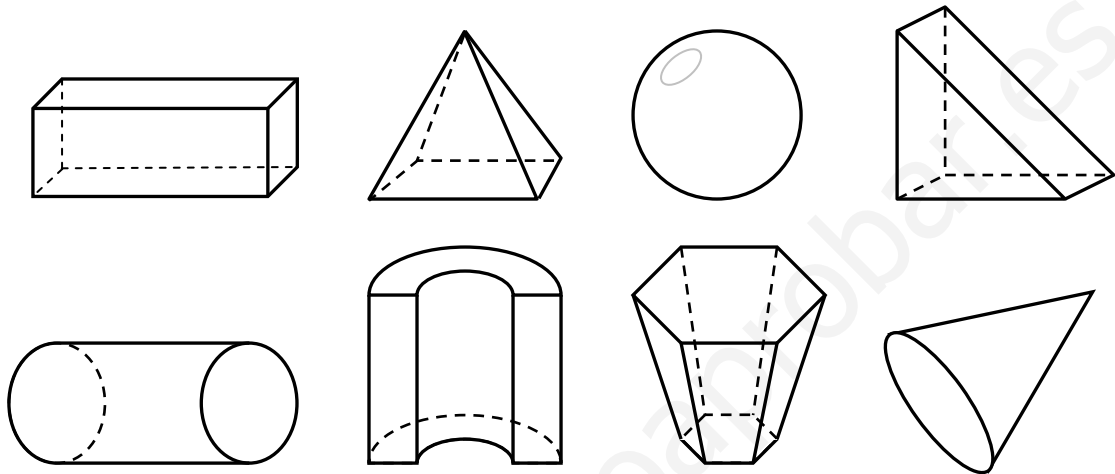


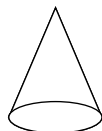
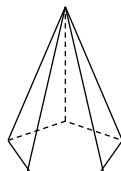
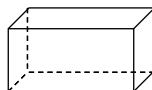
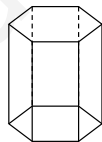
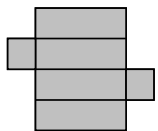
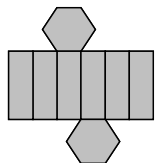
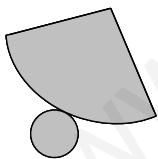
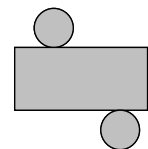
Nombre y apellidos:

Curso: Fecha:

1 Rodea las figuras que sean poliedros:



2 Relaciona mediante flechas las tres columnas:



pirámide pentagonal

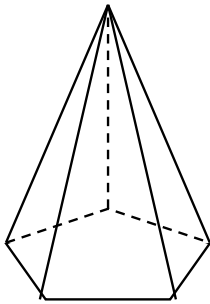
cono

prisma hexagonal

cilindro

prisma cuadrangular

- 3** Señala en este cuerpo geométrico una cara, una arista y un vértice. Después responde:



- ¿Cuántas caras tiene?
- ¿Cuántas bases tiene?
- ¿Cuántas aristas tiene?
- ¿Cuántos vértices tiene?

- 4** Escribe un parecido y una diferencia entre:

a) Un cono y un cilindro:

.....
.....

b) Una pirámide y un prisma:

.....
.....

c) Una esfera y un cilindro:

.....
.....

- 5** Dibuja dos cuerpos redondos, nómbralos y señala en ellos sus superficies laterales.

