

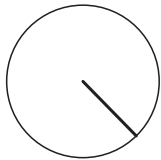


Circunferencia y círculo

Alumno: _____ Curso: _____ Fecha: _____

1 Lee estas oraciones y escribe V si es verdadera o F si es falsa.

- La circunferencia es una línea curva y plana cuyos puntos están todos a la misma distancia de su centro.
- El segmento que une dos puntos de la circunferencia se llama cuerda.
- El radio es el segmento que une el centro con un punto cualquiera de la circunferencia.
- El diámetro es el segmento que une dos puntos de la circunferencia sin pasar por el centro.
- El círculo está formado por una circunferencia y su interior.

2 Une correctamente.



radio

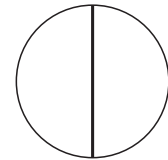
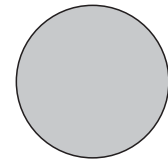
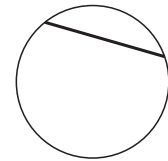
centro

diámetro

circunferencia

cuerda

círculo



3 Escribe 4 objetos que tengan forma de círculo y 4 que tengan forma de circunferencia.

Círculo → _____

Circunferencia → _____

4 Dibuja una circunferencia que tenga un diámetro de 3 cm.

