

UNIDAD 2

MATRICES



Página 50

1. A tres amigos, M , N , P , se les pide que contesten a lo siguiente:

“¿Crees que alguno de vosotros aprobará la selectividad? Di quiénes”.

Estas son las respuestas:

— M opina que él mismo, M , y P .

— N opina que solo M .

— P opina que solo él mismo, P .

$$\begin{array}{c} M \quad N \quad P \\ M \begin{pmatrix} 1 & 0 & 1 \end{pmatrix} \\ N \begin{pmatrix} 1 & 0 & 0 \end{pmatrix} \\ P \begin{pmatrix} 0 & 0 & 1 \end{pmatrix} \end{array}$$

- Reflexiona sobre la relación que hay entre las respuestas y la caja numérica formada por *ceros* y *unos* que hay debajo de ellas.

1 significa sí y 0 significa no. La 1ª fila indica que M piensa que aprobarán él mismo y P . La 2ª fila indica que N opina que sólo aprobará M . La 3ª fila indica que P piensa que sólo aprobará él mismo.

- La caja numérica que aparece a continuación es la síntesis de las respuestas que han dado los siete alumnos (A , B , C , D , E , F y G) de un grupo de teatro a esta pregunta:

“¿Quién o quiénes de vosotros creéis que sería capaz de diseñar, organizar y dirigir un viaje de estudios de una semana?”

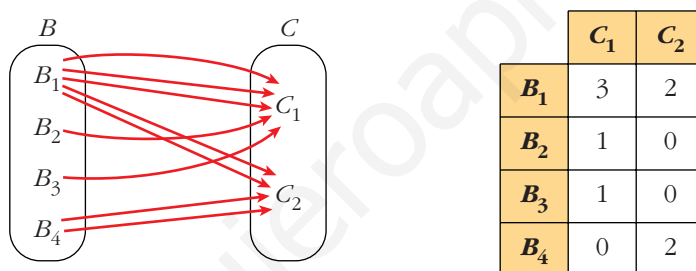
$$\begin{pmatrix} 1 & 0 & 0 & 0 & 0 & 0 & 0 \\ 0 & 0 & 1 & 1 & 1 & 0 & 0 \\ 0 & 0 & 0 & 0 & 1 & 0 & 0 \\ 0 & 1 & 1 & 0 & 1 & 0 & 0 \\ 0 & 0 & 1 & 1 & 1 & 0 & 0 \\ 0 & 0 & 0 & 0 & 0 & 0 & 1 \\ 0 & 0 & 0 & 0 & 0 & 1 & 0 \end{pmatrix}$$

A la vista de las respuestas, di:

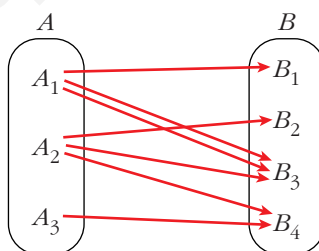
- a) ¿Quién de ellos te parece un tanto iluso?
- b) Dos de ellos parece que están algo aislados del resto del grupo. ¿Quiénes son?
- c) Si tuvieras que designar a uno de ellos para que se hiciera cargo de la organización del viaje, ¿a quién elegirías?
- a) D , pues piensa que hay tres personas capaces de organizarlo, y, además, es el único que opina que B está capacitado.
- b) F y G . F opina que solo es capaz G ; y G opina que solo es capaz F .
- c) E es el más seleccionado: hay 4 que lo eligen.

Página 51

2. ■ Aquí tienes representados, mediante flechas, los vuelos que hay el martes desde el país B hasta el país C . Representa, mediante una tabla, la información recogida en el diagrama.



- Una persona quiere salir el lunes de A , pasar la noche en B y llegar el martes a C .



En total tenemos 5 posibles formas de ir de A_1 a C_1 .

Continúa tú, rellenando razonadamente el resto de la tabla y explicando, en cada caso, cómo llegas a la respuesta.

	C_1	C_2
A_1	5	2
A_2	2	2
A_3	0	2

Página 53

1. Escribe las matrices traspuestas de:

$$A = \begin{pmatrix} 3 & 1 \\ 2 & 5 \\ 7 & 6 \end{pmatrix}$$

$$B = \begin{pmatrix} 2 & 5 & 7 \\ 4 & 1 & 0 \end{pmatrix}$$

$$C = \begin{pmatrix} 1 & 3 & 5 & -1 \\ 0 & 2 & 4 & 1 \\ 6 & 1 & 0 & 3 \end{pmatrix}$$

$$D = \begin{pmatrix} 7 & 4 & 1 \\ 2 & 1 & 0 \\ 0 & 1 & 7 \\ 6 & 3 & 2 \end{pmatrix}$$

$$E = \begin{pmatrix} 1 & 7 & 4 \\ 7 & -1 & 0 \\ 4 & 0 & 3 \end{pmatrix}$$

$$F = (5 \ 4 \ 6 \ 1)$$

$$A^t = \begin{pmatrix} 3 & 2 & 7 \\ 1 & 5 & 6 \end{pmatrix}$$

$$B^t = \begin{pmatrix} 2 & 4 \\ 5 & 1 \\ 7 & 0 \end{pmatrix}$$

$$C^t = \begin{pmatrix} 1 & 0 & 6 \\ 3 & 2 & 1 \\ 5 & 4 & 0 \\ -1 & 1 & 3 \end{pmatrix}$$

$$D^t = \begin{pmatrix} 7 & 2 & 0 & 6 \\ 4 & 1 & 1 & 3 \\ 1 & 0 & 7 & 2 \end{pmatrix}$$

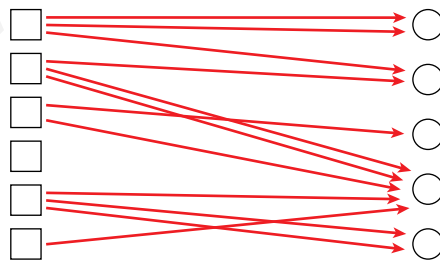
$$E^t = \begin{pmatrix} 1 & 7 & 4 \\ 7 & -1 & 0 \\ 4 & 0 & 3 \end{pmatrix}$$

$$F^t = \begin{pmatrix} 5 \\ 4 \\ 6 \\ 1 \end{pmatrix}$$

2. Escribe una matriz X tal que $X^t = X$.

Por ejemplo, $X = \begin{pmatrix} 1 & 2 & -1 \\ 2 & 3 & 0 \\ -1 & 0 & 4 \end{pmatrix}$.

3. Escribe una matriz que describa lo siguiente:



$$\begin{pmatrix} 2 & 1 & 0 & 0 & 0 \\ 0 & 1 & 0 & 2 & 0 \\ 0 & 0 & 1 & 1 & 0 \\ 0 & 0 & 0 & 0 & 0 \\ 0 & 0 & 0 & 1 & 2 \\ 0 & 0 & 0 & 1 & 0 \end{pmatrix}$$

Página 54

1. Sean las matrices:

$$A = \begin{pmatrix} 1 & 0 & -2 \\ 4 & 1 & -3 \end{pmatrix} \quad B = \begin{pmatrix} -1 & 0 & 1 \\ -4 & 1 & 3 \end{pmatrix} \quad C = \begin{pmatrix} 7 & 1 & -1 \\ 8 & -10 & 0 \end{pmatrix} \quad D = \begin{pmatrix} -3 & 1 & 5 \\ 6 & 2 & 4 \end{pmatrix}$$

Calcula $E = 2A - 3B + C - 2D$.

$$E = \begin{pmatrix} 2 & 0 & -4 \\ 8 & 2 & -6 \end{pmatrix} - \begin{pmatrix} -3 & 0 & 3 \\ -12 & 3 & 9 \end{pmatrix} + \begin{pmatrix} 7 & 1 & -1 \\ 8 & -10 & 0 \end{pmatrix} - \begin{pmatrix} -6 & 2 & 10 \\ 12 & 4 & 8 \end{pmatrix} = \begin{pmatrix} 18 & -1 & -18 \\ 16 & -15 & -23 \end{pmatrix}$$

Página 57

2. Efectúa todos los posibles productos entre las siguientes matrices:

$$A = \begin{pmatrix} 1 & 2 & 3 \\ -2 & 5 & 1 \end{pmatrix} \quad B = \begin{pmatrix} 7 & 0 \\ -1 & 1 \\ 0 & 1 \\ 3 & 4 \end{pmatrix} \quad C = \begin{pmatrix} 2 & 7 & 1 & 5 \\ 6 & 3 & 0 & 0 \\ -2 & -5 & 1 & 0 \end{pmatrix} \quad D = \begin{pmatrix} 1 & -1 & 1 \\ 0 & 5 & 2 \\ 2 & 3 & -3 \end{pmatrix}$$

$$A \cdot C = \begin{pmatrix} 8 & -2 & 4 & 5 \\ 24 & -4 & -1 & -10 \end{pmatrix}; \quad A \cdot D = \begin{pmatrix} 7 & 18 & -4 \\ 0 & 30 & 5 \end{pmatrix}; \quad B \cdot A = \begin{pmatrix} 7 & 14 & 21 \\ -3 & 3 & -2 \\ -2 & 5 & 1 \\ -5 & 26 & 13 \end{pmatrix}$$

$$C \cdot B = \begin{pmatrix} 22 & 28 \\ 39 & 3 \\ -9 & -4 \end{pmatrix}; \quad D \cdot C = \begin{pmatrix} -6 & -1 & 2 & 5 \\ 26 & 5 & 2 & 0 \\ 28 & 38 & -1 & 10 \end{pmatrix}; \quad D \cdot D = \begin{pmatrix} 3 & -3 & -4 \\ 4 & 31 & 4 \\ -4 & 4 & 17 \end{pmatrix}$$

3. Intenta conseguir una matriz I_3 de dimensión 3×3 que, multiplicada por cualquier otra matriz $A(3 \times 3)$, la deje igual.

Es decir: $A \cdot I_3 = I_3 \cdot A = A$

La matriz I_3 se llama matriz unidad de orden 3. Cuando la tengas, sabrás obtener una matriz unidad de cualquier orden.

$$I_3 = \begin{pmatrix} 1 & 0 & 0 \\ 0 & 1 & 0 \\ 0 & 0 & 1 \end{pmatrix}$$

Página 58

1. Comprueba las propiedades 2, 3 y 4 anteriores, referentes al producto de números por matrices, tomando: $a = 3$, $b = 6$

$$A = \begin{pmatrix} 3 & 5 & -1 \\ 2 & -3 & 0 \end{pmatrix} \quad B = \begin{pmatrix} 7 & -2 & 1 \\ 4 & 6 & 8 \end{pmatrix}$$

$$2) \left. \begin{aligned} 9A &= \begin{pmatrix} 27 & 45 & -9 \\ 18 & -27 & 0 \end{pmatrix} \\ 3A + 6A &= \begin{pmatrix} 9 & 15 & -3 \\ 6 & -9 & 0 \end{pmatrix} + \begin{pmatrix} 18 & 30 & -6 \\ 12 & -18 & 0 \end{pmatrix} = \begin{pmatrix} 27 & 45 & -9 \\ 18 & -27 & 0 \end{pmatrix} \end{aligned} \right\}$$

$$9A = 3A + 6A$$

$$3) \left. \begin{aligned} 3(A + B) &= 3 \begin{pmatrix} 10 & 3 & 0 \\ 6 & 3 & 8 \end{pmatrix} = \begin{pmatrix} 30 & 9 & 0 \\ 18 & 9 & 24 \end{pmatrix} \\ 3A + 3B &= \begin{pmatrix} 9 & 15 & -3 \\ 6 & -9 & 0 \end{pmatrix} + \begin{pmatrix} 21 & -6 & 3 \\ 12 & 18 & 24 \end{pmatrix} = \begin{pmatrix} 30 & 9 & 0 \\ 18 & 9 & 24 \end{pmatrix} \end{aligned} \right\}$$

$$3(A + B) = 3A + 3B$$

$$4) 1 \cdot A = \begin{pmatrix} 3 & 5 & -1 \\ 2 & -3 & 0 \end{pmatrix} = A$$

Página 59

2. Comprueba las propiedades distributivas para las siguientes matrices:

$$A = \begin{pmatrix} 1 & 4 \\ 0 & 5 \\ 1 & 6 \end{pmatrix} \quad B = \begin{pmatrix} -1 & 5 & 6 & 7 \\ 3 & 0 & 9 & -2 \end{pmatrix} \quad C = \begin{pmatrix} 4 & 1 & 6 & 0 \\ 0 & -1 & 5 & 5 \end{pmatrix} \quad D = \begin{pmatrix} 1 \\ 2 \\ -5 \\ 3 \end{pmatrix}$$

$$A \cdot (B + C) = A \cdot \begin{pmatrix} 3 & 6 & 12 & 7 \\ 3 & -1 & 14 & 3 \end{pmatrix} = \begin{pmatrix} 15 & 2 & 68 & 19 \\ 15 & -5 & 70 & 15 \\ 21 & 0 & 96 & 25 \end{pmatrix}$$

$$A \cdot B + A \cdot C = \begin{pmatrix} 11 & 5 & 42 & -1 \\ 15 & 0 & 45 & -10 \\ 17 & 5 & 60 & -5 \end{pmatrix} + \begin{pmatrix} 4 & -3 & 26 & 20 \\ 0 & -5 & 25 & 25 \\ 4 & -5 & 36 & 30 \end{pmatrix} = \begin{pmatrix} 15 & 2 & 68 & 19 \\ 15 & -5 & 70 & 15 \\ 21 & 0 & 96 & 25 \end{pmatrix}$$

$$A \cdot (B + C) = A \cdot B + A \cdot C$$

$$\left. \begin{aligned} (B + C) \cdot D &= \begin{pmatrix} 3 & 6 & 12 & 7 \\ 3 & -1 & 14 & 3 \end{pmatrix} \cdot \begin{pmatrix} -24 \\ -60 \end{pmatrix} \\ B \cdot D + C \cdot D &= \begin{pmatrix} 0 \\ -48 \end{pmatrix} + \begin{pmatrix} -24 \\ -12 \end{pmatrix} = \begin{pmatrix} -24 \\ -60 \end{pmatrix} \end{aligned} \right\}$$

$$(B + C) \cdot D = B \cdot D + C \cdot D$$

Página 61

1. Calcula, utilizando el método de Gauss, la inversa de cada una de las siguientes matrices o averigua que no la tiene:

a) $\begin{pmatrix} 1 & 1 \\ 0 & 1 \end{pmatrix}$

b) $\begin{pmatrix} 1 & 2 \\ 3 & 4 \end{pmatrix}$

c) $\begin{pmatrix} 1 & 2 \\ -2 & -4 \end{pmatrix}$

$$a) \left(\begin{array}{cc|cc} 1 & 1 & 1 & 0 \\ 0 & 1 & 0 & 1 \end{array} \right) \xrightarrow{\begin{array}{l} 1^a - 2^a \\ 1^a \end{array}} \left(\begin{array}{cc|cc} 1 & 0 & 1 & -1 \\ 0 & 1 & 0 & 1 \end{array} \right) \rightarrow \text{La inversa es } \begin{pmatrix} 1 & -1 \\ 0 & 1 \end{pmatrix}$$

$$b) \left(\begin{array}{cc|cc} 1 & 2 & 1 & 0 \\ 3 & 4 & 0 & 1 \end{array} \right) \xrightarrow{\begin{array}{l} 1^a \\ 2^a - 3 \cdot 1^a \end{array}} \left(\begin{array}{cc|cc} 1 & 2 & 1 & 0 \\ 0 & -2 & -3 & 1 \end{array} \right) \xrightarrow{\begin{array}{l} 1^a + 2^a \\ 2^a \end{array}} \left(\begin{array}{cc|cc} 1 & 0 & -2 & 1 \\ 0 & -2 & -3 & 1 \end{array} \right) \rightarrow \\ \rightarrow \begin{array}{l} 1^a \\ 2^a : (-2) \end{array} \left(\begin{array}{cc|cc} 1 & 0 & -2 & 1 \\ 0 & 1 & 3/2 & -1/2 \end{array} \right) \rightarrow \text{La inversa es } \begin{pmatrix} -2 & 1 \\ 3/2 & -1/2 \end{pmatrix}$$

$$c) \left(\begin{array}{cc|cc} 1 & 2 & 1 & 0 \\ -2 & -4 & 0 & 1 \end{array} \right) \xrightarrow{\begin{array}{l} 1^a \\ 2^a + 2 \cdot 1^a \end{array}} \left(\begin{array}{cc|cc} 1 & 2 & 1 & 0 \\ 0 & 0 & 2 & 1 \end{array} \right) \rightarrow \text{No tiene inversa}$$

2. Calcula la inversa de cada una de las siguientes matrices o averigua que no la tiene:

$$a) \begin{pmatrix} 1 & 2 & 3 \\ 4 & 5 & 6 \\ 7 & 8 & 9 \end{pmatrix}$$

$$b) \begin{pmatrix} 1 & 2 & 3 \\ 0 & 1 & 2 \\ 1 & 2 & 4 \end{pmatrix}$$

$$c) \begin{pmatrix} 1 & 1 & 3 \\ 1 & 2 & 1 \\ 2 & 0 & 0 \end{pmatrix}$$

$$a) \left(\begin{array}{ccc|ccc} 1 & 2 & 3 & 1 & 0 & 0 \\ 4 & 5 & 6 & 0 & 1 & 0 \\ 7 & 8 & 9 & 0 & 0 & 1 \end{array} \right) \xrightarrow{\begin{array}{l} 1^a \\ 2^a - 4 \cdot 1^a \\ 3^a - 7 \cdot 1^a \end{array}} \left(\begin{array}{ccc|ccc} 1 & 2 & 3 & 1 & 0 & 0 \\ 0 & -3 & -6 & -4 & 1 & 0 \\ 0 & -6 & -12 & -7 & 0 & 1 \end{array} \right) \rightarrow \\ \rightarrow \begin{array}{l} 1^a \\ 2^a \\ 3^a - 2 \cdot 2^a \end{array} \left(\begin{array}{ccc|ccc} 1 & 2 & 3 & 1 & 0 & 0 \\ 0 & -3 & -6 & -4 & 1 & 0 \\ 0 & 0 & 0 & 1 & -2 & 1 \end{array} \right) \rightarrow \text{No tiene inversa}$$

$$b) \left(\begin{array}{ccc|ccc} 1 & 2 & 3 & 1 & 0 & 0 \\ 0 & 1 & 2 & 0 & 1 & 0 \\ 1 & 2 & 4 & 0 & 0 & 1 \end{array} \right) \xrightarrow{\begin{array}{l} 1^a \\ 2^a \\ 3^a - 1^a \end{array}} \left(\begin{array}{ccc|ccc} 1 & 2 & 3 & 1 & 0 & 0 \\ 0 & 1 & 2 & 0 & 1 & 0 \\ 0 & 0 & 1 & -1 & 0 & 1 \end{array} \right) \rightarrow \\ \rightarrow \begin{array}{l} 1^a - 3 \cdot 3^a \\ 2^a - 2 \cdot 3^a \\ 3^a \end{array} \left(\begin{array}{ccc|ccc} 1 & 2 & 0 & 4 & 0 & -3 \\ 0 & 1 & 0 & 2 & 1 & -2 \\ 0 & 0 & 1 & -1 & 0 & 1 \end{array} \right) \rightarrow \begin{array}{l} 1^a - 2 \cdot 2^a \\ 2^a \\ 3^a \end{array} \left(\begin{array}{ccc|ccc} 1 & 0 & 0 & 0 & -2 & 1 \\ 0 & 1 & 0 & 2 & 1 & -2 \\ 0 & 0 & 1 & -1 & 0 & 1 \end{array} \right)$$

$$\text{La inversa es } \begin{pmatrix} 0 & -2 & 1 \\ 2 & 1 & -2 \\ -1 & 0 & 1 \end{pmatrix}.$$

$$c) \left(\begin{array}{ccc|ccc} 1 & 1 & 3 & 1 & 0 & 0 \\ 1 & 2 & 1 & 0 & 1 & 0 \\ 2 & 0 & 0 & 0 & 0 & 1 \end{array} \right) \xrightarrow{\begin{array}{l} 3^a : 2 \\ 2^a \\ 1^a \end{array}} \left(\begin{array}{ccc|ccc} 1 & 0 & 0 & 0 & 0 & 1/2 \\ 1 & 2 & 1 & 0 & 1 & 0 \\ 1 & 1 & 3 & 1 & 0 & 0 \end{array} \right) \rightarrow$$

$$\rightarrow \begin{array}{l} 1^a \\ 2^a - 1^a \\ 3^a - 1^a \end{array} \left(\begin{array}{ccc|ccc} 1 & 0 & 0 & 0 & 0 & 1/2 \\ 0 & 2 & 1 & 0 & 1 & -1/2 \\ 0 & 1 & 3 & 1 & 0 & -1/2 \end{array} \right) \rightarrow \begin{array}{l} 1^a \\ 2^a \\ 2 \cdot 3^a - 2^a \end{array} \left(\begin{array}{ccc|ccc} 1 & 0 & 0 & 0 & 0 & 1/2 \\ 0 & 2 & 1 & 0 & 1 & -1/2 \\ 0 & 0 & 5 & 2 & -1 & -1/2 \end{array} \right) \rightarrow$$

$$\rightarrow \begin{array}{l} 1^a \\ 2^a \cdot 5 - 3^a \\ 3^a : 5 \end{array} \left(\begin{array}{ccc|ccc} 1 & 0 & 0 & 0 & 0 & 1/2 \\ 0 & 10 & 0 & -2 & 6 & -2 \\ 0 & 0 & 1 & 2/5 & -1/5 & -1/10 \end{array} \right) \rightarrow$$

$$\rightarrow \begin{array}{l} 1^a \\ 2^a : 10 \\ 3^a \end{array} \rightarrow \left(\begin{array}{ccc|ccc} 1 & 0 & 0 & 0 & 0 & 1/2 \\ 0 & 1 & 0 & -1/5 & 3/5 & -1/5 \\ 0 & 0 & 1 & 2/5 & -1/5 & -1/10 \end{array} \right) \rightarrow \text{La inversa es } \begin{pmatrix} 0 & 0 & 1/2 \\ -1/5 & 3/5 & -1/5 \\ 2/5 & -1/5 & -1/10 \end{pmatrix}$$

Página 63

3. Calcula x, y, z, t para que se cumpla: $\begin{pmatrix} 2 & -1 \\ 0 & 1 \end{pmatrix} \cdot \begin{pmatrix} x & y \\ z & t \end{pmatrix} = \begin{pmatrix} 5 & 1 \\ 0 & 2 \end{pmatrix}$

$$\begin{pmatrix} 2 & -1 \\ 0 & 1 \end{pmatrix} \begin{pmatrix} x & y \\ z & t \end{pmatrix} = \begin{pmatrix} 2x - z & 2y - t \\ z & t \end{pmatrix} = \begin{pmatrix} 5 & 1 \\ 0 & 2 \end{pmatrix}$$

$$\left. \begin{array}{l} 2x - z = 5 \\ 2y - t = 1 \\ z = 0 \\ t = 2 \end{array} \right\} \begin{array}{l} x = \frac{5}{2} \\ y = \frac{3}{2} \\ z = 0 \\ t = 2 \end{array}$$

Solución: $\begin{pmatrix} x & y \\ z & t \end{pmatrix} = \begin{pmatrix} 5/2 & 3/2 \\ 0 & 2 \end{pmatrix}$

4. Para las matrices: $A = \begin{pmatrix} 1 & 0 \\ 2 & 7 \end{pmatrix}$, $B = \begin{pmatrix} -1 & 5 \\ 4 & -1 \end{pmatrix}$, $C = \begin{pmatrix} 4 & 0 \\ 1 & 1 \end{pmatrix}$, comprueba:

a) $A \cdot (B + C) = (A \cdot B) + (A \cdot C)$

b) $(A + B) \cdot C = (A \cdot C) + (B \cdot C)$

c) $A \cdot (B \cdot C) = (A \cdot B) \cdot C$

$$\left. \begin{array}{l} \text{a) } A \cdot (B + C) = A \cdot \begin{pmatrix} 3 & 5 \\ 5 & 0 \end{pmatrix} = \begin{pmatrix} 3 & 5 \\ 41 & 10 \end{pmatrix} \\ A \cdot B + A \cdot C = \begin{pmatrix} -1 & 5 \\ 26 & 3 \end{pmatrix} + \begin{pmatrix} 4 & 0 \\ 15 & 7 \end{pmatrix} = \begin{pmatrix} 3 & 5 \\ 41 & 10 \end{pmatrix} \end{array} \right\} A \cdot (B + C) = A \cdot B + A \cdot C$$

$$\left. \begin{array}{l} \text{b) } (A + B) \cdot C = \begin{pmatrix} 0 & 5 \\ 6 & 6 \end{pmatrix} \cdot C = \begin{pmatrix} 5 & 5 \\ 30 & 6 \end{pmatrix} \\ A \cdot C + B \cdot C = \begin{pmatrix} 4 & 0 \\ 15 & 7 \end{pmatrix} + \begin{pmatrix} 1 & 5 \\ 15 & -1 \end{pmatrix} = \begin{pmatrix} 5 & 5 \\ 30 & 6 \end{pmatrix} \end{array} \right\} (A + B) \cdot C = A \cdot C + B \cdot C$$

$$\left. \begin{array}{l} \text{c) } A \cdot (B \cdot C) = A \cdot \begin{pmatrix} 1 & 5 \\ 15 & -1 \end{pmatrix} = \begin{pmatrix} 1 & 5 \\ 107 & 3 \end{pmatrix} \\ (A \cdot B) \cdot C = \begin{pmatrix} -1 & 5 \\ 26 & 3 \end{pmatrix} \cdot C = \begin{pmatrix} 1 & 5 \\ 107 & 3 \end{pmatrix} \end{array} \right\} A \cdot (B \cdot C) = (A \cdot B) \cdot C$$

5. Sean $A = \begin{pmatrix} 3 & 0 \\ 5 & -1 \end{pmatrix}$ y $B = \begin{pmatrix} 0 & 6 \\ 1 & -3 \end{pmatrix}$.

Encuentra X que cumpla: $3 \cdot X - 2 \cdot A = 5 \cdot B$

$$3X = 5B + 2A = \begin{pmatrix} 0 & 30 \\ 5 & -15 \end{pmatrix} + \begin{pmatrix} 6 & 0 \\ 10 & -2 \end{pmatrix} = \begin{pmatrix} 6 & 30 \\ 15 & -17 \end{pmatrix}$$

$$X = \begin{pmatrix} 2 & 10 \\ 5 & -17/3 \end{pmatrix}$$

6. Encuentra dos matrices, A y B , de dimensión 2×2 que cumplan:

$$2A + B = \begin{pmatrix} 1 & 4 \\ 2 & 0 \end{pmatrix} \quad A - B = \begin{pmatrix} -1 & 2 \\ 1 & 0 \end{pmatrix}$$

$$\left. \begin{array}{l} 2A + B = \begin{pmatrix} 1 & 4 \\ 2 & 0 \end{pmatrix} \\ A - B = \begin{pmatrix} -1 & 2 \\ 1 & 0 \end{pmatrix} \end{array} \right\} \text{Sumando: } 3A = \begin{pmatrix} 0 & 6 \\ 3 & 0 \end{pmatrix} \rightarrow A = \begin{pmatrix} 0 & 2 \\ 1 & 0 \end{pmatrix}$$

$$B = A - \begin{pmatrix} -1 & 2 \\ 1 & 0 \end{pmatrix} = \begin{pmatrix} 0 & 2 \\ 1 & 0 \end{pmatrix} - \begin{pmatrix} -1 & 2 \\ 1 & 0 \end{pmatrix} = \begin{pmatrix} 1 & 0 \\ 0 & 0 \end{pmatrix}$$

Solución: $A = \begin{pmatrix} 0 & 2 \\ 1 & 0 \end{pmatrix}$, $B = \begin{pmatrix} 1 & 0 \\ 0 & 0 \end{pmatrix}$

7. Encuentra dos matrices X e Y que verifiquen:

$$2X - 3Y = \begin{pmatrix} 1 & 5 \\ 4 & 2 \end{pmatrix} \text{ y } X - Y = \begin{pmatrix} -1 & 0 \\ 3 & 6 \end{pmatrix}$$

$$\left. \begin{array}{l} 2X - 3Y = \begin{pmatrix} 1 & 5 \\ 4 & 2 \end{pmatrix} \\ X - Y = \begin{pmatrix} -1 & 0 \\ 3 & 6 \end{pmatrix} \end{array} \right\} \begin{array}{l} 2X - 3Y = \begin{pmatrix} 1 & 5 \\ 4 & 2 \end{pmatrix} \\ -2X + 2Y = \begin{pmatrix} 2 & 0 \\ -6 & -12 \end{pmatrix} \end{array}$$

$$\text{Sumando: } -Y = \begin{pmatrix} 3 & 5 \\ -2 & -10 \end{pmatrix} \rightarrow Y = \begin{pmatrix} -3 & -5 \\ 2 & 10 \end{pmatrix}$$

$$X = \begin{pmatrix} -1 & 0 \\ 3 & 6 \end{pmatrix} + Y = \begin{pmatrix} -1 & 0 \\ 3 & 6 \end{pmatrix} + \begin{pmatrix} -3 & -5 \\ 2 & 10 \end{pmatrix} = \begin{pmatrix} -4 & -5 \\ 5 & 16 \end{pmatrix}$$

Solución: $X = \begin{pmatrix} -4 & -5 \\ 5 & 16 \end{pmatrix}$, $Y = \begin{pmatrix} -3 & -5 \\ 2 & 10 \end{pmatrix}$

8. Averigua cómo ha de ser una matriz X que cumpla:

$$X \cdot \begin{pmatrix} 1 & 1 \\ 0 & 1 \end{pmatrix} = \begin{pmatrix} 1 & 1 \\ 0 & 1 \end{pmatrix} \cdot X$$

$$X = \begin{pmatrix} x & y \\ z & t \end{pmatrix}$$

$$\left. \begin{aligned} X \cdot \begin{pmatrix} 1 & 1 \\ 0 & 1 \end{pmatrix} &= \begin{pmatrix} x & y \\ z & t \end{pmatrix} \cdot \begin{pmatrix} 1 & 1 \\ 0 & 1 \end{pmatrix} = \begin{pmatrix} x & x+y \\ z & z+t \end{pmatrix} \\ \begin{pmatrix} 1 & 1 \\ 0 & 1 \end{pmatrix} \cdot X &= \begin{pmatrix} 1 & 1 \\ 0 & 1 \end{pmatrix} \cdot \begin{pmatrix} x & y \\ z & t \end{pmatrix} = \begin{pmatrix} x+z & y+t \\ z & t \end{pmatrix} \end{aligned} \right\} \text{ han de ser iguales}$$

$$\left. \begin{aligned} x &= x+z \\ x+y &= y+t \\ z &= z \\ z+t &= t \end{aligned} \right\} \begin{aligned} x &= t \\ z &= 0 \end{aligned} \quad \text{Solución: } X = \begin{pmatrix} x & y \\ 0 & x \end{pmatrix}, \text{ donde } x \text{ e } y \text{ son números reales cualesquiera.}$$

9. Efectúa las siguientes operaciones con las matrices dadas:

$$A = \begin{pmatrix} 1 & 2 \\ 0 & 3 \end{pmatrix} \quad B = \begin{pmatrix} -4 & 7 \\ 3 & 0 \end{pmatrix} \quad C = \begin{pmatrix} 1 & -1 \\ 3 & 2 \end{pmatrix}$$

a) $(A \cdot B) + (A \cdot C)$

b) $(A - B) \cdot C$

c) $A \cdot B \cdot C$

a) $A \cdot B + A \cdot C = \begin{pmatrix} 2 & 7 \\ 9 & 0 \end{pmatrix} + \begin{pmatrix} 7 & 3 \\ 9 & 6 \end{pmatrix} + \begin{pmatrix} 9 & 10 \\ 18 & 6 \end{pmatrix}$

b) $(A - B) \cdot C = \begin{pmatrix} 5 & -5 \\ -3 & 3 \end{pmatrix} \cdot \begin{pmatrix} 1 & -1 \\ 3 & 2 \end{pmatrix} = \begin{pmatrix} -10 & -15 \\ 6 & 9 \end{pmatrix}$

c) $A \cdot B \cdot C = \begin{pmatrix} 2 & 7 \\ 9 & 0 \end{pmatrix} \cdot \begin{pmatrix} 1 & -1 \\ 3 & 2 \end{pmatrix} = \begin{pmatrix} 23 & 12 \\ 9 & -9 \end{pmatrix}$

10. Dada la matriz $A = \begin{pmatrix} 1 & 2 \\ 0 & 1 \end{pmatrix}$ comprueba que $(A - I)^2 = 0$.

$$(A - I)^2 = \begin{pmatrix} 0 & 2 \\ 0 & 0 \end{pmatrix} \cdot \begin{pmatrix} 0 & 2 \\ 0 & 0 \end{pmatrix} = \begin{pmatrix} 0 & 0 \\ 0 & 0 \end{pmatrix}$$

11. Halla la inversa de las matrices:

a) $\begin{pmatrix} 7 & 3 \\ 2 & 1 \end{pmatrix}$ b) $\begin{pmatrix} 3 & -2 \\ -8 & 5 \end{pmatrix}$

a) $\begin{pmatrix} 7 & 3 \\ 2 & 1 \end{pmatrix} \begin{pmatrix} x & y \\ z & t \end{pmatrix} = \begin{pmatrix} 1 & 0 \\ 0 & 1 \end{pmatrix} \rightarrow \begin{pmatrix} 7x+3z & 7y+3t \\ 2x+z & 2y+t \end{pmatrix} = \begin{pmatrix} 1 & 0 \\ 0 & 1 \end{pmatrix}$

$$\begin{cases} 7x+3z=1 \\ 2x+z=0 \end{cases} \begin{cases} x=1 \\ z=-2 \end{cases} \quad \begin{cases} 7y+3t=0 \\ 2y+t=1 \end{cases} \begin{cases} y=-3 \\ t=7 \end{cases}$$

Por tanto, la inversa es $\begin{pmatrix} 1 & -3 \\ -2 & 7 \end{pmatrix}$.

$$b) \begin{pmatrix} 3 & -2 \\ -8 & 5 \end{pmatrix} \begin{pmatrix} x & y \\ z & t \end{pmatrix} = \begin{pmatrix} 1 & 0 \\ 0 & 1 \end{pmatrix} \rightarrow \begin{pmatrix} 3x - 2z & 3y - 2t \\ -8x + 5z & -8y + 5t \end{pmatrix} = \begin{pmatrix} 1 & 0 \\ 0 & 1 \end{pmatrix}$$

$$\begin{cases} 3x - 2z = 1 \\ -8x + 5z = 0 \end{cases} \begin{matrix} x = -5 \\ z = -8 \end{matrix} \qquad \begin{cases} 3y - 2t = 0 \\ -8y + 5t = 1 \end{cases} \begin{matrix} y = -2 \\ t = -3 \end{matrix}$$

Por tanto, la inversa es $\begin{pmatrix} -5 & -2 \\ -8 & -3 \end{pmatrix}$.

Página 66

1. Calcula el rango de las siguientes matrices:

$$A = \begin{pmatrix} 1 & 4 & -1 \\ -1 & 3 & 2 \\ 2 & 2 & 0 \end{pmatrix}$$

$$B = \begin{pmatrix} 1 & 3 & -1 \\ 2 & -1 & 5 \\ 1 & 10 & -8 \end{pmatrix}$$

$$C = \begin{pmatrix} 1 & -2 & 0 & -3 \\ -1 & 3 & 1 & 4 \\ 2 & 1 & 5 & -1 \end{pmatrix}$$

$$D = \begin{pmatrix} 1 & 0 & 2 & 1 & -1 \\ 0 & 2 & -1 & 1 & 2 \\ -1 & 1 & 3 & 2 & 0 \\ 0 & 8 & 7 & 9 & 4 \end{pmatrix}$$

$$A = \begin{pmatrix} 1 & 4 & -1 \\ -1 & 3 & 2 \\ 2 & 2 & 0 \end{pmatrix} \xrightarrow{\begin{matrix} 1^a \\ 2^a + 1^a \\ 3^a - 2 \cdot 1^a \end{matrix}} \begin{pmatrix} 1 & 4 & -1 \\ 0 & 7 & 1 \\ 0 & -6 & 2 \end{pmatrix} \xrightarrow{\begin{matrix} 1^a \\ 2^a \\ 3^a - 2 \cdot 2^a \end{matrix}} \begin{pmatrix} 1 & 4 & -1 \\ 0 & 7 & 1 \\ 0 & -20 & 0 \end{pmatrix}$$

$$\text{ran}(A) = 3$$

$$B = \begin{pmatrix} 1 & 3 & -1 \\ 2 & -1 & 5 \\ 1 & 10 & -8 \end{pmatrix} \xrightarrow{\begin{matrix} 1^a \\ 2^a - 2 \cdot 1^a \\ 3^a - 1^a \end{matrix}} \begin{pmatrix} 1 & 3 & -1 \\ 0 & -7 & 7 \\ 0 & 7 & -7 \end{pmatrix} \xrightarrow{\begin{matrix} 1^a \\ 2^a \\ 3^a + 2^a \end{matrix}} \begin{pmatrix} 1 & 3 & -1 \\ 0 & -7 & 7 \\ 0 & 0 & 0 \end{pmatrix}$$

$$\text{ran}(B) = 2$$

$$C = \begin{pmatrix} 1 & -2 & 0 & -3 \\ -1 & 3 & 1 & 4 \\ 2 & 1 & 5 & -1 \end{pmatrix} \xrightarrow{\begin{matrix} 1^a \\ 2^a + 1^a \\ 3^a - 2 \cdot 1^a \end{matrix}} \begin{pmatrix} 1 & -2 & 0 & -3 \\ 0 & 1 & 1 & 1 \\ 0 & 5 & 5 & 5 \end{pmatrix} \xrightarrow{\begin{matrix} 1^a \\ 2^a \\ 3^a - 5 \cdot 2^a \end{matrix}} \begin{pmatrix} 1 & -2 & 0 & -3 \\ 0 & 1 & 1 & 1 \\ 0 & 0 & 0 & 0 \end{pmatrix}$$

$$\text{ran}(C) = 2$$

$$D = \begin{pmatrix} 1 & 0 & 2 & 1 & -1 \\ 0 & 2 & -1 & 1 & 2 \\ -1 & 1 & 3 & 2 & 0 \\ 0 & 8 & 7 & 9 & 4 \end{pmatrix} \xrightarrow{\begin{matrix} 1^a \\ 2^a \\ 3^a + 1^a \\ 4^a \end{matrix}} \begin{pmatrix} 1 & 0 & 2 & 1 & -1 \\ 0 & 2 & -1 & 1 & 2 \\ 0 & 1 & 5 & 3 & -1 \\ 0 & 8 & 7 & 9 & 4 \end{pmatrix} \xrightarrow{\begin{matrix} 1^a \\ 2^a \\ -2 \cdot 3^a + 2^a \\ 4^a - 4 \cdot 2^a \end{matrix}}$$

$$\begin{pmatrix} 1 & 0 & 2 & 1 & -1 \\ 0 & 2 & -1 & 1 & 2 \\ 0 & 0 & -11 & -5 & 4 \\ 0 & 0 & 11 & 5 & -4 \end{pmatrix} \xrightarrow{\begin{matrix} 1^a \\ 2^a \\ 3^a \\ 4^a + 3^a \end{matrix}} \begin{pmatrix} 1 & 0 & 2 & 1 & -1 \\ 0 & 2 & -1 & 1 & 2 \\ 0 & 0 & -11 & -5 & 4 \\ 0 & 0 & 0 & 0 & 0 \end{pmatrix}$$

$$\text{ran}(D) = 3$$

Página 67

1. Expresa en forma matricial los siguientes sistemas de ecuaciones:

$$\text{a) } \begin{cases} x + z = 10 \\ 2x + 3y = 17 \\ 3x + 4y + z = 32 \end{cases} \quad \text{b) } \begin{cases} 2x - y = 7 \\ x - 2y = 11 \end{cases} \quad \text{c) } \begin{cases} x - 2y - 3z - 2t = -19 \\ y + 2z + t = 12 \\ 2y + 3z + t = 16 \\ 3x - 2y + t = 5 \end{cases}$$

$$\text{a) } \begin{cases} x + z = 10 \\ 2x + 3y = 17 \\ 3x + 4y + z = 32 \end{cases} \left\{ \begin{array}{ccc} 1 & 0 & 1 \\ 2 & 3 & 0 \\ 3 & 4 & 1 \end{array} \right\} \cdot \begin{pmatrix} x \\ y \\ z \end{pmatrix} = \begin{pmatrix} 10 \\ 17 \\ 32 \end{pmatrix}$$
$$\underbrace{\begin{pmatrix} 1 & 0 & 1 \\ 2 & 3 & 0 \\ 3 & 4 & 1 \end{pmatrix}}_A \cdot \underbrace{\begin{pmatrix} x \\ y \\ z \end{pmatrix}}_X = \underbrace{\begin{pmatrix} 10 \\ 17 \\ 32 \end{pmatrix}}_C$$

$$\text{b) } \begin{cases} 2x - y = 7 \\ x - 2y = 11 \end{cases} \left\{ \begin{array}{cc} 2 & -1 \\ 1 & -2 \end{array} \right\} \cdot \begin{pmatrix} x \\ y \end{pmatrix} = \begin{pmatrix} 7 \\ 11 \end{pmatrix}$$
$$\underbrace{\begin{pmatrix} 2 & -1 \\ 1 & -2 \end{pmatrix}}_A \cdot \underbrace{\begin{pmatrix} x \\ y \end{pmatrix}}_X = \underbrace{\begin{pmatrix} 7 \\ 11 \end{pmatrix}}_C$$

$$\text{c) } \begin{cases} x - 2y - 3z - 2t = -19 \\ y + 2z + t = 12 \\ 2y + 3z + t = 16 \\ 3x - 2y + t = 5 \end{cases} \left\{ \begin{array}{cccc} 1 & -2 & -3 & -2 \\ 0 & 1 & 2 & 1 \\ 0 & 2 & 3 & 1 \\ 3 & -2 & 0 & 1 \end{array} \right\} \cdot \begin{pmatrix} x \\ y \\ z \\ t \end{pmatrix} = \begin{pmatrix} -19 \\ 12 \\ 16 \\ 5 \end{pmatrix}$$
$$\underbrace{\begin{pmatrix} 1 & -2 & -3 & -2 \\ 0 & 1 & 2 & 1 \\ 0 & 2 & 3 & 1 \\ 3 & -2 & 0 & 1 \end{pmatrix}}_A \cdot \underbrace{\begin{pmatrix} x \\ y \\ z \\ t \end{pmatrix}}_X = \underbrace{\begin{pmatrix} -19 \\ 12 \\ 16 \\ 5 \end{pmatrix}}_C$$

2. Comprueba que las inversas de las matrices asociadas a los sistemas del ejercicio anterior son las que damos a continuación:

$$\text{a) } \begin{pmatrix} 3/2 & 2 & -3/2 \\ -1 & -1 & 1 \\ -1/2 & -2 & 3/2 \end{pmatrix} \quad \text{b) } \begin{pmatrix} 2/3 & -1/3 \\ 1/3 & -2/3 \end{pmatrix} \quad \text{c) } \frac{1}{2} \begin{pmatrix} -1 & -6 & 3 & 1 \\ -3 & -12 & 5 & 1 \\ 3 & 10 & -3 & -1 \\ -3 & -6 & 1 & 1 \end{pmatrix}$$

Resuelve con ellas, matricialmente, los sistemas del ejercicio 1.

a) Comprobamos que es la inversa:

$$A \cdot A^{-1} = \begin{pmatrix} 1 & 0 & 1 \\ 2 & 3 & 0 \\ 3 & 4 & 1 \end{pmatrix} \cdot \begin{pmatrix} 3/2 & 2 & -3/2 \\ -1 & -1 & 1 \\ -1/2 & -2 & 3/2 \end{pmatrix} = \begin{pmatrix} 1 & 0 & 0 \\ 0 & 1 & 0 \\ 0 & 0 & 1 \end{pmatrix} = I$$

Resolvemos el sistema:

$$X = A^{-1} \cdot C = \begin{pmatrix} 3/2 & 2 & -3/2 \\ -1 & -1 & 1 \\ -1/2 & -2 & 3/2 \end{pmatrix} \cdot \begin{pmatrix} 10 \\ 17 \\ 32 \end{pmatrix} = \begin{pmatrix} 1 \\ 5 \\ 9 \end{pmatrix}$$

Solución: $x = 1$, $y = 5$, $z = 9$

b) Comprobamos que es la inversa:

$$B \cdot B^{-1} = \begin{pmatrix} 2 & -1 \\ 1 & -2 \end{pmatrix} \cdot \begin{pmatrix} 2/3 & -1/3 \\ 1/3 & -2/3 \end{pmatrix} = \begin{pmatrix} 1 & 0 \\ 0 & 1 \end{pmatrix} = I$$

Resolvemos el sistema:

$$X = B^{-1} \cdot C = \begin{pmatrix} 2/3 & -1/3 \\ 1/3 & -2/3 \end{pmatrix} \cdot \begin{pmatrix} 7 \\ 11 \end{pmatrix} = \begin{pmatrix} 1 \\ -5 \end{pmatrix}$$

Solución: $x = 1$, $y = -5$

c) Comprobamos que es la inversa:

$$C \cdot C^{-1} = \frac{1}{2} \begin{pmatrix} -1 & -6 & 3 & 1 \\ -3 & -12 & 5 & 1 \\ 3 & 10 & -3 & -1 \\ -3 & -6 & 1 & 1 \end{pmatrix} \cdot \begin{pmatrix} 1 & -2 & -3 & -2 \\ 0 & 1 & 2 & 1 \\ 0 & 2 & 3 & 1 \\ 3 & -2 & 0 & 1 \end{pmatrix} = \begin{pmatrix} 1 & 0 & 0 & 0 \\ 0 & 1 & 0 & 0 \\ 0 & 0 & 1 & 0 \\ 0 & 0 & 0 & 1 \end{pmatrix} = I$$

Resolvemos el sistema:

$$X = C^{-1} \cdot D = \frac{1}{2} \begin{pmatrix} -1 & -6 & 3 & 1 \\ -3 & -12 & 5 & 1 \\ 3 & 10 & -3 & -1 \\ -3 & -6 & 1 & 1 \end{pmatrix} \cdot \begin{pmatrix} -19 \\ 12 \\ 16 \\ 5 \end{pmatrix} = \frac{1}{2} \begin{pmatrix} 0 \\ -2 \\ 10 \\ 6 \end{pmatrix} = \begin{pmatrix} 0 \\ -1 \\ 5 \\ 3 \end{pmatrix}$$

Solución: $x = 0$, $y = -1$, $z = 5$, $t = 3$

Página 72

EJERCICIOS Y PROBLEMAS PROPUESTOS

PARA PRACTICAR

Operaciones con matrices

1 Dadas las matrices $A = \begin{pmatrix} 7 & -2 \\ 3 & 1 \end{pmatrix}$ y $B = \begin{pmatrix} -3 & 0 \\ -2 & 2 \end{pmatrix}$, calcula:

a) $-2A + 3B$ b) $\frac{1}{2} A \cdot B$ c) $B \cdot (-A)$ d) $A \cdot A - B \cdot B$

a) $\begin{pmatrix} -23 & 4 \\ -12 & 4 \end{pmatrix}$ b) $\begin{pmatrix} -17/2 & -2 \\ -11/2 & 1 \end{pmatrix}$ c) $\begin{pmatrix} 21 & -6 \\ 8 & -6 \end{pmatrix}$ d) $\begin{pmatrix} 43 & -16 \\ 24 & -5 \end{pmatrix} - \begin{pmatrix} 9 & 0 \\ 2 & 4 \end{pmatrix} = \begin{pmatrix} 34 & -16 \\ 22 & -9 \end{pmatrix}$

2 Efectúa el producto $\begin{pmatrix} -3 & 2 \end{pmatrix} \begin{pmatrix} 1 & -1 \\ 5 & 2 \end{pmatrix} \begin{pmatrix} 0 \\ 1 \end{pmatrix}$.

$$\begin{pmatrix} 7 & 7 \end{pmatrix} \begin{pmatrix} 0 \\ 1 \end{pmatrix} = \begin{pmatrix} 7 \end{pmatrix}$$

3 a) ¿Son iguales las matrices $A = \begin{pmatrix} 2 \\ 3 \end{pmatrix}$ y $B = \begin{pmatrix} 2 & 3 \end{pmatrix}$?

b) Halla, si es posible, las matrices AB ; BA ; $A + B$; $A^t - B$.

a) No, A tiene dimensión 2×1 y B tiene dimensión 1×2 . Para que dos matrices sean iguales, deben tener la misma dimensión y coincidir término a término.

b) $A \cdot B = \begin{pmatrix} 4 & 6 \\ 6 & 9 \end{pmatrix}$; $B \cdot A = (1 \ 3)$; $A + B$ no se puede hacer, pues no tienen la misma dimensión.

$$A^t - B = (2 \ 3) - (2 \ 3) = (0 \ 0)$$

4 Dadas las matrices: $A = \begin{pmatrix} 1 & -2 & 1 \\ 3 & 0 & 1 \end{pmatrix}$ y $B = \begin{pmatrix} 4 & 0 & -1 \\ -2 & 1 & 0 \end{pmatrix}$ **comprueba que:**

a) $(A + B)^t = A^t + B^t$

b) $(3A)^t = 3A^t$

$$\left. \begin{aligned} \text{a) } (A + B)^t &= \begin{pmatrix} 5 & -2 & 0 \\ 1 & 1 & 1 \end{pmatrix}^t = \begin{pmatrix} 5 & 1 \\ -2 & 1 \\ 0 & 1 \end{pmatrix} \\ A^t + B^t &= \begin{pmatrix} 1 & 3 \\ -2 & 0 \\ 1 & 1 \end{pmatrix} + \begin{pmatrix} 4 & -2 \\ 0 & 1 \\ -1 & 0 \end{pmatrix} = \begin{pmatrix} 5 & 1 \\ -2 & 1 \\ 0 & 1 \end{pmatrix} \end{aligned} \right\} (A + B)^t = A^t + B^t$$

$$\left. \begin{aligned} \text{b) } (3A)^t &= \begin{pmatrix} 3 & -6 & 3 \\ 9 & 0 & 3 \end{pmatrix}^t = \begin{pmatrix} 3 & 9 \\ -6 & 0 \\ 3 & 3 \end{pmatrix} \\ 3A^t &= 3 \begin{pmatrix} 1 & 3 \\ -2 & 0 \\ 1 & 1 \end{pmatrix} = \begin{pmatrix} 3 & 9 \\ -6 & 0 \\ 3 & 3 \end{pmatrix} \end{aligned} \right\} (3A)^t = 3A^t$$

5 Calcula $3AA^t - 2I$, siendo $A = \begin{pmatrix} 3 & 1 \\ 5 & 2 \end{pmatrix}$.

$$\begin{aligned} 3A A^t - 2I &= 3 \begin{pmatrix} 3 & 1 \\ 5 & 2 \end{pmatrix} \begin{pmatrix} 3 & 5 \\ 1 & 2 \end{pmatrix} - \begin{pmatrix} 2 & 0 \\ 0 & 2 \end{pmatrix} = 3 \begin{pmatrix} 10 & 17 \\ 17 & 29 \end{pmatrix} - \begin{pmatrix} 2 & 0 \\ 0 & 2 \end{pmatrix} = \\ &= \begin{pmatrix} 30 & 51 \\ 51 & 87 \end{pmatrix} - \begin{pmatrix} 2 & 0 \\ 0 & 2 \end{pmatrix} = \begin{pmatrix} 28 & 51 \\ 51 & 85 \end{pmatrix} \end{aligned}$$

6 Dadas las matrices $A = \begin{pmatrix} 3 & -1 \\ 2 & -3 \end{pmatrix}$ y $B = \begin{pmatrix} -1 & 2 \\ 0 & 1 \end{pmatrix}$, comprueba que $(A \cdot B)^t = B^t \cdot A^t$.

$$\left. \begin{aligned} A \cdot B &= \begin{pmatrix} -3 & 5 \\ -2 & 1 \end{pmatrix} \rightarrow (A \cdot B)^t = \begin{pmatrix} -3 & -2 \\ 5 & 1 \end{pmatrix} \\ B^t \cdot A^t &= \begin{pmatrix} -1 & 0 \\ 2 & 1 \end{pmatrix} \cdot \begin{pmatrix} 3 & 2 \\ -1 & -3 \end{pmatrix} = \begin{pmatrix} -3 & -2 \\ 5 & 1 \end{pmatrix} \end{aligned} \right\} (A \cdot B)^t = B^t \cdot A^t$$

7 Calcula, en cada caso, la matriz B que verifica la igualdad:

a) $\begin{pmatrix} 3 & -1 & 5 \\ 1 & 0 & 3 \end{pmatrix} + B = \begin{pmatrix} 4 & 0 & 6 \\ 0 & 2 & 2 \end{pmatrix}$ b) $2 \begin{pmatrix} -1 & 4 \\ -3 & -2 \end{pmatrix} - 3B = \begin{pmatrix} -5 & 4 \\ 0 & -1 \end{pmatrix}$

$$a) B = \begin{pmatrix} 4 & 0 & 6 \\ 0 & 2 & 2 \end{pmatrix} - \begin{pmatrix} 3 & -1 & 5 \\ 1 & 0 & 3 \end{pmatrix} = \begin{pmatrix} 1 & 1 & 1 \\ -1 & 2 & -1 \end{pmatrix}$$

$$b) 2 \begin{pmatrix} -1 & 4 \\ -3 & -2 \end{pmatrix} - 3B = \begin{pmatrix} -5 & 4 \\ 0 & -1 \end{pmatrix} \rightarrow 3B = 2 \begin{pmatrix} -1 & 4 \\ -3 & -2 \end{pmatrix} - \begin{pmatrix} -5 & 4 \\ 0 & -1 \end{pmatrix} = \begin{pmatrix} 3 & 4 \\ -6 & -3 \end{pmatrix}$$

$$B = \begin{pmatrix} 1 & 4/3 \\ -2 & -1 \end{pmatrix}$$

Matriz inversa

8 Comprueba que la matriz inversa de A es A^{-1} :

$$A = \begin{pmatrix} 1 & 2 & 1 \\ 0 & 1 & 0 \\ 2 & 0 & 3 \end{pmatrix} \quad A^{-1} = \begin{pmatrix} 3 & -6 & -1 \\ 0 & 1 & 0 \\ -2 & 4 & 1 \end{pmatrix}$$

$$A \cdot A^{-1} = I$$

9 ¿Cuál es la matriz inversa de la matriz unidad?

La matriz unidad, I .

10 Halla la matriz inversa de $A = \begin{pmatrix} 1 & 2 \\ -1 & 0 \end{pmatrix}$ y la de $B = \begin{pmatrix} -1 & 0 \\ 2 & 4 \end{pmatrix}$.

$$|A| = 2 \rightarrow A^{-1} = \begin{pmatrix} 0 & -1 \\ 1/2 & 1/2 \end{pmatrix}$$

$$|B| = -4 \rightarrow B^{-1} = \begin{pmatrix} -1 & 0 \\ 1/2 & 1/4 \end{pmatrix}$$

11 Con las matrices A y B del ejercicio anterior y sus inversas, A^{-1} y B^{-1} , comprueba que:

a) $(A + B)^{-1} \neq A^{-1} + B^{-1}$

b) $(A \cdot B)^{-1} = B^{-1} \cdot A^{-1}$

$$a) \left. \begin{aligned} (A + B)^{-1} &= \begin{pmatrix} 0 & 2 \\ 1 & 4 \end{pmatrix}^{-1} = \begin{pmatrix} -2 & 1 \\ 1/2 & 0 \end{pmatrix} \\ A^{-1} + B^{-1} &= \begin{pmatrix} -1 & -1 \\ 1 & 3/4 \end{pmatrix} \end{aligned} \right\} (A + B)^{-1} \neq A^{-1} + B^{-1}$$

$$b) \left. \begin{aligned} (A \cdot B)^{-1} &= \begin{pmatrix} 3 & 8 \\ 1 & 0 \end{pmatrix}^{-1} = \begin{pmatrix} 0 & 1 \\ 1/8 & -3/8 \end{pmatrix} \\ B^{-1} \cdot A^{-1} &= \begin{pmatrix} -1 & 0 \\ 1/2 & 1/4 \end{pmatrix} \cdot \begin{pmatrix} 0 & -1 \\ 1/2 & 1/2 \end{pmatrix} = \begin{pmatrix} 0 & 1 \\ 1/8 & -3/8 \end{pmatrix} \end{aligned} \right\} (A \cdot B)^{-1} = B^{-1} \cdot A^{-1}$$

12 Halla la matriz inversa de las siguientes matrices:

$$A = \begin{pmatrix} 1 & 0 & 0 \\ 0 & 2 & 0 \\ 0 & 0 & 3 \end{pmatrix}$$

$$B = \begin{pmatrix} 0 & 0 & 1 \\ 0 & 1 & 0 \\ 1 & 0 & 0 \end{pmatrix}$$

$$\left(\begin{array}{ccc|ccc} 1 & 0 & 0 & 1 & 0 & 0 \\ 0 & 2 & 0 & 0 & 1 & 0 \\ 0 & 0 & 3 & 0 & 0 & 1 \end{array} \right) \xrightarrow{\substack{1^a \\ 2^a : 2 \\ 3^a : 3}} \left(\begin{array}{ccc|ccc} 1 & 0 & 0 & 1 & 0 & 0 \\ 0 & 1 & 0 & 0 & 1/2 & 0 \\ 0 & 0 & 1 & 0 & 0 & 1/3 \end{array} \right)$$

Por tanto: $A^{-1} = \begin{pmatrix} 1 & 0 & 0 \\ 0 & 1/2 & 0 \\ 0 & 0 & 1/3 \end{pmatrix}$

$$\left(\begin{array}{ccc|ccc} 0 & 0 & 1 & 1 & 0 & 0 \\ 0 & 1 & 0 & 0 & 1 & 0 \\ 1 & 0 & 0 & 0 & 0 & 1 \end{array} \right) \xrightarrow{\substack{3^a \\ 2^a \\ 1^a}} \left(\begin{array}{ccc|ccc} 1 & 0 & 0 & 0 & 0 & 1 \\ 0 & 1 & 0 & 0 & 1 & 0 \\ 0 & 0 & 1 & 1 & 0 & 0 \end{array} \right)$$

Por tanto: $B^{-1} = \begin{pmatrix} 0 & 0 & 1 \\ 0 & 1 & 0 \\ 1 & 0 & 0 \end{pmatrix}$

Rango de una matriz

13 Di cuál es el rango de las matrices A y B :

$$A = \begin{pmatrix} 1 & 0 & 1 \\ 0 & 2 & 0 \\ 0 & 0 & 5 \end{pmatrix}$$

$$B = \begin{pmatrix} 2 & -1 & 0 & -1 \\ -2 & 1 & 3 & 3 \\ 0 & 0 & 3 & 2 \end{pmatrix}$$

$\text{ran}(A) = 3$ (ya está en forma escalonada)

$$B = \left(\begin{array}{cccc} 2 & -1 & 0 & -1 \\ -2 & 1 & 3 & 3 \\ 0 & 0 & 3 & 2 \end{array} \right) \xrightarrow{\substack{1^a \\ 2^a + 1^a \\ 3^a}} \left(\begin{array}{cccc} 2 & -1 & 0 & -1 \\ 0 & 0 & 3 & 2 \\ 0 & 0 & 3 & 2 \end{array} \right) \xrightarrow{\substack{1^a \\ 2^a \\ 3^a - 2^a}} \left(\begin{array}{cccc} 2 & -1 & 0 & -1 \\ 0 & 0 & 3 & 2 \\ 0 & 0 & 0 & 0 \end{array} \right)$$

$$\left(\begin{array}{cccc} 2 & -1 & 0 & -1 \\ 0 & 0 & 3 & 2 \\ 0 & 0 & 0 & 0 \end{array} \right) \rightarrow \text{ran}(B) = 2$$

14 Estudia el rango de estas matrices y di, en cada caso, el número de columnas que son L.I.:

$$A = \begin{pmatrix} 1 & 1 & 1 & 2 \\ 2 & 3 & 5 & 11 \\ 1 & -1 & 6 & 29 \end{pmatrix}$$

$$B = \begin{pmatrix} 2 & 1 & 3 \\ 4 & 2 & -1 \\ 6 & 3 & 2 \end{pmatrix}$$

$$C = \begin{pmatrix} 1 & -3 & -1 & -1 \\ 1 & 5 & 3 & 3 \\ 1 & 1 & 1 & 1 \\ 3 & 7 & 5 & 5 \end{pmatrix}$$

$$D = \begin{pmatrix} 1 & 1 & 1 & 1 \\ 1 & -1 & 1 & -1 \\ 1 & 1 & -1 & -1 \\ 1 & 1 & 1 & -1 \end{pmatrix}$$

$$A = \begin{pmatrix} 1 & 1 & 1 & 2 \\ 2 & 3 & 5 & 11 \\ 1 & -1 & 6 & 29 \end{pmatrix} \rightarrow \begin{matrix} 1^a \\ 2^a - 2 \cdot 1^a \\ 3^a - 1^a \end{matrix} \rightarrow \begin{pmatrix} 1 & 1 & 1 & 2 \\ 0 & 1 & 3 & 7 \\ 0 & -2 & 5 & 27 \end{pmatrix} \rightarrow \begin{matrix} 1^a \\ 2^a \\ 3^a + 2 \cdot 2^a \end{matrix} \rightarrow$$

$$\begin{pmatrix} 1 & 1 & 1 & 2 \\ 0 & 1 & 3 & 7 \\ 0 & 0 & 11 & 41 \end{pmatrix} \rightarrow \text{ran}(A) = 3$$

Hay 3 columnas linealmente independientes en A .

$$B = \begin{pmatrix} 2 & 1 & 3 \\ 4 & 2 & -1 \\ 6 & 3 & 2 \end{pmatrix} \rightarrow \begin{matrix} 1^a \\ 2^a - 2 \cdot 1^a \\ 3^a - 3 \cdot 1^a \end{matrix} \rightarrow \begin{pmatrix} 2 & 1 & 3 \\ 0 & 0 & -7 \\ 0 & 0 & -7 \end{pmatrix} \rightarrow \begin{matrix} 1^a \\ 2^a \\ 3^a - 2^a \end{matrix} \rightarrow \begin{pmatrix} 2 & 1 & 3 \\ 0 & 0 & -7 \\ 0 & 0 & 0 \end{pmatrix} \rightarrow \text{ran}(B) = 2$$

Hay 2 columnas linealmente independientes en B .

$$C = \begin{pmatrix} 1 & -3 & -1 & -1 \\ 1 & 5 & 3 & 3 \\ 1 & 1 & 1 & 1 \\ 3 & 7 & 5 & 5 \end{pmatrix} \rightarrow \begin{matrix} 3^a \\ 2^a \\ 1^a \\ 4^a \end{matrix} \rightarrow \begin{pmatrix} 1 & 1 & 1 & 1 \\ 1 & 5 & 3 & 3 \\ 1 & -3 & -1 & -1 \\ 3 & 7 & 5 & 5 \end{pmatrix} \rightarrow \begin{matrix} 1^a \\ 2^a - 1^a \\ 3^a - 1^a \\ 4^a - 3 \cdot 1^a \end{matrix} \rightarrow$$

$$\begin{pmatrix} 1 & 1 & 1 & 1 \\ 0 & 4 & 2 & 2 \\ 0 & -4 & -2 & -2 \\ 0 & 4 & 2 & 2 \end{pmatrix} \rightarrow \begin{matrix} 1^a \\ 2^a \\ 3^a + 2^a \\ 4^a - 2^a \end{matrix} \rightarrow \begin{pmatrix} 1 & 1 & 1 & 1 \\ 0 & 4 & 2 & 2 \\ 0 & 0 & 0 & 0 \\ 0 & 0 & 0 & 0 \end{pmatrix} \rightarrow \text{ran}(C) = 2$$

Hay dos columnas linealmente independientes en C .

$$D = \begin{pmatrix} 1 & 1 & 1 & 1 \\ 1 & -1 & 1 & -1 \\ 1 & 1 & -1 & -1 \\ 1 & 1 & 1 & -1 \end{pmatrix} \rightarrow \begin{matrix} 1^a \\ 2^a - 1^a \\ 3^a - 1^a \\ 4^a - 1^a \end{matrix} \rightarrow \begin{pmatrix} 1 & 1 & 1 & 1 \\ 0 & -2 & 0 & -2 \\ 0 & 0 & -2 & -2 \\ 0 & 0 & 0 & -2 \end{pmatrix} \rightarrow \text{ran}(D) = 4$$

Las cuatro columnas de D son linealmente independientes.

Ecuaciones con matrices

15 Halla las matrices X e Y que verifican el sistema

$$2X + Y = \begin{pmatrix} 1 & 4 \\ 2 & 0 \end{pmatrix}, \quad X - Y = \begin{pmatrix} 1 & -1 \\ 1 & 0 \end{pmatrix}.$$

$$\left. \begin{array}{l} 2X + Y = \begin{pmatrix} 1 & 4 \\ 2 & 0 \end{pmatrix} \\ X - Y = \begin{pmatrix} 1 & -1 \\ 1 & 0 \end{pmatrix} \end{array} \right\} \text{Sumando las dos ecuaciones, queda:}$$

$$3X = \begin{pmatrix} 2 & 3 \\ 3 & 0 \end{pmatrix} \rightarrow X = \begin{pmatrix} 2/3 & 1 \\ 1 & 0 \end{pmatrix}$$

Despejamos Y en la 2ª ecuación:

$$Y = X - \begin{pmatrix} 1 & -1 \\ 1 & 0 \end{pmatrix} = \begin{pmatrix} 2/3 & 1 \\ 1 & 0 \end{pmatrix} - \begin{pmatrix} 1 & -1 \\ 1 & 0 \end{pmatrix} = \begin{pmatrix} -1/3 & 2 \\ 0 & 0 \end{pmatrix}$$

Por tanto, $X = \begin{pmatrix} 2/3 & 1 \\ 1 & 0 \end{pmatrix}$ y $Y = \begin{pmatrix} -1/3 & 2 \\ 0 & 0 \end{pmatrix}$.

16 Calcula X tal que $X - B^2 = A \cdot B$, siendo:

S

$$A = \begin{pmatrix} 1 & 0 & 1 \\ 1 & 1 & 0 \\ 0 & 0 & 2 \end{pmatrix} \qquad B = \begin{pmatrix} 1 & 0 & -1 \\ 1 & 1 & 1 \\ 0 & 0 & 1 \end{pmatrix}$$

$$X = A \cdot B + B^2$$

$$\left. \begin{array}{l} A \cdot B = \begin{pmatrix} 1 & 0 & 0 \\ 2 & 1 & 0 \\ 0 & 0 & 2 \end{pmatrix} \\ B^2 = \begin{pmatrix} 1 & 0 & -2 \\ 2 & 1 & 1 \\ 0 & 0 & 1 \end{pmatrix} \end{array} \right\} X = \begin{pmatrix} 2 & 0 & -2 \\ 4 & 2 & 1 \\ 0 & 0 & 3 \end{pmatrix}$$

17 Determina los valores de m para los cuales

$X = \begin{pmatrix} m & 0 \\ 0 & 2 \end{pmatrix}$ verifique $X^2 - \frac{5}{2}X + I = 0$.

$$\begin{aligned} X^2 - \frac{5}{2}X + I &= \begin{pmatrix} m & 0 \\ 0 & 2 \end{pmatrix} \begin{pmatrix} m & 0 \\ 0 & 2 \end{pmatrix} - \frac{5}{2} \begin{pmatrix} m & 0 \\ 0 & 2 \end{pmatrix} + \begin{pmatrix} 1 & 0 \\ 0 & 1 \end{pmatrix} = \\ &= \begin{pmatrix} m^2 & 0 \\ 0 & 4 \end{pmatrix} - \frac{5}{2} \begin{pmatrix} m & 0 \\ 0 & 2 \end{pmatrix} + \begin{pmatrix} 1 & 0 \\ 0 & 1 \end{pmatrix} = \begin{pmatrix} m^2 - (5/2)m + 1 & 0 \\ 0 & 0 \end{pmatrix} = \begin{pmatrix} 0 & 0 \\ 0 & 0 \end{pmatrix} \end{aligned}$$

Tiene que cumplirse que:

$$m^2 - \frac{5}{2}m + 1 = 0 \rightarrow 2m^2 - 5m + 2 = 0 \rightarrow$$

$$\rightarrow m = \frac{5 \pm \sqrt{25 - 16}}{4} = \frac{5 \pm 3}{4} \begin{cases} m = 2 \\ m = \frac{1}{2} \end{cases}$$

Hay dos soluciones: $m_1 = 2$; $m_2 = \frac{1}{2}$

18 Resuelve: $\begin{pmatrix} 1 & -1 \\ 3 & 2 \end{pmatrix} \begin{pmatrix} x \\ y \end{pmatrix} = \begin{pmatrix} 1 & x \\ y & -1 \end{pmatrix} \begin{pmatrix} 3 \\ 2 \end{pmatrix}$

$$\begin{pmatrix} 1 & -1 \\ 3 & 2 \end{pmatrix} \begin{pmatrix} x \\ y \end{pmatrix} = \begin{pmatrix} 1 & x \\ y & -1 \end{pmatrix} \begin{pmatrix} 3 \\ 2 \end{pmatrix} \rightarrow$$

$$\begin{pmatrix} x - y \\ 3x + 2y \end{pmatrix} = \begin{pmatrix} 3 + 2x \\ 3y - 2 \end{pmatrix} \rightarrow \left. \begin{array}{l} x - y = 3 + 2x \\ 3x + 2y = 3y - 2 \end{array} \right\} \begin{array}{l} x + y = -3 \\ 3x - y = -2 \end{array}$$

Sumando: $4x = -5 \rightarrow x = \frac{-5}{4} \rightarrow y = -3 - x = -3 + \frac{5}{4} = \frac{-7}{4}$

Solución: $x = \frac{-5}{4}; y = \frac{-7}{4}$

Página 73

PARA RESOLVER

- 19 Dada la matriz $A = \begin{pmatrix} 4 & 5 & -1 \\ -3 & -4 & 1 \\ -3 & -4 & 0 \end{pmatrix}$, calcula A^2, A^3, \dots, A^{128} .

$$A^2 = A \cdot A = \begin{pmatrix} 4 & 4 & 1 \\ -3 & -3 & -1 \\ 0 & 1 & -1 \end{pmatrix}; A^3 = A^2 \cdot A = \begin{pmatrix} 1 & 0 & 0 \\ 0 & 1 & 0 \\ 0 & 0 & 1 \end{pmatrix} = I; A^4 = A^3 \cdot A = I \cdot A = A$$

$$A^{128} = A^{42 \cdot 3 + 2} = (A^3)^{42} \cdot A^2 = I^{42} \cdot A^2 = I \cdot A^2 = A^2 = \begin{pmatrix} 4 & 4 & 1 \\ -3 & -3 & -1 \\ 0 & 1 & -1 \end{pmatrix}$$

- 20 Comprueba que $A^2 = 2A - I$, siendo: $A = \begin{pmatrix} 5 & -4 & 2 \\ 2 & -1 & 1 \\ -4 & 4 & -1 \end{pmatrix}$ e I la matriz unidad de orden 3.

Utiliza esa igualdad para calcular A^4 .

$$\left. \begin{aligned} A^2 &= A \cdot A = \begin{pmatrix} 9 & -8 & 4 \\ 4 & -3 & 2 \\ -8 & 8 & -3 \end{pmatrix} \\ 2A - I &= \begin{pmatrix} 10 & -8 & 4 \\ 4 & -2 & 2 \\ -8 & 8 & -2 \end{pmatrix} - \begin{pmatrix} 1 & 0 & 0 \\ 0 & 1 & 0 \\ 0 & 0 & 1 \end{pmatrix} = \begin{pmatrix} 9 & -8 & 4 \\ 4 & -3 & 2 \\ -8 & 8 & -3 \end{pmatrix} \end{aligned} \right\} A^2 = 2A - I$$

Calculamos A^4 :

$$A^4 = (A^2)^2 = (2A - I)^2 = (2A - I)(2A - I) = 4A^2 - 2A - 2A + I^2 =$$

$$= 4(2A - I) - 4A + I = 8A - 4I - 4A + I = 4A - 3I =$$

$$= 4 \begin{pmatrix} 5 & -4 & 2 \\ 2 & -1 & 1 \\ -4 & 4 & -1 \end{pmatrix} - 3 \begin{pmatrix} 1 & 0 & 0 \\ 0 & 1 & 0 \\ 0 & 0 & 1 \end{pmatrix} = \begin{pmatrix} 20 & -16 & 8 \\ 8 & -4 & 4 \\ -16 & 16 & -4 \end{pmatrix} - \begin{pmatrix} 3 & 0 & 0 \\ 0 & 3 & 0 \\ 0 & 0 & 3 \end{pmatrix} = \begin{pmatrix} 17 & -16 & 8 \\ 8 & -7 & 4 \\ -16 & 16 & -7 \end{pmatrix}$$

- 21 Determina a y b de forma que la matriz

$$A = \begin{pmatrix} 2 & -1 \\ a & b \end{pmatrix} \text{ verifique } A^2 = A.$$

$$A^2 = A \cdot A = \begin{pmatrix} 2 & -1 \\ a & b \end{pmatrix} \begin{pmatrix} 2 & -1 \\ a & b \end{pmatrix} = \begin{pmatrix} 4 - a & -2 - b \\ 2a + ab & -a + b^2 \end{pmatrix}$$

$$A^2 = A \rightarrow \begin{pmatrix} 4-a & -2-b \\ 2a+ab & -a+b^2 \end{pmatrix} = \begin{pmatrix} 2 & -1 \\ a & b \end{pmatrix} \rightarrow \begin{cases} 4-a=2 & \rightarrow a=2 \\ -2-b=-1 & \rightarrow b=-1 \\ 2a+ab=a & \rightarrow 4-2=2 \\ -a+b^2=b & \rightarrow -2+1=-1 \end{cases}$$

Por tanto, $a = 2$ y $b = -1$.

22 **S** **Calcula A^n y B^n siendo:** $A = \begin{pmatrix} 1 & 1/7 & 1/7 \\ 0 & 1 & 0 \\ 0 & 0 & 1 \end{pmatrix}$ $B = \begin{pmatrix} 1 & 0 \\ 0 & 3 \end{pmatrix}$

$$\bullet A^2 = A \cdot A = \begin{pmatrix} 1 & 1/7 & 1/7 \\ 0 & 1 & 0 \\ 0 & 0 & 1 \end{pmatrix} \begin{pmatrix} 1 & 1/7 & 1/7 \\ 0 & 1 & 0 \\ 0 & 0 & 1 \end{pmatrix} = \begin{pmatrix} 1 & 2/7 & 2/7 \\ 0 & 1 & 0 \\ 0 & 0 & 1 \end{pmatrix}$$

$$A^3 = A^2 \cdot A = \begin{pmatrix} 1 & 2/7 & 2/7 \\ 0 & 1 & 0 \\ 0 & 0 & 1 \end{pmatrix} \begin{pmatrix} 1 & 1/7 & 1/7 \\ 0 & 1 & 0 \\ 0 & 0 & 1 \end{pmatrix} = \begin{pmatrix} 1 & 3/7 & 3/7 \\ 0 & 1 & 0 \\ 0 & 0 & 1 \end{pmatrix}$$

Así, $A^n = \begin{pmatrix} 1 & n/7 & n/7 \\ 0 & 1 & 0 \\ 0 & 0 & 1 \end{pmatrix}$. Lo probamos por inducción:

Acabamos de comprobar que para $n = 2$ (primer caso relevante), funciona.

Suponemos que es cierto para $n - 1$:

$$A^n = A^{n-1} \cdot A = \begin{pmatrix} 1 & n-1/7 & n-1/7 \\ 0 & 1 & 0 \\ 0 & 0 & 1 \end{pmatrix} \cdot \begin{pmatrix} 1 & 1/7 & 1/7 \\ 0 & 1 & 0 \\ 0 & 0 & 1 \end{pmatrix} = \begin{pmatrix} 1 & n/7 & n/7 \\ 0 & 1 & 0 \\ 0 & 0 & 1 \end{pmatrix}$$

$$\bullet B^2 = \begin{pmatrix} 1 & 0 \\ 0 & 3 \end{pmatrix} \begin{pmatrix} 1 & 0 \\ 0 & 3 \end{pmatrix} = \begin{pmatrix} 1 & 0 \\ 0 & 3^2 \end{pmatrix} = \begin{pmatrix} 1 & 0 \\ 0 & 9 \end{pmatrix}$$

$$B^3 = B^2 \cdot B = \begin{pmatrix} 1 & 0 \\ 0 & 9 \end{pmatrix} \begin{pmatrix} 1 & 0 \\ 0 & 3 \end{pmatrix} = \begin{pmatrix} 1 & 0 \\ 0 & 27 \end{pmatrix} = \begin{pmatrix} 1 & 0 \\ 0 & 3^3 \end{pmatrix}$$

Por tanto, $B^n = \begin{pmatrix} 1 & 0 \\ 0 & 3^n \end{pmatrix}$. Lo probamos por inducción:

Igual que en el caso anterior, para $n = 2$ se cumple.

Suponemos que es cierto para $n - 1$:

$$B^n = B^{n-1} \cdot B = \begin{pmatrix} 1 & 0 \\ 0 & 3^{n-1} \end{pmatrix} \cdot \begin{pmatrix} 1 & 0 \\ 0 & 3 \end{pmatrix} = \begin{pmatrix} 1 & 0 \\ 0 & 3^n \end{pmatrix}$$

23 **Dada la matriz $A = \begin{pmatrix} 1 & 2 \\ 2 & 1 \end{pmatrix}$, halla una matriz B tal que $A \cdot B = \begin{pmatrix} 0 & 3 \\ 3 & 0 \end{pmatrix}$.**

$$A \cdot B = \begin{pmatrix} 0 & 3 \\ 3 & 0 \end{pmatrix} \rightarrow A^{-1} A B = A^{-1} \cdot \begin{pmatrix} 0 & 3 \\ 3 & 0 \end{pmatrix} \rightarrow B = A \cdot \begin{pmatrix} 0 & 3 \\ 3 & 0 \end{pmatrix}$$

Calculamos A^{-1} : $|A| = -3$; $A^{-1} = \frac{-1}{3} \begin{pmatrix} 1 & -2 \\ -2 & 1 \end{pmatrix}$

Por tanto:

$$B = \frac{-1}{3} \begin{pmatrix} 1 & -2 \\ -2 & 1 \end{pmatrix} \cdot \begin{pmatrix} 0 & 3 \\ 3 & 0 \end{pmatrix} = \begin{pmatrix} 1 & -2 \\ -2 & 1 \end{pmatrix} \cdot \begin{pmatrix} 0 & -1 \\ -1 & 0 \end{pmatrix} = \begin{pmatrix} 2 & -1 \\ -1 & 2 \end{pmatrix}$$

24 Dada la matriz $A = \begin{pmatrix} 0 & 2 & -1 \\ 0 & 0 & 1 \\ 0 & 0 & 0 \end{pmatrix}$, prueba que A^3 es la matriz nula.

Demuestra después que la matriz $I + A + A^2$ es la matriz inversa de $I - A$.

• Multiplica $I + A + A^2$ por $I - A$.

$$A^2 = \begin{pmatrix} 0 & 0 & 2 \\ 0 & 0 & 0 \\ 0 & 0 & 0 \end{pmatrix}; A^3 = A^2 \cdot A = \begin{pmatrix} 0 & 0 & 0 \\ 0 & 0 & 0 \\ 0 & 0 & 0 \end{pmatrix}$$

Veamos que $I + A + A^2$ es la inversa de $I - A$:

$$(I + A + A^2)(I - A) = I - A + A - A^2 + A^2 - A^3 = I - A^3 = I - \mathbf{0} = I.$$

Como $(I + A + A^2) \cdot (I - A) = I$, entonces $I + A + A^2$ es la inversa de $I - A$.

25 Dada la matriz $A = \begin{pmatrix} 3 & 0 & 8 \\ 3 & -1 & 6 \\ -2 & 0 & -5 \end{pmatrix}$ comprueba que $(A + I)^2 = \mathbf{0}$ y expresa A^2 como combinación lineal de A e I .

$$A + I = \begin{pmatrix} 3 & 0 & 8 \\ 3 & -1 & 6 \\ -2 & 0 & -5 \end{pmatrix} + \begin{pmatrix} 1 & 0 & 0 \\ 0 & 1 & 0 \\ 0 & 0 & 1 \end{pmatrix} = \begin{pmatrix} 4 & 0 & 8 \\ 3 & 0 & 6 \\ -2 & 0 & -4 \end{pmatrix}$$

$$(A + I)^2 = \begin{pmatrix} 4 & 0 & 8 \\ 3 & 0 & 6 \\ -2 & 0 & -4 \end{pmatrix} \begin{pmatrix} 4 & 0 & 8 \\ 3 & 0 & 6 \\ -2 & 0 & -4 \end{pmatrix} = \begin{pmatrix} 0 & 0 & 0 \\ 0 & 0 & 0 \\ 0 & 0 & 0 \end{pmatrix}$$

Expresamos A^2 como combinación lineal de A e I :

$$(A + I)^2 = \mathbf{0} \rightarrow (A + I)(A + I) = A^2 + A + A + I = A^2 + 2A + I = \mathbf{0} \rightarrow \\ \rightarrow A^2 = -2A - I$$

26 a) Comprueba que la inversa de A es A^{-1} :

$$A = \begin{pmatrix} 5 & 0 & 2 \\ 0 & 0 & 1 \\ 3 & 1 & 0 \end{pmatrix} \quad A^{-1} = \begin{pmatrix} 1/5 & -2/5 & 0 \\ -3/5 & 6/5 & 1 \\ 0 & 1 & 0 \end{pmatrix}$$

b) Calcula la matriz X que verifica $XA = B$, siendo A la matriz anterior y $B = (1 \ -2 \ 3)$.

$$a) A \cdot A^{-1} = I$$

$$b) XA = B \rightarrow X \cdot A \cdot A^{-1} = B \cdot A^{-1} \rightarrow X = B \cdot A^{-1}$$

Por tanto:

$$X = (1 \quad -2 \quad 3) \begin{pmatrix} 1/5 & -2/5 & 0 \\ -3/5 & 6/5 & 1 \\ 0 & 1 & 0 \end{pmatrix} = \left(\frac{7}{5} \quad \frac{1}{5} \quad -2 \right)$$

27 **S** Determina las matrices A y B que son solución del siguiente sistema matricial:

$$3A - 2B = \begin{pmatrix} 0 & 5 & -4 \\ 5 & 9 & 0 \\ 15 & -4 & 4 \end{pmatrix} \quad 2A + B = \begin{pmatrix} 7 & 1 & 2 \\ -6 & 6 & 7 \\ 10 & -5 & -2 \end{pmatrix}$$

$$3A - 2B = \begin{pmatrix} 0 & 5 & -4 \\ 5 & 9 & 0 \\ 15 & -4 & 4 \end{pmatrix} \quad 2A + B = \begin{pmatrix} 7 & 1 & 2 \\ -6 & 6 & 7 \\ 10 & -5 & -2 \end{pmatrix}$$

Multiplicando por 2 la 2ª ecuación y sumando, obtenemos:

$$7A = \begin{pmatrix} 14 & 7 & 0 \\ -7 & 21 & 14 \\ 35 & -14 & 0 \end{pmatrix} \rightarrow A = \begin{pmatrix} 2 & 1 & 0 \\ -1 & 3 & 2 \\ 5 & -2 & 0 \end{pmatrix}$$

Despejamos B de la 2ª ecuación:

$$B = \begin{pmatrix} 7 & 1 & 2 \\ -6 & 6 & 7 \\ 10 & -5 & -2 \end{pmatrix} - 2 \begin{pmatrix} 2 & 1 & 0 \\ -1 & 3 & 2 \\ 5 & -2 & 0 \end{pmatrix} = \begin{pmatrix} 3 & -1 & 2 \\ -4 & 0 & 3 \\ 0 & -1 & -2 \end{pmatrix}$$

$$\text{Solución: } A = \begin{pmatrix} 2 & 1 & 0 \\ -1 & 3 & 2 \\ 5 & -2 & 0 \end{pmatrix}; \quad B = \begin{pmatrix} 3 & -1 & 2 \\ -4 & 0 & 3 \\ 0 & -1 & -2 \end{pmatrix}$$

28 Estudia el rango de las siguientes matrices según el valor del parámetro k :

$$M = \begin{pmatrix} 1 & -1 & -1 \\ 1 & -1 & 2 \\ 2 & 1 & k \end{pmatrix} \quad N = \begin{pmatrix} 2 & -1 & 4 \\ -2 & 1 & 3 \\ 1 & k & 2 \end{pmatrix} \quad P = \begin{pmatrix} 1 & 3 & 2 & -1 \\ 2 & 6 & 4 & k \\ 4 & 12 & 8 & -4 \end{pmatrix} \quad Q = \begin{pmatrix} -1 & 1 & 0 & 2 \\ 1 & 3 & 1 & 0 \\ 2 & 10 & 3 & k \end{pmatrix}$$

$$M = \begin{pmatrix} 1 & -1 & -1 \\ 1 & -1 & 2 \\ 2 & 1 & k \end{pmatrix} \rightarrow \begin{pmatrix} 1^{\text{a}} & & \\ 2^{\text{a}} - 1^{\text{a}} & & \\ 3^{\text{a}} - 2 \cdot 1^{\text{a}} & & \end{pmatrix} \rightarrow \begin{pmatrix} 1 & -1 & -1 \\ 0 & 0 & 3 \\ 0 & 3 & k+2 \end{pmatrix} \rightarrow$$

$\rightarrow \text{ran}(M) = 3$ para cualquier valor de k .

$$N = \begin{pmatrix} 2 & -1 & 4 \\ -2 & 1 & 3 \\ 1 & k & 2 \end{pmatrix} \rightarrow \begin{pmatrix} 1^{\text{a}} & & \\ 2^{\text{a}} + 1^{\text{a}} & & \\ 2 \cdot 3^{\text{a}} - 1^{\text{a}} & & \end{pmatrix} \rightarrow \begin{pmatrix} 2 & -1 & 4 \\ 0 & 0 & 7 \\ 0 & 1 + 2k & 0 \end{pmatrix} \rightarrow 1 + 2k = 0 \text{ si } k = -\frac{1}{2}$$

- Si $k = -\frac{1}{2}$, $\text{ran}(N) = 2$.

- Si $k \neq -\frac{1}{2}$, $\text{ran}(N) = 3$.

$$P = \begin{pmatrix} 1 & 3 & 2 & -1 \\ 2 & 6 & 4 & k \\ 4 & 12 & 8 & -4 \end{pmatrix} \xrightarrow{\begin{matrix} 1^a \\ 3^a : 4 \\ 2^a \end{matrix}} \begin{pmatrix} 1 & 3 & 2 & -1 \\ 1 & 3 & 2 & -1 \\ 2 & 6 & 4 & k \end{pmatrix} \xrightarrow{\begin{matrix} 1^a \\ 2^a - 1^a \\ 3^a - 2 \cdot 1^a \end{matrix}} \begin{pmatrix} 1 & 3 & 2 & -1 \\ 0 & 0 & 0 & 0 \\ 0 & 0 & 0 & k+2 \end{pmatrix}$$

- Si $k = -2 \rightarrow \text{ran}(P) = 1$

- Si $k \neq -2 \rightarrow \text{ran}(P) = 2$

$$Q = \begin{pmatrix} -1 & 1 & 0 & 2 \\ 1 & 3 & 1 & 0 \\ 2 & 10 & 3 & k \end{pmatrix} \xrightarrow{\begin{matrix} 1^a \\ 2^a + 1^a \\ 3^a + 2 \cdot 1^a \end{matrix}} \begin{pmatrix} -1 & 1 & 0 & 2 \\ 0 & 4 & 1 & 2 \\ 0 & 12 & 3 & k+4 \end{pmatrix} \xrightarrow{\begin{matrix} 1^a \\ 2^a \\ 3^a - 3 \cdot 2^a \end{matrix}}$$

$$\begin{pmatrix} -1 & 1 & 0 & 2 \\ 0 & 4 & 1 & 2 \\ 0 & 0 & 0 & k-2 \end{pmatrix}$$

- Si $k = 2 \rightarrow \text{ran}(Q) = 2$

- Si $k \neq 2 \rightarrow \text{ran}(Q) = 3$

29 Halla el valor de k para que el rango de la matriz A sea 2.

$$A = \begin{pmatrix} 5 & -5 & -6 \\ -5 & 3 & -1 \\ 0 & k & 7 \end{pmatrix}$$

$$A = \begin{pmatrix} 5 & -5 & -6 \\ -5 & 3 & -1 \\ 0 & k & 7 \end{pmatrix} \xrightarrow{\begin{matrix} 1^a \\ 2^a + 1^a \\ 3^a \end{matrix}} \begin{pmatrix} 5 & -5 & -6 \\ 0 & -2 & -7 \\ 0 & k & 7 \end{pmatrix} \xrightarrow{\begin{matrix} 1^a \\ 2^a \\ 3^a + 2^a \end{matrix}} \begin{pmatrix} 5 & -5 & -6 \\ 0 & -2 & -7 \\ 0 & k-2 & 0 \end{pmatrix}$$

Para que $\text{ran}(A) = 2$, ha de ser $k - 2 = 0$; es decir, $k = 2$.

30 Halla X e Y sabiendo que $5X + 3Y = \begin{pmatrix} 2 & 0 \\ -4 & 15 \end{pmatrix}$ y $3X + 2Y = \begin{pmatrix} 1 & -1 \\ -2 & 9 \end{pmatrix}$.

$$\left. \begin{array}{l} 5X + 3Y = \begin{pmatrix} 2 & 0 \\ -4 & 15 \end{pmatrix} \\ 3X + 2Y = \begin{pmatrix} 1 & -1 \\ -2 & 9 \end{pmatrix} \end{array} \right\} \begin{array}{l} -15X - 9Y = \begin{pmatrix} -6 & 0 \\ 12 & -45 \end{pmatrix} \\ 15X + 10Y = \begin{pmatrix} 5 & -5 \\ -10 & 45 \end{pmatrix} \end{array} \right\} \text{Sumando: } Y = \begin{pmatrix} -1 & -5 \\ 2 & 0 \end{pmatrix}$$

$$3X = \begin{pmatrix} 1 & -1 \\ -2 & 9 \end{pmatrix} - 2Y = \begin{pmatrix} 1 & -1 \\ -2 & 9 \end{pmatrix} - 2 \begin{pmatrix} -1 & -5 \\ 2 & 0 \end{pmatrix} = \begin{pmatrix} 3 & 9 \\ -6 & 9 \end{pmatrix} \rightarrow X = \begin{pmatrix} 1 & 3 \\ -2 & 3 \end{pmatrix}$$

Solución: $X = \begin{pmatrix} 1 & 3 \\ -2 & 3 \end{pmatrix}$; $Y = \begin{pmatrix} -1 & -5 \\ 2 & 0 \end{pmatrix}$

- 31** Dada la matriz $A = \begin{pmatrix} 2 & 1 \\ 2 & 3 \end{pmatrix}$ halla dos números reales m y n tales que $A + mA + nI = 0$.

$$A + mA + nI = 0 \rightarrow \begin{pmatrix} 2 & 1 \\ 2 & 3 \end{pmatrix} + m \begin{pmatrix} 2 & 1 \\ 2 & 3 \end{pmatrix} + n \begin{pmatrix} 1 & 0 \\ 0 & 1 \end{pmatrix} = \begin{pmatrix} 0 & 0 \\ 0 & 0 \end{pmatrix}$$

$$\begin{pmatrix} 2 + 2m + n & 1 + m \\ 2 + 2m & 3 + 3m + n \end{pmatrix} = \begin{pmatrix} 0 & 0 \\ 0 & 0 \end{pmatrix} \rightarrow \begin{cases} 2 + 2m + n = 0 & \rightarrow n = 0 \\ 1 + m = 0 & \rightarrow m = -1 \\ 2 + 2m = 0 & \rightarrow m = -1 \\ 3 + 3m + n = 0 & \rightarrow n = 0 \end{cases}$$

Solución: $m = -1$; $n = 0$

- 32** Determina, si es posible, un valor de k para que la matriz $(A - kI)^2$ sea la matriz nula, siendo:

$$A = \begin{pmatrix} 0 & -1 & -2 \\ -1 & 0 & -2 \\ 1 & 1 & 3 \end{pmatrix}$$

$$A - kI = \begin{pmatrix} 0 & -1 & -2 \\ -1 & 0 & -2 \\ 1 & 1 & 3 \end{pmatrix} - \begin{pmatrix} k & 0 & 0 \\ 0 & k & 0 \\ 0 & 0 & k \end{pmatrix} = \begin{pmatrix} -k & -1 & -2 \\ -1 & -k & -2 \\ 1 & 1 & 3 - k \end{pmatrix}$$

$$(A - kI)^2 = \begin{pmatrix} -k & -1 & -2 \\ -1 & -k & -2 \\ 1 & 1 & 3 - k \end{pmatrix} \begin{pmatrix} -k & -1 & -2 \\ -1 & -k & -2 \\ 1 & 1 & 3 - k \end{pmatrix} = \begin{pmatrix} k^2 - 1 & 2k - 2 & 4k - 4 \\ 2k - 2 & k^2 - 1 & 4k - 4 \\ 2 - 2k & 2 - 2k & k^2 - 6k + 5 \end{pmatrix} =$$

$$= \begin{pmatrix} 0 & 0 & 0 \\ 0 & 0 & 0 \\ 0 & 0 & 0 \end{pmatrix} \rightarrow k = 1$$

- 33** Una compañía de muebles fabrica butacas, mecedoras y sillas, y cada una de ellas de tres modelos: E (económico), M (medio) y L (lujo). Cada mes produce 20 modelos E, 15 M y 10 L de butacas; 12 modelos E, 8 M y 5 L de mecedoras, y 18 modelos E, 20 M y 12 L de sillas. Representa esta información en una matriz y calcula la producción de un año.

$$\text{Cada mes: } \begin{matrix} & \begin{matrix} E & M & L \end{matrix} \\ \begin{matrix} \text{BUTACAS} \\ \text{MECEDORAS} \\ \text{SILLAS} \end{matrix} & \begin{pmatrix} 20 & 15 & 10 \\ 12 & 8 & 5 \\ 18 & 20 & 12 \end{pmatrix} \end{matrix}$$

$$\text{Cada año: } 12 \cdot \begin{pmatrix} 20 & 15 & 10 \\ 12 & 8 & 5 \\ 18 & 20 & 12 \end{pmatrix} = \begin{matrix} & \begin{matrix} E & M & L \end{matrix} \\ \begin{matrix} \text{BUTACAS} \\ \text{MECEDORAS} \\ \text{SILLAS} \end{matrix} & \begin{pmatrix} 240 & 180 & 120 \\ 144 & 96 & 60 \\ 216 & 240 & 144 \end{pmatrix} \end{matrix}$$

Página 74

- 34** En un edificio hay tres tipos de viviendas: L3, L4 y L5. Las viviendas L3 tienen 4 ventanas pequeñas y 3 grandes; las L4 tienen 5 ventanas pequeñas y 4 grandes, y las L5, 6 pequeñas y 5 grandes. Cada ventana pequeña tiene 2 cristales y 4 bisagras, y las grandes, 4 cristales y 6 bisagras.

a) Escribe una matriz que describa el número y tamaño de ventanas de cada vivienda y otra que exprese el número de cristales y bisagras de cada tipo de ventana.

b) Calcula la matriz que expresa el número de cristales y de bisagras de cada tipo de vivienda.

$$\text{a) } \begin{matrix} & \text{P} & \text{G} \\ \text{L3} & \begin{pmatrix} 4 & 3 \end{pmatrix} \\ \text{L4} & \begin{pmatrix} 5 & 4 \end{pmatrix} \\ \text{L5} & \begin{pmatrix} 6 & 5 \end{pmatrix} \end{matrix}; \begin{matrix} & \text{C} & \text{B} \\ \text{P} & \begin{pmatrix} 2 & 4 \end{pmatrix} \\ \text{G} & \begin{pmatrix} 4 & 6 \end{pmatrix} \end{matrix}$$

$$\text{b) } \begin{matrix} & \text{P} & \text{G} \\ \text{L3} & \begin{pmatrix} 4 & 3 \end{pmatrix} \\ \text{L4} & \begin{pmatrix} 5 & 4 \end{pmatrix} \\ \text{L5} & \begin{pmatrix} 6 & 5 \end{pmatrix} \end{matrix} \cdot \begin{matrix} & \text{C} & \text{B} \\ \text{P} & \begin{pmatrix} 2 & 4 \end{pmatrix} \\ \text{G} & \begin{pmatrix} 4 & 6 \end{pmatrix} \end{matrix} = \begin{matrix} & \text{C} & \text{B} \\ \text{L3} & \begin{pmatrix} 20 & 34 \end{pmatrix} \\ \text{L4} & \begin{pmatrix} 26 & 44 \end{pmatrix} \\ \text{L5} & \begin{pmatrix} 32 & 54 \end{pmatrix} \end{matrix}$$

- 35** Un industrial fabrica dos tipos de bombillas: transparentes (T) y opacas (O). De cada tipo se hacen cuatro modelos: M₁, M₂, M₃ y M₄.

$$\begin{matrix} & \text{T} & \text{O} \\ \text{M}_1 & \begin{pmatrix} 300 & 200 \end{pmatrix} \\ \text{M}_2 & \begin{pmatrix} 400 & 250 \end{pmatrix} \\ \text{M}_3 & \begin{pmatrix} 250 & 180 \end{pmatrix} \\ \text{M}_4 & \begin{pmatrix} 500 & 300 \end{pmatrix} \end{matrix} \quad \text{Esta tabla muestra la producción semanal de bombillas de cada tipo y modelo.}$$

El porcentaje de bombillas defectuosas es el 2% en el modelo M₁, el 5% en el M₂, el 8% en el M₃ y el 10% en el M₄.

Calcula la matriz que expresa el número de bombillas transparentes y opacas, buenas y defectuosas, que se producen.

$$\begin{matrix} & & & & \text{T} & \text{O} \\ & \text{M}_1 & \text{M}_2 & \text{M}_3 & \text{M}_4 & \text{M}_1 & \begin{pmatrix} 300 & 200 \end{pmatrix} \\ \text{D} & \begin{pmatrix} 0,02 & 0,05 & 0,08 & 0,1 \end{pmatrix} & \cdot & \begin{matrix} \text{M}_2 & \begin{pmatrix} 400 & 250 \end{pmatrix} \\ \text{M}_3 & \begin{pmatrix} 250 & 180 \end{pmatrix} \\ \text{M}_4 & \begin{pmatrix} 500 & 300 \end{pmatrix} \end{matrix} = \begin{matrix} \text{D} & \begin{pmatrix} 96 & 60,9 \\ 1354 & 869,1 \end{pmatrix} \approx \begin{matrix} \text{D} & \begin{pmatrix} 96 & 61 \\ 1354 & 869 \end{pmatrix} \end{matrix} \end{matrix}$$

- 36** Escribe en forma matricial y resuelve, si es posible, utilizando la matriz inversa:

$$\text{a) } \begin{cases} x - 2y = 1 \\ x + y = 7 \end{cases} \quad \text{b) } \begin{cases} x + z = 510 \\ y = -234 \\ y + z = 257 \end{cases}$$

$$\text{a) } \left. \begin{array}{l} x - 2y = 1 \\ x + y = 7 \end{array} \right\} \underbrace{\begin{pmatrix} 1 & -2 \\ 1 & 1 \end{pmatrix}}_A \cdot \underbrace{\begin{pmatrix} x \\ y \end{pmatrix}}_X = \underbrace{\begin{pmatrix} 1 \\ 7 \end{pmatrix}}_B$$

Calculamos la inversa de A :

$$\begin{pmatrix} 1 & -2 & 1 & 0 \\ 1 & 1 & 0 & 1 \end{pmatrix} \xrightarrow{\substack{1^a \\ 2^a - 1^a}} \begin{pmatrix} 1 & -2 & 1 & 0 \\ 0 & 3 & -1 & 1 \end{pmatrix} \xrightarrow{\substack{1^a \cdot 3 + 2^a \cdot 2 \\ 2^a}} \begin{pmatrix} 3 & 0 & 1 & 2 \\ 0 & 3 & -1 & 1 \end{pmatrix} \rightarrow$$

$$\rightarrow \substack{1^a : 3 \\ 2^a : 3} \begin{pmatrix} 1 & 0 & 1/3 & 2/3 \\ 0 & 1 & -1/3 & 1/3 \end{pmatrix} \rightarrow A^{-1} = \begin{pmatrix} 1/3 & 2/3 \\ -1/3 & 1/3 \end{pmatrix}$$

Resolvemos el sistema:

$$X = A^{-1} \cdot B = \begin{pmatrix} 1/3 & 2/3 \\ -1/3 & 1/3 \end{pmatrix} \cdot \begin{pmatrix} 1 \\ 7 \end{pmatrix} = \begin{pmatrix} 5 \\ 2 \end{pmatrix} \rightarrow \text{Solución: } x = 5, y = 2$$

$$\text{b) } \left. \begin{array}{l} x + z = 510 \\ y = -234 \\ y + z = 254 \end{array} \right\} \underbrace{\begin{pmatrix} 1 & 0 & 1 \\ 0 & 1 & 0 \\ 0 & 1 & 1 \end{pmatrix}}_A \cdot \underbrace{\begin{pmatrix} x \\ y \\ z \end{pmatrix}}_X = \underbrace{\begin{pmatrix} 510 \\ -234 \\ 254 \end{pmatrix}}_B$$

Calculamos la inversa de A :

$$\left(\begin{array}{ccc|ccc} 1 & 0 & 1 & 1 & 0 & 0 \\ 0 & 1 & 0 & 0 & 1 & 0 \\ 0 & 1 & 1 & 0 & 0 & 1 \end{array} \right) \xrightarrow{\substack{1^a \\ 2^a \\ 3^a - 2^a}} \left(\begin{array}{ccc|ccc} 1 & 0 & 1 & 1 & 0 & 0 \\ 0 & 1 & 0 & 0 & 1 & 0 \\ 0 & 0 & 1 & 0 & -1 & 1 \end{array} \right) \rightarrow$$

$$\rightarrow \substack{1^a - 3^a \\ 2^a \\ 3^a} \left(\begin{array}{ccc|ccc} 1 & 0 & 0 & 1 & 1 & -1 \\ 0 & 1 & 0 & 0 & 1 & 0 \\ 0 & 0 & 1 & 0 & -1 & 1 \end{array} \right) \rightarrow A^{-1} = \begin{pmatrix} 1 & 1 & -1 \\ 0 & 1 & 0 \\ 0 & -1 & 1 \end{pmatrix}$$

Resolvemos el sistema:

$$X = A^{-1} \cdot B = \begin{pmatrix} 1 & 1 & -1 \\ 0 & 1 & 0 \\ 0 & -1 & 1 \end{pmatrix} \cdot \begin{pmatrix} 510 \\ -234 \\ 254 \end{pmatrix} = \begin{pmatrix} 22 \\ -234 \\ 488 \end{pmatrix}$$

Solución: $x = 22, y = -234, z = 488$

37 Escribe en la forma habitual los sistemas:

$$\text{a) } \begin{pmatrix} 3 & -2 \\ 1 & 5 \\ 0 & 7 \end{pmatrix} \begin{pmatrix} x \\ y \end{pmatrix} = \begin{pmatrix} 2 \\ 0 \\ 1 \end{pmatrix} \quad \text{b) } \begin{pmatrix} 1 & 5 & -3 \\ 2 & 1 & 5 \end{pmatrix} \begin{pmatrix} x \\ y \\ z \end{pmatrix} = \begin{pmatrix} 1 \\ -1 \end{pmatrix}$$

$$\text{a) } \left. \begin{array}{l} 3x - 2y = 2 \\ x + 5y = 0 \\ 7y = 1 \end{array} \right\} \quad \text{b) } \left. \begin{array}{l} x + 5y - 3z = 1 \\ 2x + y + 5z = -1 \end{array} \right\}$$

38 Dada $A = \begin{pmatrix} 1 & 1 & 2 \\ 2 & 0 & -1 \\ -6 & -1 & 0 \end{pmatrix}$, calcula, si es posible:

S

a) Una matriz X tal que $XA = (1 \ 0 \ -1)$.

b) Una matriz Y tal que $YA = \begin{pmatrix} 1 & 0 & 1 \\ 0 & 1 & 0 \end{pmatrix}$.

Calculamos la inversa de A :

$$\left(\begin{array}{ccc|ccc} 1 & 1 & 2 & 1 & 0 & 0 \\ 2 & 0 & -1 & 0 & 1 & 0 \\ -6 & -1 & 0 & 0 & 0 & 1 \end{array} \right) \xrightarrow{\begin{array}{l} 1^a \\ 2^a - 2 \cdot 1^a \\ 3^a + 6 \cdot 1^a \end{array}} \left(\begin{array}{ccc|ccc} 1 & 1 & 2 & 1 & 0 & 0 \\ 0 & -2 & -5 & -2 & 1 & 0 \\ 0 & 5 & 12 & 6 & 0 & 1 \end{array} \right) \rightarrow$$

$$\xrightarrow{\begin{array}{l} 1^a \\ 2^a \\ 5 \cdot 2^a + 2 \cdot 3^a \end{array}} \left(\begin{array}{ccc|ccc} 1 & 1 & 2 & 1 & 0 & 0 \\ 0 & -2 & -5 & -2 & 1 & 0 \\ 0 & 0 & -1 & 2 & 5 & 2 \end{array} \right) \rightarrow$$

$$\xrightarrow{\begin{array}{l} 1^a + 2 \cdot 3^a \\ 2^a - 5 \cdot 3^a \\ 3^a \cdot (-1) \end{array}} \left(\begin{array}{ccc|ccc} 1 & 1 & 0 & 5 & 10 & 4 \\ 0 & -2 & 0 & -12 & -24 & -10 \\ 0 & 0 & 1 & -2 & -5 & -2 \end{array} \right) \rightarrow$$

$$\xrightarrow{\begin{array}{l} 1^a \\ 2^a : (-2) \\ 3^a \end{array}} \left(\begin{array}{ccc|ccc} 1 & 1 & 0 & 5 & 10 & 4 \\ 0 & 1 & 0 & 6 & 12 & 5 \\ 0 & 0 & 1 & -2 & -5 & -2 \end{array} \right) \rightarrow$$

$$\xrightarrow{\begin{array}{l} 1^a - 2^a \\ 2^a \\ 3^a \end{array}} \left(\begin{array}{ccc|ccc} 1 & 0 & 0 & -1 & -2 & -1 \\ 0 & 1 & 0 & 6 & 12 & 5 \\ 0 & 0 & 1 & -2 & -5 & -2 \end{array} \right). \text{ Por tanto, } A^{-1} = \begin{pmatrix} -1 & -2 & -1 \\ 6 & 12 & 5 \\ -2 & -5 & -2 \end{pmatrix}$$

a) $X = (1 \ 0 \ -1) \cdot A^{-1} = (1 \ 3 \ 1)$

b) $Y = \begin{pmatrix} 1 & 0 & 1 \\ 0 & 1 & 0 \end{pmatrix} \cdot A^{-1} = \begin{pmatrix} -3 & -7 & -3 \\ 6 & 12 & 5 \end{pmatrix}$

39 Calcula los valores de x para que la matriz $A = \begin{pmatrix} x & 0 \\ 0 & x \end{pmatrix}$ verifique la ecuación $A^2 - 6A + 9I = 0$.

S

$$A^2 = \begin{pmatrix} x & 0 \\ 0 & x \end{pmatrix} \begin{pmatrix} x & 0 \\ 0 & x \end{pmatrix} = \begin{pmatrix} x^2 & 0 \\ 0 & x^2 \end{pmatrix}$$

$$\begin{aligned} A^2 - 6A + 9I &= \begin{pmatrix} x^2 & 0 \\ 0 & x^2 \end{pmatrix} - 6 \begin{pmatrix} x & 0 \\ 0 & x \end{pmatrix} + 9 \begin{pmatrix} 1 & 0 \\ 0 & 1 \end{pmatrix} = \begin{pmatrix} x^2 - 6x + 9 & 0 \\ 0 & x^2 - 6x + 9 \end{pmatrix} = \\ &= \begin{pmatrix} 0 & 0 \\ 0 & 0 \end{pmatrix} \rightarrow x^2 - 6x + 9 = 0 \rightarrow (x - 3)^2 = 0 \rightarrow x = 3 \end{aligned}$$

- 40** Resuelve la ecuación matricial $2A = AX + B$ siendo $A = \begin{pmatrix} 1 & 0 \\ -1 & 1 \end{pmatrix}$ y $B = \begin{pmatrix} -1 & 2 \\ -3 & 1 \end{pmatrix}$.

S

Calculamos la inversa de A :

$$\begin{pmatrix} 1 & 0 & 1 & 0 \\ -1 & 1 & 0 & 1 \end{pmatrix} \xrightarrow{\begin{matrix} 1^{\text{a}} \\ 2^{\text{a}} + 1^{\text{a}} \end{matrix}} \begin{pmatrix} 1 & 0 & 1 & 0 \\ 0 & 1 & 1 & 1 \end{pmatrix} \rightarrow A^{-1} = \begin{pmatrix} 1 & 0 \\ 1 & 1 \end{pmatrix}$$

Resolvemos la ecuación:

$$2A + AX + B = 0 \rightarrow AX = -B - 2A = \begin{pmatrix} 1 & -2 \\ 3 & -1 \end{pmatrix} - 2 \begin{pmatrix} 1 & 0 \\ -1 & 1 \end{pmatrix} = \begin{pmatrix} -1 & -2 \\ 5 & -3 \end{pmatrix}$$

$$X = A^{-1} \cdot \begin{pmatrix} -1 & -2 \\ 5 & -3 \end{pmatrix} = \begin{pmatrix} 1 & 0 \\ 1 & 1 \end{pmatrix} \cdot \begin{pmatrix} -1 & -2 \\ 5 & -3 \end{pmatrix} = \begin{pmatrix} -1 & -2 \\ 4 & -5 \end{pmatrix}$$

- 41** Dada la matriz $A = \begin{pmatrix} 2 & 3 \\ -2 & 1 \end{pmatrix}$ halla el valor de x e y para que se cumpla la igualdad

S

$$A^2 - xA - yI = 0.$$

$$A^2 = \begin{pmatrix} 2 & 3 \\ -2 & 1 \end{pmatrix} \begin{pmatrix} 2 & 3 \\ -2 & 1 \end{pmatrix} = \begin{pmatrix} -2 & 9 \\ -6 & -5 \end{pmatrix}$$

$$A^2 - xA - yI = \begin{pmatrix} -2 & 9 \\ -6 & -5 \end{pmatrix} - x \begin{pmatrix} 2 & 3 \\ -2 & 1 \end{pmatrix} - y \begin{pmatrix} 1 & 0 \\ 0 & 1 \end{pmatrix} = \begin{pmatrix} -2 - 2x - y & 9 - 3x \\ -6 + 2x & -5 - x - y \end{pmatrix} = \begin{pmatrix} 0 & 0 \\ 0 & 0 \end{pmatrix}$$

$$\left. \begin{array}{l} -2 - 2x - y = 0 \rightarrow y = -2 - 2x = -8 \\ 9 - 3x = 0 \rightarrow x = 3 \\ -6 + 2x = 0 \rightarrow x = 3 \\ -5 - x - y = 0 \rightarrow y = -5 - x = -8 \end{array} \right\}$$

Solución: $x = 3$, $y = -8$

- 42** Dada $A = \begin{pmatrix} 1 & 0 & 0 \\ 1/10 & 1 & 0 \\ 1/10 & 0 & 1 \end{pmatrix}$:

S

a) Calcula $A + A^2$

b) Resuelve el sistema $A^5 \begin{pmatrix} x \\ y \\ z \end{pmatrix} = \begin{pmatrix} 20 \\ 5 \\ 1 \end{pmatrix}$.

$$a) A^2 = \begin{pmatrix} 1 & 0 & 0 \\ 1/10 & 1 & 0 \\ 1/10 & 0 & 1 \end{pmatrix} \begin{pmatrix} 1 & 0 & 0 \\ 1/10 & 1 & 0 \\ 1/10 & 0 & 1 \end{pmatrix} = \begin{pmatrix} 1 & 0 & 0 \\ 2/10 & 1 & 0 \\ 2/10 & 0 & 1 \end{pmatrix}$$

$$A + A^2 = \begin{pmatrix} 1 & 0 & 0 \\ 1/10 & 1 & 0 \\ 1/10 & 0 & 1 \end{pmatrix} + \begin{pmatrix} 1 & 0 & 0 \\ 2/10 & 1 & 0 \\ 2/10 & 0 & 1 \end{pmatrix} = \begin{pmatrix} 2 & 0 & 0 \\ 3/10 & 2 & 0 \\ 3/10 & 0 & 2 \end{pmatrix}$$

$$b) A^3 = A^2 \cdot A = \begin{pmatrix} 1 & 0 & 0 \\ 2/10 & 1 & 0 \\ 2/10 & 0 & 1 \end{pmatrix} \begin{pmatrix} 1 & 0 & 0 \\ 1/10 & 1 & 0 \\ 1/10 & 0 & 1 \end{pmatrix} = \begin{pmatrix} 1 & 0 & 0 \\ 3/10 & 1 & 0 \\ 3/10 & 0 & 1 \end{pmatrix}$$

$$A^5 = A^2 \cdot A^3 = \begin{pmatrix} 1 & 0 & 0 \\ 2/10 & 1 & 0 \\ 2/10 & 0 & 1 \end{pmatrix} \begin{pmatrix} 1 & 0 & 0 \\ 3/10 & 1 & 0 \\ 3/10 & 0 & 1 \end{pmatrix} = \begin{pmatrix} 1 & 0 & 0 \\ 1/2 & 1 & 0 \\ 1/2 & 0 & 1 \end{pmatrix}$$

Calculamos la inversa de A^5 :

$$\left(\begin{array}{ccc|ccc} 1 & 0 & 0 & 1 & 0 & 0 \\ 1/2 & 1 & 0 & 0 & 1 & 0 \\ 1/2 & 0 & 1 & 0 & 0 & 1 \end{array} \right) \xrightarrow{\substack{1^a \\ 2^a \cdot 2 - 1^a \\ 3^a \cdot 2 - 1^a}} \left(\begin{array}{ccc|ccc} 1 & 0 & 0 & 1 & 0 & 0 \\ 0 & 2 & 0 & -1 & 2 & 0 \\ 0 & 0 & 2 & -1 & 0 & 2 \end{array} \right) \rightarrow$$

$$\xrightarrow{\substack{1^a \\ 2^a : 2 \\ 3^a : 2}} \left(\begin{array}{ccc|ccc} 1 & 0 & 0 & 1 & 0 & 0 \\ 0 & 1 & 0 & -1/2 & 1 & 0 \\ 0 & 0 & 1 & -1/2 & 0 & 1 \end{array} \right) \rightarrow (A^5)^{-1} = \begin{pmatrix} 1 & 0 & 0 \\ -1/2 & 1 & 0 \\ -1/2 & 0 & 1 \end{pmatrix}$$

Resolvemos el sistema:

$$\begin{pmatrix} x \\ y \\ z \end{pmatrix} = \begin{pmatrix} 1 & 0 & 0 \\ -1/2 & 1 & 0 \\ -1/2 & 0 & 1 \end{pmatrix} \cdot \begin{pmatrix} 20 \\ 5 \\ 1 \end{pmatrix} = \begin{pmatrix} 20 \\ -5 \\ -9 \end{pmatrix}$$

Solución: $x = 20$, $y = -5$, $z = -9$

43 Sean las matrices $A = \begin{pmatrix} x & 1 \\ 2x & -1 \\ -x & 1 \end{pmatrix}$, $B = \begin{pmatrix} 1 \\ y \end{pmatrix}$, $C = \begin{pmatrix} z \\ 2z \\ -z \end{pmatrix}$, $D = \begin{pmatrix} 1 \\ 0 \\ 1/3 \end{pmatrix}$

a) Sabiendo que $A \cdot B + C = 3D$, plantea un sistema de ecuaciones para determinar x, y, z .

b) Encuentra, si es posible, una solución.

$$a) A \cdot B + C = \begin{pmatrix} x & 1 \\ 2x & -1 \\ -x & 1 \end{pmatrix} \cdot \begin{pmatrix} 1 \\ y \end{pmatrix} + \begin{pmatrix} z \\ 2z \\ -z \end{pmatrix} = \begin{pmatrix} x+y \\ 2x-y \\ -x+y \end{pmatrix} + \begin{pmatrix} z \\ 2z \\ -z \end{pmatrix} = \begin{pmatrix} x+y+z \\ 2x-y+2z \\ -x+y-z \end{pmatrix}$$

$$3D = 3 \begin{pmatrix} 1 \\ 0 \\ 1/3 \end{pmatrix} = \begin{pmatrix} 3 \\ 0 \\ 1 \end{pmatrix}$$

Igualamos:

$$\left. \begin{array}{l} x+y+z=3 \\ 2x-y+2z=0 \\ -x+y-z=1 \end{array} \right\} \text{ En forma matricial: } \underbrace{\begin{pmatrix} 1 & 1 & 1 \\ 2 & -1 & 2 \\ -1 & 1 & -1 \end{pmatrix}}_M \cdot \underbrace{\begin{pmatrix} x \\ y \\ z \end{pmatrix}}_X = \underbrace{\begin{pmatrix} 3 \\ 0 \\ 1 \end{pmatrix}}_N$$

b) Intentamos resolver el sistema en forma matricial. Para ello, calculamos la inversa de M :

$$\left(\begin{array}{ccc|ccc} 1 & 1 & 1 & 1 & 0 & 0 \\ 2 & -1 & 2 & 0 & 1 & 0 \\ -1 & 1 & -1 & 0 & 0 & 1 \end{array} \right) \xrightarrow{\begin{array}{l} 1^a \\ 2^a - 2 \cdot 1^a \\ 3^a + 1^a \end{array}} \left(\begin{array}{ccc|ccc} 1 & 1 & 1 & 1 & 0 & 0 \\ 0 & -3 & 0 & -2 & 1 & 0 \\ 0 & 2 & 0 & 1 & 0 & 1 \end{array} \right) \rightarrow$$

$$\rightarrow \xrightarrow{\begin{array}{l} 1^a \\ 2^a + (3/2) \cdot 3^a \\ 3^a \end{array}} \left(\begin{array}{ccc|ccc} 1 & 1 & 1 & 1 & 0 & 0 \\ 0 & 0 & 0 & -1/2 & 1 & 3/2 \\ 0 & 2 & 0 & 1 & 0 & 1 \end{array} \right)$$

Luego, la matriz M no tiene inversa.

Como $\text{ran}(M) = 2$ y se nos anula la segunda ecuación, tomamos las otras dos para resolver el sistema:

$$\left. \begin{array}{l} x + y + z = 3 \\ -x + y - z = 1 \end{array} \right\} (1^a + 2^a) \rightarrow \begin{array}{l} 2y = 4 \rightarrow y = 2 \\ x = 3 - y - z = 1 - z \end{array}$$

Solución: $(1 - \lambda, 2, \lambda)$ para todo $\lambda \in \mathbb{R}$.

44 Calcula una matriz X que conmuta con la matriz A , esto es, $A \cdot X = X \cdot A$, siendo $A = \begin{pmatrix} 1 & 1 \\ 0 & 1 \end{pmatrix}$, y calcula $A^2 + 2A^{-1} \cdot X$.

$$X = \begin{pmatrix} a & b \\ c & d \end{pmatrix} \rightarrow \left\{ \begin{array}{l} A \cdot X = \begin{pmatrix} 1 & 1 \\ 0 & 1 \end{pmatrix} \begin{pmatrix} a & b \\ c & d \end{pmatrix} = \begin{pmatrix} a+c & b+d \\ c & d \end{pmatrix} \\ X \cdot A = \begin{pmatrix} a & b \\ c & d \end{pmatrix} \begin{pmatrix} 1 & 1 \\ 0 & 1 \end{pmatrix} = \begin{pmatrix} a & a+b \\ c & c+d \end{pmatrix} \end{array} \right\} \text{ han de ser iguales.}$$

$$\left. \begin{array}{l} a+c = a \\ b+d = a+b \\ d = c+d \end{array} \right\} \begin{array}{l} c = 0 \\ d = a \\ c = 0 \end{array} \left. \right\} X = \begin{pmatrix} a & b \\ 0 & a \end{pmatrix}, \text{ con } a, b \in \mathbb{R}$$

$$A^2 + 2A^{-1} \cdot X = \begin{pmatrix} 1 & 2 \\ 0 & 1 \end{pmatrix} + 2 \begin{pmatrix} 1 & -1 \\ 0 & 1 \end{pmatrix} \begin{pmatrix} a & b \\ 0 & a \end{pmatrix} = \begin{pmatrix} 1 & 2 \\ 0 & 1 \end{pmatrix} + 2 \begin{pmatrix} a & b-a \\ 0 & a \end{pmatrix} =$$

$$= \begin{pmatrix} 1+2a & 2+2b-2a \\ 0 & 1+2a \end{pmatrix}$$

(Observamos que la matriz que hemos obtenido también es de las que conmutan con A).

45 Sean A y B las matrices dadas por:

$$A = \begin{pmatrix} 5 & 2 & 0 \\ 2 & 5 & 0 \\ 0 & 0 & 1 \end{pmatrix} \quad B = \begin{pmatrix} a & b & 0 \\ c & c & 0 \\ 0 & 0 & 1 \end{pmatrix}$$

Encuentra las condiciones que deben cumplir los coeficientes a, b, c para que se verifique $A \cdot B = B \cdot A$.

$$A \cdot B = \begin{pmatrix} 5 & 2 & 0 \\ 2 & 5 & 0 \\ 0 & 0 & 1 \end{pmatrix} \begin{pmatrix} a & b & 0 \\ c & c & 0 \\ 0 & 0 & 1 \end{pmatrix} = \begin{pmatrix} 5a + 2c & 5b + 2c & 0 \\ 2a + 5c & 2b + 5c & 0 \\ 0 & 0 & 1 \end{pmatrix}$$

$$B \cdot A = \begin{pmatrix} a & b & 0 \\ c & c & 0 \\ 0 & 0 & 1 \end{pmatrix} \begin{pmatrix} 5 & 2 & 0 \\ 2 & 5 & 0 \\ 0 & 0 & 1 \end{pmatrix} = \begin{pmatrix} 5a + 2b & 2a + 5b & 0 \\ 7c & 7c & 0 \\ 0 & 0 & 1 \end{pmatrix}$$

Para que $A \cdot B = B \cdot A$, debe cumplirse que:

$$\left. \begin{array}{l} 5a + 2c = 5a + 2b \\ 5b + 2c = 2a + 5b \\ 2a + 5c = 7c \\ 2b + 5c = 7c \end{array} \right\} \begin{array}{l} c = b \\ c = a \\ 7c = 7c \\ 7c = 7c \end{array} \right\} a = b = c$$

46 Dada la matriz: $A = \begin{pmatrix} 0 & 3 & 4 \\ 1 & -4 & -5 \\ -1 & 3 & 4 \end{pmatrix}$ prueba que se verifica $A^3 + I = 0$ y utiliza esta igualdad para obtener A^{10} .

• Haz $A^{10} = (A^3)^3 \cdot A$ y ten en cuenta que $A^3 = -I$.

$$A^2 = \begin{pmatrix} -1 & 0 & 1 \\ 1 & 4 & 4 \\ -1 & -3 & -3 \end{pmatrix}; A^3 = \begin{pmatrix} -1 & 0 & 0 \\ 0 & -1 & 0 \\ 0 & 0 & -1 \end{pmatrix} \rightarrow A^3 + I = \begin{pmatrix} 0 & 0 & 0 \\ 0 & 0 & 0 \\ 0 & 0 & 0 \end{pmatrix}$$

Obtenemos A^{10} (teniendo en cuenta que $A^3 + I = 0 \rightarrow A^3 = -I$):

$$A^{10} = (A^3)^3 \cdot A = (-I)^3 \cdot A = -I \cdot A = -A = \begin{pmatrix} 0 & -3 & -4 \\ -1 & 4 & 5 \\ 1 & -3 & -4 \end{pmatrix}$$

Página 75

47 Una matriz cuadrada se llama *ortogonal* cuando su inversa coincide con su traspuesta.

Calcula x e y para que esta matriz A sea ortogonal: $A = \begin{pmatrix} 3/5 & x & 0 \\ y & -3/5 & 0 \\ 0 & 0 & 1 \end{pmatrix}$

• Haz $A \cdot A^t = I$.

Si $A^{-1} = A^t$, ha de ser $A \cdot A^t = I$; entonces:

$$A \cdot A^t = \begin{pmatrix} 3/5 & x & 0 \\ y & -3/5 & 0 \\ 0 & 0 & 1 \end{pmatrix} \cdot \begin{pmatrix} 3/5 & y & 0 \\ x & -3/5 & 0 \\ 0 & 0 & 1 \end{pmatrix} = \begin{pmatrix} 9/25 + x^2 & 3/5y - 3/5x & 0 \\ 3/5y - 3/5x & y^2 + 9/25 & 0 \\ 0 & 0 & 1 \end{pmatrix} = \begin{pmatrix} 1 & 0 & 0 \\ 0 & 1 & 0 \\ 0 & 0 & 1 \end{pmatrix}$$

$$\left. \begin{array}{l} \frac{9}{25} + x^2 = 1 \\ \frac{3}{5}y - \frac{3}{5}x = 0 \\ y^2 + \frac{9}{25} = 1 \end{array} \right\} \left. \begin{array}{l} x^2 = \frac{16}{25} \\ y = x \\ y^2 = \frac{16}{25} \end{array} \right\} \left. \begin{array}{l} x = \pm \frac{4}{5} \\ y = x \end{array} \right\}$$

Hay dos soluciones: $x_1 = \frac{4}{5}$; $y_1 = \frac{4}{5}$ $x_2 = -\frac{4}{5}$; $y_2 = -\frac{4}{5}$

48 Resuelve la ecuación matricial: $\begin{pmatrix} 1 & 1 \\ 3 & 4 \end{pmatrix} \cdot X \cdot \begin{pmatrix} 4 & -2 \\ -1 & 0 \end{pmatrix} = \begin{pmatrix} 6 & 4 \\ 22 & 14 \end{pmatrix}$

$$\begin{pmatrix} 1 & 1 \\ 3 & 4 \end{pmatrix}^{-1} = \begin{pmatrix} 4 & -1 \\ -3 & 1 \end{pmatrix}; \quad \begin{pmatrix} 4 & -2 \\ -1 & 0 \end{pmatrix}^{-1} = \begin{pmatrix} 0 & -1 \\ -1/2 & -2 \end{pmatrix}$$

Por tanto:

$$\begin{aligned} \begin{pmatrix} 1 & 1 \\ 3 & 4 \end{pmatrix} \cdot X \cdot \begin{pmatrix} 4 & -2 \\ -1 & 0 \end{pmatrix} &= \begin{pmatrix} 6 & 4 \\ 22 & 14 \end{pmatrix} \rightarrow X = \begin{pmatrix} 4 & -1 \\ -3 & 1 \end{pmatrix} \cdot \begin{pmatrix} 6 & 4 \\ 22 & 14 \end{pmatrix} \cdot \begin{pmatrix} 0 & -1 \\ -1/2 & -2 \end{pmatrix} = \\ &= \begin{pmatrix} 2 & 2 \\ 4 & 2 \end{pmatrix} \begin{pmatrix} 0 & -1 \\ -1/2 & -2 \end{pmatrix} = \begin{pmatrix} -1 & -6 \\ -1 & -8 \end{pmatrix} \end{aligned}$$

Solución: $X = \begin{pmatrix} -1 & -6 \\ -1 & -8 \end{pmatrix}$

CUESTIONES TEÓRICAS

49 Justifica por qué no es cierta la igualdad: $(A + B) \cdot (A - B) = A^2 - B^2$ cuando A y B son dos matrices cualesquiera.

$$(A + B) \cdot (A - B) = A^2 - AB + BA - B^2$$

Para que la igualdad fuera cierta, tendría que ser $AB = BA$; y, en general, no es cierto para dos matrices cualesquiera.

50 Sea A una matriz de dimensión 2×3 :

a) ¿Existe una matriz B tal que $A \cdot B$ sea una matriz de una sola fila?

b) ¿Y para $B \cdot A$?

Pon un ejemplo para cada caso, siendo: $A = \begin{pmatrix} 1 & 0 & 0 \\ 2 & 1 & 0 \end{pmatrix}$

a) No; $A \cdot B$ tendrá 2 filas necesariamente. Por ejemplo, tomando $A = \begin{pmatrix} 1 & 0 & 0 \\ 2 & 1 & 0 \end{pmatrix}$

$$\text{y } B = \begin{pmatrix} 1 \\ 2 \\ 0 \end{pmatrix}, \text{ tenemos que: } A \cdot B = \begin{pmatrix} 1 \\ 4 \end{pmatrix}$$

Calculamos el rango de la matriz dada:

$$\begin{pmatrix} 1 & 2 & 0 & 3 \\ 0 & 1 & -1 & -2 \\ 2 & 7 & -3 & 0 \end{pmatrix} \xrightarrow{\substack{1^a \\ 2^a \\ 3^a - 2 \cdot 1^a}} \begin{pmatrix} 1 & 2 & 0 & 3 \\ 0 & 1 & -1 & -2 \\ 0 & 3 & -3 & -6 \end{pmatrix} \xrightarrow{\substack{1^a \\ 2^a \\ 3^a - 3 \cdot 2^a}} \begin{pmatrix} 1 & 2 & 0 & 3 \\ 0 & 1 & -1 & -2 \\ 0 & 0 & 0 & 0 \end{pmatrix}$$

Tiene rango 2; luego, añadiendo una fila, la matriz resultante no podrá tener rango 4 (tendría rango 2 ó 3).

55 ¿Qué condición debe cumplir una matriz A de dimensión 3×3 para que se verifique que $A + A^t = 2A$?

$$A + A^t = 2A \rightarrow A^t = 2A - A = A \rightarrow A = A^t$$

Luego, la condición es que la matriz coincida con su traspuesta. Es decir, A debe ser de la forma:

$$A = \begin{pmatrix} a & b & c \\ b & d & e \\ c & e & f \end{pmatrix}$$

56 a) Si A es una matriz regular de orden n y existe una matriz B tal que $AB + BA = 0$, probar que $BA^{-1} + A^{-1}B = 0$.

b) Si $A = \begin{pmatrix} -3 & -2 \\ 4 & 3 \end{pmatrix}$, halla una matriz $B \neq 0$ tal que $AB + BA = 0$.

a) Multiplicamos por A^{-1} por la izquierda en la igualdad:

$$AB + BA = 0 \rightarrow A^{-1}AB + A^{-1}BA = 0 \rightarrow B + A^{-1}BA = 0$$

Ahora multiplicamos la igualdad obtenida por A^{-1} por la derecha:

$$BA^{-1} + A^{-1}BAA^{-1} = 0 \rightarrow BA^{-1} + A^{-1}B = 0$$

b) Si $B = \begin{pmatrix} a & b \\ c & d \end{pmatrix}$, entonces:

$$A \cdot B = \begin{pmatrix} -3 & -2 \\ 4 & 3 \end{pmatrix} \cdot \begin{pmatrix} a & b \\ c & d \end{pmatrix} = \begin{pmatrix} -3a - 2c & -3b - 2d \\ 4a + 3c & 4b + 3d \end{pmatrix}$$

$$B \cdot A = \begin{pmatrix} a & b \\ c & d \end{pmatrix} \cdot \begin{pmatrix} -3 & -2 \\ 4 & 3 \end{pmatrix} = \begin{pmatrix} -3a + 4b & -2a + 3b \\ -3c + 4d & -2c + 3d \end{pmatrix}$$

Así:

$$AB + BA = \begin{pmatrix} -6a + 4b - 2c & -2a - 2d \\ 4a + 4d & 4b - 2c + 6d \end{pmatrix} = \begin{pmatrix} 0 & 0 \\ 0 & 0 \end{pmatrix}$$

$$\left. \begin{array}{l} -6a + 4b - 2c = 0 \\ -2a - 2d = 0 \\ 4a + 4d = 0 \\ 4b - 2c + 6d = 0 \end{array} \right\} \begin{array}{l} 3a - 2b + c = 0 \\ a + d = 0 \\ a + d = 0 \\ 2b - c + 3d = 0 \end{array} \rightarrow \begin{array}{l} d = -a \\ 3a - 2b + c = 0 \\ c = -3a + 2b \end{array}$$

Por tanto: $B = \begin{pmatrix} a & b \\ -3a + 2b & -a \end{pmatrix}$, a y $b \neq 0$

Por ejemplo, con $a = 1$ y $b = 1$, queda $B = \begin{pmatrix} 1 & 1 \\ -1 & -1 \end{pmatrix}$.

57 Demuestra que si una matriz verifica $A^2 = \mathbf{0}$ ($\mathbf{0}$ es la matriz nula), entonces A no puede tener inversa.

Supongamos que se verifica que $A^2 = \mathbf{0}$, pero que A sí tiene inversa, que existe A^{-1} .

Multiplicando la igualdad $A^2 = \mathbf{0}$ por $(A^{-1})^2$, quedaría:

$$(A^{-1})^2 \cdot A^2 = \mathbf{0} \rightarrow (A^{-1} \cdot A)^2 = \mathbf{0} \rightarrow I = \mathbf{0}; \text{ lo cual es absurdo.}$$

Por tanto, deducimos que no existe A^{-1} .

PARA PROFUNDIZAR

58 Sean A y B dos matrices cuadradas del mismo orden. De la igualdad $A \cdot B = A \cdot C$ no puede deducirse, en general, que $B = C$.

a) Prueba esta afirmación buscando dos matrices B y C distintas tales que

$$A \cdot B = A \cdot C, \text{ siendo } A = \begin{pmatrix} 1 & 1 \\ 1 & 1 \end{pmatrix}.$$

b) ¿Qué condición debe cumplir la matriz A para que de $A \cdot B = A \cdot C$ se pueda deducir que $B = C$?

a) Por ejemplo, si $B = \begin{pmatrix} 1 & -1 \\ 2 & 3 \end{pmatrix}$ y $C = \begin{pmatrix} 3 & 1 \\ 0 & 1 \end{pmatrix}$, entonces:

$$A \cdot B = \begin{pmatrix} 3 & 2 \\ 3 & 2 \end{pmatrix} = A \cdot C, \text{ pero } B \neq C.$$

b) Debe existir A^{-1} .

59 Estudia el rango de las siguientes matrices según los valores de a :

$$M = \begin{pmatrix} 1 & 2 & -1 \\ 2 & 4 & a \\ a & 2 & -1 \end{pmatrix} \quad A = \begin{pmatrix} a & 1 & 0 \\ 0 & 1 & 3 \\ a & 1 & 1 \end{pmatrix}$$

$$M = \begin{pmatrix} 1 & 2 & -1 \\ 2 & 4 & a \\ a & 2 & -1 \end{pmatrix} \rightarrow \begin{matrix} 1^a \\ 2^a - 2 \cdot 1^a \\ 3^a - 1^a \end{matrix} \rightarrow \begin{pmatrix} 1 & 2 & -1 \\ 0 & 0 & a+2 \\ a-1 & 0 & 0 \end{pmatrix}$$

- Si $a = 1$, $\text{ran}(M) = 2$
- Si $a = -2$, $\text{ran}(M) = 2$
- Si $a \neq 1$ y $a \neq -2$, $\text{ran}(M) = 3$

$$A = \begin{pmatrix} a & 1 & 0 \\ 0 & 1 & 3 \\ a & 1 & 1 \end{pmatrix} \rightarrow \begin{array}{l} 1^a \\ 2^a \\ 3^a - 1^a \end{array} \rightarrow \begin{pmatrix} a & 1 & 0 \\ 0 & 1 & 3 \\ 0 & 0 & 1 \end{pmatrix} \begin{array}{l} \bullet \text{ Si } a = 0, \text{ ran}(A) = 2 \\ \bullet \text{ Si } a \neq 0, \text{ ran}(A) = 3 \end{array}$$

60 Se dice que una matriz es *antisimétrica* cuando su traspuesta es igual a su opuesta. Obtén la forma general de una matriz de orden 2 que sea antisimétrica.

$$\text{Si } A = \begin{pmatrix} a & b \\ c & d \end{pmatrix}, \text{ entonces } A^t = \begin{pmatrix} a & c \\ b & d \end{pmatrix} \text{ y } -A = \begin{pmatrix} -a & -b \\ -c & -d \end{pmatrix}.$$

Para que $A^t = -A$, ha de ser:

$$\begin{pmatrix} a & c \\ b & d \end{pmatrix} = \begin{pmatrix} -a & -b \\ -c & -d \end{pmatrix} \rightarrow \begin{array}{l} a = -a \\ c = -b \\ b = -c \\ d = -d \end{array} \left\{ \begin{array}{l} a = 0 \\ c = -b \\ d = 0 \end{array} \right.$$

Por tanto, una matriz *antisimétrica de orden 2* es de la forma: $\begin{pmatrix} 0 & b \\ -b & 0 \end{pmatrix}$