


# DERIVADAS



Isaac Newton (1642-1727)



Gottfried Leibniz (1646-1716)

**MATEMÁTICAS I 1º Bachillerato**

**Alfonso González  
IES Fernando de Mena  
Dpto. de Matemáticas**



## I) DERIVADA DE UNA FUNCIÓN EN UN PUNTO (ver pág. 304 del libro de texto)

En este tema vamos a conocer y emplear un operador matemático muy útil, llamado **derivada de una función**, que opera sobre una función y da como resultado otra función (habitualmente más simple). Su utilidad radica en que, como veremos más adelante, el signo de la derivada de una función en un punto nos dirá si la función es creciente o decreciente en dicho punto; ello nos permitirá deducir, por tanto, los máximos y mínimos de la función, algo muy importante en infinidad de funciones extraídas de situaciones reales: pensemos en una función que represente los beneficios de una empresa, o el coste de fabricación de un determinado producto, etc.

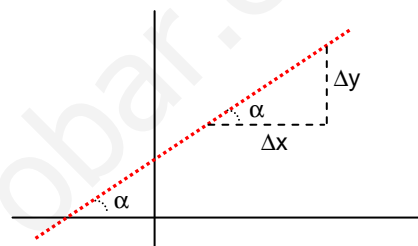
El tema tiene dos grandes partes: en los apartados I, II y III aprenderemos a derivar; en los apartados IV, V y VI veremos algunas aplicaciones de la derivada.

### Concepto previo: pendiente de una recta

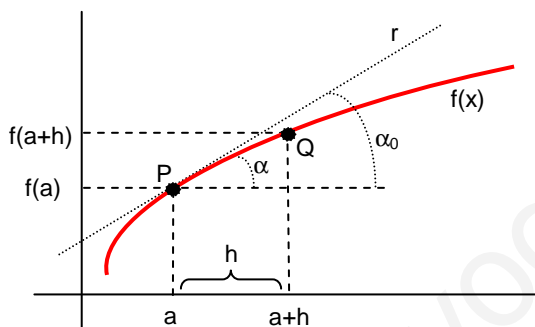
Para entender qué es la derivada necesitamos repasar previamente en qué consistía la pendiente de una recta (tema 4):

La pendiente de una recta, que suele llamarse **m**, mide la inclinación de ésta, y se define (ver figura) como el cociente incremental siguiente:

$$m = \frac{\Delta y}{\Delta x} = \operatorname{tg} \alpha \quad (1)$$



### Derivada de una función en un punto f'(a):



Consideremos una función  $f(x)$  y un punto  $P$  de su gráfica (ver figura), de abscisa  $x=a$ . Supongamos que damos a la variable independiente  $x$  un pequeño incremento  $h$  (en el dibujo lo hemos exagerado, para que se pueda ver la situación...); por lo tanto, nos desplazaremos a un nuevo punto  $Q$  de la curva próximo. Consideremos la tangente del ángulo que forma el segmento  $PQ$  con la horizontal:

$$\operatorname{tg} \alpha = \frac{f(a+h) - f(a)}{h} \quad (2)$$

Si  $h \rightarrow 0$ , el segmento  $\overline{PQ}$  tenderá a confundirse con la recta  $r$  tangente a la curva  $f(x)$  en  $x=a$ , es decir, los ángulos  $\alpha$  y  $\alpha_0$  tendrán a ser iguales:

$$\operatorname{tg} \alpha_0 = \lim_{h \rightarrow 0} \operatorname{tg} \alpha = \lim_{h \rightarrow 0} \frac{f(a+h) - f(a)}{h} = f'(a) \quad (3)$$

por (2)
por definición

Debido a (1), la fórmula anterior -que en el fondo es un cociente incremental- nos da por tanto la pendiente de la recta tangente a la curva en  $x=a$ . Esta fórmula se conoce como derivada de la función  $f(x)$  en el punto  $x=a$ , y se designa como  $f'(a)$ ; por lo tanto:

**«La derivada de una función en un punto es la pendiente de la recta tangente a la función en dicho punto»**, y se calcula mediante el límite dado por (3)<sup>1</sup>

<sup>1</sup> Por lo tanto, veremos en el apdo. IV que la derivada nos permitirá hallar la ecuación de la recta tangente a una función en un punto dado.



### III) DERIVADAS DE LAS FUNCIONES ELEMENTALES (págs. 307 y 308 libro de texto)

**III.1) Función constante:**  $y = K \rightarrow y' = 0$  Es decir, «La derivada de una constante es siempre cero»

NOTA: Esta derivada, y todas las de este apartado, pueden ser demostradas, pero ello excede los límites de este curso. Todas estas reglas de derivación están recogidas en la tabla de derivadas que se adjunta al final del cuaderno.

**Ejercicio 1:** Hallar la derivada de las siguientes funciones constantes:

- |                      |  |                             |
|----------------------|--|-----------------------------|
| a) $y = 2$           |  | e) $y = \frac{\sqrt{3}}{2}$ |
| b) $y = -3$          |  | f) $y = \pi$                |
| c) $y = \frac{1}{2}$ |  | g) $y = 0,5$                |
| d) $y = 0$           |  |                             |
|                      |  |                             |

**III.2) Función identidad:**  $y = x \rightarrow y' = 1$

**III.3) Función de proporcionalidad directa:**  $y = K \cdot x \rightarrow y' = k$

**Ejercicio 2:** Hallar la derivada de las siguientes funciones de proporcionalidad directa:

- |                      |  |                          |
|----------------------|--|--------------------------|
| a) $y = 2x$          |  | f) $f(x) = \frac{2}{3}x$ |
| b) $f(x) = -5x$      |  | g) $y = -x$              |
| c) $y = 0,01x$       |  | h) $y = -\frac{5x}{3}$   |
| d) $y = \frac{x}{2}$ |  | i) $f(t) = 7t$           |
| e) $y = x$           |  |                          |
|                      |  |                          |

**III.4) Derivada de una potencia:**  $y = x^n \rightarrow y' = n \cdot x^{n-1}$  (donde  $n \in \mathbb{R}$ )

**Ejercicio 3:** Hallar la derivada de las siguientes potencias:

- |                 |  |                  |
|-----------------|--|------------------|
| a) $y = x^2$    |  | d) $f(t) = t^5$  |
| b) $f(x) = x^3$ |  | e) $y = x^{100}$ |
| c) $y = x^4$    |  |                  |

Este caso nos permite, dado que el exponente puede ser cualquier número real, abordar otros tipos de derivadas:

**Ejercicio 4:** Demostrar la fórmula de la derivada de: a)  $y = \frac{1}{x}$       b)  $y = \sqrt{x}$

a)

b)

**Ejercicio 5:** Hallar la derivada simplificada de las siguientes funciones, pasándolas previamente a forma de potencia:

a)  $y = \sqrt[3]{x}$

b)  $y = \sqrt[4]{x^3}$

c)  $f(x) = \sqrt[5]{x^2}$

d)  $y = x^2 \sqrt{x}$

e)  $f(x) = \frac{1}{\sqrt[3]{x}}$

f)  $y = \frac{\sqrt{x}}{x^3}$

**Generalización de la fórmula anterior a una función compuesta:**

$$y = u^n \rightarrow y' = n \cdot u^{n-1} \cdot u' \quad (\text{donde } n \in \mathbb{R})$$

(esta fórmula la aplicaremos más adelante en el ejercicio 8)

**III.5)**  $y = K \cdot u \rightarrow y' = K \cdot u'$  donde  $u$  es función, es decir, «Las constantes multiplicativas pueden salir de la derivada»

**Ejercicio 6:** Hallar la derivada de las siguientes funciones compuestas:

a)  $y = 3x^2$

b)  $y = 4x^3$

c)  $f(x) = -2x^4$

d)  $y = \frac{x^2}{2}$

e)  $y = -x^5$

f)  $y = \frac{2}{3}t^6$

g)  $y = -x$

h)  $y = 3 \sqrt[3]{x^4}$

i)  $f(x) = \frac{\sqrt[4]{x}}{2}$

j)  $y = -\frac{3x^4}{2}$

k)  $f(t) = -2t^7$

l)  $f(x) = \frac{x^3}{3}$

m)  $y = 2x \sqrt[5]{x}$

**III.6) Derivada de la suma (resta):**  $y = u \pm v \rightarrow y' = u' \pm v'$  donde  $u$  y  $v$  son funciones

Es decir: «La derivada de la suma (resta) es la suma (resta) de las derivadas»

Esta regla, combinada con las anteriores, es muy útil para derivar polinomios, como puede verse en el siguiente ejemplo:

**Ejercicio 7:** Hallar la derivada simplificada de las siguientes funciones:

a)  $f(x) = x^2 + x^3$

b)  $y = x^4 + 5$

c)  $y = x^2 - 2$

d)  $y = x - 2$

e)  $f(t) = 3t - 5$

f)  $y = 3x^2 - x^4$

g)  $y = 2x^3 - 3x^4$

h)  $y = 2t^4 - t^2 + 3$

i)  $y = x^4 + x^3 + x^2 + x + 1$

j)  $y = x^3 - 3x^2 + 5x - 8$

k)  $f(x) = -3x^5 + 4x^3 - x + 2$

l)  $y = \frac{x^4}{2} + 5x$

m)  $y = \frac{x^3}{3} - \frac{x^2}{2} + \frac{x}{5} - \frac{1}{2}$

(Sol:  $2x^3+5$ )

n)  $f(x) = x^5 - \frac{x^4}{3} + \frac{x^3}{6} - 3x^2 + \frac{x}{3}$

(Sol:  $x^2 - x + 1/5$ )

o)  $y = \frac{x^4 + x^2}{2}$

(Sol:  $2x^3+x$ )

p)  $f(x) = 0,05x^3 - 0,001x^2 + 0,1x - 0,02$

q)  $y = \frac{3x^6 - x^3 + 6x - 5}{3}$

(Sol:  $6x^5 - x^2 + 2$ )

**III.7) Derivada del producto:**  $y = u \cdot v \rightarrow y' = u'v + u v'$

Esta regla se puede generalizar a tres o más funciones:  $y = u \cdot v \cdot w \rightarrow y' = u'v w + u v' w + u v w'$

NOTA: Para derivar un producto, una alternativa, a veces, es operar previamente hasta transformar en un polinomio, y luego derivar.

**Ejercicio 8:** Hallar, utilizando la fórmula más adecuada en cada caso, la derivada simplificada de las siguientes funciones:

a)  $y = (2x+3)(3x-2)$  [de 2 formas, y comparar]

(Sol:  $12x+5$ )

b)  $y = (x-2)(x+3)$

(Sol:  $2x+1$ )

c)  $f(x) = (2x+3)(x-5)$

(Sol:  $4x-7$ )

d)  $f(x) = (x^2+2)(3x-1)$

(Sol:  $9x^2-2x+6$ )

e)  $y = (x^2-5)(3x-1)+7$

(Sol:  $9x^2-2x-15$ )

f)  $y = (2x-3)^2$  [de 2 formas]

(Sol:  $8x-12$ )

g)  $f(x) = (x+2)^3$

(Sol:  $3(x+2)^2$ )

h)  $y = (1,2-0,001x^2)x$

(Sol:  $-0,003x^2+1,2$ )

i)  $y = (2x^2-3)^2$

(Sol:  $16x^3-24x$ )

j)  $f(t) = 300t(1-t)$

(Sol:  $300-600t$ )

k)  $f(x) = (-4x^3-2x)^2$

(Sol:  $96x^5+64x^3+8x$ )

l)  $y = (t^2+t+1)^3$

(Sol:  $3(t^2+t+1)^2(2t+1)$ )

m)  $y = (3x-2)(2x-3)(x+5)$

(Sol:  $18x^2+34x-59$ )

n)  $f(x) = (2x-3)^{100}$

(Sol:  $200(2x-3)^{99}$ )

### III.8) Derivada del cociente:

$$y = \frac{u}{v} \rightarrow y' = \frac{u'v - uv'}{v^2}$$

**Ejercicio 9:** Demostrar, utilizando la derivada del producto, la fórmula anterior (Ayuda: poner  $u/v$  como  $u \cdot v^{-1}$ )

**Ejercicio 10:** Hallar la derivada simplificada de las siguientes funciones:

$$\text{a) } y = \frac{2x - 3}{3x + 2}$$

$$\left( y' = \frac{13}{(3x + 2)^2} \right)$$

$$\text{b) } y = \frac{x^2 + 1}{x^2 - 4}$$

$$\left( y' = \frac{-10x}{(x^2 - 4)^2} \right)$$

$$\text{c) } f(x) = \frac{x + 3}{x - 3}$$

$$\left( y' = \frac{-6}{(x - 3)^2} \right)$$

$$\text{d) } y = \frac{x^2}{x^2 + 1}$$

$$\left( y' = \frac{2x}{(x^2 + 1)^2} \right)$$

$$\text{e) } y = \frac{x^2 + x + 1}{x}$$

$$\left( y' = \frac{x^2 - 1}{x^2} \right)$$

$$\text{f) } f(x) = \frac{x^2 - 1}{x + 1}$$

$$(y' = 1)$$

$$\text{g) } y = 3 \frac{x^2 - 1}{x - 2}$$

$$\left( y' = 3 \frac{x^2 - 4x + 1}{(x - 2)^2} \right)$$

**Ejercicios final tema: 7 a 13**

**Ejercicios libro:** pág. 308: 1, 2, 3, 4, 10, 11; pág. 309: 14, 18; pág. 321: 26b, 27, 28a, 29a, 30a, 31a, 32a, 33a, 39a

- **NOTA:** Lo que hemos calculado hasta ahora es la función derivada de una función dada, o más comúnmente llamada derivada de una función. Por lo tanto, por tratarse de una función, podemos también evaluar la derivada en un punto dado, obteniendo como resultado un número. Es lo que se conoce como **derivada de una función en un punto**, ya visto en el apartado I. Veamos, a continuación, un ejemplo:

**Ejercicio 11:** Para cada una de las funciones que figuran a continuación, hallar el valor de su derivada en el punto indicado:

a)  $f(x) = x^2$  en  $x = 2$

b)  $f(x) = 2x - 5$  en  $x = 1$

c)  $y = x^3$  en  $x = -2$

d)  $f(x) = x^2 + x + 1$  en  $x = 0$

e)  $y = x^2 - x$  en  $x = -1$

**Ejercicios libro:** pág. 320: 15, 17, 18, 20, 21

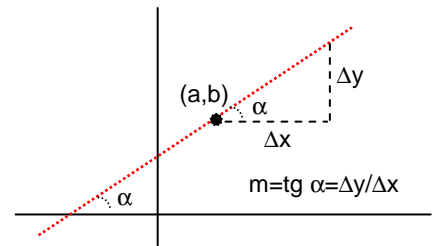


## IV) RECTA TANGENTE A UNA CURVA EN UN PUNTO (pág. 310 libro)

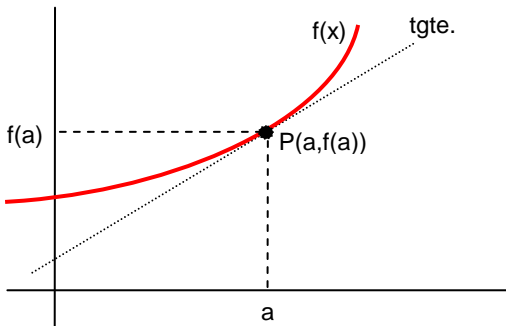
### Recordatorio previo: recta en forma punto-pendiente

Conviene previamente recordar que la ecuación punto-pendiente de la recta que pasa por el punto  $(a,b)$  y tiene pendiente  $m$  es [ver figura]:

$$y - b = m(x - a) \quad (6)$$



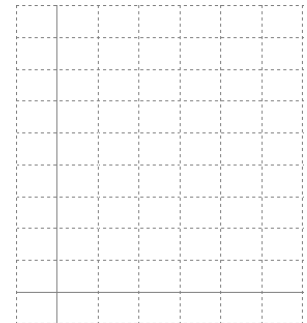
### Ecuación de la recta tangente:



Hay que recordar también que, como se vio en el apartado I, la derivada de la función  $f(x)$  en el punto de abscisa  $x=a$ , la cual se designaba como  $f'(a)$ , es la pendiente de la recta tangente en dicho punto  $(a, f(a))$ ; por lo tanto, la ecuación de dicha recta tangente [ver figura] en ese punto se obtendrá sustituyendo convenientemente en (6):

$$y - f(a) = f'(a)(x - a) \quad (7)$$

**Ejercicio 12:** Hallar la ecuación de la recta tangente en  $x=3$  a la curva  $f(x)=x^2-5x+8$ . Dibujar la situación, e interpretar el resultado. (Sol:  $y=x-1$ )



**Ejercicio 13:** Hallar la ecuación de la recta tangente a las siguientes funciones en los puntos que se indican:

a)  $f(x)=x^3-5$  en  $x=1$

b)  $y = \frac{1}{x}$  en  $x=-2$

c)  $f(x)=\sqrt{x^2+1}$  en  $x=0$

d)  $f(x)=\frac{x}{x^2+1}$  en  $x=1$

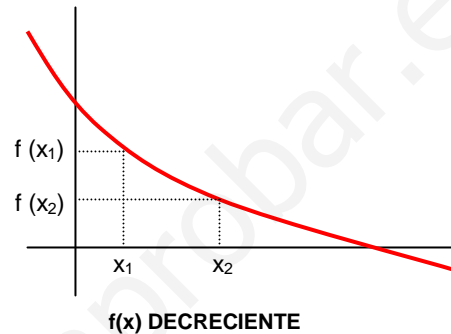
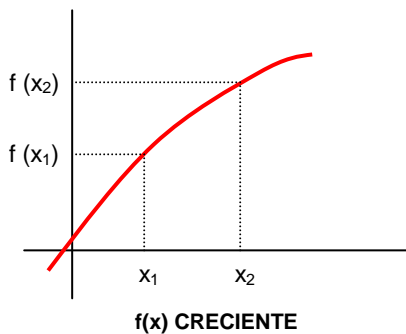
e)  $y = \frac{-3}{x^2}$  en  $x=0$

**Ejercicios final tema:** 14 a 17

**Ejercicios libro:** pág. 310: 1; **pág. 321 y ss.:** 44 a 47; 63 a 67, 69, 70 (de planteamiento); 76, 78 a 81 (con parámetro)

## V) INTERVALOS DE CRECIMIENTO Y DECRECIMIENTO. M y m (pág. 310 libro)

### V.1) Idea intuitiva:



### V.2) Definiciones:

$f(x)$  es creciente en un punto si en las proximidades de dicho punto se cumple:

$$x_1 < x_2 \Rightarrow f(x_1) < f(x_2)$$

$f(x)$  es decreciente en un punto si en las proximidades de dicho punto se cumple:

$$x_1 < x_2 \Rightarrow f(x_1) > f(x_2)$$

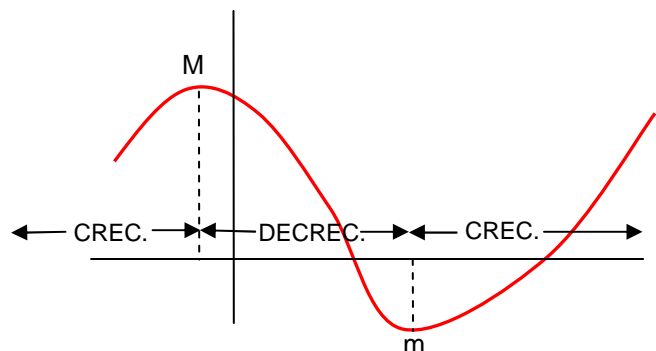
O, dicho con palabras:

“Una función es creciente en un punto si, en las proximidades de dicho punto, a medida que aumentan las  $x$  aumentan también las imágenes correspondientes”.

“Una función es decreciente en un punto si, en las proximidades de dicho punto, a medida que aumentan las  $x$  disminuyen las imágenes correspondientes”.

Acabamos de ver el concepto de función creciente en un punto. Ello es fácilmente ampliable a un intervalo, diciendo que «**una función es creciente en un intervalo si lo es en todos los puntos de dicho intervalo**».

- En general, las funciones no son siempre crecientes o siempre decrecientes, sino que presentan intervalos de crecimiento, también llamados de monotonía:



En un **máximo (M)**, la función pasa de **creciente a decreciente** de forma continua. Se llama máximo relativo o local.

En un **mínimo (m)**, la función pasa de **decreciente a creciente** de forma continua. Se llama mínimo relativo o local.

NOTA: Al final de este apartado veremos otros tipos de M o m, los absolutos.

**V.3) Teorema 1:**  $f'(a) > 0 \Rightarrow f(x)$  creciente en  $x = a$

O, dicho con palabras: «Si la derivada de una función en un punto es positiva, entonces la función es creciente en dicho punto».

**Observaciones:**

- 1º) La justificación de este teorema es obvia: teniendo en cuenta que la derivada era la pendiente de la recta tangente, si la derivada es positiva significará que la recta tangente tiene pendiente positiva, es decir, que la recta tangente es creciente, y, por lo tanto, también será creciente la curva.
- 2º) El recíproco no siempre es cierto: una función puede ser creciente en un punto y no ser necesariamente positiva su derivada (piénsese, por ejemplo, en  $y=x^3$  en  $x=0$ ).
- 3º) Naturalmente, otra forma alternativa de enunciar este teorema es decir que:

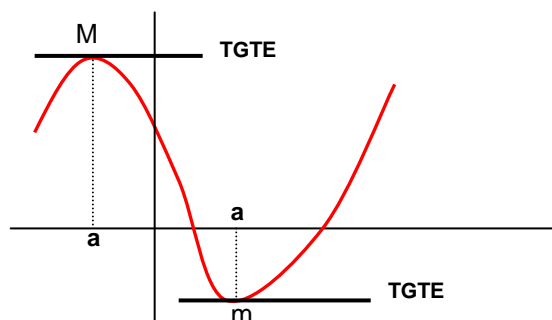
$$f'(a) < 0 \Rightarrow f(x) \text{ decreciente en } x = a$$

- 4º) Por lo tanto, el **procedimiento práctico para hallar los intervalos de crecimiento será estudiar el signo de  $f'(x)$**  (debido al teorema anterior). Para ver cómo cambia el signo de  $f'(x)$ , se recomienda hallar sus raíces, y construir una tabla (ver ejercicios 14, 15 y 16 que figuran a continuación). De los intervalos de crecimiento deduciremos fácilmente los posibles M y m.
- 5º) Los intervalos de monotonía se expresan siempre con respecto al eje x, como veremos en los mencionados ejercicios.

**V.4) Teorema 2:**  $x = a$  es M o m de  $f(x) \Rightarrow f'(a) = 0$  (¡El recíproco no siempre se cumple!)

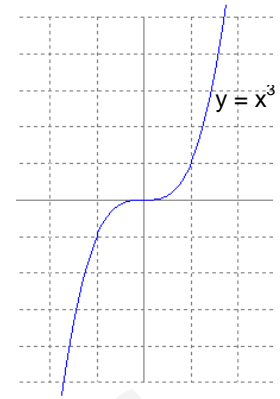
O, dicho con palabras: «En un M o m la derivada siempre se anula».

**Justificación gráfica:** En un M o m la tangente es horizontal, es decir, su pendiente será nula, y por tanto su derivada también:

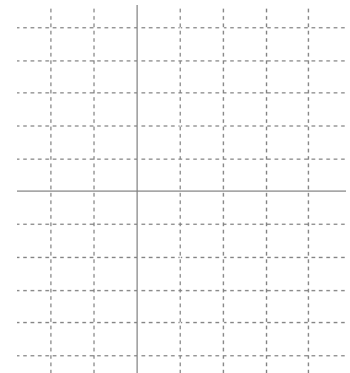


**Observaciones:**

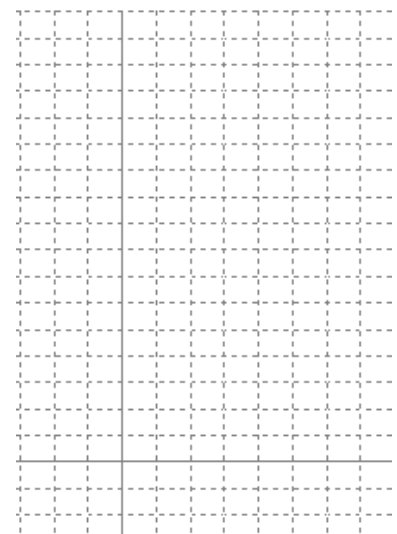
- 1º) El teorema dice que la condición necesaria (pero no suficiente) para que exista un **M** o un **m** en un punto es que la derivada se anule. De hecho, **puede ocurrir que la derivada se anule en un determinado punto, pero no cambie de signo a ambos lados**; por ejemplo,  $y=x^3$  entra en el origen con tangente horizontal -es decir, derivada nula-, pero no presenta **M** ni **m**, sino lo que se conoce como **punto de inflexión**<sup>3</sup>.
- 2º) Puede haber varios **M** o **m**, no haber, o infinitos.
- 3º) Si la  $f(x)$  es continua, entre dos **M** siempre hay un **m**, y viceversa.
- 4º) Los candidatos a **M** o **m** son los que anulan  $f'(x)$
- 5º) Si  $f'(x)$  no se anula nunca, no hay **M** ni **m**



- Ejercicio 14:** Dada la parábola  $f(x)=x^2-2x-3$  se pide:
- a) Representarla gráficamente
  - b) Estudiar el signo de  $f'(x)$  y deducir sus intervalos de crecimiento y el **M**, comprobando que coinciden con la información de la gráfica.




- Ejercicio 15:** Ídem con la parábola  $y = -x^2 + 4x + 12$



<sup>3</sup> Los puntos de inflexión se estudiarán el próximo curso en profundidad.

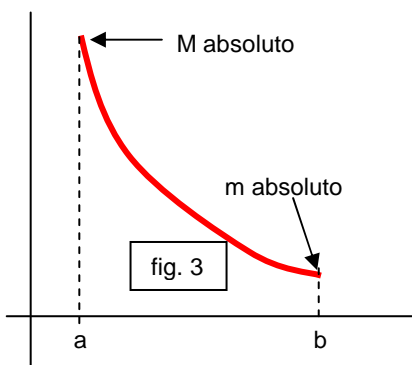
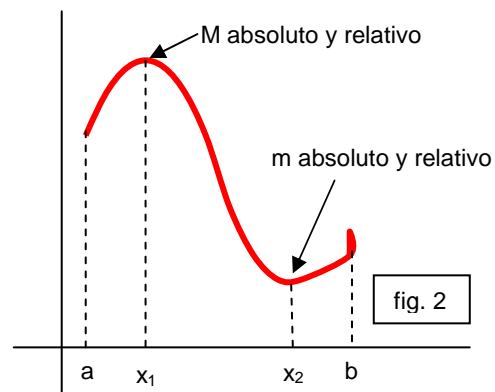
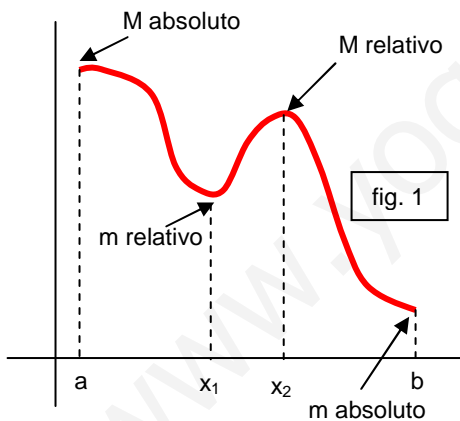
**Ejercicio 16:** Hallar los intervalos de monotonía y los posibles M y m de la función  $f(x)=x^3-3x^2-9x+7$ ; dibujar, con esa información, su gráfica.



**Ejercicio final tema: 18**

**V.5) M o m absolutos:**

Dada una función continua en un intervalo  $[a,b]$ , pueden darse varias situaciones en dicho intervalo, que se resumen en las siguientes:



En resumen:

- Los M y m relativos (los que hemos visto en los subapartados anteriores) son máximos "locales", mientras que para los absolutos hay que tener en cuenta todo el intervalo.
- Puede haber varios extremos relativos, o puede no haberlos (fig. 3), pero siempre hay M y m absolutos.
- Puede coincidir el M (o el m) absoluto y relativo (fig. 2); en caso contrario el M (o el m) absoluto lógicamente estará en un extremo (figs. 1 y 3)

**Ejercicio 17:** Unos grandes almacenes abren a las 10 horas y cierran a las 22 horas. Se ha comprobado que el número de visitantes puede representarse, en función de la hora del día, como  $N(t) = -t^2 + 36t + 260$ , con  $10 \leq t \leq 22$  **a)** Representar gráficamente dicha función. **b)** ¿A qué hora se da la máxima afluencia de clientes? ¿Cuál es el máximo número de clientes que registran? **c)** ¿A qué hora se da la mínima afluencia de clientes? ¿De qué número de clientes se trata? **d)** ¿Cuántos clientes quedan a la hora de cerrar?



## VI) REPRESENTACIÓN GRÁFICA DE FUNCIONES (págs. 312 a 315 libro de texto)

A la hora de representar una función conviene hallar, por este orden, los siguientes aspectos:

- 1º) Dom(f):**
- Recordar que es el conjunto formado por todos los  $x$  para los que existe imagen  $f(x)$
  - Las reglas para hallarlo son prácticamente las mismas que las vistas en el tema anterior para estudiar la continuidad de las funciones más usuales (Por ejemplo, recordar que las funciones polinómicas tienen  $\text{Dom}(f) = \mathbb{R}$ ).

### 2º) Corte con los ejes:

CORTE CON:	¿CÓMO SE CALCULA?	¿CUÁNTOS CORTES PUEDE HABER?
eje x	haciendo $y=0$ (habrá que resolver una ecuación)	ninguno, uno, o varios
eje y	sustituyendo $x=0$	uno o ninguno

**Ejercicio 18:** Hallar el posible corte con los ejes de las siguientes funciones:

**a)**  $y = x^2 + 2x - 3$

b)  $y = x^3 + 4x^2 + x - 6$

3º) Intervalos de crecimiento  $\Rightarrow$  **M y m**: Se obtienen, como hemos visto en el apartado IV, estudiando el signo de  $f'(x)$

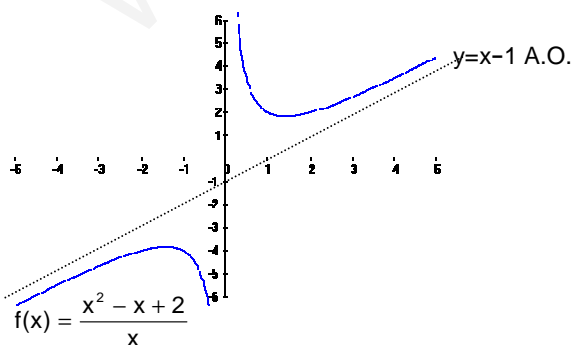
4º) Cálculo de las posibles asíntotas: Ya hemos visto en el tema anterior cómo se calcula la ecuación de las posibles asíntotas horizontales y verticales de una función, y el comportamiento de la gráfica en las proximidades de dichas asíntotas:

**Definición de asíntota vertical:**  $\lim_{x \rightarrow a} f(x) = \begin{matrix} \infty \\ (0 - \infty) \end{matrix} \Leftrightarrow x = a$  A.V.

**Definición de asíntota horizontal:**  $\lim_{\substack{x \rightarrow \infty \\ (0 - \infty)}} f(x) = L \Leftrightarrow y = L$  A.H.

- **Observaciones:**
  - 1º La gráfica puede cortar a la A.H. para valores finitos de  $x$
  - 2º En cambio, la gráfica de una función nunca puede cortar a una A.V.
  - 3º Como máximo puede haber dos A.H. (una cuando  $x \rightarrow \infty$  y otra cuando  $x \rightarrow -\infty$ ), aunque normalmente es una sola.
  - 4º En la práctica, en la mayoría de los casos las A.V. serán las  $x$  que anulen el denominador, pero no el numerador, aunque a veces hay excepciones.
  - 5º Puede haber una, ninguna o varias A.V.

Vamos a ver a continuación otro tipo, las **asíntotas oblicuas**:



$$\left. \begin{aligned} m &= \lim_{x \rightarrow \infty (0 - \infty)} \frac{f(x)}{x} \\ n &= \lim_{x \rightarrow \infty (0 - \infty)} [f(x) - mx] \end{aligned} \right\} \Rightarrow y = mx + n \text{ es A.O.}$$

(no lo vamos a demostrar)

**Ejercicio 19:** Hallar las asíntotas de las siguientes funciones:

a)  $f(x) = \frac{x^2 - x + 2}{x}$

(Sol: A.V.  $x=0$ ; A.O.  $y=x-1$ )

b)  $y = \frac{x^2 - 5x + 6}{x + 3}$

(Sol: A.V.  $x=-3$ ; A.O.  $y=x-8$ )

c)  $f(x) = \frac{x^2 - 4}{x - 1}$

(Sol: A.V.  $x=1$ ; A.O.  $y=x+1$ )

d)  $f(x) = \frac{x^3}{x^2 - 4}$

(Sol: A.V.  $x=\pm 2$ ; A.O.  $y=x$ )

**Ejercicio libro:** pág. 297: 26

- **Observaciones:**
- 1) Si sale  $m=\infty$  (o  $-\infty$ ) o  $m=0 \Rightarrow$  no hay A.O.
  - 2) **IMPORTANTE:** Una función no puede tener por el mismo lado ( $\infty$  o  $-\infty$ ) a la vez A.H. y A.O.
  - 3) La gráfica puede cortar a la A.O. para valores finitos de  $x$ , pero no en el  $\infty$
  - 4) **IMPORTANTE:** una función racional tiene A.O. si el grado del numerador es una unidad superior al del denominador.
  - 5) **IMPORTANTE:** Los polinomios no tienen asíntotas de ningún tipo (lo que presentan son ramas infinitas)
  - 6) Un método alternativo para hallar asíntotas oblicuas consiste en hacer la división polinómica del numerador y el denominador: la expresión del cociente resultante será la ecuación de la A.O. (naturalmente, esto sólo es posible en el caso de funciones racionales).

5º) Finalmente, a la hora de representar una función, a veces puede ser útil completar la información anterior confeccionando una pequeña **tabla de valores** con los valores más imprescindibles.

**Ejercicios final tema:** 19 a 23

**Ejercicios libro:** pág. 322 y ss.: 52, 53, 54, 68, 77 (*crecimiento*)  
pág. 313: 1; pág. 315: 1; pág. 322 y ss.: 58, 59, 60, 72, 73, 74, 75 (*representación gráfica*)



## TABLA DE DERIVADAS ELEMENTALES

FUNCIONES SIMPLES:		FUNCIONES COMPUESTAS (Regla de la cadena)	
$y=k$	$y'=0$		
$y=x$	$y'=1$		
$y=k \cdot x$	$y'=k$	$y=k \cdot u$	$y'=k \cdot u'$
$y=x^n \ (n \in \mathbb{R})$	$y'=n \cdot x^{n-1}$	$y=u^n \ (n \in \mathbb{R})$	$y'=n \cdot u^{n-1} \cdot u'$
		$y=u \pm v$	$y'=u' \pm v'$
		$y=u \cdot v$	$y'=u' \cdot v + u \cdot v'$
		$y = \frac{u}{v}$	$y' = \frac{u' \cdot v - u \cdot v'}{v^2}$
$y = \frac{1}{x}$	$y' = -\frac{1}{x^2}$	$y = \frac{1}{u}$	$y' = -\frac{u'}{u^2}$
$y = \sqrt{x}$	$y' = \frac{1}{2\sqrt{x}}$	$y = \sqrt{u}$	$y' = \frac{u'}{2\sqrt{u}}$
$y = \sqrt[n]{x}$	hacer $y=x^{1/n}$	$y = \sqrt[n]{u}$	hacer $y=u^{1/n}$

**NOTA:** en esta tabla  $k$  es cualquier constante, y  $u$  y  $v$  son funciones.

## 23 EJERCICIOS de DERIVADAS

### Derivada de una función en un punto $f'(a)$ :

**Fórmulas:** 
$$f'(a) = \lim_{h \rightarrow 0} \frac{f(a+h) - f(a)}{h} \quad (1)$$

$$f'(a) = \lim_{x \rightarrow a} \frac{f(x) - f(a)}{x - a} \quad (2)$$

1. Para cada una de las funciones que figuran a continuación, hallar el valor de su derivada en el punto indicado, utilizando la fórmula que se señala:

a)  $f(x)=x^2$  en  $x=2$  mediante (1)

b)  $f(x)=2x-5$  en  $x=1$  mediante (2)

c)  $f(x)=x^3$  en  $x=2$  mediante (1)

d)  $f(x) = \sqrt{x}$  en  $x=4$  mediante (2)

e)  $f(x)=1/x$  en  $x=-1$  mediante (1)

f)  $f(x)=x^2+x+1$  en  $x=0$  mediante (2)

(Soluc: a) 4; b) 2; c) 12; d) 1/4; e) -1; f) 1)

2. Volver a hacer el ejercicio anterior por la fórmula alternativa en cada caso, y comprobar que se obtiene idéntico resultado.

3. Hallar la derivada de  $f(x)=x^2-x$  en  $x=1$ . Dibujar la función y trazar la recta tangente en dicho punto. Hallar el ángulo que dicha tangente forma con  $OX^+$  e interpretar el resultado.

### Función derivada $f'(x)$ :

**Fórmula:** 
$$f'(x) = \lim_{h \rightarrow 0} \frac{f(x+h) - f(x)}{h} \quad (3)$$

4. Hallar la derivada de las funciones del ejercicio 1 y sustituir el punto indicado en cada caso, para comprobar que se obtiene el mismo resultado.

5. Hallar la derivada de cada una de las siguientes funciones, y a partir de ella obtener  $f'(2)$ ,  $f'(-1)$  y  $f'(0)$ :

a)  $f(x)=3x-2$

b)  $f(x)=x^2-5x+6$

c)  $f(x)=x^3+1$

d)  $f(x) = \sqrt{x^2 + 1}$

e)  $f(x) = \frac{1}{x+1}$

6. Hallar la derivada de  $f(x)=x^2-3x$  en  $x=1$  mediante la definición de derivada (es decir, mediante un límite)  
(Sol: -1)

### Reglas de derivación. Tabla de derivadas:

7. Utilizando la derivada de la función potencial,  $y=x^n \Rightarrow y'=n \cdot x^{n-1} (\forall n \in \mathbb{R})$ , hallar la derivada, **simplificada**, de las siguientes funciones:

a)  $y=x^2$

b)  $y=x^3$

c)  $y=3x^4$

d)  $y=-2x^5$

e)  $y = \frac{3}{2} x^4$

$$\begin{array}{lllll} \text{f)} y = \frac{x^2}{4} & \text{g)} y = \sqrt{x} & \text{h)} y = \sqrt{x^3} & \text{i)} y = \sqrt[3]{x^2} & \text{j)} y = 2\sqrt[4]{x^3} \\ \text{k)} y = \frac{1}{\sqrt{x}} & \text{l)} y = x^2\sqrt{x} & \text{m)} y = \frac{\sqrt{x}}{x^2} & \text{n)} y = -2x^6 & \text{o)} y = \frac{x^8}{4} \\ \text{p)} y = 2\sqrt{x} & \text{q)} y = 3\sqrt[5]{x^3} & \text{r)} y = \frac{\sqrt{x}}{x} & & \end{array}$$

(Soluc: a)  $y' = 2x$ ; b)  $y' = 3x^2$ ; c)  $y' = 12x^3$ ; d)  $y' = -10x^4$ ; e)  $y' = 6x^3$ ; f)  $y' = x/2$ ; g)  $y' = \frac{1}{2\sqrt{x}}$ ; h)  $y' = \frac{3}{2}\sqrt{x}$ ; i)  $y' = \frac{2}{3\sqrt[3]{x}}$ ;  
j)  $y' = \frac{3}{2\sqrt[4]{x}}$ ; k)  $y' = \frac{-1}{2x\sqrt{x}}$ ; l)  $y' = \frac{5}{2}\sqrt{x^3}$ ; m)  $y' = \frac{-3\sqrt{x}}{2x^3}$ ; n)  $y' = -12x^5$ ; o)  $y' = 2x^7$ ; p)  $y' = \frac{1}{\sqrt{x}}$ ;  
q)  $y' = \frac{9}{5\sqrt[5]{x^2}}$ ; r)  $y' = \frac{-\sqrt{x}}{2x^2}$ )

8. Utilizando la fórmula de la derivada de la suma de funciones, hallar la derivada **simplificada** de las siguientes funciones:

$$\text{a)} y = x^2 + x + 1 \quad \text{b)} y = 2x^3 - 3x^2 + 5x - 3 \quad \text{c)} y = \frac{x^2}{3} - \frac{x}{5} + 1 \quad \text{d)} y = \sqrt[3]{x} - \sqrt[4]{x^3} + 2\sqrt{x}$$

(Soluc: a)  $y' = 2x + 1$ ; b)  $y' = 6x^2 - 6x + 5$ ; c)  $y' = \frac{2}{3}x - \frac{1}{5}$ ; d)  $y' = \frac{1}{3\sqrt[3]{x^2}} - \frac{3}{4\sqrt[4]{x}} + \frac{1}{\sqrt{x}}$ )

9. Utilizando en cada caso la fórmula más apropiada de la tabla de derivadas, hallar la derivada **simplificada** de las siguientes funciones compuestas:

$$\begin{array}{lllll} \text{a)} y = \frac{1}{x^2} & \text{b)} y = \frac{1}{x^2 + 2x - 3} & \text{c)} y = \sqrt{x^2 + 1} & \text{d)} y = (x^2 - 3)^2 & \text{e)} y = \frac{2}{x^3} \\ \text{f)} y = (x^2 + x + 1)^3 & \text{g)} y = \sqrt[3]{2x^3 - 3} & \text{h)} y = \frac{1}{\sqrt{x^2 + 4}} & \text{i)} y = 3(x^2 + 1)^{10} & \text{j)} y = 2(3x^2 - 1)^4 \end{array}$$

$$\text{k)} y = \frac{2}{(x^2 + 1)^3}$$

(Sol: a)  $y' = \frac{-2}{x^3}$ ; b)  $y' = \frac{2x+2}{(x^2+2x-3)^2}$ ; c)  $y' = \frac{x}{\sqrt{x^2+1}}$ ; d)  $y' = 4x^3 - 12x$ ; e)  $y' = \frac{-6}{x^4}$ ; f)  $y' = 3(2x+1)(x^2+x+1)^2$ ;

g)  $y' = \frac{2x^2}{\sqrt[3]{2x^3-3}^2}$ ; h)  $y' = \frac{-x}{\sqrt{x^2+4}^3}$ ; i)  $y' = 60x(x^2+1)^9$ ; j)  $y' = 48x(3x^2-1)^3$ ; k)  $y' = \frac{-12x}{(x^2+1)^4}$ )

10. Ídem:

$$\text{a)} y = x\sqrt{x^3} \quad \text{b)} y = (2x - 3)(x^2 - 5) \quad \text{c)} y = x^2\sqrt[3]{x} \quad \text{d)} y = (2x - 3)\sqrt[4]{x^3} \quad \text{e)} y = (2x + 1)(x^2 - 3)^2$$

$$\text{f)} y = \sqrt{x} \left( \frac{1}{x+1} \right)^2$$

(Soluc: a)  $y' = \frac{5}{2}\sqrt{x^3}$ ; b)  $y' = 6x^2 - 6x - 10$ ; c)  $y' = \frac{7}{3}\sqrt[3]{x^4}$ ; d)  $y' = \frac{14x-9}{4\sqrt[4]{x}}$ ; e)  $y' = 10x^4 + 4x^3 - 36x^2 - 12x + 18$ ;

f)  $y' = \frac{-3x+1}{2(x+1)^3\sqrt{x}}$ )

11. Utilizando la fórmula para el cociente de funciones, hallar la derivada **simplificada** de las siguientes funciones:

a)  $y = \frac{x^2 - 5}{x + 2}$       b)  $y = \frac{\sqrt{x}}{x^2}$       c)  $y = \frac{x + 2}{x^2 - 5}$       d)  $y = \frac{3x}{(2x^2 + 1)^2}$       e)  $y = \frac{x^2}{\sqrt{x + 1}}$

(Sol: a)  $y' = \frac{x^2 + 4x + 5}{(x + 2)^2}$ ; b)  $y' = -\frac{3}{2}\sqrt{x}$ ; c)  $y' = -\frac{x^2 + 4x + 5}{(x^2 - 5)^2}$ ; d)  $y' = \frac{3 - 18x^2}{(2x^2 + 1)^3}$ ; e)  $y' = \frac{3x^2 + 4x}{2(x + 1)\sqrt{x + 1}}$ )

12. Derivar las siguientes funciones, utilizando en cada caso el procedimiento más apropiado, y **simplificar**:

a)  $y = \frac{x^2 + 1}{x^2}$       b)  $y = \frac{2x^2 - 3x + 1}{x}$       c)  $y = \frac{x + 1}{1 - x}$

13. Hallar la fórmula para la derivada de  $y = \frac{u}{v \cdot w}$  e  $y = \frac{u \cdot v}{w}$ , siendo u, v y w funciones.

### Ecuación de la recta tangente:

14. Hallar la ecuación de la recta tangente a las curvas en los puntos que se indican:

a) $f(x) = 3x^2 + 8$ en $x = 1$	(Sol: $6x - y + 5 = 0$ )	d) $f(x) = \frac{x^3 - 2}{x^2 - 3}$ en $x = 2$	(Sol: $y = -12x + 30$ )
b) $y = 2x^5 + 4$ en $x = -1$	(Sol: $10x - y + 12 = 0$ )		
c) $f(x) = x^4 - 1$ en $x = 0$	(Sol: $y = -1$ )		

15. ¿En qué punto de la gráfica de la parábola  $f(x) = x^2 - 6x + 8$  la tangente es paralela al eje de abscisas? ¿Qué nombre recibe ese punto? ¿Cuál es la ecuación de la tangente? Dibujar la situación.  
(Soluc:  $y = -1$ ; vértice  $(3, -1)$ )

16. ¿En qué punto de la gráfica de la función anterior la tangente es paralela a la bisectriz del primer cuadrante? Dibujar la situación. (Soluc:  $(7/2, -3/4)$ )

17. (S) Determinar los puntos de la curva  $y = x^3 + 9x^2 - 9x + 15$  en los cuales la tangente es paralela a la recta  $y = 12x + 5$  (Soluc:  $(1, 16)$  y  $(-7, 176)$ )

### Intervalos de crecimiento. M y m. Representación de funciones:

18. Hallar los intervalos de crecimiento y decrecimiento y los M y m de las siguientes funciones. Representarlas gráficamente.

a) $f(x) = x^2$	f) $f(x) = x^3$
b) $f(x) = x^4 - 2x^2$	
c) $y = x^3 - 3x^2 + 1$	
d) $f(x) = x^3 - 6x^2 + 9x - 8$	
e) $f(x) = x^3 - 4x^2 + 7x - 6$	
	h) $y = x^3 - 3x^2 - 9x + 1$
	i) $f(x) = x^4 - 4x^3 + 1$
	j) $y = \frac{x^3}{3} - \frac{x^2}{2} - 6x + 3$

$$k) y=2x^3-9x^2$$

$$l) f(x)=x^3-6x^2+9x$$

$$m) y=x^3-12x$$

(Soluc: a)  $\nearrow (0,\infty) \searrow (-\infty,0)$ ; b)  $\nearrow (-1,0) \cup (1,\infty) \searrow (-\infty,-1) \cup (0,1)$ ; c)  $\nearrow (-\infty,0) \cup (2,\infty) \searrow (0,2)$ ; d)  $\nearrow (-\infty,1) \cup (3,\infty) \searrow (1,3)$ ; e)  $\nearrow \forall x \in \mathbb{R}$ ; f)  $\nearrow \forall x \in \mathbb{R}$ ; g)  $\searrow (-\infty,0) \nearrow (0,\infty)$ ; h)  $\nearrow (-\infty,-1) \cup (3,\infty) \searrow (-1,3)$ ; i)  $\searrow (-\infty,3) \nearrow (3,\infty)$ )

19. Dada  $f(x)=2x^3-3x^2$  se pide: **i)** Dom (f) **ii)** Posible Simetría. **iii)** Posibles cortes con los ejes. **iv)** Intervalos de crecimiento a partir de  $f'(x)$ , y posibles M y m que se deducen. **v)** Ecuación de las asíntotas, en caso de existir. **vi)** Con la información anterior, representarla gráficamente.

20. Ídem para:

$$a) f(x)=x^3-3x$$

$$b) y = \frac{x+2}{x-1}$$

$$c) y=x^4-2x^2$$

$$d) y = \frac{2x}{x^2+1}$$

$$e) f(x)=x^3-3x^2$$

$$f) f(x)=\frac{x^2}{x^2+1}$$

$$g) y=-x^3+12x$$

$$h) f(x)=\frac{9}{x^2-9}$$

$$i) f(x)=\frac{16-8x}{x^2}$$

$$j) y=\frac{x}{x^2+x+1}$$

$$k) y=\frac{x}{x^2-x+1}$$

$$l) y=\frac{4x}{x-1}^2$$

$$m) y=\sqrt{-x^2+4x+5}$$

21. Hallar los máximos y mínimos de las siguientes funciones , y a partir de ellos los intervalos de monotonía y su representación gráfica:

$$a) y=\frac{x^2}{x+2}$$

$$b) f(x)=\frac{1}{x^2+1}$$

$$c) f(x)=\frac{1}{x^4+3}$$

$$d) y=\frac{1}{x^3+x}$$

$$e) f(x)=|x|$$

(Soluc: a) M(-4,-8) m(0,0); b) M(0,1); c) M(0,1/3); d) no tiene; e) m(0,0))

22. Hallar los M y m y los intervalos de crecimiento y decrecimiento de la función

$$f(x)=\sqrt[3]{x^2+2x+3}$$

(Soluc: m(-1,  $\sqrt[3]{2}$ );  $\searrow (-\infty,-1) \nearrow (-1,\infty)$ )

23. Hallar los intervalos de crecimiento y decrecimiento de la función

$$f(x)=\frac{4x+5}{2x-3}$$

(Solución: decreciente  $\forall x \in \text{Dom}(f)$ )

## 71 DERIVADAS (con SOLUCIONES)

■ Hallar las derivadas **simplificadas** de las siguientes funciones:

- |   |   |
|---|---|
| <p>1. <math>y=3</math> <span style="float: right;"><math>(y'=0)</math></span></p>   | <p>20. <math>y=(x+1)^5</math> <span style="float: right;"><math>(y'=5(x+1)^4)</math></span></p>   |
| <p>2. <math>y=x</math> <span style="float: right;"><math>(y'=1)</math></span></p>   | <p>21. <math>y=(2x^2-3x+1)^3</math> <span style="float: right;"><math>(y'=3(2x^2-3x+1)^2(4x-3))</math></span></p>   |
| <p>3. <math>y=5x</math> <span style="float: right;"><math>(y'=5)</math></span></p>  | <p>22. <math>y=(x^2+1)^{100}</math> <span style="float: right;"><math>(y'=200x(x^2+1)^{99})</math></span></p>   |
| <p>4. <math>y=x^3</math> <span style="float: right;"><math>(y'=3x^2)</math></span></p>  | <p>23. <math>y=\frac{x+1}{x-1}</math> <span style="float: right;"><math>(y'=\frac{-2}{(x-1)^2})</math></span></p>   |
| <p>5. <math>y=x^4+x^3+x^2+x+1</math> <span style="float: right;"><math>(y'=4x^3+3x^2+2x+1)</math></span></p>  | <p>24. <math>y=\frac{1}{x^2+1}</math> <span style="float: right;"><math>(y'=\frac{-2x}{(x^2+1)^2})</math></span></p>  |
| <p>6. <math>y=4x^4-x^3+3x^2-7</math> <span style="float: right;"><math>(y'=16x^3-3x^2+6x)</math></span></p>   | <p>25. <math>y=3\frac{2x^2-1}{x^3+1}</math> <span style="float: right;"><math>(y'=3\frac{-2x^4+3x^2+4x}{(x^3+1)^2})</math></span></p>                               |
| <p>7. <math>y=-\frac{x^5}{5}+4x^4-\frac{x^3}{6}+\frac{x^2}{2}-3</math><br/><span style="float: right;"><math>(y'=-x^4+16x^3-\frac{1}{2}x^2+x)</math></span></p> | <p>26. <math>y=\left(\frac{2x-3}{x+4}\right)^4</math> <span style="float: right;"><math>(y'=\frac{44(2x-3)^3}{(x+4)^5})</math></span></p>                           |
| <p>8. <math>y=3(x^2+x+1)</math> <span style="float: right;"><math>(y'=3(2x+1))</math></span></p>  | <p>27. <math>y=\sqrt{x^2+1}</math> <span style="float: right;"><math>(y'=\frac{x}{\sqrt{x^2+1}})</math></span></p>  |
| <p>9. <math>y=4(3x^3-2x^2+5)+x^2+1</math> <span style="float: right;"><math>(y'=36x^2-14x)</math></span></p>  | <p>28. <math>y=2\sqrt{x^3-x^2+1}(2x^2+3)</math> <span style="float: right;"><math>(y'=\frac{14x^4-12x^3+9x^2+2x}{\sqrt{x^3-x^2+1}})</math></span></p>               |
| <p>10. <math>y=\frac{2x^3-3x^2+4x-5}{2}</math> <span style="float: right;"><math>(y'=3x^2-3x+2)</math></span></p>   | <p>29. <math>y=\frac{x^3}{3}-\frac{3x^4}{4}+\frac{x^2}{2}-\frac{1}{x}</math> <span style="float: right;"><math>(y'=-3x^3+x^2+x+1/x^2)</math></span></p>             |
| <p>11. <math>y=(x^2+1)(2x^3-4)</math> <span style="float: right;"><math>(y'=10x^4+6x^2-8x)</math></span></p>  | <p>30. <math>y=2/x</math> <span style="float: right;"><math>(y'=-2/x^2)</math></span></p>   |
| <p>12. <math>y=1/x</math> <span style="float: right;"><math>(y'=-1/x^2)</math></span></p>   | <p>31. <math>y=3(x^2-x+1)(x^2+x-1)</math> <span style="float: right;"><math>(y'=3(4x^3-2x+2))</math></span></p>   |
| <p>13. <math>y=1/x^3</math> <span style="float: right;"><math>(y'=-3/x^4)</math></span></p>   | <p>32. <math>y=\frac{x^2-1}{x^2+1}</math> <span style="float: right;"><math>(y'=\frac{4x}{(x^2+1)^2})</math></span></p>   |
| <p>14. <math>y=2/x^5</math> <span style="float: right;"><math>(y'=-10/x^6)</math></span></p>  | <p>33. <math>y=x/2</math> <span style="float: right;"><math>(y'=1/2)</math></span></p>  |
| <p>15. <math>y=\frac{2}{x^3}+\frac{1}{x^2}-\frac{3}{x}</math> <span style="float: right;"><math>(y'=\frac{3x^2-2x-6}{x^4})</math></span></p>                    | <p>34. <math>y=\frac{1}{x}+\frac{2}{x^2}+\frac{3}{x^3}</math> <span style="float: right;"><math>(y'=-\frac{1}{x^2}-\frac{4}{x^3}-\frac{9}{x^4})</math></span></p>   |
| <p>16. <math>y=\sqrt{x}</math> <span style="float: right;"><math>(y'=\frac{1}{2\sqrt{x}})</math></span></p>   | <p>35. <math>y=(2x^2-1)(x^2-2)(x^3+1)</math> <span style="float: right;"><math>(y'=14x^6-25x^4+8x^3+6x^2-10x)</math></span></p>                                     |
| <p>17. <math>y=\sqrt[3]{x^2}</math> <span style="float: right;"><math>(y'=\frac{2}{3\sqrt[3]{x}})</math></span></p>   | <p>36. <math>y=\sqrt{\frac{1-x^3}{x^2+1}}</math> <span style="float: right;"><math>(y'=\frac{(-x^4-3x^2-2x)\sqrt{x^2+1}}{2(x^2+1)^2\sqrt{1-x^3}})</math></span></p> |
| <p>18. <math>y=\sqrt[5]{x^3}</math> <span style="float: right;"><math>(y'=\frac{3}{5\sqrt[5]{x^2}})</math></span></p>   | <p>37. <math>y=(x^2+1)(3x+2)^3</math> <span style="float: right;"><math>(y'=(3x+2)^2(15x^2+4x+9))</math></span></p>   |
| <p>19. <math>y=2\sqrt[3]{x^2}-3x^2+\frac{1}{5}</math> <span style="float: right;"><math>(y'=\frac{4}{3\sqrt[3]{x}}-6x)</math></span></p>                        | <p>38. <math>y=(3x^2+2)(2x+1)^3</math> <span style="float: right;"><math>(y'=(2x+1)^2(30x^2+6x+12))</math></span></p>   |

39.  $y = \frac{1}{3x^5 - x^3 + 2}$   $\left( y' = \frac{-15x^4 + 3x^2}{(3x^5 - x^3 + 2)^2} \right)$
40.  $y = \sqrt{x^4 - 2x^2 + 3}$   $\left( y' = \frac{2x^3 - 2x}{\sqrt{x^4 - 2x^2 + 3}} \right)$
41.  $y = \sqrt{\frac{x^2 + 1}{x^2 - 1}}$   $\left( y' = \frac{-2x\sqrt{x^2 - 1}}{(x^2 - 1)^2 \sqrt{x^2 + 1}} \right)$
42.  $y = \sqrt[5]{x^2 + 1}$   $\left( y' = \frac{2}{5\sqrt[5]{x^3}} \right)$
43.  $y = \frac{x^4 - 2x^2 + 1}{5}$   $\left( y' = \frac{4x^3 - 4x}{5} \right)$
44.  $y = \frac{5}{x^4 - 2x^2 + 1}$   $\left( y' = \frac{20x - 20x^3}{(x^4 - 2x^2 + 1)^2} \right)$
45.  $y = 3(x+1)^3 \sqrt[3]{x+1}$   $\left( y' = 10\sqrt[3]{(x+1)^7} \right)$
46.  $y = x^3 \sqrt{x}$   $\left( y' = \frac{7x^2 \sqrt{x}}{2} \right)$
47.  $y = \sqrt[3]{\frac{1}{2x+1}}$   $\left( y' = -\frac{2}{3\sqrt[3]{(2x+1)^4}} \right)$
48.  $y = 2x(x^2+1)(2x-1)(x+2)$
49.  $y = 3 \frac{(x-1)^2(x+2)}{x+1}$   $\left( y' = 3 \frac{2x^3 + 3x^2 - 5}{(x+1)^2} \right)$
50.  $y = \frac{2x+4}{\sqrt{x+3}}$   $\left( y' = \frac{x+4}{\sqrt{(x+3)^3}} \right)$
51.  $y = \frac{3x^4}{4} - \frac{2x^3}{3} + \frac{x^2}{2} - \frac{x}{5} + \frac{1}{x}$   
 $(y' = 3x^3 - 2x^2 + x - 1/5 - 1/x^2)$
52.  $y = \sqrt[4]{(x^4 - 1)^3}$   $\left( y' = \frac{3x^3}{\sqrt[4]{x^4 - 1}} \right)$
53.  $y = \frac{1}{(x^2 + 1)^3}$   $\left( y' = \frac{-6x}{(x+1)^4} \right)$
54.  $y = \frac{2x^2 - 3}{3x^2 - 2}$   $\left( y' = \frac{10x}{(3x^2 - 2)^2} \right)$
55.  $y = \frac{2x^2 + 1}{x^2 - 4}$   $\left( y' = \frac{-18x}{(x^2 - 4)^2} \right)$
56.  $y = 2(3x^2 - 2)^3$   $(y' = 324x^5 - 432x^3 + 144x)$
57.  $y = \frac{x+2}{\sqrt{x+1}}$   $\left( y' = \frac{x}{2(x+1)\sqrt{x+1}} \right)$
58.  $y = \frac{3}{x^3} - \frac{2}{x^2} + \frac{4}{x}$   $\left( y' = \frac{-4x^2 + 4x - 9}{x^4} \right)$
59.  $y = \frac{x^5}{5} - \frac{x^3}{3} + \frac{x^2}{2} - \frac{x}{5} + \sqrt{x}$
60.  $y = \sqrt[3]{(x^3 - 2)^3}$
61.  $y = \sqrt{\frac{2}{x}}$
62.  $y = 1 + \frac{x^3 - 3}{x^3 + 2}$
63.  $y = \left( \frac{x+1}{x-1} \right)^3$
64.  $y = \sqrt[4]{x^3} + \frac{1}{2x^2}$
65.  $y = \frac{\sqrt{x+1}}{x+2}$
66.  $y = \frac{x+2}{\sqrt{x+1}}$
67.  $y = (x^2 - 3)^3 (2x - 1)$
68.  $y = \frac{1}{2\sqrt{x}}$
69.  $y = \frac{x^2 + x + 1}{x^2 - x + 1}$
70.  $y = \sqrt[3]{x^2 + 1}$
71.  $y = \sqrt[3]{\frac{2}{x}}$   $\left( y' = -\frac{\sqrt[3]{4x^2}}{3x^2} \right)$

## 82 DERIVADAS (con SOLUCIONES)

■ Hallar las derivadas simplificadas de las siguientes funciones:

- |   |  |
|---|--|
| <p>1. <math>y = 5</math> <span style="float: right;"><math>(y'=0)</math></span></p>   | <p>20. <math>y = \frac{1}{x^3} + \frac{1}{x^2} + \frac{1}{x} + 1</math> <span style="float: right;"><math>\left(y' = -\frac{3}{x^4} - \frac{2}{x^3} - \frac{1}{x^2}\right)</math></span></p>     |
| <p>2. <math>y = 3/2</math> <span style="float: right;"><math>(y'=0)</math></span></p>   | <p>21. <math>y = \frac{1}{x^2 + 2x - 3}</math> <span style="float: right;"><math>\left(y' = -\frac{2x + 2}{(x^2 + 2x - 3)^2}\right)</math></span></p>  |
| <p>3. <math>y = 3x</math> <span style="float: right;"><math>(y'=3)</math></span></p>  | <p>22. <math>y = \frac{3}{x^3 - 2x^2 + 5}</math> <span style="float: right;"><math>\left(y' = -3 \frac{3x^2 - 4x}{(x^3 - 2x^2 + 5)^2}\right)</math></span></p>                                   |
| <p>4. <math>y = 2x - 3</math> <span style="float: right;"><math>(y'=2)</math></span></p>  | <p>23. <math>y = \frac{x^3 - 2x^2 + 5}{3}</math> <span style="float: right;"><math>\left(y' = \frac{3x^2 - 4x}{3}\right)</math></span></p>   |
| <p>5. <math>y = -x</math> <span style="float: right;"><math>(y'=-1)</math></span></p>   | <p>24. <math>y = \sqrt{x}</math> <span style="float: right;"><math>\left(y' = \frac{1}{2\sqrt{x}}\right)</math></span></p>   |
| <p>6. <math>y = \frac{x}{2} - 5</math> <span style="float: right;"><math>(y'=1/2)</math></span></p>   | <p>25. <math>y = \sqrt{6x}</math> <span style="float: right;"><math>\left(y' = \frac{3}{\sqrt{6x}}\right)</math></span></p>  |
| <p>7. <math>y = x^4</math> <span style="float: right;"><math>(y'=4x^3)</math></span></p>  | <p>26. <math>y = \sqrt{x^2 + x + 1}</math> <span style="float: right;"><math>\left(y' = \frac{2x + 1}{2\sqrt{x^2 + x + 1}}\right)</math></span></p>  |
| <p>8. <math>y = 2x^5</math> <span style="float: right;"><math>(y'=10x^4)</math></span></p>  | <p>27. <math>y = \sqrt[3]{x}</math> <span style="float: right;"><math>\left(y' = \frac{1}{3\sqrt[3]{x^2}}\right)</math></span></p>   |
| <p>9. <math>y = \frac{x^3}{2}</math> <span style="float: right;"><math>\left(y' = \frac{3x^2}{2}\right)</math></span></p>   | <p>28. <math>y = \sqrt[3]{x^2}</math> <span style="float: right;"><math>\left(y' = \frac{2}{3\sqrt[3]{x}}\right)</math></span></p>   |
| <p>10. <math>y = x^3 + x^2 + x + 1</math> <span style="float: right;"><math>(y'=3x^2 + 2x + 1)</math></span></p>  | <p>29. <math>y = 2\sqrt[3]{x^4} - 3\sqrt{x+1}</math> <span style="float: right;"><math>\left(y' = \frac{8}{3}\sqrt[3]{x} - \frac{3}{2\sqrt{x+1}}\right)</math></span></p>                        |
| <p>11. <math>y = 2x^4 - 3x^2 + 5x - 8</math> <span style="float: right;"><math>(y'=8x^3 - 6x + 5)</math></span></p>   | <p>30. <math>y = (x^2 + 1)^2</math> <span style="float: right;"><math>(y'=4x^3 + 4x)</math></span></p>   |
| <p>12. <math>y = \frac{x^5}{5} - \frac{x^3}{3} + \frac{x^2}{4} - \frac{x}{7} + 5</math> <span style="float: right;"><math>\left(y' = x^4 - x^2 - \frac{x}{2} - \frac{1}{7}\right)</math></span></p> | <p>31. <math>y = (x^2 + 1)^{100}</math> <span style="float: right;"><math>(y'=200x(x^2 + 1)^{99})</math></span></p>  |
| <p>13. <math>y = -x^4 + \frac{1}{7}</math> <span style="float: right;"><math>(y'=-4x^3)</math></span></p>   | <p>32. <math>y = (2x^3 - 3x + 5)^3</math> <span style="float: right;"><math>(y'=3(2x^3 - 3x + 5)^2(6x^2 - 3))</math></span></p>  |
| <p>14. <math>y = \frac{1}{x}</math> <span style="float: right;"><math>\left(y' = -\frac{1}{x^2}\right)</math></span></p>  | <p>33. <math>y = 5(\sqrt{x} + 1)^2</math> <span style="float: right;"><math>\left(y' = \frac{5(\sqrt{x} + 1)}{\sqrt{x}}\right)</math></span></p>   |
| <p>15. <math>y = \frac{3}{x}</math> <span style="float: right;"><math>\left(y' = -\frac{3}{x^2}\right)</math></span></p>  | <p>34. <math>y = \left(x^2 + \frac{1}{x}\right)^5</math> <span style="float: right;"><math>\left(y' = 5\left(x^2 + \frac{1}{x}\right)^4 \left(2x - \frac{1}{x^2}\right)\right)</math></span></p> |
| <p>16. <math>y = \frac{1}{3x}</math> <span style="float: right;"><math>\left(y' = -\frac{1}{3x^2}\right)</math></span></p>  | <p>35. <math>y = (2x^2 - 3)(x^2 - 3x + 1)</math> <span style="float: right;"><math>(y'=8x^3 - 18x^2 - 2x + 9)</math></span></p>  |
| <p>17. <math>y = \frac{1}{x^2}</math> <span style="float: right;"><math>\left(y' = -\frac{2}{x^3}\right)</math></span></p>  |  |
| <p>18. <math>y = \frac{3}{x^3}</math> <span style="float: right;"><math>\left(y' = -\frac{9}{x^4}\right)</math></span></p>  |  |
| <p>19. <math>y = \frac{1}{2x^4}</math> <span style="float: right;"><math>\left(y' = -\frac{2}{x^5}\right)</math></span></p>   |  |



36.  $y = (x^2+x+1)(x^2-x+1)$   $(y'=4x^3+2x)$
37.  $y = (x^2-3)(2x^2-5)^3$
38.  $y = (x^2+1)(x-3)(x^2+x)$   $(y'=5x^4-8x^3-6x^2-4x-3)$
39.  $y = x^2 \sqrt{x}$   $\left(y' = \frac{5}{2} x \sqrt{x}\right)$
40.  $y = \sqrt[4]{x^3} (2x-3)$   $\left(y' = \frac{14x-9}{4\sqrt[4]{x}}\right)$
41.  $y = \frac{2x-3}{2x+3}$   $\left(y' = \frac{12}{(2x+3)^2}\right)$
42.  $y = \frac{x^2-3}{2x+1}$   $\left(y' = \frac{2x^2+2x+6}{(2x+1)^2}\right)$
43.  $y = \frac{2x^2-1}{x^2+2}$   $\left(y' = \frac{10x}{(x^2+2)^2}\right)$
44.  $y = \frac{3}{x^2-1}$   $\left(y' = \frac{-6x}{(x^2-1)^2}\right)$
45.  $y = \frac{x}{\sqrt{x}}$   $\left(y' = \frac{1}{2\sqrt{x}}\right)$
46.  $y = \sqrt{\frac{1}{x}+1}$   $\left(y' = \frac{-1}{2x\sqrt{x^2+x}}\right)$
47.  $y = 3 \frac{x^2-4}{x^2+1}$   $\left(y' = \frac{30x}{(x^2+1)^2}\right)$
48.  $y = \frac{(3x^2-1)^3}{x^2+1}$   $\left(y' = \frac{108x^7+108x^5-108x^3+20x}{(x^2+1)^2}\right)$
49.  $y = \sqrt[4]{x^3}$   $\left(y' = \frac{3}{4\sqrt[4]{x}}\right)$
50.  $y = \frac{1}{\sqrt{x}}$   $\left(y' = -\frac{\sqrt{x}}{2x^2}\right)$
51.  $y = \frac{1}{\sqrt[3]{x}}$   $\left(y' = \frac{-1}{3\sqrt[3]{x^4}}\right)$
52.  $y = \frac{x}{\sqrt[3]{x}}$   $\left(y' = \frac{-2}{3\sqrt[3]{x}}\right)$
53.  $y = \frac{1}{x\sqrt{x}}$   $\left(y' = -\frac{3\sqrt{x}}{2x^3}\right)$
54.  $y = x^3 \sqrt{x}$   $\left(y' = \frac{7\sqrt{x^5}}{2}\right)$
55.  $y = \frac{1}{(x^2+x+1)^2}$   $\left(y' = -\frac{4x}{(x^2+x+1)^3}\right)$
56.  $y = \frac{x}{x^2+1}$   $\left(y' = -\frac{x^2+1}{(x^2+1)^2}\right)$
57.  $y = \frac{x^2-1}{x^2+1}$   $\left(y' = \frac{4x}{(x^2+1)^2}\right)$
58.  $y = \sqrt{\frac{x^2+1}{x+1}}$   $\left(y' = \frac{(x^2+2x-1)\sqrt{x+1}}{2(x+1)^2\sqrt{x^2+1}}\right)$
59.  $y = \sqrt{\frac{x+1}{x-1}}$   $\left(y' = -\frac{\sqrt{x-1}}{(x-1)^2\sqrt{x+1}}\right)$
60.  $y = \sqrt{x^5}$   $\left(y' = \frac{5\sqrt{x^3}}{2}\right)$
61.  $y = \frac{\sqrt{x+2}}{x^2}$   $\left(y' = -\frac{3x+8}{2x^3\sqrt{x+2}}\right)$
62.  $y = \frac{2x+3}{x^2+4x-1}$   $\left(y' = -\frac{2x^2+6x+14}{(x^2+4x-1)^2}\right)$
63.  $y = \frac{3x}{x^2-4}$   $\left(y' = -\frac{3x^2+12}{(x^2-4)^2}\right)$
64.  $y = \frac{x}{x-1}$   $\left(y' = -\frac{1}{(x-1)^2}\right)$
65.  $y = \sqrt{x^2-5}$   $\left(y' = \frac{x}{\sqrt{x^2-5}}\right)$
66.  $y = x^6-10x^4+8x-3$   $(y' = 6x^5-40x^3+8)$
67.  $y = \frac{x^3-x+1}{x-3}$   $\left(y' = \frac{2x^3-9x^2+2}{(x-3)^2}\right)$
68.  $y = \frac{x^2}{x^2-25}$   $\left(y' = -\frac{50x}{(x^2-25)^2}\right)$
69.  $y = 5x^4+x^3-x+6$   $(y' = 20x^3+3x^2-1)$

70. $y = \sqrt[3]{2x^7}$	$\left( y' = \frac{7 \sqrt[3]{2x^7}}{3x} \right)$	76. $y = 4x + \sqrt[5]{x}$	$\left( y' = 4 + \frac{1}{5 \sqrt[5]{x^4}} \right)$
71. $y = \frac{5}{x} + \sqrt{x^3}$	$\left( y' = \frac{-5}{x^2} + \frac{3}{2} \sqrt{x} \right)$	77. $y = 5x + \frac{2}{x}$	$\left( y' = 5 - \frac{2}{x^2} \right)$
72. $y = \frac{x^2 + x - 2}{x + 1}$	$\left( y' = \frac{x^2 + 2x + 3}{(x + 1)^2} \right)$	78. $y = 5x^9 (3x + 2)^3$	$(y' = 45x^8 (3x + 2)^2 (4x + 2))$
73. $y = x^4 - 10x^2 + 8$	$(y' = 4x^3 - 20x)$	79. $y = \frac{x\sqrt{x}}{x + 2}$	$\left( y' = \frac{\sqrt{x}(x + 6)}{2(x + 2)^2} \right)$
74. $y = \sqrt[6]{x}$	$\left( y' = \frac{1}{6 \sqrt[6]{x^5}} \right)$	80. $y = \frac{2x}{5x + 8}$	$\left( y' = \frac{16}{(5x + 8)^2} \right)$
75. $y = \frac{5}{x^2} + \sqrt{x}$	$\left( y' = \frac{-10}{x^3} + \frac{1}{2\sqrt{x}} \right)$	81. $y = (x^3 + 8x)^{10}$	$(y' = 10 (x^3 + 8x)^9 (3x^2 + 8))$
		82. $y = \frac{3x - 1}{x^5 - 4x}$	$\left( y' = \frac{-12x^5 + 5x^4 - 4}{(x^5 - 4x)^2} \right)$

83. Deducir la fórmula de la derivada de  $y = \sqrt[n]{x}$  e  $y = \sqrt[n]{u}$

84. Deducir las derivadas de  $y = \frac{u}{v \cdot w}$  e  $y = \frac{u \cdot v}{w}$