

1. Dados los polinomios $P(x) = 2x^5 - x^4 + x^2 + 2x - 1$, $Q(x) = -x^2 + 1$, $R(x) = -2x^2 + x - 2$ efectúa las siguientes operaciones. [1,5 puntos; 0,5 puntos por apartado]

a) $Q(x) \cdot R(x) - P(x)$

b) $[P(x) + Q(x)] \cdot R(x)$

c) $P(x) : Q(x)$ [Indica el cociente y el resto de la división]

www.yoquieroaprobar.es

2. Factorizar el siguiente polinomio utilizando la regla de Ruffini. Escribe sus raíces **[1,5 puntos]**

$$3x^4 + x^3 - 21x^2 - 25x - 6$$

3. Resuelve las siguientes ecuaciones (la primera es de primer grado, la segunda es bicuadrada y para simplificarla hay que aplicar las igualdades notables). **[2 puntos; 1 punto por apartado]**

a) $5 - \frac{2(x-3)}{5} = \frac{-2(x+2)}{4} + x$

b) $\frac{(x^2-2)^2}{4} - \frac{3x^2-4}{2} = \frac{(x+1)(x-1)}{3} - 4$

4. Resuelve el siguiente sistema de ecuaciones por el método que consideres más oportuno. **[1 punto]**

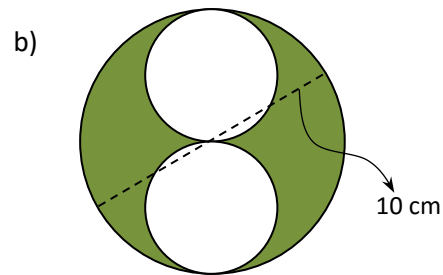
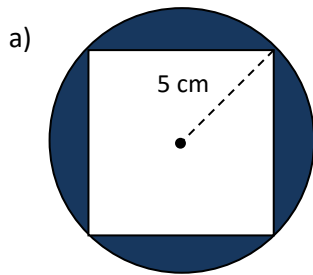
$$\left. \begin{array}{l} \frac{x+y}{4} - \frac{x-y}{2} = 1 \\ 3x - \frac{2y}{3} = 13 \end{array} \right\}$$

5. Resuelve la siguiente inecuación de primer grado. Expresa la solución en forma de intervalo **[1 punto]**

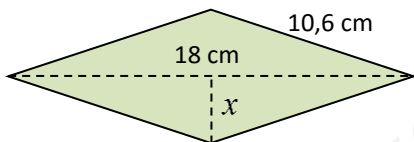
$$\frac{x-2}{5} - \frac{2(x+2)}{3} > -4 - \frac{x-1}{6}$$

6. Un comerciante compra melones a 40 céntimos el kilo y los vende a 60 céntimos el kilo. Halla cuántos melones compró si se le estropearon 10 kilos y obtuvo por la venta del resto un beneficio de 42 euros **[1 punto]**

7. Determina el área de la regiones sombreadas de cada de las figuras siguientes. [1 punto; 0,5 puntos por el área de cada región]



8. Halla la longitud x en el siguiente rombo. Para ello, utiliza adecuadamente el teorema de Pitágoras. Luego calcula su área. [1 punto]



1. Dados los polinomios $P(x) = 2x^5 - x^4 + x^2 + 2x - 1$, $Q(x) = -x^2 + 1$, $R(x) = -2x^2 + x - 2$ efectúa las siguientes operaciones. [1,5 puntos; 0,5 puntos por apartado]

$$\begin{aligned}
 \text{a) } Q(x) \cdot R(x) - P(x) &= (-x^2 + 1)(-2x^2 + x - 2) - (2x^5 - x^4 + x^2 + 2x - 1) = \\
 &= 2x^4 - x^3 + 2x^2 - 2x^2 + x - 2 - 2x^5 + x^4 - x^2 - 2x + 1 = \\
 &= \underline{\underline{-2x^5 + 3x^4 - x^3 - x^2 - x - 1}}
 \end{aligned}$$

$$\begin{aligned}
 \text{b) } [P(x) + Q(x)] \cdot R(x) &= \\
 &= [(2x^5 - x^4 + x^2 + 2x - 1) + (-x^2 + 1)] \cdot (-2x^2 + x - 2) = \\
 &= (2x^5 - x^4 + 2x) \cdot (-2x^2 + x - 2) = \\
 &= -4x^7 + 2x^6 - 4x^5 + 2x^6 - x^5 + 2x^4 - 4x^3 + 2x^2 - 4x = \\
 &= \underline{\underline{-4x^7 + 4x^6 - 5x^5 + 2x^4 - 4x^3 + 2x^2 - 4x}}
 \end{aligned}$$

c) $P(x) : Q(x)$ [Indica el cociente y el resto de la división]

$$\begin{array}{r}
 2x^5 - x^4 + \quad + x^2 + 2x - 1 \quad | \quad -x^2 + 1 \\
 \underline{-2x^5 \quad + 2x^3} \\
 -x^4 + 2x^3 + x^2 + 2x - 1 \\
 \underline{+x^4 \quad -x^2} \\
 2x^3 + 2x - 1 \\
 \underline{-2x^3 + 2x} \\
 4x - 1 \\
 \underline{\quad \quad \quad} \\
 \text{Resto}
 \end{array}$$

Cociente

2. Factorizar el siguiente polinomio utilizando la regla de Ruffini. Escribe sus raíces [1,5 puntos]

$$3x^4 + x^3 - 21x^2 - 25x - 6$$

	3	1	-21	-25	-6	
-1		-3	2	19	6	
	3	-2	-19	-6	0	
-2		-6	16	6		
	3	-8	-3	0		
3		9	3			
	3	1	0			

Raíces

$$\underline{\underline{x_1 = -1}}$$

$$\underline{\underline{x_2 = -2}}$$

$$\underline{\underline{x_3 = 3}}$$

$$\underline{\underline{x_4 = -\frac{1}{3}}}$$

Factorización

$$\underline{\underline{(x+1)(x+2)(x-3)(3x+1)}}$$

3. Resuelve las siguientes ecuaciones (la primera es de primer grado, la segunda de 2º grado y para simplificarla hay que aplicar las igualdades notables). [2 puntos; 1 punto por apartado]

$$a) 5 - \frac{2(x-3)}{5} = \frac{-2(x+2)}{4} + x ; 5 - \frac{2x-6}{5} = \frac{-2x-4}{4} + x ;$$

$$\frac{100}{20} - \frac{8x-24}{20} = \frac{-10x-20}{20} + \frac{20x}{20} ;$$

$$100 - 8x + 24 = -10x - 20 + 20x ;$$

$$-8x + 10x - 20x = -20 - 100 - 24 ; -18x = -144 ;$$

$$x = \frac{-144}{-18} ; \underline{\underline{x = 8}}$$

$$b) \frac{(x^2-2)^2}{4} - \frac{3x^2-4}{2} = \frac{(x+1)(x-1)}{3} - 4 ; \frac{x^4-4x^2+4}{4} - \frac{3x^2-4}{2} = \frac{x^2-1}{3} - 4 ;$$

$$\frac{3x^4-12x^2+12}{12} - \frac{18x^2-24}{12} = \frac{4x^2-4}{12} - \frac{48}{12} ;$$

$$3x^4 - 12x^2 + 12 - 18x^2 + 24 = 4x^2 - 4 - 48 ; \underline{\underline{3x^4 - 34x^2 + 88 = 0}}$$

$$x^2 = \frac{34 \pm \sqrt{(-34)^2 - 4 \cdot 3 \cdot 88}}{2 \cdot 3} = \frac{34 \pm \sqrt{1156 - 1056}}{6} = \frac{34 \pm \sqrt{100}}{6} =$$

$$= \frac{34 \pm 10}{6} = \begin{cases} 44/6 = 22/3 \Rightarrow \underline{\underline{x = \pm \sqrt{22/3}}} \\ 24/6 = 4 \Rightarrow \underline{\underline{x = \pm 2}} \end{cases}$$

4. Resuelve el siguiente sistema de ecuaciones por el método que consideres más oportuno. [1 punto]

$$\left. \begin{array}{l} \frac{x+y}{4} - \frac{x-y}{2} = 1 \\ 3x - \frac{2y}{3} = 13 \end{array} \right\}$$

$$\left. \begin{array}{l} \frac{x+y}{4} - \frac{2x-2y}{4} = \frac{4}{4} \\ \frac{9x}{3} - \frac{2y}{3} = \frac{39}{3} \end{array} \right\}; \quad \left. \begin{array}{l} x+y-2x+2y=4 \\ 9x-2y=39 \end{array} \right\};$$

$$\left. \begin{array}{l} -x+3y=4 \\ 9x-2y=39 \end{array} \right\} \cdot 9 \text{ (Reducción)} \quad \left. \begin{array}{l} -9x+27y=36 \\ 9x-2y=39 \end{array} \right\} +$$

$$\hline 25y = 75$$

Sustituyendo:

$$\begin{aligned} -x + 3 \cdot 3 &= 4; & -x + 9 &= 4; \\ -x &= -5; & \boxed{x = 5} \end{aligned}$$

$$\Rightarrow \boxed{y = 3}$$

5. Resuelve la siguiente inecuación de primer grado. Expresa la solución en forma de intervalo [1 punto]

$$\frac{x-2}{5} - \frac{2(x+2)}{3} > -4 - \frac{x-1}{6}$$

$$\frac{x-2}{5} - \frac{2x+4}{3} > -4 - \frac{x-1}{6}; \quad \frac{6x-12}{30} - \frac{20x+40}{30} > -\frac{120}{30} - \frac{5x-5}{30}$$

$$6x-12-20x-40 > -120-5x+5;$$

$$6x-20x+5x > -120+5+12+40;$$

$$-9x > -63; \quad x < \frac{-63}{-9}; \quad \underline{\underline{x < 7}}$$

Solución en forma de intervalo: $(-\infty, 7)$

6. Un comerciante compra melones a 40 céntimos el kilo y los vende a 60 céntimos el kilo. Halla cuántos melones compró si se le estropearon 10 kilos y obtuvo por la venta del resto un beneficio de 42 euros [1 punto]

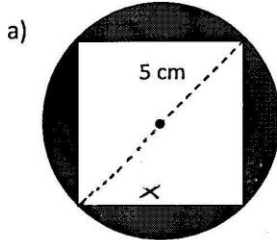
Compro x kg de melones. Como se le estropearon 10 kg vendió $x-10$ kg. Así pues:

$$60(x-10) - 40x = 4200; \quad 60x - 600 - 40x = 4200$$

$$20x = 4800; \quad \underline{\underline{x = 240}}$$

* Por tanto compró 240 kg de melones.

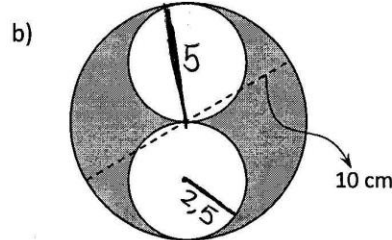
7. Determina el área de las regiones sombreadas de cada de las figuras siguientes. [1 punto; 0,5 puntos por el área de cada región]



$$10^2 = x^2 + x^2 \Rightarrow 100 = 2x^2 \Rightarrow x^2 = 50 \Rightarrow x = 7,07 \text{ cm}$$

Así pues:

$$\begin{aligned} \text{Área} &= A_{\text{círculo}} - A_{\text{cuadrado}} = \\ &= \pi \cdot 5^2 - 7,07^2 = \underline{\underline{28,54 \text{ cm}^2}} \end{aligned}$$



El área del círculo grande es:

$$A_{CG} = \pi \cdot 5^2 = 78,54 \text{ cm}^2$$

El área del círculo pequeño es:

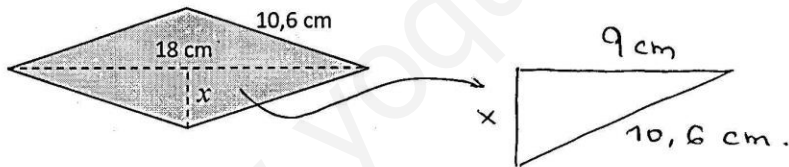
$$A_{CP} = \pi \cdot 2,5^2 = 19,63 \text{ cm}^2$$

El área de la parte sombreada es:

$$A = A_{CG} - 2A_{CP} = 78,54 - 19,63 \Rightarrow$$

$$\Rightarrow \underline{\underline{A = 39,28 \text{ cm}^2}}$$

8. Halla la longitud x en el siguiente rombo. Para ello, utiliza adecuadamente el teorema de Pitágoras. Luego calcula su área. [1 punto]



Por teorema de Pitágoras $10,6^2 = x^2 + 9^2 \Rightarrow$

$$\Rightarrow x^2 = 112,36 - 81; x^2 = 31,36; \underline{\underline{x = 5,6 \text{ cm}}}$$

La diagonal mayor mide $D = 18 \text{ cm}$ y la diagonal menor $d = 2 \cdot 5,6 = 11,2 \text{ cm}$.

Entonces el área es:

$$A = \frac{D \cdot d}{2} = \frac{18 \cdot 11,2}{2} \Rightarrow \underline{\underline{A = 100,8 \text{ cm}^2}}$$