

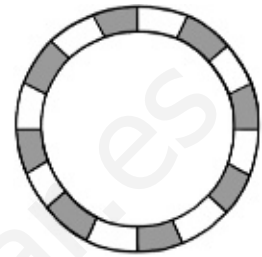
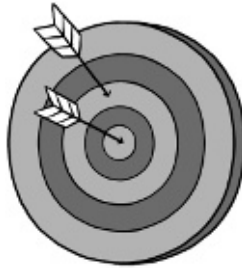
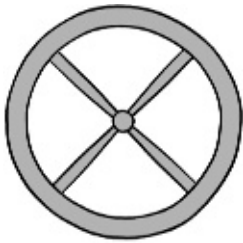
# UNIDAD 11

## Matemáticas

Nombre y apellidos: .....

Curso: ..... Fecha: .....

● Escribe *circunferencia* o *círculo* según corresponda.



\_\_\_\_\_

\_\_\_\_\_

\_\_\_\_\_

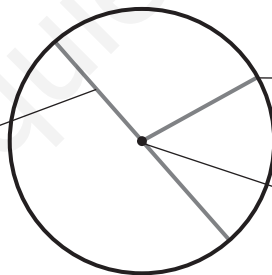
● Observa y completa con las siguientes palabras.

centro

radio

diámetro

\_\_\_\_\_



\_\_\_\_\_

\_\_\_\_\_

● Colorea según la clave.

rojo

circunferencia

verde

círculo

