

El metro

 Aprende.



El metro (m) es la unidad principal de medida de longitud.



 Mide y escribe.

La clase mide m de ancho y de alto.

La pizarra mide m de ancho y de alto.




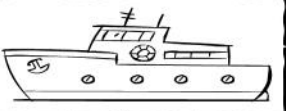
La mesa mide m de ancho y de alto.

El armario mide m de ancho y de alto.

La puerta mide m de ancho y de alto.

La silla mide m de ancho y de alto.

¿Cuánto crees que mide?

				
MÁS DE UN METRO				
MENOS DE UN METRO				

Problema.

Victoria tiene una cuerda de 33 metros. Claudia tiene una cuerda que mide 12 metros más que la de Victoria. ¿Cuánto mide la cuerda de Claudia?

DATOS	OPERACIÓN
<div style="border: 1px solid red; height: 150px;"></div>	<div style="border: 1px solid blue; width: 100px; height: 100px; display: grid; grid-template-columns: repeat(4, 1fr); grid-template-rows: repeat(4, 1fr);"></div>

La cuerda de Claudia mide metros.


¿Cuánto miden las dos cuerdas juntas?

DATOS	OPERACIÓN
<div style="border: 1px solid red; height: 150px;"></div>	<div style="border: 1px solid blue; width: 100px; height: 100px; display: grid; grid-template-columns: repeat(4, 1fr); grid-template-rows: repeat(4, 1fr);"></div>

Las dos cuerdas juntas miden metros.

El kilo

Aprende.



La serpiente pesa 3 kilos.





La serpiente pesa 5 kilos.


Comparamos pesos con la balanza.


El peso de las cosas lo expresamos en kilos (kg).

Colorea y escribe los nombres de los animales que pesan más en cada caso.








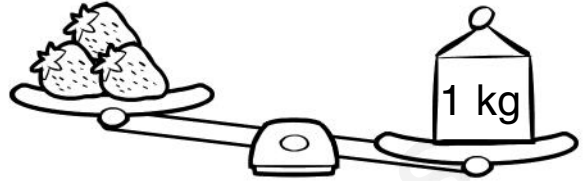


Observa las balanzas y completa con **más** o **menos**.



Las manzanas pesan


de un
kilo.



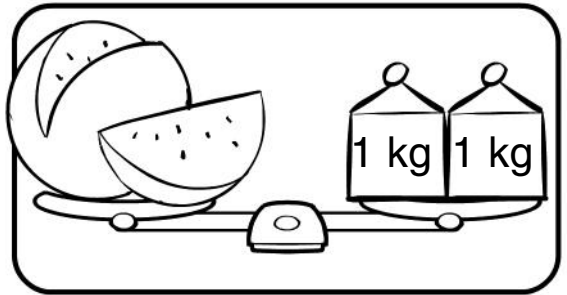
Las fresas pesan

de un
kilo.


Completa y dibuja.



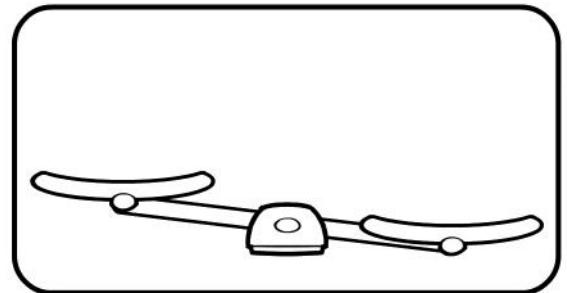
Los limones pesan kilo.



La sandía pesa kilos.



Las patatas pesan 3 kilos.



Las uvas pesan más de 1 kilo.

El litro

Aprende.



El litro (l) es la unidad que utilizamos para medir líquidos.

Colorea las botellas que necesitas para llenar el bidón.



Escribe los nombres de dos recipientes en los que quepa menos de 1 litro y de otros dos en los que quepa más de 1 litro.

menos de 1 litro

Two horizontal lines for writing.





Two horizontal lines for writing.

más de 1 litro

Two horizontal lines for writing.

Two horizontal lines for writing.

Señala.

				
CABE MÁS DE 1 LITRO				
CABE MENOS DE 1 LITRO				

Problema.

Un ganadero ordeñó a sus vacas y obtuvo 25 litros de leche por la mañana y 30 litros por la tarde. ¿Cuántos litros recogió en total?

DATOS	OPERACIÓN

El ganadero recogió litros de leche.

Ordena de mayor a menor los nombres de los dibujos, teniendo en cuenta la cantidad de líquido que cabe en cada uno.

