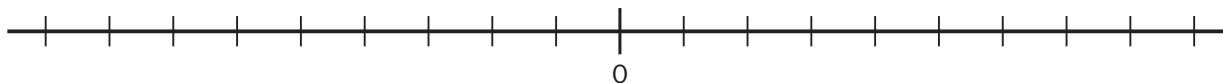


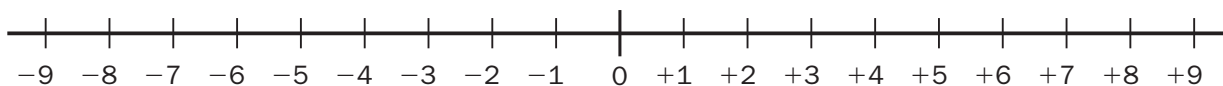
Nombre _____ Fecha _____

1. Representa en la recta numérica los números comprendidos entre -5 y $+6$.

-5 y $+6$

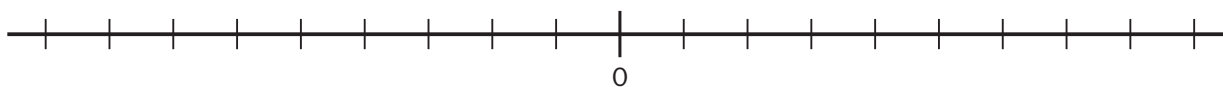


2. Rodea en la recta los números $+3$, -4 , $+7$, -9 , -2 y $+8$.



3. Representa en la recta los siguientes números enteros y ordénalos.

• -8 • $+9$ • $+6$ • -3 • -1 • -9 • $+4$ • -5



_____ > _____ > _____ > _____ > _____ > _____ > _____ > _____

4. Completa con los signos $>$ o $<$.

• $+4$ $+10$ • -2 $+1$ • $+5$ -6 • -8 -11
 • -7 -18 • $+10$ -10 • -14 -2 • -4 -2

5. Escribe.

Un número entero
mayor que -5
y menor que $+5$

Un número entero
menor que $+2$
y mayor que -1

Un número entero
mayor que -3
que no sea positivo.