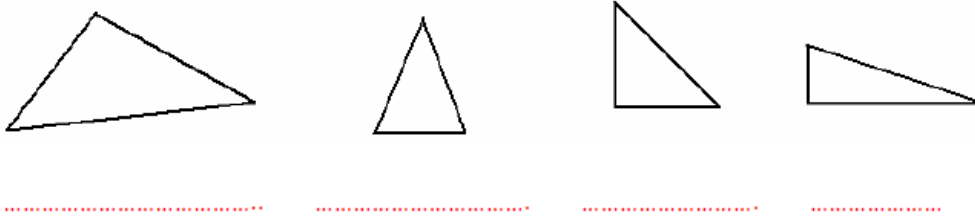


ACTIVIDADES DE GEOMETRÍA 3º PRIMARIA

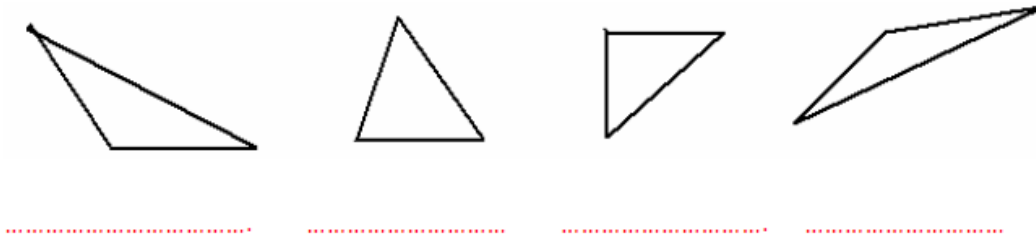
TRIÁNGULOS

Actividades

1. Clasifica los siguientes triángulos midiendo sus lados:



2. Clasifica los siguientes triángulos según sus ángulos:



3. Dibuja los siguientes triángulos:

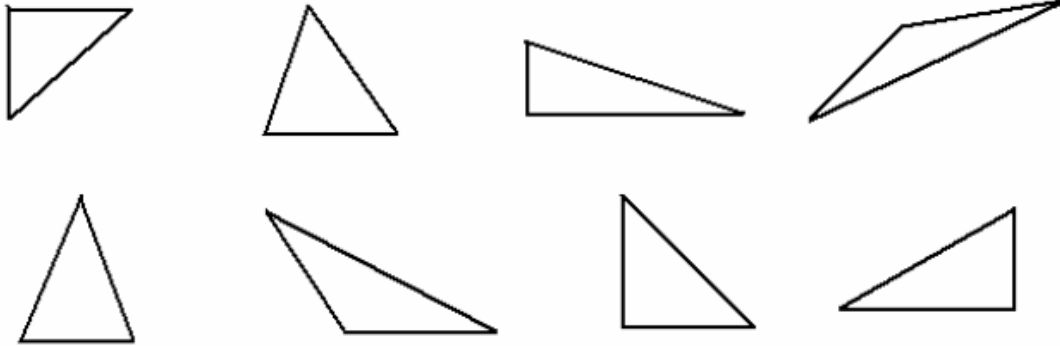
Triángulo isósceles

Triángulo escaleno

Triángulo obtusángulo

Triángulo acutángulo

4. Colorea de rojo los triángulos rectángulos.



CUADRILÁTEROS

Actividades

1. Dibuja un cuadrilátero que tenga los cuatro ángulos iguales.
2. Dibuja un cuadrilátero que tenga dos parejas de lados iguales.
3. Dibuja dos cuadriláteros que sean paralelogramos y dos que no lo sean.

4. Indica cuáles de las siguientes figuras son paralelogramos:



.....

5. Escribe verdadero o falso:

Todos los paralelogramos son cuadriláteros

Un paralelogramo tiene dos parejas de lados iguales.....

Todos los cuadriláteros son paralelogramos

Los paralelogramos tienen todos sus lados iguales

6. Dibuja un paralelogramo con los cuatro lados y cuatro ángulos iguales.

¿Qué figura obtienes?

PARALELOGRAMOS

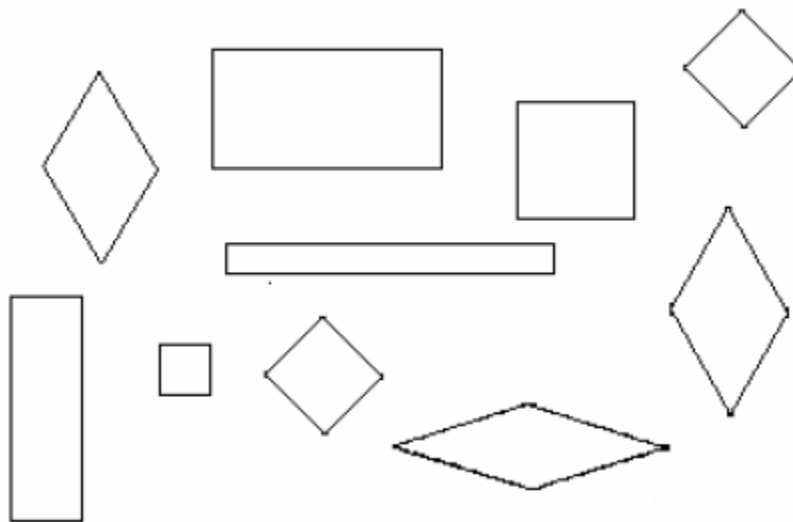
Actividades

1. Dibuja un cuadrado y después un rectángulo que tenga el lado menor igual al del cuadrado y el mayor el doble del lado del cuadrado.

2. Dibuja un cuadrado, después une los puntos medios de sus lados.

¿ Qué figura obtienes?

3. Colorea de rojo los cuadrados y los rectángulos y de color verde los rombos y romboides.



CIRCUNFERENCIA Y CÍRCULO

Actividades

1. Dibuja tres circunferencias de distinto tamaño utilizando varios objetos como un vaso, una copita,...

2. Nombra cinco objetos con forma de circunferencia.

.....
.....
.....
.....
.....

3. Dibuja dos circunferencias y coloréalas de azul. Después colorea de color amarillo los círculos que se obtienen.

EL RADIO Y EL DIÁMETRO

Actividades

1. El radio de una circunferencia mide 8 cm. ¿Cuánto mide el diámetro?

El diámetro mide cm

2. Dibuja una circunferencia y sobre ella traza dos radios y dos diámetros.

3. Dibuja cuatro circunferencias con el mismo centro y que sus radios midan 3 cm, 4 cm, 5 cm y 6 cm, respectivamente.

4. Escribe verdadero o falso:

Todos los puntos del círculo están a la misma distancia del centro

Todos los puntos de la circunferencia están a la misma distancia del centro

El círculo es la línea que rodea a la circunferencia

La circunferencia es la línea que rodea al círculo

El radio es el doble del diámetro

El diámetro es la mitad del radio