

NOMBRE: \_\_\_\_\_

FECHA: . . .

ELRELOJ1.

# EL RELOJ

 ¿Cómo se llaman estos tipos de relojes? Escribe el nombre de cada uno.



El reloj de agujas se dice que es .....






El reloj de números se dice que es .....

¿Cuál te gusta más?



¿Por qué?

¿Qué hora marca en el reloj que te gusta?

 Cuenta de 5 en 5 hasta llegar a 60.

 10 ..... 

Hazlo ahora al revés.

 55 ..... 

 Escribe dentro de las flechas  las siguientes palabras:

Y MEDIA

MENOS CUARTO

Y CINCO

MENOS VEINTE

MENOS CINCO

Y VEINTICINCO

EN PUNTO

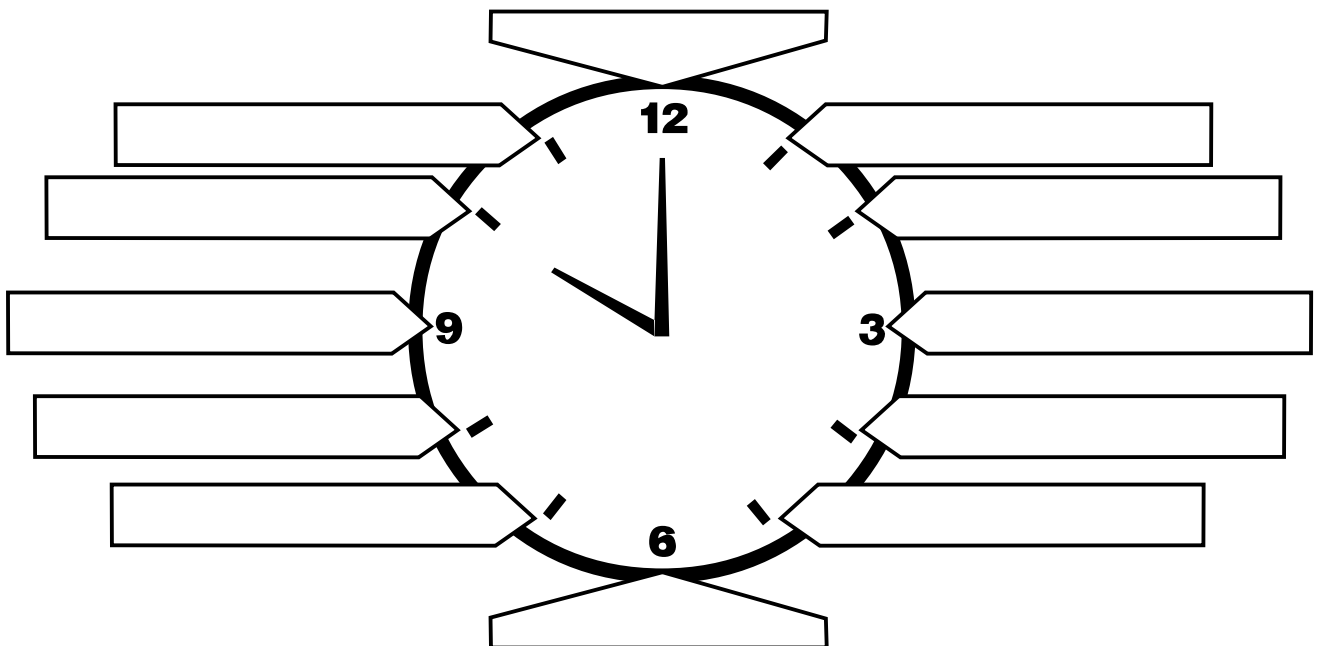
Y CUARTO

MENOS DIEZ

Y VEINTE

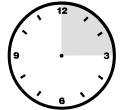
MENOS VEINTICINCO

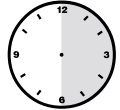
Y DIEZ




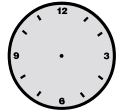
# LAS HORAS Y LOS MINUTOS


 Completa:

 Un cuarto de hora = ..... minutos.

 Media hora = ..... minutos.

 Tres cuartos de hora = ..... minutos.

 Una hora = ..... minutos.

 Escribe dos hechos que duren más de un minuto y dos hechos que duren menos de un minuto.







**MÁS DE UN MINUTO**

1 \_\_\_\_\_ 2 \_\_\_\_\_

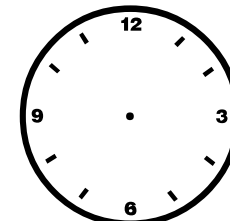
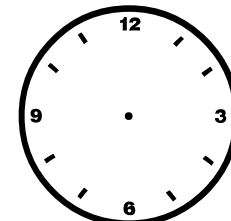
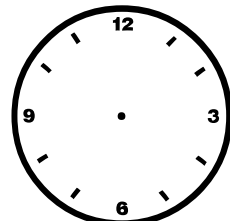
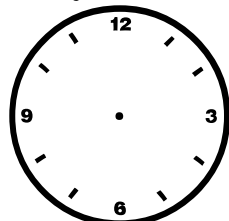
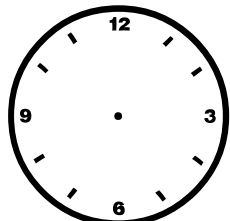
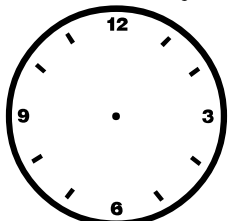
**MENOS DE UN MINUTO**

1 \_\_\_\_\_ 2 \_\_\_\_\_

 Escribe la hora que marcan los siguientes relojes:



 Dibuja las manecillas en cada reloj:



Las 4 y cuarto

Las 12 y media

Las 9 en punto

Las 8 y media

Las 7 menos cuarto

Las 10 y cuarto

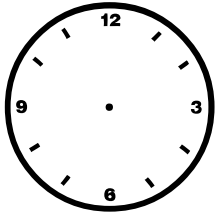






NOMBRE:

FECHA:

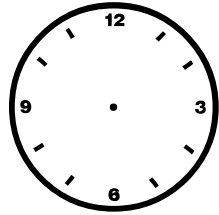
ELRELOJ3.

# ¿ CUÁNTOS RELOJES ?

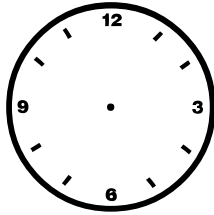
 Escribe con palabras la hora debajo de cada reloj o dibuja las manecillas según convenga :




La 1 en punto




Las 2 menos cuarto



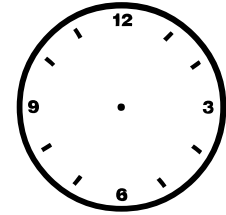
Las 10 menos 5



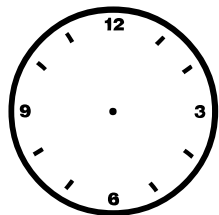






Las 5 y 10



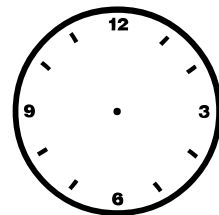
Las 12 menos 20



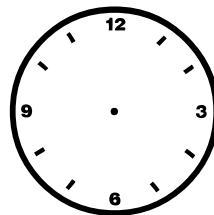
Las 8 y 20




Las 2 y media



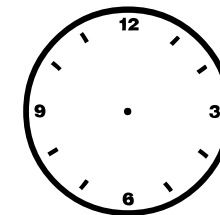
Las 12 y cuarto




Las 7 menos 10



Las 3 y 25



Las 9 menos 25



Las 11 y 5


NOMBRE: \_\_\_\_\_

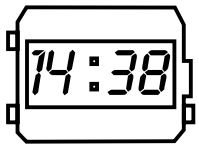

FECHA: . . .


ELRELOJ4.


# EL RELOJ DIGITAL

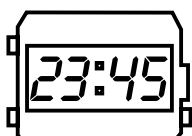
 Completa la tabla :

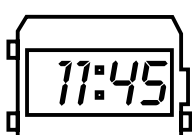
 Observa los siguientes relojes digitales e indica si es por la mañana, por la tarde o por la noche.


<p>RELOJ</p>  <p>DIGITAL</p>	<p>RELOJ</p>  <p>ANALÓGICO</p>
Las 13:00 horas	La una de la tarde.
Las 14:00 horas	.....
Las 15:00 horas	.....
Las 16:00 horas	.....
Las ..... horas	Las 5 de la tarde.
Las 18:00 horas	.....
Las ..... horas	Las 7 de la tarde.
Las 20:00 horas	.....
Las ..... horas	Las 9 de la noche.
Las 22:00 horas	.....
Las ..... horas	Las 11 de la noche.

 .....

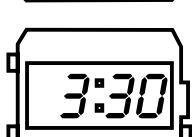
 .....

 .....

 .....

 .....

 .....

 .....

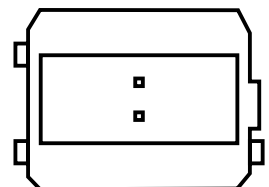
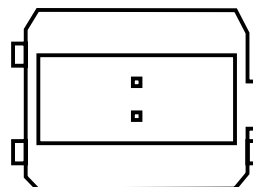
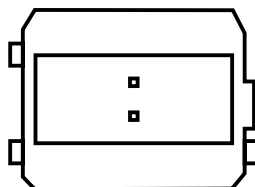
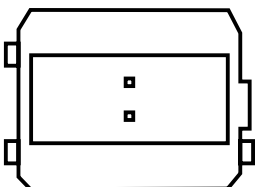
 Escribe en el reloj digital la hora aproximada que es ...

CUANDO TE DESPIERTAS

CUANDO ESTÁS EN EL RECREO

CUANDO MERIENDAS

CUANDO TE ACUESTAS






















NOMBRE: \_\_\_\_\_


FECHA: . . .

ELRELOJ5.

# MÁS RELOJES

 Indica cuánto tiempo ha pasado desde la hora de un reloj hasta la del otro:

			Dos horas y media.				-----
			-----				-----
			-----				-----

 ¿Sabes cuántas horas estás en el colegio cada día? ¡Calcúlalas!


Por la mañana --> ..... horas.

Por la tarde --> ..... horas.

} TOTAL : ..... horas.

Sabiendo eso, calcula cuántas horas estás en el colegio en una semana.

**L M M J V**

 Une con flechas los relojes de arriba que tengan la misma hora que los de abajo.

