

NOMBRE: _____

FECHA: . . .

EL DÍA..



EL DÍA



Completa:



Cuando la da una vuelta sobre sí misma como si fuera un es que ha pasado un

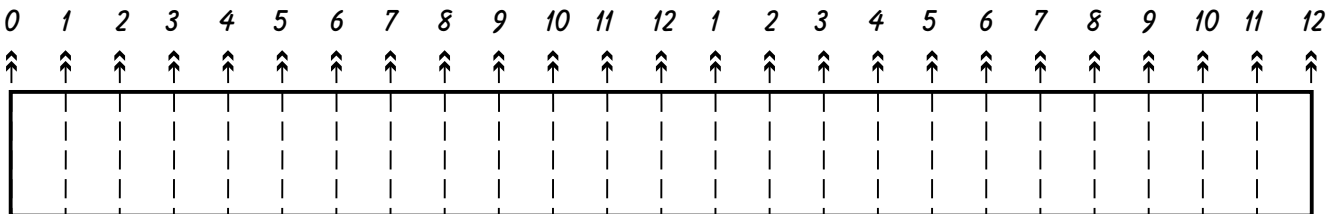
Escribe dos hechos que duren menos de un día y otros dos que duren más de un día.

MENOS DE UN DÍA:

MÁS DE UN DÍA:




Colorea de negro las horas del día en las que estás durmiendo y de azul las que estás despierto.




MADRUGADA

MAÑANA



TARDE




NOCHE



Ahora contesta :

Si duermo nueve horas cada día, ¿cuántas horas estoy despierto?



Si ayer estuve durmiendo diez horas, y luego en el colegio estuve trabajando ocho horas, ¿cuántas horas de tiempo libre tuve ayer?




NOMBRE: _____

FECHA: . . .

CALENDARI.

EL CALENDARIO

 Observa el calendario del año 1.996 y contesta :

1996

L M M J V S D	L M M J V S D	L M M J V S D
ENERO	FEBRERO	MARZO
1 2 3 4 5 6 7 8 9 10 11 12 13 14 15 16 17 18 19 20 21 22 23 24 25 26 27 28 29 30 31	1 2 3 4 5 6 7 8 9 10 11 12 13 14 15 16 17 18 19 20 21 22 23 24 25 26 27 28	1 2 3 4 5 6 7 8 9 10 11 12 13 14 15 16 17 18 19 20 21 22 23 24 25 26 27 28 29 30 31
ABRIL	MAYO	JUNIO
1 2 3 4 5 6 7 8 9 10 11 12 13 14 15 16 17 18 19 20 21 22 23 24 25 26 27 28 29	1 2 3 4 5 6 7 8 9 10 11 12 13 14 15 16 17 18 19 20 21 22 23 24 25 26 27 28 29 30 31	1 2 3 4 5 6 7 8 9 10 11 12 13 14 15 16 17 18 19 20 21 22 23 24 25 26 27 28 29 30
JULIO	AGOSTO	SEPTIEMBRE
1 2 3 4 5 6 7 8 9 10 11 12 13 14 15 16 17 18 19 20 21 22 23 24 25 26 27 28 29	1 2 3 4 5 6 7 8 9 10 11 12 13 14 15 16 17 18 19 20 21 22 23 24 25 26 27 28 29 30 31	1 2 3 4 5 6 7 8 9 10 11 12 13 14 15 16 17 18 19 20 21 22 23 24 25 26 27 28 29 30
OCTUBRE	NOVIEMBRE	DICIEMBRE
1 2 3 4 5 6 7 8 9 10 11 12 13 14 15 16 17 18 19 20 21 22 23 24 25 26 27 28 29 30 31	1 2 3 4 5 6 7 8 9 10 11 12 13 14 15 16 17 18 19 20 21 22 23 24 25 26 27 28 29 30	1 2 3 4 5 6 7 8 9 10 11 12 13 14 15 16 17 18 19 20 21 22 23 24 25 26 27 28 29 30

¿ Cuántos días tiene una semana ?

¿ Cuántas semanas tiene un mes ?

¿ Cuántos meses tiene un año ?

El primer martes de enero es día

El segundo jueves de febrero es día

El cuarto jueves de abril es día

El nueve de junio es

El doce de agosto es

El veintisiete de octubre es

¿ Cuántos días hay desde el primer lunes de marzo hasta el 25 de marzo ?

¿ Cuántos días hay desde el 20 de noviembre hasta el primer domingo de diciembre ?

 Rodea en cada caso el tiempo que te parezca más adecuado :

UN PARTIDO DE FÚTBOL



2 horas

5 horas

DESAYUNAR



2 minutos

10 minutos


CONSTRUIR UNA CASA



3 meses

20 meses

LA CLASE DE INGLÉS



50 minutos

25 minutos

NOMBRE:

FECHA:

CALENDA2.


EL CALENDARIO //

 Contesta :

¿ En qué mes empieza el curso escolar ?

¿ En qué mes termina el curso ?

¿ Cuántos meses dura entonces el curso ?


 Rodea la cantidad de tiempo mayor de cada pareja.

2 HORAS
132 MINUTOS

2 DÍAS
45 HORAS

3 SEMANAS
19 DÍAS

1996


 Vamos a calcular cuántos días han pasado ya de este año :

Enero → días
 Febrero → días
 Marzo → días
 Abril → días
 Mayo → días
 Junio → días
 + _____

L M M J V S D	L M M J V S D	L M M J V S D
ENERO 1 2 3 4 5 6 7 8 9 10 11 12 13 14 15 16 17 18 19 20 21 22 23 24 25 26 27 28 29 30 31	FEBRERO 1 2 3 4 5 6 7 8 9 10 11 12 13 14 15 16 17 18 19 20 21 22 23 24 25 26 27 28	MARZO 1 2 3 4 5 6 7 8 9 10 11 12 13 14 15 16 17 18 19 20 21 22 23 24 25 26 27 28 29 30 31
ABRIL	MAYO	JUNIO
1 2 3 4 5 6 7 8 9 10 11 12 13 14 15 16 17 18 19 20 21 22 23 24 25 26 27 28 29	1 2 3 4 5 6 7 8 9 10 11 12 13 14 15 16 17 18 19 20 21 22 23 24 25 26 27 28 29 30 31	1 2 3 4 5 6 7 8 9 10 11 12 13 14 15 16 17 18 19 20 21 22 23 24 25 26 27 28 29 30
JULIO	AGOSTO	SEPTIEMBRE
1 2 3 4 5 6 7 8 9 10 11 12 13 14 15 16 17 18 19 20 21 22 23 24 25 26 27 28 29 30 31	1 2 3 4 5 6 7 8 9 10 11 12 13 14 15 16 17 18 19 20 21 22 23 24 25 26 27 28 29 30 31	1 2 3 4 5 6 7 8 9 10 11 12 13 14 15 16 17 18 19 20 21 22 23 24 25 26 27 28 29 30
OCTUBRE	NOVIEMBRE	DICIEMBRE
1 2 3 4 5 6 7 8 9 10 11 12 13 14 15 16 17 18 19 20 21 22 23 24 25 26 27 28 29 30 31	1 2 3 4 5 6 7 8 9 10 11 12 13 14 15 16 17 18 19 20 21 22 23 24 25 26 27 28 29 30	1 2 3 4 5 6 7 8 9 10 11 12 13 14 15 16 17 18 19 20 21 22 23 24 25 26 27 28 29 30

2 MESES
70 DÍAS

2 AÑOS
26 MESES

 Si sabes cuántos años tienes, puedes calcular también cuántos meses tienes. Hazlo.

 Yo nací hace 30 años. ¿ En qué año nací ?

1.9 _____

 Observa el calendario y contesta :

¿ Cuántos domingos hay en el año 1.996 ?

¿ Cuántos meses empiezan en lunes ?

¿ Cuáles son los meses que terminan en viernes ?

.....