

nombre \_\_\_\_\_

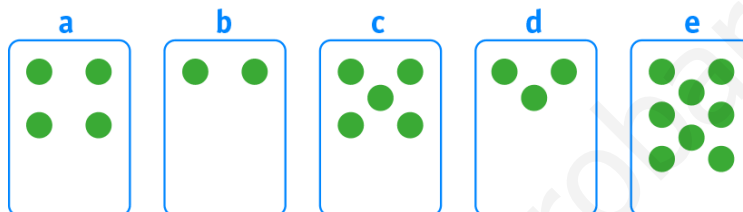
curso \_\_\_\_\_

fecha \_\_\_\_\_


**PAUTA ACTIVIDADES: COMPARAR Y ORDENAR NÚMEROS DEL 0 AL 20**

1. Realice las siguientes actividades:

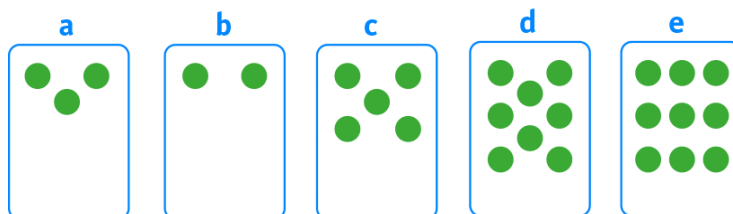
a) Ordene de menor a mayor las cantidades que están registradas en las cinco tarjetas siguientes:



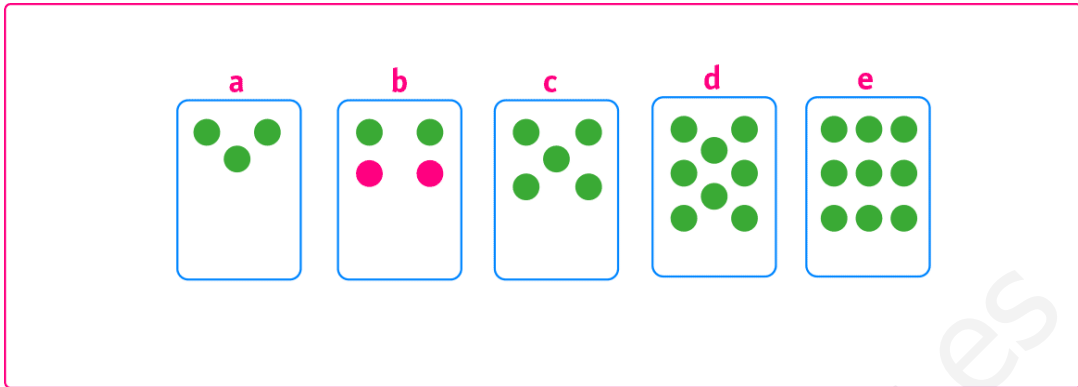
Represente con cubos apilables las cantidades anteriores de menor a mayor:



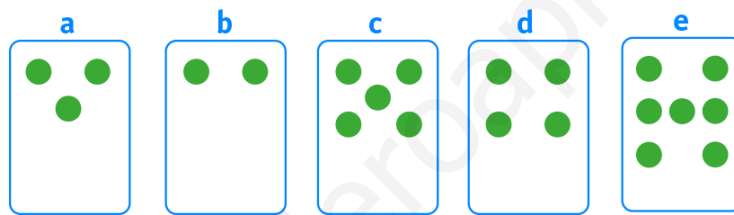
b) ¿Cuántos círculos debe dibujar en la tarjeta **a** y en la tarjeta **b** para que todas queden ordenadas de menor a mayor?



Dibuje:



- c) Si a la tarjeta a se le agregan 2 círculos y a la tarjeta e se le agregan 2 círculos ¿Cuántos círculos se le debe dibujar a las otras tarjetas para que queden ordenadas de menor a mayor?



Dibuje:

