



**ACTIVIDADES
IMPRIMIBLES DE
AMPLIACIÓN
PARA 1º DE
PRIMARIA**

de la Editorial
ANAYA



PRIMER TRIMESTRE
Unidad 1. Lengua

AA

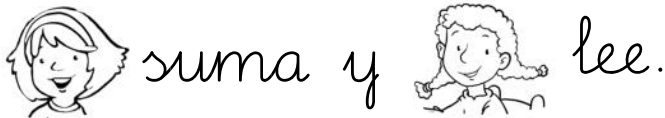
Nombre y apellidos:

Curso: Fecha:

☞ Sustituye los dibujos por palabras y escribe frases.



.....




.....



.....

☞ Colorea y subraya la frase anterior que corresponda al dibujo.




PRIMER TRIMESTRE
Unidad 1. Matemáticas

AA

Nombre y apellidos:

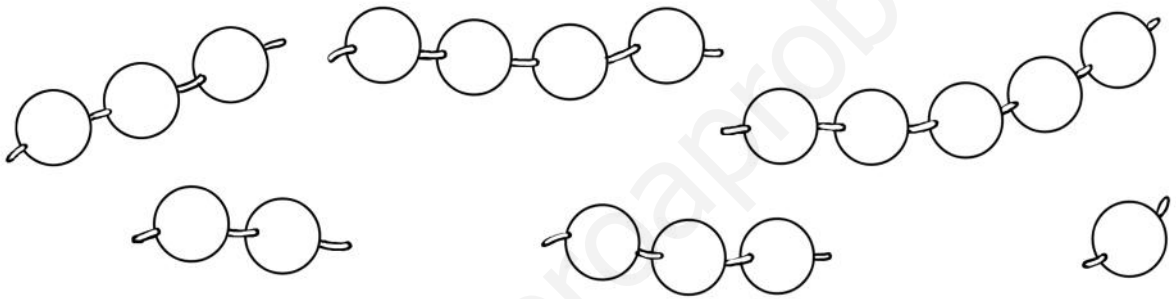
Curso: Fecha:

 Colorea así:

Más de  → verde

Menos de  → rojo


Tantas como  → amarillo



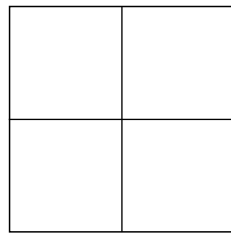
 Colorea tantos cuadrados como indica el número.




1



2

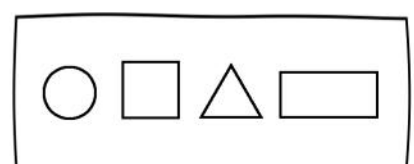
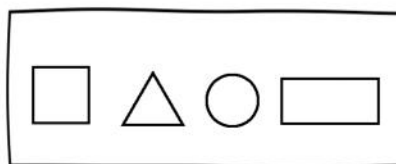
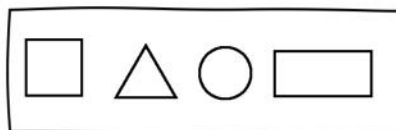


3



4

 Colorea el dibujo que sea igual al modelo.



PRIMER TRIMESTRE

Unidad 1. Conocimiento del Medio

AA

Nombre y apellidos:

Curso: Fecha:

 Tacha lo que no se debe hacer y colorea lo que sí.



Nombre y apellidos:

Curso: Fecha:

Lee, rodea y escribe el nombre de cada animal.

El oso Donoso monta en moto.

La osa Antonia patina en delantal.

El osito Alonsito lee una poesía.

La osita Luisita se pone unos pendientes.




.....
.....
.....



.....
.....
.....



.....
.....
.....



.....
.....
.....

PRIMER TRIMESTRE

Unidad 2. Matemáticas

AA

Nombre y apellidos:

Curso: Fecha:




Colorea así:




verde



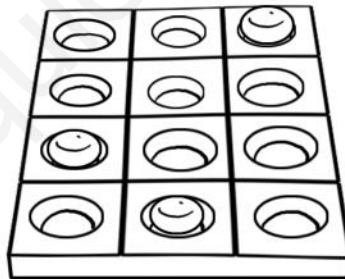
rojo



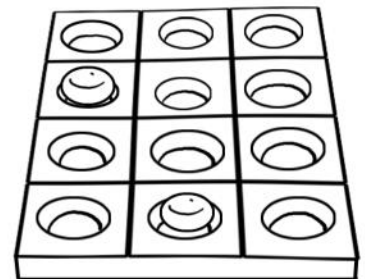
Dibuja y completa.



$$\boxed{3} + \boxed{} = \boxed{6}$$



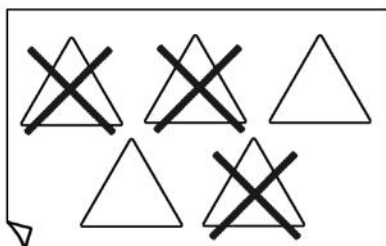
$$\boxed{} + \boxed{} = \boxed{5}$$



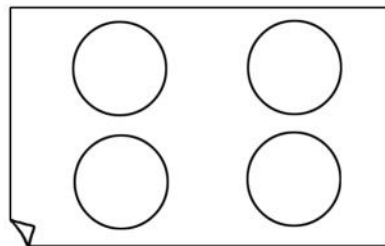
$$\boxed{} + \boxed{} = \boxed{4}$$



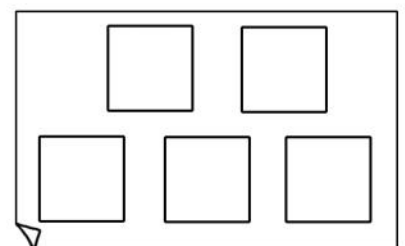
Completa.



$$\boxed{5} - \boxed{} = \boxed{2}$$



$$\boxed{} - \boxed{} = \boxed{0}$$



$$\boxed{} - \boxed{1} = \boxed{}$$


PRIMER TRIMESTRE
Unidad 2. Conocimiento del Medio

AA


Nombre y apellidos:

Curso: Fecha:

Colorea de azul los frutos que tienen sabor dulce y de naranja los que tienen sabor ácido.



Ordena esta secuencia de menor a mayor edad:



PRIMER TRIMESTRE
Unidad 3. Lengua

AA

Nombre y apellidos:

Curso: Fecha:

Lee y tacha las frases que no correspondan.

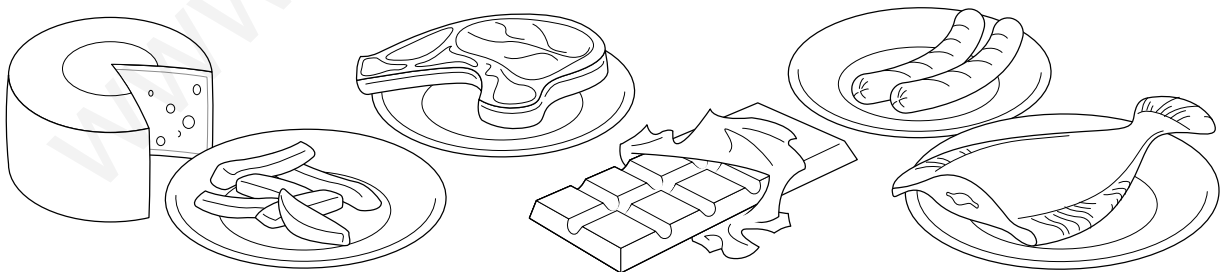


Chelo come patatas.

Felipe toma canelones.

Quique no come nada.

Completa con los nombres de los dos alimentos que más te gusten.



Me encantan

.....
.....

y

.....
.....


PRIMER TRIMESTRE
Unidad 3. Matemáticas

AA

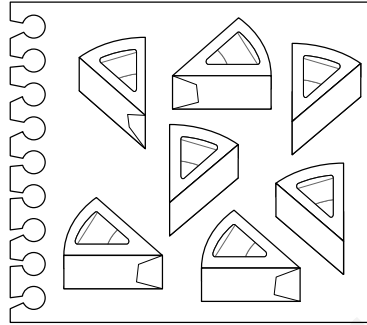
Nombre y apellidos:

Curso: Fecha:

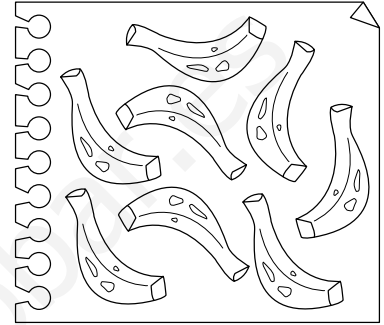
 Cuenta y rodea el número que corresponda.




6 - 8 - 9 - 7



8 - 7 - 6 - 9



7 - 8 - 9 - 6

 Suma y resta.

$6 + 2 = \square$

$5 + 1 = \square$

$7 + 1 = \square$

$5 + 4 = \square$

$8 + 1 = \square$

$8 - 4 = \square$

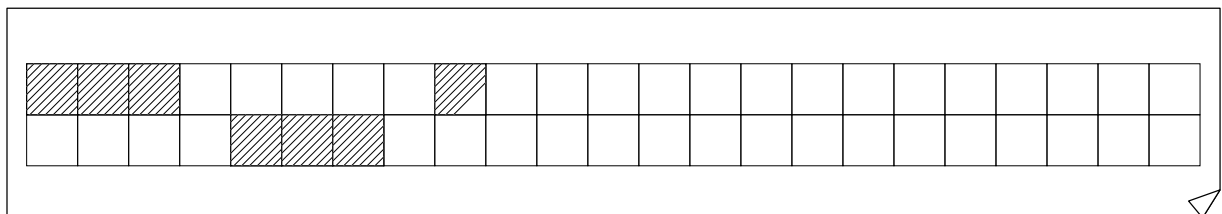
$9 - 5 = \square$

$9 - 4 = \square$

$7 - 1 = \square$

$8 - 3 = \square$

 Completa.



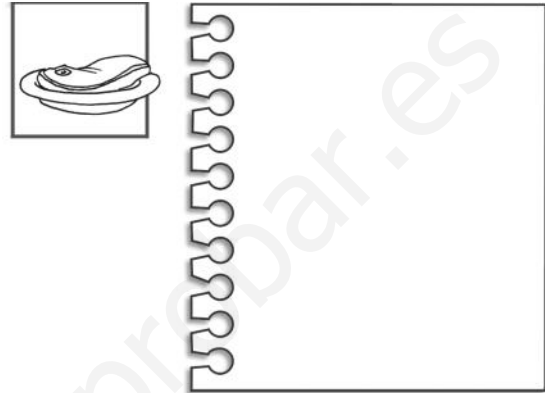
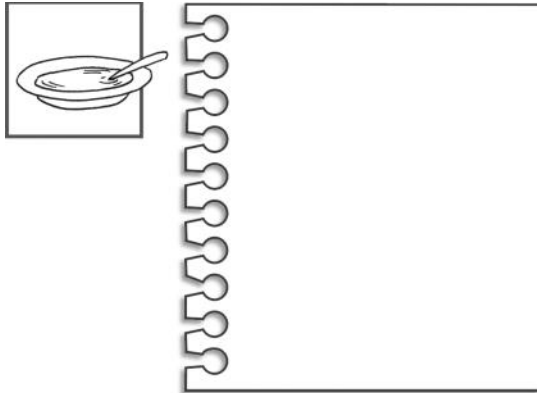
PRIMER TRIMESTRE
Unidad 3. Conocimiento del Medio

AA

Nombre y apellidos:

Curso: Fecha:



 Dibuja los cubiertos que utilizas.



 Escribe estos nombres donde corresponda:

pimiento - tomate - queso

leche - lomo - patatas



.....
.....
.....

.....
.....
.....

.....
.....
.....

.....
.....
.....

.....
.....
.....

.....
.....
.....

Nombre y apellidos:

Curso: Fecha:

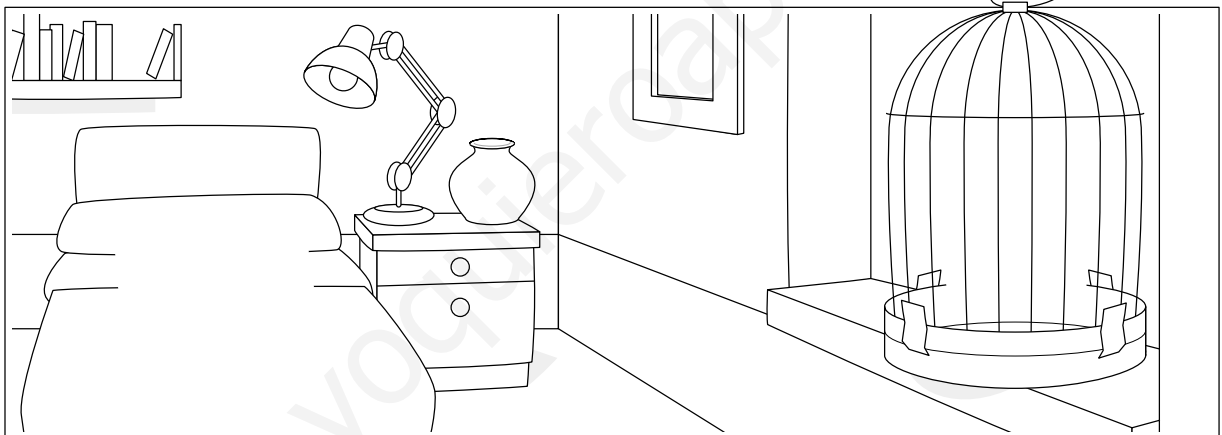
Lee y completa el dibujo.

Un juguete en el suelo.

Una rosa roja en la mesa.

Un gato de peluche en la cama.

Un loro en la jaula.



Busca y escribe.

q

.....
.....
.....

j

.....
.....
.....

C	Á	Q	C	H	P
B	G	N	Ñ	O	E
L	U	M	S	O	R
P	I	J	A	M	A
I	L	B	T	O	F
R	A	N	A	M	V

-r-

.....
.....
.....

-r-


.....
.....
.....

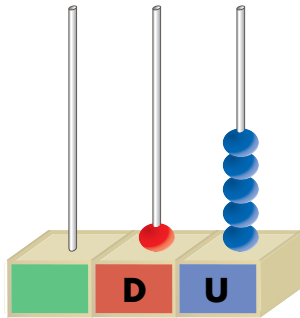
PRIMER TRIMESTRE
Unidad 4. Matemáticas

AA

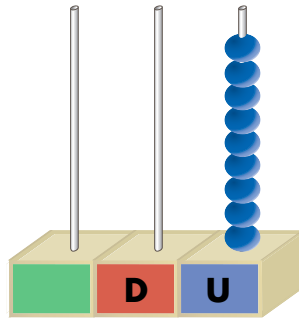
Nombre y apellidos:

Curso: Fecha:

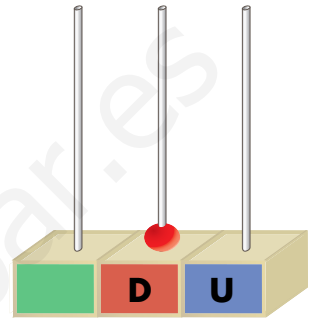
 Cuenta y completa.



D	U



D	U



D	U

 Calcula y relaciona.

$7 + 3 = \square$

$$\begin{array}{r} 4 \\ + 4 \\ \hline \square \end{array}$$

$\square = 6$

$4 + 4 = \square$

$$\begin{array}{r} 8 \\ - 2 \\ \hline \square \end{array}$$

$\square = 10$

$8 - 2 = \square$

$$\begin{array}{r} 7 \\ + 3 \\ \hline \square \end{array}$$

$\square = 8$

PRIMER TRIMESTRE
Unidad 4. Conocimiento del Medio

AA

Nombre y apellidos:

Curso: Fecha:

📶 Completa con estas palabras:

gel - colonia - peine - champú

Me peino con el .


Me ducho con el .

Después de ducharme me echo

.

Me limpio el pelo con .

📶 Ordena esta secuencia:



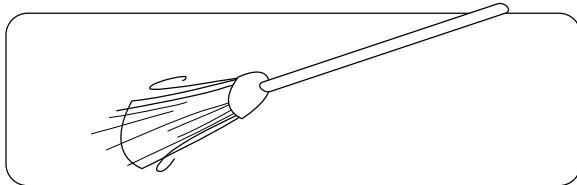
PRIMER TRIMESTRE
Unidad 5. Lengua

AA

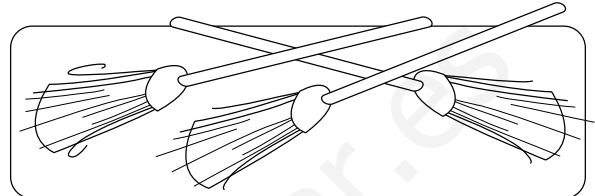
Nombre y apellidos:

Curso: Fecha:

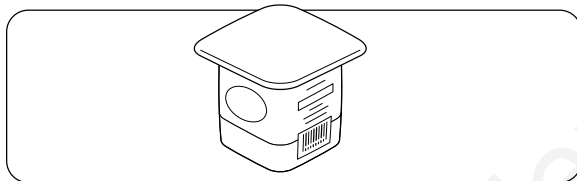
 Escribe.



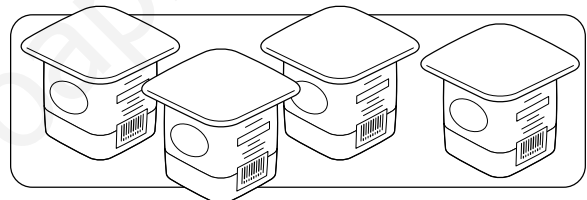
Una escoba



.....
.....
.....



.....
.....
.....



.....
.....
.....

 Ordena y escribe las frases.

es Tocinito policía.

.....
.....
.....

zumo. toman Todos

.....
.....
.....

Nombre y apellidos:

Curso: Fecha:

 Problema.

Un pintor tiene 8 botes de pintura. Si gasta 5, ¿cuántos botes le quedan?





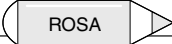

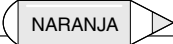
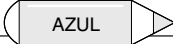


Tiene →

Gasta →

Le quedan botes.

 Cuenta, colorea y contesta.

 ----- <input type="text"/>	 ----- <input type="text"/>	 ----- <input type="text"/>	 ----- <input type="text"/>
 ROSA	 ROJO	 NARANJA	 AZUL

¿De cuántos hay más?

PRIMER TRIMESTRE
Unidad 5. Conocimiento del Medio

AA

Nombre y apellidos:

Curso: Fecha:

📶 Escribe el nombre del profesional que se necesita.



.....
.....
.....

.....
.....
.....

📶 Completa.

toca - conduce - cura - decora

El camionero camiones.

El decorador las casas.

La pianista el piano.

La doctora enfermos.

SEGUNDO TRIMESTRE

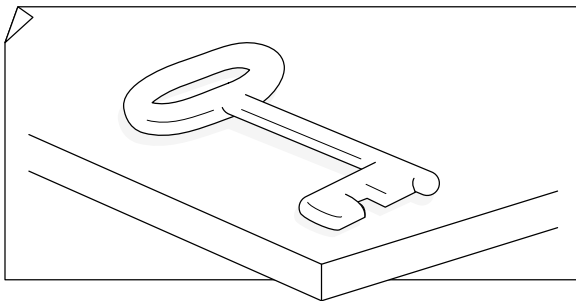
Unidad 1. Lengua

AA

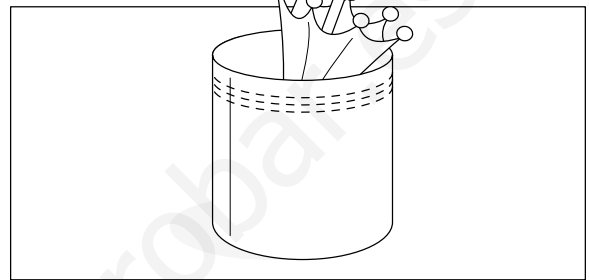
Nombre y apellidos:

Curso: Fecha:

🌀 Escribe los nombres de los dibujos y completa las frases.




.....
.....
.....



.....
.....
.....



.....
.....
.....



.....
.....
.....

Los paraguas están en el

La hizo un hoyo.


El hace kárate.

Cierra con cuando te vayas.

Nombre y apellidos:

Curso: Fecha:

 Problema.



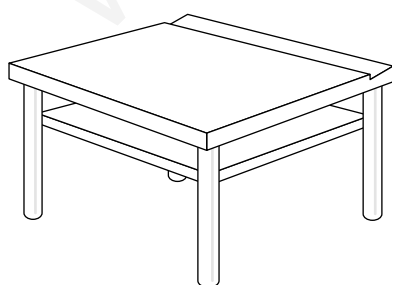
En la tómbola, papá consigue 9 puntos, y el abuelo, 7 puntos. ¿Qué animal pueden escoger?

$$\square \bigcirc \square = \square$$

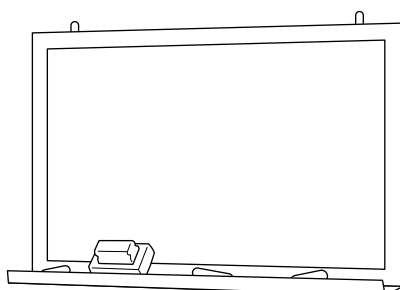
Pueden escoger

 Rodea.

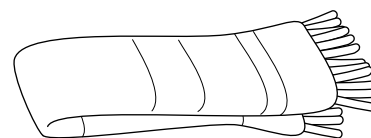
¿Cuántos palmos puede medir de ancho?



$$10 - 4$$



$$20 - 5$$




$$2 - 9$$


SEGUNDO TRIMESTRE
Unidad 1. Conocimiento del Medio

AA

Nombre y apellidos:

Curso: Fecha:

 Dibuja a los familiares con los que te gustaría vivir y escribe quiénes son.



 Haz una lista de invitados para tu cumpleaños.

Familiares

Amigos y amigas

.....
.....
.....
.....
.....
.....


.....
.....
.....
.....
.....
.....

SEGUNDO TRIMESTRE
Unidad 2. Lengua


AA


Nombre y apellidos:

Curso: **Fecha:**

 Escribe, sustituyendo las palabras destacadas por otras que signifiquen lo mismo.

En un **precioso** día de primavera, un perro **flaco** perseguía a un **veloz** conejo. No lo alcanzó.

 Dibuja el texto anterior.



SEGUNDO TRIMESTRE

Unidad 2. Matemáticas

AA

Nombre y apellidos:

Curso: Fecha:

📶 Completa las tablas.

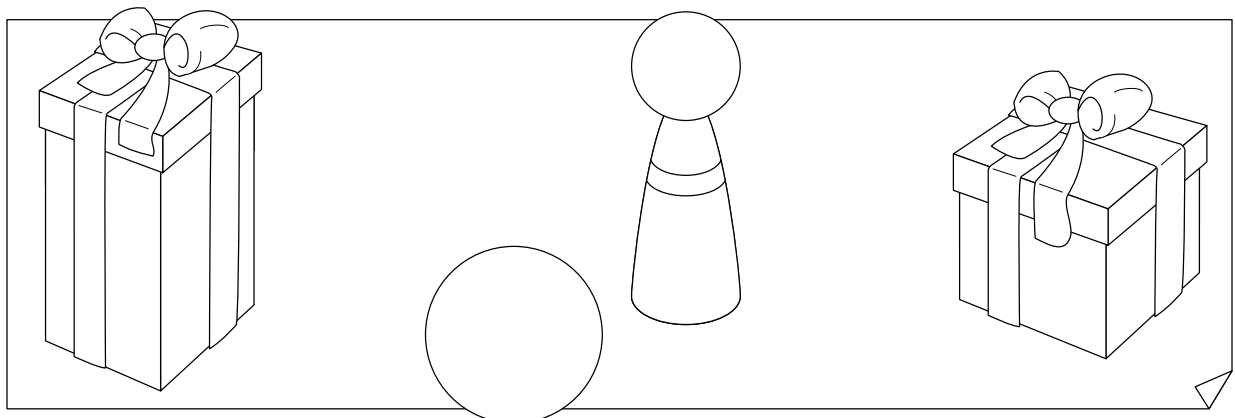
	+	5	6	7	8	9		-	13	12	11	10
6							8					

📶 Piensa y señala la respuesta correcta.

Roberto tiene en su cartera 5 cuantos, y Marta en su cartera tiene 3 cuantos y 2 cuadernos.

- Roberto tiene menos cuantos que Marta.
- Marta tiene menos cuantos que Roberto.
- Tienen los dos el mismo número de cuantos.

📶 Une cada objeto con la caja en la que cabe.




SEGUNDO TRIMESTRE

Unidad 2. Conocimiento del Medio

AA

Nombre y apellidos:

Curso: Fecha:

 Une según corresponda.

Polideportivo

curarse

Museo

jugar al baloncesto

Parque

ver pinturas

Hospital

aprender

Colegio

subir al tobogán

 Tacha lo que no debes hacer y escribe la frase.

calzada - acera

Camino por la

Saludo - No saludo

a los vecinos.

fuera de - en

Echo los papeles la papelera.

Piso - Respeto

las plantas y los jardines.

Nombre y apellidos:

Curso: Fecha:

📶 Completa con *br* o *bl*.


___ uno lee un so___ e ___ anco.

___ anca lleva un som___ ero.

La ___ uja se pierde por la nie___ a.

Una lie___ e se asomó al esta___ o.

📶 Observa los dibujos y completa las frases con palabras que signifiquen lo contrario.



El libro está de la mesa.

La papelera está de la mesa.

El duende está del árbol.

El hada está del árbol.

SEGUNDO TRIMESTRE

Unidad 3. Matemáticas


AA

Nombre y apellidos:

Curso: Fecha:

 Resuelve.

En el prado hay 15 vacas blancas y 5 vacas marrones. ¿Cuántas vacas blancas hay más que marrones?



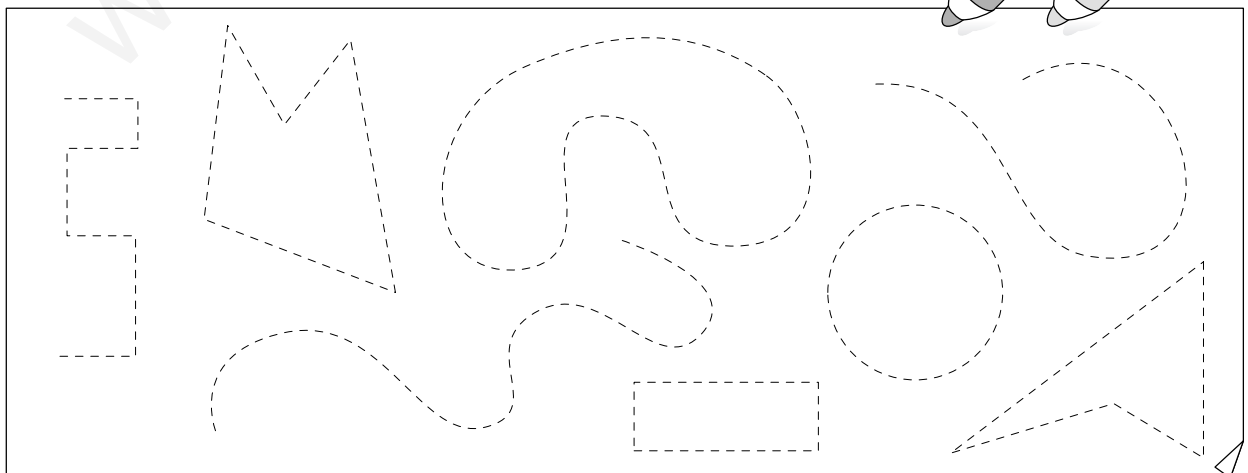

	<input type="text"/>
<input type="text"/>	<input type="text"/>
<input type="text"/>	<input type="text"/>

Hay vacas blancas más que marrones.

 Repasa así:

líneas abiertas → rojo

líneas cerradas → verde



SEGUNDO TRIMESTRE






Unidad 3. Conocimiento del Medio

AA




Nombre y apellidos:

Curso: Fecha:

📶 Escribe sí o no.

					
Mamífero doméstico					
Mamífero salvaje					

📶 Colorea lo que debes hacer y tacha lo que no.



SEGUNDO TRIMESTRE
Unidad 4. Lengua

AA

Nombre y apellidos:

Curso: Fecha:

📶 Completa con: el, la, los, las, un, una, unos, unas.

ogro Gregorio vive en cueva.

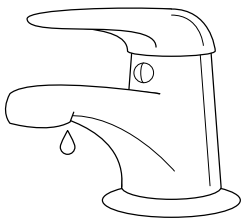
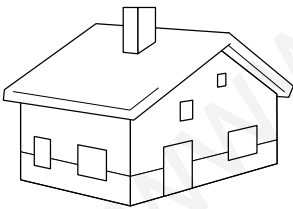
Tiene en cabeza ojo que todo

lo ve, manos enormes para coger

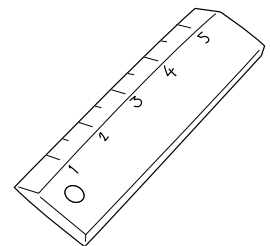
frutas del bosque y pies

grandes para recorrer montes.

📶 Busca cuatro palabras que indiquen menor tamaño.



L	I	N	U	G	B	U	S	R
O	M	A	Ñ	R	I	G	D	N
R	E	G	L	I	T	A	C	U
T	P	O	S	F	W	I	R	S
I	L	U	R	I	N	T	U	P
C	A	S	I	T	A	O	P	I
E	T	W	E	O	D	L	A	D
S	E	C	R	E	T	I	T	O



SEGUNDO TRIMESTRE

Unidad 4. Matemáticas

AA

Nombre y apellidos:

Curso: Fecha:

 Piensa y completa.

Soy 2 decenas mayor que 28 \longrightarrow


Soy 1 decena mayor que 42 \longrightarrow

Soy 4 unidades mayor que 36 \longrightarrow

Soy 6 unidades menor que 47 \longrightarrow

Soy el anterior a 40 \longrightarrow

Soy el posterior a 19 \longrightarrow

 Suma y resta.

28	+	20		36	+	12		42	+	6	
58	-	21		27	-	20		39	-	7	

SEGUNDO TRIMESTRE
Unidad 4. Conocimiento del Medio

AA

Nombre y apellidos:

Curso: Fecha:

Une cada ave con el lugar en el que vive.

cigüeña

corral

buitre

árbol

golondrina

buitrera

gallina

en torres y altos

gorrión

en los aleros de la casa

Completa con las siguientes palabras:

nidos - animales - silvestres - plantas - personas

Las aves que viven en libertad se llaman

Ponen sus huevos en los .

Se alimentan de y de

pequeños .

Las aves silvestres viven lejos de las

.

SEGUNDO TRIMESTRE
Unidad 5. Lengua

AA

Nombre y apellidos:

Curso: Fecha:

📶 Escribe una palabra que contenga cada una de las siguientes sílabas:

ga

que

qui

go

qu

📶 Completa con palabras que indiquen cómo son los nombres.

Está pasando un tren muy

.

Esta paella está muy

.

Ese árbol es bastante

.

Ese presentador es muy

.

📶 Ordena las palabras para formar una frase y tacha la palabra que sobra.

ciclista El iba bicicleta rápido.


SEGUNDO TRIMESTRE

Unidad 5. Matemáticas

AA

Nombre y apellidos:


Curso: Fecha:

 Lee y completa.

sesenta y siete \longrightarrow \longrightarrow D y U

cuarenta y cinco \longrightarrow \longrightarrow D y U

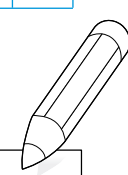
sesenta y dos \longrightarrow \longrightarrow D y U

 Coloca y opera.

28	+	36		54	+	7		48	+	20	
28	-	7		45	-	32		19	-	17	

 Completa.

<input type="text" value="38"/>	$\xrightarrow{+2}$	<input type="text"/>	$\xrightarrow{+4}$	<input type="text"/>	$\xrightarrow{+2}$	<input type="text"/>	$\xrightarrow{+4}$	<input type="text" value="50"/>
---------------------------------	--------------------	----------------------	--------------------	----------------------	--------------------	----------------------	--------------------	---------------------------------




SEGUNDO TRIMESTRE
Unidad 5. Conocimiento del Medio

AA


Nombre y apellidos:

Curso: Fecha:


Colorea estas flores y escribe sus nombres:



.....
.....
.....




.....
.....
.....

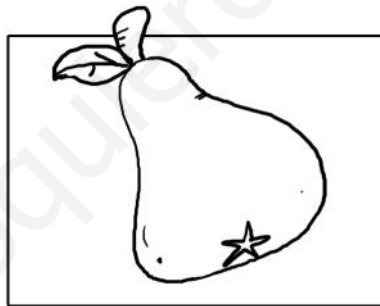


.....
.....
.....

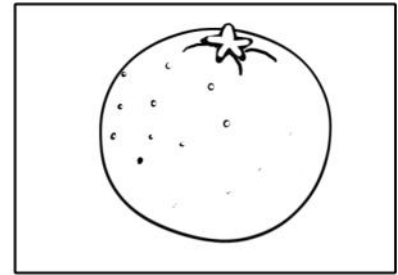
Escribe el nombre del árbol.



.....
.....
.....



.....
.....
.....



.....
.....
.....

Une según corresponda.

hierba

olivo

árbol

lilo

arbusto

trébol


TERCER TRIMESTRE

Unidad 1. Lengua

AA

Nombre y apellidos:

Curso: Fecha:


 Escribe las frases cambiando los nombres masculinos por femeninos.

El zapatero es amable.

Me gustan los gatos.

Mis amigos vinieron a casa.

 Escribe y dibuja lo que hiciste el fin de semana.



Este fin de semana

TERCER TRIMESTRE


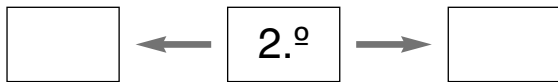
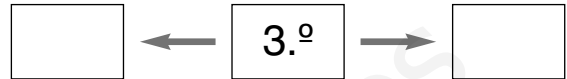
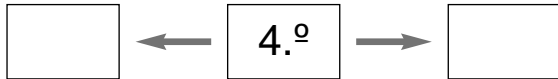
Unidad 1. Matemáticas

AA

Nombre y apellidos:

Curso: Fecha:

 Escribe el número anterior y el número posterior.




 Dibuja.

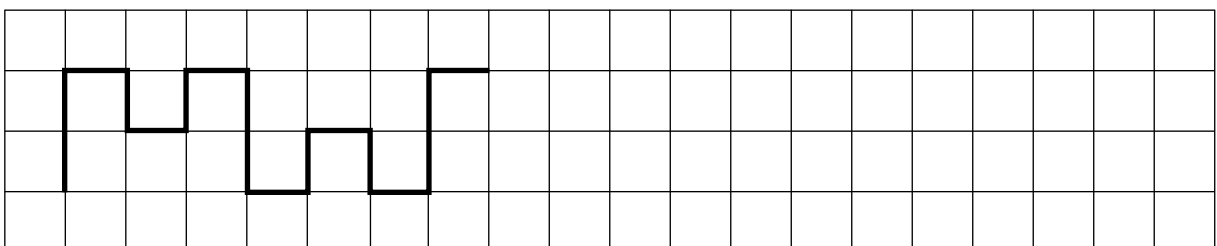
Tres líneas poligonales abiertas



Cinco líneas poligonales cerradas



 Continúa la serie.



TERCER TRIMESTRE

Unidad 1. Conocimiento del Medio

AA

Nombre y apellidos:

Curso: Fecha:

 Señala donde corresponda.

	PAISAJE LLUVIOSO	PAISAJE SOLEADO	PAISAJE VENTOSO	PAISAJE NUBLADO
				
				
				
				

 Tacha lo que no se debe hacer y escribe la frase.

Debo protegerme
 No debo protegerme

del Sol.

No debemos
 Debemos

ahorrar agua.

Conviene
 No conviene

ventilar la casa.

TERCER TRIMESTRE

Unidad 2. Lengua

AA

Nombre y apellidos:

Curso: Fecha:

📶 Completa los nombres con la letra que falta y escribe el plural de los que sean femeninos.

lámpar__

teléfon__

colegi__

coch__

bolígraf__

mochil__

mesill__

estrell__

regl__

estuch__

zapatill__

cuadern__

.....


.....

.....

.....

.....

📶 Dibuja dónde te gustaría estar y describe el lugar.



.....

.....

.....

.....

.....

TERCER TRIMESTRE

Unidad 2. Matemáticas



AA

Nombre y apellidos:

Curso: Fecha:


Problema.

En la tienda hay 37 latas de sardinas. Si se venden 15 latas, ¿cuántas latas quedan?



Quedan latas de sardinas.

Hemos traído 8 latas más. ¿Cuántas latas hay ahora?



Ahora hay latas de sardinas.

Escribe los días de la semana.

TERCER TRIMESTRE

Unidad 2. Conocimiento del Medio

AA

Nombre y apellidos:

Curso: Fecha:

Une según corresponda.

La sardina es

El delfín es

El pez está cubierto

El mamífero marino tiene


un mamífero

un pez

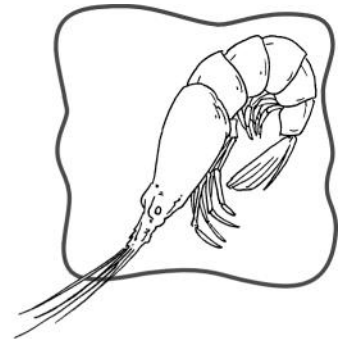
piel lisa

de escamas

Busca y rodea 3 animales marinos.



Q	S	C	E	S	N	R
H	G	A	M	B	A	T
B	E	L	S	E	S	D
C	M	A	N	S	N	F
A	J	M	T	U	B	T
L	E	A	S	G	S	Ñ
M	T	R	D	O	I	H
B	N	C	B	F	M	X
T	F	T	N	B	Ñ	V



TERCER TRIMESTRE
Unidad 3. Lengua


AA

Nombre y apellidos:

Curso: Fecha:

 Termina de escribir el cuento y dibuja.

En el fondo de un mar muy azul vivía
una familia de sirenas.


Un día 






Al final 








TERCER TRIMESTRE

Unidad 3. Matemáticas

AA

Nombre y apellidos:

Curso: Fecha:

 Escribe.

Voy detrás del cuarto 

Estoy entre el 5.º y el 7.º 


Voy delante de todos 

Estoy delante del 9.º 

Voy antes del 4.º 

Estoy entre el 6.º y el 8.º 

Voy detrás del 1.º 

 Calcula y completa.

48

3

12

76

52

93

29

80

91

Suma los tres números menores.

Resta al número mayor el que tiene 8 decenas.


Ordena de mayor a menor los números que no has utilizado.

TERCER TRIMESTRE
Unidad 3. Conocimiento del Medio

AA

Nombre y apellidos:


Curso: Fecha:

 Dibuja una fruta de cada estación y escribe su nombre.


Primavera




Verano



Otoño



Invierno




TERCER TRIMESTRE

Unidad 4. Lengua

AA

Nombre y apellidos:

Curso: Fecha:

 Escribe las frases y corrige los verbos.

Ayer jugaremos al escondite.

.....
.....
.....

Ahora limpié el coche.

.....
.....
.....

Mañana estudié Lengua.

.....
.....
.....

 Escribe una carta a una persona que admires.

....., de de

.....

.....

.....

.....

.....

.....



TERCER TRIMESTRE

Unidad 4. Matemáticas

AA

Nombre y apellidos:

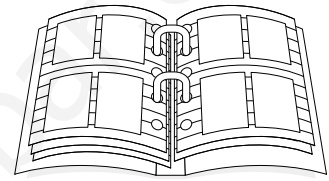
Curso: Fecha:

Problema.

He comprado un álbum de fotos que tiene 5 hojas. En cada hoja caben 4 fotos. ¿Cuántas fotos caben en total?

$$\square + \square + \square + \square + \square = \square$$

Caben fotos en el álbum.



Problema.

Para hacer la compra, he entrado en el supermercado a las 6 en punto y he salido a las 8 y media. Completa los relojes y contesta.

Entro



Son las 6
en punto.

Salgo



Son las 8
y media.

¿Cuánto he tardado en hacer la compra?

He tardado

TERCER TRIMESTRE

Unidad 4. Conocimiento del Medio

AA

Nombre y apellidos:

Curso: Fecha:

 Completa las frases con estas palabras:

periódicos – noticias – publicidad

Los nos informan con

escritas y fotografías.

Para anunciar cosas, llevan

.

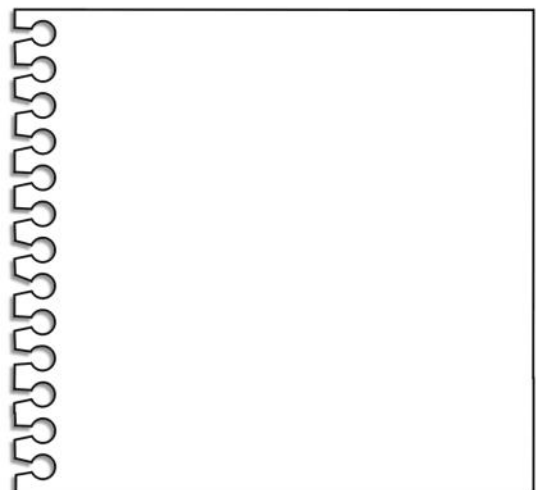
 Escribe un anuncio con estas palabras:

zumo. – bebe – crecer – Para – mucho

 Adivina lo que es y dibuja.

Me gusta entretener
y verte disfrutar,
elige el programa de niños,
cambiando de canal.

Es la .




TERCER TRIMESTRE
Unidad 5. Lengua

AA


Nombre y apellidos:

Curso: Fecha:

 Colorea, repasa las rayas y anota al lado de cada frase quién la dijo.



Diego



Pablo



Belén

— Yo iré a Palma en avión. →

— Pues yo montaré en barco por primera vez. →

— Mi viaje es fantástico, iré a Sevilla en tren. →

 Imagina quién hace cada cosa y completa las frases.

montamos en bici.

lee el periódico.

explica la lección.

TERCER TRIMESTRE

Unidad 5. Matemáticas

AA

Nombre y apellidos:

Curso: Fecha:

Problemas.

Cuatro amigos van a montar en barca. Cada uno tiene 45 céntimos, y el ticket de paseo en barca es de 20 céntimos por persona.

¿Tienen suficiente dinero para montar?

¿Pueden invitar cada uno a un amigo?

¿Cuánto les sobra a cada uno?

Si el paseo dura 1 hora y empieza a las 5 y media, ¿a qué hora termina?



A las

Colorea.

A 1

rojo

C 3

verde

D 4

amarillo

B 2

azul

4				
3				
2				
1				
	A	B	C	D

D 1

rojo

C 2

azul

B 3

verde

A 4

amarillo

TERCER TRIMESTRE
Unidad 5. Conocimiento del Medio

AA

Nombre y apellidos:

Curso: Fecha:

 Completa las frases con estas palabras:

coche – barco – bici – avión

Monto en y doy un paseo con mis amigos.

Voy con mis padres al pueblo en

Si voy muy lejos, monto en .

Este verano voy a una isla en y veré delfines.

 Señala sí o no.

	Sí	No
Espero el tren en el andén	<input type="checkbox"/>	<input type="checkbox"/>
Los pasajeros del tren viajan en los vagones	<input type="checkbox"/>	<input type="checkbox"/>
El tren circula por el puerto	<input type="checkbox"/>	<input type="checkbox"/>
Los pasajeros del puerto embarcan en el muelle	<input type="checkbox"/>	<input type="checkbox"/>