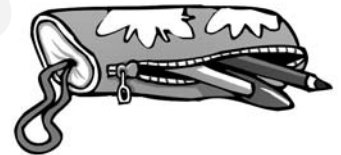
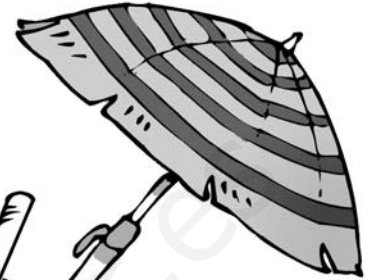






Nombre: .....

⊙ ¿Qué utilizas en el colegio? Rodéalos.



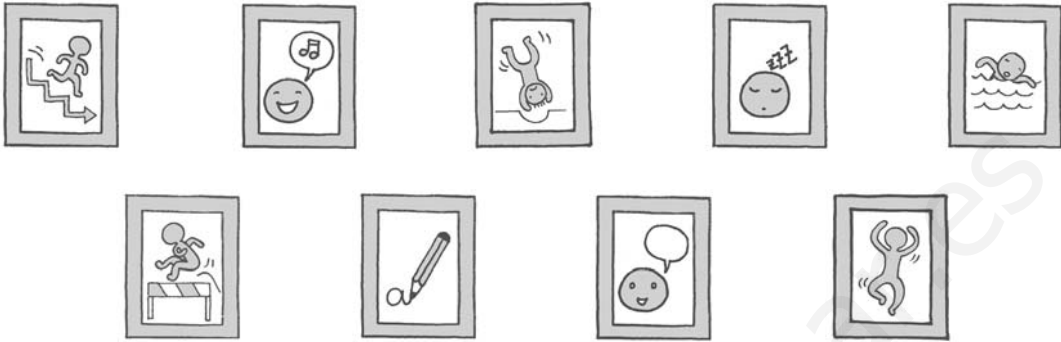
⊙ ¿Qué se hace en cada lugar? Relaciona.





Nombre: .....

⊙ ¿En qué actividades mueves las articulaciones? Rodea.



⊙ Relaciona con el número correspondiente.

1 rodilla


2 codo



3 cuello

4 cintura


⊙ ¿Quién es mayor? Márcalo.






Nombre: .....

- ⊙ Colorea los alimentos dulces.



- ⊙ Relaciona.



- ⊙ Tacha lo que no se puede ver.

amistad

león

mamá

música

pie

nube

cama

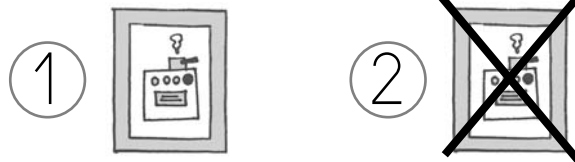
sonido

dedo



Nombre: .....

⊙ Relaciona e indica si se toman crudos o cocinados.



⊙ ¿Con qué completarías cada plato? Únelos.





Nombre: .....

⊙ ¿Qué cosas haces en las fiestas de Navidad? Márcalo.









⊙ ¿Qué hace cada uno? Completa.

abuela

papás

yo

villancicos

La cena de Navidad la cocinan

mis \_\_\_\_\_.


\_\_\_\_\_ pongo la mesa.

Mi \_\_\_\_\_ canta \_\_\_\_\_.



Nombre: .....

⊙ Relaciona.



• ovíparo

• vivíparo

⊙ Elige las palabras adecuadas y completa la frase.

ovíparos

vivíparos

huevo

Los animales que nacen de la barriga de su mamá son .....

Los que nacen de un ..... son .....

⊙ Escribe cuatro productos que proporcionan los animales.

1. ....

3. ....

2. ....

4. ....



Nombre: .....

- ⊙ Escribe de quién se trata.

peces

anfibios

reptiles

Viven en la tierra los

y los

Viven en el agua los

los

y los

Nacen de un huevo los

los

y los

Tienen escamas los

y los


- ⊙ ¿Dónde están los insectos? Rodéalos.





Nombre: .....

- ⊙ Tacha la frase falsa.
  - Las plantas son seres vivos que cambian.
  - Las plantas son seres vivos que se desplazan.
  - Las plantas son seres vivos que se alimentan.
  
- ⊙ Colorea de amarillo los frutos y de marrón las semillas.



- ⊙ ¿Qué frutos tienen solo una semilla?

.....

.....

.....

.....

.....





Nombre: .....

- ⊙ Cambia las palabras subrayadas y convierte el relato sobre el invierno en uno sobre el verano.

bañador

las gafas de sol

calor

las sandalias

piscina

nadar

Hace frío y me pongo el abrigo, el gorro y la bufanda. Voy a ir a la nieve a esquiar.

.....

.....

.....

.....

.....

.....

.....

.....

.....

.....

- ⊙ Escribe V si es verdadero y F si es falso.

En primavera las temperaturas son suaves.

Durante el invierno, muchas plantas dan sus frutos.

Muchos árboles pierden sus hojas en otoño.

En verano llueve mucho.





Nombre: .....

⊙ ¿De qué lugar se trata?

hospital

calle

casa

parque

cine

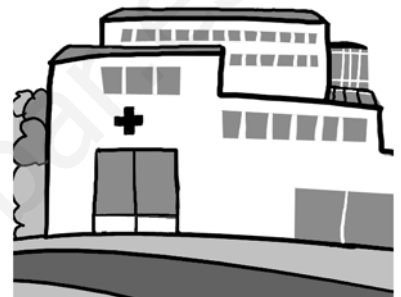
tienda



.....  
 .....



.....  
 .....



.....  
 .....



.....  
 .....



.....  
 .....



.....  
 .....

⊙ Escribe V si es verdadero y F si es falso.

- En las ciudades hay pocos habitantes.
- Los edificios bajos son más numerosos en los pueblos.
- En las ciudades hay muchos coches.
- Todas las localidades tienen un Ayuntamiento.
- En los pueblos las calles son anchas y muy largas.



Nombre: .....

⊙ Completa.


La ganadería consiste en la cría y cuidado de .....

La agricultura consiste en cultivar la tierra y obtener ..... y .....


La pesca nos proporciona .....

La minería nos proporciona ..... y minerales de la tierra.

⊙ ¿Qué se obtiene con estas actividades?



.....  
.....  
.....

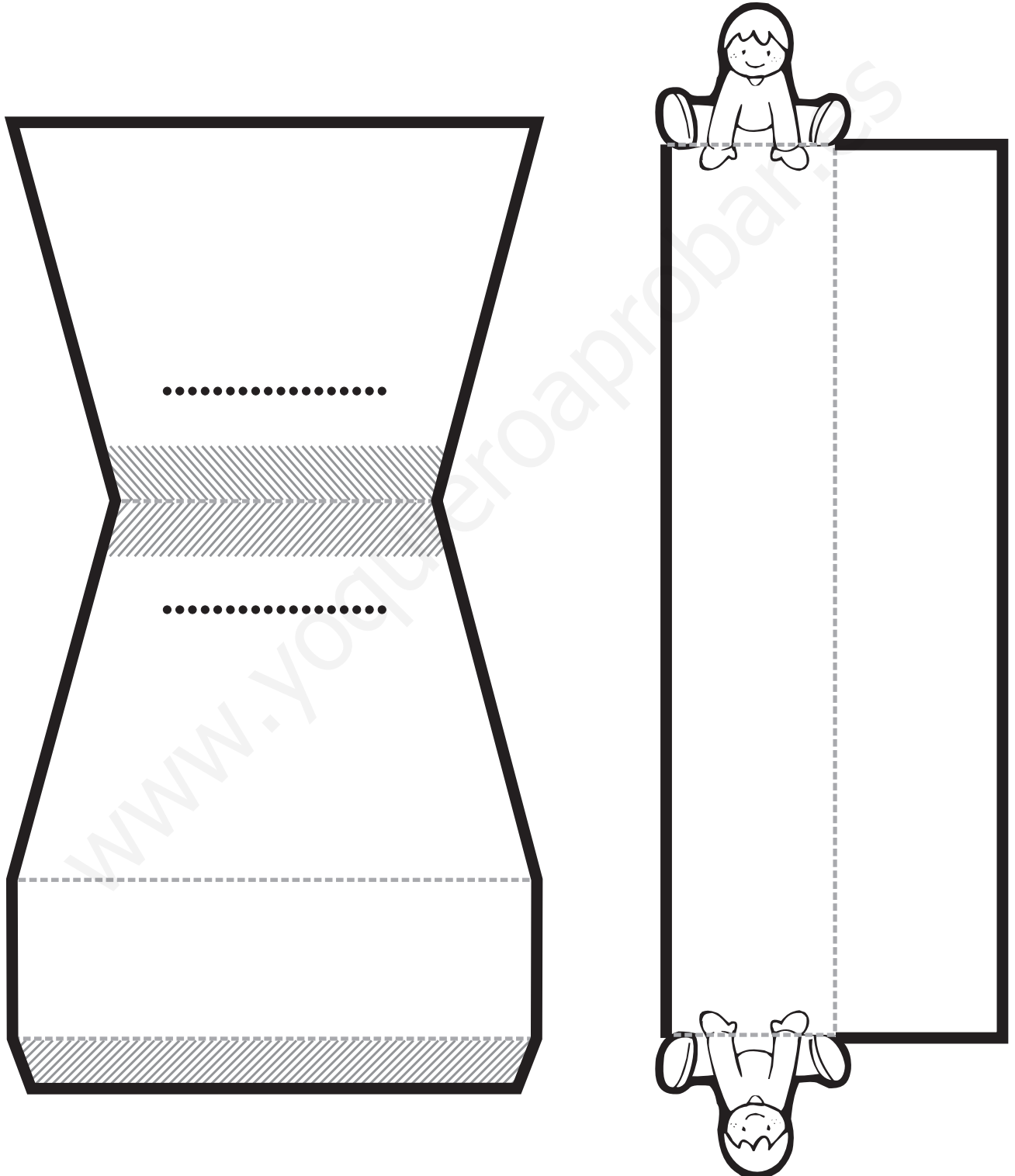


.....  
.....  
.....



Nombre: .....


- ⊙ Recorta y pega la maqueta para construir una máquina sencilla, como este balancín.





Nombre: .....

⊙ Colorea los vehículos que transportan personas.



⊙ Adivina los medios de transporte y dibújalos.

Navega por el mar  
sin ser barco.  
Los submarinistas pueden  
verlo pero tú no.

Rueda sobre la vía  
pero no es tren  
sino un tran.....

1

2

⊙ ¿Por dónde se desplazan los transportes anteriores?

1. ....  
.....  
.....  
2. ....  
.....  
.....



Nombre: .....

⊙ Rodea los nombres de las plantas de tu Comunidad.

pino	roble	palmito	jara	encina
tabaiba	tomillo	sauce	álamo	palmera

⊙ Escribe V si es verdadero y F si es falso.

- Las palmeras abundan en mi Comunidad.
- Mi Comunidad tiene muchos robles y pinos.
- Cuando voy al campo veo jara y tomillo.
- El árbol típico de mi Comunidad es la encina.

⊙ Encuentra los animales. ¿Cuáles se pueden ver en tu Comunidad?

Y	B	Q	A	P	E	L
G	A	V	I	O	T	A
R	J	S	D	I	M	G
Z	C	O	J	C	U	A
A	Z	W	A	O	K	R
T	O	I	B	N	A	T
G	R	E	A	E	C	O
B	R	R	L	J	S	X
H	O	I	Í	O	S	O



En mi comunidad hay

.....

.....

.....


.....

.....



Nombre: .....

1. Marca el dibujo que represente una parte del colegio.



2. Rodea los objetos que puedes encontrar dentro de la clase.



3. Rodea de verde a las personas que trabajan en el colegio y de rojo a las que no.










Nombre: .....

4. Relaciona lo que haces en cada lugar.



5. Escribe el número donde corresponde.

①



②



③













Nombre: .....

1. Colorea según el código: rojo = cabeza, amarillo = tronco y verde = extremidades.




2. Marca las casillas según la parte del cuerpo donde se encuentran.



Nombre: .....

3. Rodea las articulaciones que están usando estos niños.



4. Ordena estas fotografías según el paso de los años.






5. Rodea lo que crees que ayuda a estar sano.





Nombre: .....

1. Relaciona.



2. Rodea según el código: rojo = gusto, azul = vista,  
naranja = oído, amarillo = tacto y verde = olfato.




3. Lee y escribe el número que corresponde.

Todos tenemos ..... sentidos.



Nombre: .....

4. Escribe debajo del dibujo dulce o salado, según corresponde.




.....  
 .....  
 .....



.....  
 .....  
 .....

5. Rodea de verde el dibujo que represente buen olor.




6. Colorea la imagen que ayuda a mantener sanos los órganos de los sentidos.





Nombre: .....

1. Escribe debajo de cada dibujo animal, vegetal o mineral, según su origen.



.....  
 .....  
 .....

2. Marca el nombre del alimento que se toma cocinado.

huevo

pera

3. Lee y completa la frase con las palabras que corresponden.

sano

de todo

Como

.....  
 .....

para

estar

.....  
 .....

4. Rodea el nombre del alimento que dura más tiempo.

harina

pescado

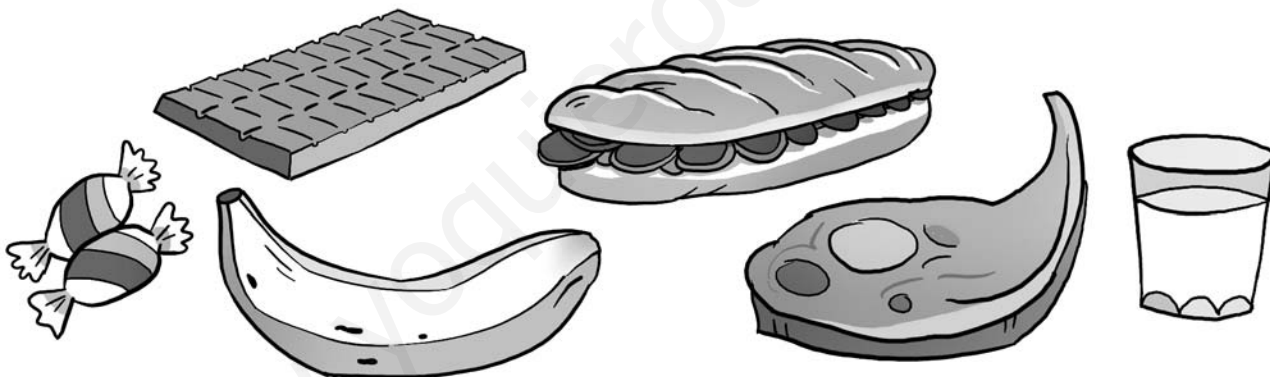


Nombre: .....


5. Ordena las viñetas escribiendo 1, 2 y 3.



6. Rodea dos alimentos que tomas para hacer una merienda sana.



7. Observa el dibujo y completa con el alimento que le falta.





Nombre: .....

1. Escribe el número que corresponde al lado de cada miembro de la familia.




- ① papá  
② mamá  
③ hijos  
④ abuela

2. Escribe V si es verdadero y F si es falso.

- El hermano de papá es mi abuelo.  
 Los papás de papá y mamá son mis abuelos.  
 El hermano de mamá es mi tío.

3. Marca la imagen en la que los niños colaboran.







Nombre: .....

4. Escribe debajo de cada dibujo el nombre de la fiesta a la que pertenece.

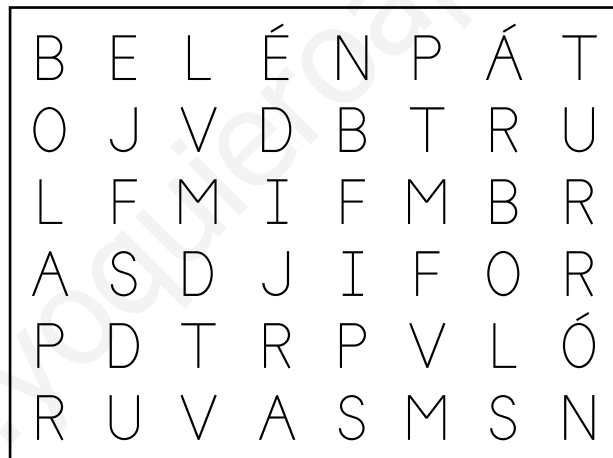


.....  
 .....  
 .....



.....  
 .....  
 .....

5. Busca en la sopa de letras cinco elementos navideños.



6. Completa la frase con: mamá, papá, o yo.

En casa colaboramos, \_\_\_\_\_ pongo la

mesa. Mi \_\_\_\_\_ hace la compra.

Mi \_\_\_\_\_ hace la comida. Nos

queremos y nos cuidamos todos.



Nombre: .....

1. Lee y escribe 1, 2 ó 3 según corresponde.

se mueven



①

tienen hijos

②

se alimentan

③



2. Completa las frases con las palabras: alas, patas, aletas.

El caballo corre con sus

.....  
 .....  
 .....



El delfín nada con sus

.....  
 .....  
 .....

La paloma vuela con sus

.....  
 .....  
 .....

3. Escribe O si es ovíparo y V si es vivíparo.





Nombre: .....



4. Marca el dibujo donde aparezca el animal doméstico.



5. Escribe V si es verdadero y F si es falso.

- Los animales que comen animales son herbívoros.
- Un animal que come hierba es herbívoro.
- Los animales que comen animales son carnívoros.

6. Marca las casillas según corresponde.

		
carnívoro		
herbívoro		
vivíparo		
ovíparo		
salvaje		
doméstico		



Nombre: .....

1. Completa la frase.

Los animales que maman cuando son

pequeños se llaman .....

2. Escribe el nombre del único mamífero que vuela, y dibuja uno que viva en el mar.



.....  
 .....  
 .....



3. Escribe V si es verdadero y F si es falso.

Las aves son ovíparas y tienen dos patas.

Todas vuelan con sus dos alas y tienen pico.


Su cuerpo está cubierto de plumas y algunas pueden nadar.



Nombre: .....

4. Escribe el nombre y dibuja el animal que corresponde.

Soy ovíparo, tengo escamas, puedo tener patas o no y suelo vivir en la tierra.



.....  
 \_\_\_\_\_  
 .....

Soy ovíparo, tengo escamas, me muevo con aletas y vivo en el agua.



.....  
 \_\_\_\_\_  
 .....

5. Rodea de rojo la frase que describe a los anfibios y de verde la que describe a los insectos.

Somos ovíparos, tenemos seis patas y algunos tenemos alas.

Somos ovíparos, respiramos en el agua y en la tierra y algunos tenemos cola.



Nombre: .....

1. Escribe V si es verdadero y F si es falso.

Las plantas se mueven de un lugar a otro.


Las plantas necesitan luz, agua, tierra y aire para vivir.

2. Escribe los números donde corresponde.

① raíz

② tallo

③ hojas



3. Lee y completa la frase con: semillas, plantas.

Las \_\_\_\_\_ nacen de \_\_\_\_\_.

4. Lee la frase y completa lo que falta.

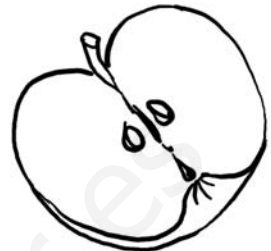
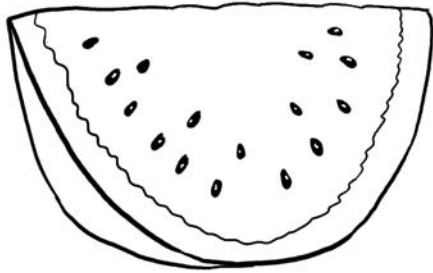
Las  dan . En su interior los

 tienen \_\_\_\_\_.



Nombre: .....

5. Colorea los frutos que tengan varias semillas.



6. Escribe al lado de sus características: árbol, arbusto, hierba.

Su tallo es duro y sus ramas salen del

suelo: \_\_\_\_\_

Su tallo es blando y es pequeña: \_\_\_\_\_

Su tallo es duro y llega a ser alto: \_\_\_\_\_



7. Ordena los dibujos de la vida de esta planta.





Nombre: .....

1. Ordena los dibujos de las estaciones del año y escribe sus nombres en el orden correcto.



1

2

3

4

2. Rodea según el código: primavera = verde, verano = rojo, otoño = marrón, invierno = gris.







Nombre: .....

3. ¿Qué tiempo hace en cada estación? Relaciona.





- |                        |             |
|------------------------|-------------|
| frío y nieve •         | • primavera |
| lluvia y viento •      | • verano    |
| sol y algo de lluvia • | • otoño     |
| mucho calor y sol •    | • invierno  |

4. Completa las frases con el nombre de las estaciones.

En \_\_\_\_\_ los pollitos salen del  
huevo.

En \_\_\_\_\_ el oso duerme en su  
cueva.

5. Dibuja una prenda de ropa que usas en cada estación del año.





Nombre: .....

1. Lee y completa la frase.

Una extensión de terreno en la que puede haber agua, seres vivos y construcciones es

un .....

2. Observa el dibujo y escribe V si es verdadero y F si es falso.

Continuará siempre igual.

Cambiará con el paso del tiempo.



3. Rodea las palabras que representan cambios en el paisaje producidos por las personas.

nieve

lluvia

punto

cultivo

río

montaña

casas

carretera

4. Escribe I si es de interior o C si es de costa.

El paisaje tiene playa y mar.

El paisaje tiene montañas y llanuras.



Nombre: .....

5. Escribe el nombre de cuatro elementos naturales de este paisaje.



1

2

3

4

6. Escribe B si la acción esta bien o M si esta mal.

Cuando voy a la playa tiro la basura al mar.

Cuando voy a la playa tiro la basura al contenedor.

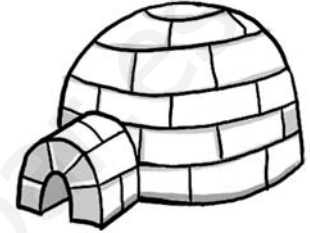
Si voy a la montaña observo a los animales y plantas.



Nombre: .....

1. Completa la frase y escribe como se llaman estas viviendas.

Las viviendas son las \_\_\_\_\_ en las  
que vivimos.



2. Relaciona cada parte de la casa con lo que haces en ella.

- |                  |                                |
|------------------|--------------------------------|
| salón •          | • ducharse                     |
| cocina •         | • comer y estar con la familia |
| cuarto de baño • | • cocinar                      |

3. Rodea la palabra equivocada.

Las calles tienen acera y calzada. Por la acera circulan los vehículos.

4. Escribe V si es verdadero y F si es falso.

- Los barrios están formados por calles, plazas, edificios y personas.
- En los barrios no hay tiendas ni parques.
- En el barrio hacemos nuestra vida diaria. Jugamos, compramos y vamos al colegio.



Nombre: .....

5. Escribe los números en el lugar del barrio al que corresponden.

1. colegio

2. parque

3. farmacia



6. Escribe 1 ó 2 según las características que corresponden a cada localidad.


1. muchos habitantes y edificios altos

pueblo

2. pocos habitantes y edificios bajos

ciudad

7. Colorea según el código: amarillo = plásticos y envases, verde = vidrio, azul = papel y cartón.





Nombre: .....

1. Escribe el nombre de cada actividad.



.....  
 .....  
 .....



.....  
 .....  
 .....

2. Escribe V si es verdadero y F si es falso.

- La pesca nos proporciona pescado.
- La minería nos proporciona alimentos.
- Con la minería se obtienen minerales de la tierra.

3. Escribe al lado de cada producto la materia prima de la cual se obtiene.

silla: .....

pan: .....

papel: .....

queso: .....

manta: .....

camiseta: .....



Nombre: .....

4. Ordena las viñetas del trabajo del agricultor.



5. Completa las frases.

La \_\_\_\_\_ nos da leche, carne y cuero.

La \_\_\_\_\_ nos da huevos y carne.

La \_\_\_\_\_ nos da lana, carne y leche.

Las \_\_\_\_\_ se obtienen

de la naturaleza y nos sirven para

fabricar \_\_\_\_\_.

6. Une cada trabajador con su herramienta.

- |              |         |
|--------------|---------|
| minero •     | • azada |
| agricultor • | • redes |
| pescador •   | • pico  |



Nombre: .....

1. Relaciona las materias primas con los productos que se pueden obtener de ellas.



2. Completa la frase.

Los \_\_\_\_\_ elaborados provienen  
de las \_\_\_\_\_.

3. Escribe cuatro productos elaborados y la materia prima de la que proceden.

.....

.....

.....

.....

.....

.....

.....

.....

.....

.....

.....


.....





Nombre: .....

4. Escribe debajo de cada dibujo si es una máquina o una herramienta.




.....  
 .....  
 .....



.....  
 .....  
 .....



.....  
 .....  
 .....



.....  
 .....  
 .....

5. Escribe V si es verdadero y F si es falso.

- En los talleres se utilizan herramientas.
- Los talleres son pequeños.
- En las fábricas trabajan los artesanos.
- Los operarios trabajan en las fábricas.



Nombre: .....

1. Escribe S al lado de las profesiones que prestan servicios.

farmacéutica

ganadera

pescador

bombero

médico

agricultor

abogada

juez

minero

fontanero

2. Escribe el nombre de las profesiones correspondientes.

Cuida de los parques y jardines: .....

Actúa en el cine, el teatro o la televisión: .....

Repara los coches cuando se averían: .....

3. Escribe un ejemplo de un medio de transporte.

mar: .....

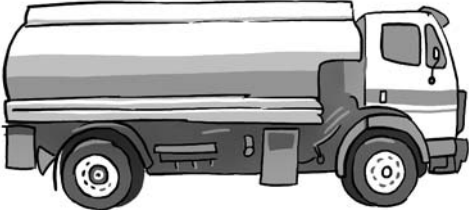



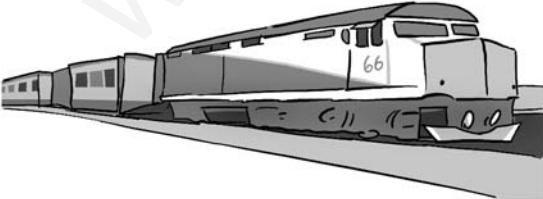

tierra: .....

aire: .....



Nombre: .....



4. Marca las casillas que corresponden.

	mercancías	personas	personas y mercancías
			
			
			
			
			
			



Nombre: .....

1. Marca la ilustración que represente elementos del paisaje característicos de tu Comunidad Autónoma.



2. Escribe un ejemplo al lado de los elementos del paisaje de tu Comunidad.

montaña: .....

río: .....

playa: .....

volcán: .....




Nombre: .....

3. Rodea los nombres de los animales característicos de tu Comunidad.

zorro	águila	muflón	gaviota
cormorán	cabra	buitre	jabalí
conejo	cigüeña	lagarto	flamenco

4. Dibuja dos animales característicos de tu Comunidad. Después escribe su nombre y dónde se encuentran.



.....  
 \_\_\_\_\_  
 \_\_\_\_\_  
 .....

.....  
 \_\_\_\_\_  
 \_\_\_\_\_  
 .....

5. Escribe los nombres de dos plantas de tu Comunidad e indica dónde se encuentran.

En mi Comunidad hay .....

.....  
 \_\_\_\_\_  
 \_\_\_\_\_  
 .....




Nombre: .....

1. Ordena la frase y escríbela en el orden correcto.

en la clase./ lee el libro/ La maestra

.....  
.....  
.....  
.....  
.....

2. Repasa la cabeza de rojo, el tronco de azul y las extremidades de verde. Después escribe los números en las articulaciones.



- 1. cintura
- 2. rodilla
- 3. muñeca
- 4. cuello
- 5. codo

3. Completa la frase.

Las fiestas navideñas son:

.....  
..... y .....  
.....



Nombre: .....

4. Escribe los nombres de los cinco sentidos y dibuja el órgano correspondiente.

.....  
.....  
.....

5. Escribe el alimento que falta en cada comida.

al levantarse	a medio día	por la noche
zumos de naranja	verdura	ensalada
cereales	filete	..... .....
..... .....	..... .....	melón

6. Relaciona y rodea del mismo color.

hermano

papá de mamá

abuelo

hijo de papá y mamá

tía

hermana de papá



Nombre: .....

1. Escribe las características que corresponden a cada animal.

carnívoro/herbívoro  
ovíparo/vivíparo

doméstico/salvaje  
patas/alas/aletas

águila: \_\_\_\_\_  
\_\_\_\_\_  
\_\_\_\_\_

delfín: \_\_\_\_\_  
\_\_\_\_\_  
\_\_\_\_\_

vaca: \_\_\_\_\_  
\_\_\_\_\_  
\_\_\_\_\_

2. Escribe el número que corresponde.

1. mamífero  
4. anfibio

2. pez  
5. réptil

3. ave  
6. insecto








Nombre: .....

3. Completa el dibujo con las partes de la pautá que faltan.



4. Escribe en el orden correcto el nombre de las cuatro estaciones del año.

.....  
.....  
.....  
.....  
.....

5. Relaciona según corresponde.

paisaje de interior •

paisaje de costa •

• montaña

• acantilado

• playa

• llanura



Nombre: .....

1. Escribe V si es verdadero y F si es falso.

- La construcción en la que viven personas se llama casa.
- La vía formada por acera y calzada se llama carretera.
- El conjunto de calles, edificios y personas donde hacemos nuestra vida diaria es el barrio.
- El conjunto de edificios bajos, calles estrechas y donde no hay muchos habitantes ni muchos coches se llama ciudad.
- El conjunto de edificios altos, calles anchas y donde hay muchos habitantes y muchos coches se llama pueblo.

2. Escribe al lado de cada profesión un ejemplo de las materias primas que obtienen.

minero: .....

ganadero: .....

agricultor: .....

pescador: .....

3. Relaciona.

taller •                      • operario •                      • herramientas

fábrica •                      • artesano •                      • máquinas




Nombre: .....

4. Señala lo que corresponde en cada medio transporte.

	transporta mercancías	transporta personas
petrolero		
avión		
bicicleta		

5. Dibuja un animal y una planta de tu Comunidad y escribe sus nombres debajo.



.....  
.....  
.....

.....  
.....  
.....

6. Escribe cuatro profesiones que presten servicios a los demás.

.....  
.....  
.....  
.....  
.....  
.....  
.....  
.....



Nombre: .....

1. Escribe los nombres en la columna correspondiente.

                  cuello – oído – hombro – muñeca – olfato  
   codo – gusto – tacto

articulaciones
.....
.....
.....
.....
.....
.....
.....
.....
.....
.....
.....
.....
.....
.....
.....
.....
.....
.....
.....
.....
.....

sentidos
.....
.....
.....
.....
.....
.....
.....
.....
.....
.....
.....
.....
.....
.....
.....
.....
.....
.....
.....
.....
.....

2. Marca en la tabla según corresponde.

	mamífero	ave	pez	anfibio	réptil	insecto
vaca						
tiburón						
rana						
pato						
abeja						
serpiente						



Nombre: .....

**3. Completa las frases.**

Las plantas toman alimento por las

.....  
 .....  
 .....  
 .....  
 .....

y toman el aire por las

Tienen ..... que dan frutos. En

el interior de los ..... están las

..... De las semillas nace una

nueva .....

**4. Relaciona.**

obtiene materias primas •

elabora productos •

presta servicios •

• artesana

• médica

• agricultor


**5. Completa el cuadro con el nombre de animales y plantas de la Comunidad donde vives.**

	montaña/interior	llanura/costa
animal	..... ..... .....	..... ..... .....
planta	..... ..... .....	..... ..... .....




Nombre: .....

1. Marca cuál es el colegio.



2. Dibuja y colorea los elementos que faltan en esta cara.





Nombre: .....

3. Une los elementos según corresponde.



•

•

•

•

•

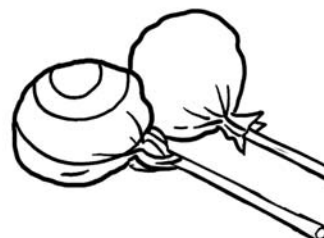



•

•

•



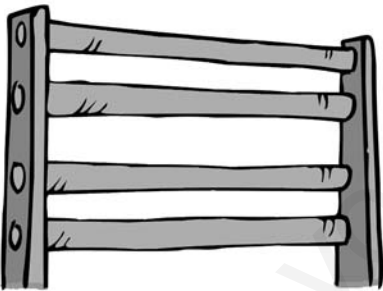
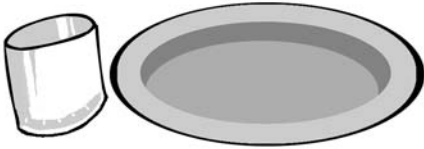
4. Colorea los alimentos que crees que son mejores para ti.





Nombre: .....

⊙ ¿Dónde podemos encontrarlos? Relaciona.



⊙ ¿Quiénes trabajan en un colegio? Coloréalos.







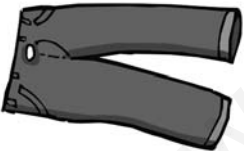






Nombre: .....

⊙ Colorea las casillas según corresponde.

⊙ Completa escribiendo 1 ó 2.

Tenemos \_\_\_\_\_



y \_\_\_\_\_



Tenemos \_\_\_\_\_



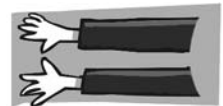
y \_\_\_\_\_



Tenemos \_\_\_\_\_






y \_\_\_\_\_










Nombre: .....

⊙ ¿Qué sentido utilizan? Relaciona.



⊙ Repasa las palabras y escribe el número correcto.

1. sonido    2. colonia    3. salado






Nombre: .....

- ⊙ Prepárate un desayuno sano. Elige y rodea cuatro alimentos.



- ⊙ ¿De qué animal o vegetal provienen? Dibújalo.



- ⊙ Repasa.

Cuando comemos de todo  
estamos sanos.



Nombre: .....

⊙ Escribe de quién se trata.

abuela

papá

hermanos



.....  
 .....  
 .....

⊙ Escribe el nombre de estas fiestas navideñas y rodea la que más te gusta.



.....  
 .....  
 .....



Nombre: .....

- ⊙ Escribe alas, patas o aletas donde corresponde.



orca



búho





oveja

.....  
 .....  
 .....

- ⊙ Colorea las casillas adecuadas.

	león	vaca	perro
herbívoro			
carnívoro			
salvaje			
doméstico			

- ⊙ ¿Para qué animal es la comida? Relaciona.





Nombre: .....


- ⊙ Tacha el animal que no debe estar en el grupo y explica por qué.



.....

.....

.....



.....

.....

.....

- ⊙ Relaciona.

①



②



Vivo en el mar sin ser un pez.

Tengo alas pero soy un mamífero.



Nombre: .....

- ⊙ Dibuja correctamente el rosal uniendo todas sus partes.



- ⊙ ¿Qué necesita el rosal para vivir? Ordena la frase.  
agua, luz, / El rosal necesita / tierra y aire.

.....  
 .....  
 .....  
 .....

- ⊙ Relaciona.

menta •

jara •

nogal •

• árbol

• hierba

• arbusto



Nombre: .....

- ⊙ Escribe las estaciones del año.

.....

.....

.....

.....

.....

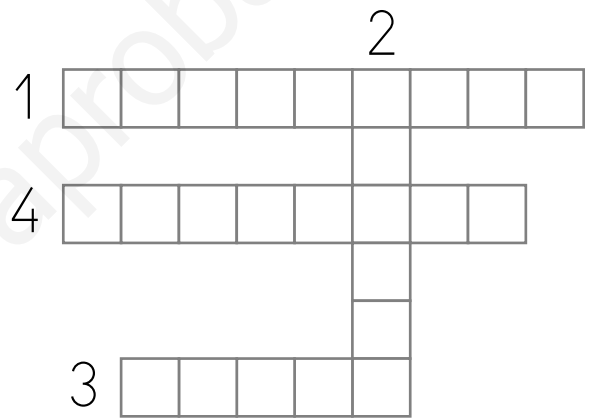
- ⊙ Lee las pistas y completa el crucigrama.

1. Los árboles florecen.





2. Las cigarras cantan.

3. Las golondrinas  
se van.

4. Hace frío y puede  
nevar.



- ⊙ ¿De qué estación se trata? Colorea las casillas.

				
primavera				
verano				
otoño				
invierno				





Nombre: .....

- ⊙ Busca en la sopa de letras seis elementos de un paisaje.

J	C	Y	R	U	I	P	N	Ñ
M	A	R	Q	A	C	Z	E	H
B	R	A	Ñ	W	M	I	G	S
Z	R	Í	O	V	O	E	A	M
Y	E	F	K	C	N	A	U	O
P	T	S	I	W	T	Q	T	B
U	E	L	G	C	A	S	A	S
H	R	Y	O	C	Ñ	X	T	G
J	A	N	I	M	A	L	E	S



- ⊙ Completa la frase.

construcciones
agua
paisaje
animales

Un \_\_\_\_\_ es una extensión de  
 terreno donde puede haber \_\_\_\_\_,  
 plantas, \_\_\_\_\_ y \_\_\_\_\_.



Nombre: .....

⊙ ¿Con qué se construye? Repasa y relaciona los materiales.



tela

ladrillos

hielo

ramas

⊙ ¿Cuál es el nombre de estos lugares de la casa?



.....  
.....  
.....

.....  
.....  
.....

.....  
.....  
.....

⊙ Colorea las casillas adecuadas.

	peatones	paso de peatones	vehículos	papeleras
acera				
calzada				



Nombre: .....

- Colorea del mismo color cada trabajador con su herramienta de trabajo.

agricultor

pescador

ganadero

minero

pico

cubo

red

azada

- Rodea las materias primas y escríbelas donde corresponda.

leche

lana

lata de sardinas

oro

carbón

uvas

boquerón

yogur

atún

maíz

bufanda

vino

ganadería: \_\_\_\_\_

agricultura: \_\_\_\_\_

pesca: \_\_\_\_\_

minería: \_\_\_\_\_



Nombre: .....

⊙ Completa la frase.

productos elaborados

materias primas

Algunas \_\_\_\_\_ se

transforman en \_\_\_\_\_

que necesitamos para vivir.

⊙ Escribe los números donde corresponde.

1 grandes

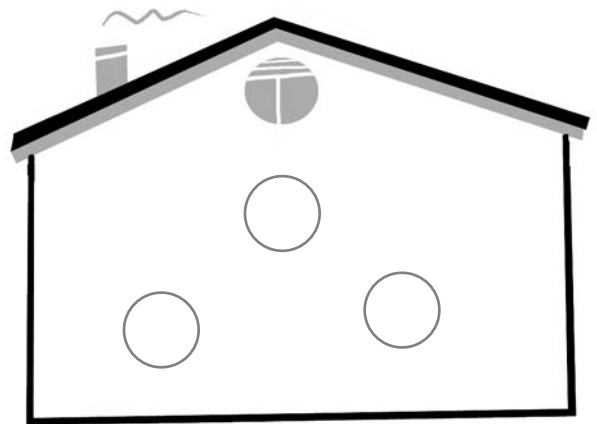

2 artesano

3 herramientas


4 operarios

5 pequeños

6 máquinas



⊙ Rodea las máquinas.





Nombre: .....

⊙ Ordena las sílabas y averigua de qué profesión se trata.



robaderren

.....  
 .....  
 .....



labairín

.....  
 .....  
 .....



agadobo

.....  
 .....  
 .....



tantecan

.....  
 .....  
 .....



serconje

.....  
 .....  
 .....



ezju

.....  
 .....  
 .....

⊙ Ordena y escribe la frase.



que ofrecen servicios / el Ayuntamiento / trabajan en /  
 / de tu localidad. / Algunas personas

.....  
 .....  
 .....  
 .....  
 .....  
 .....  
 .....



Nombre: .....

⊙ ¿Qué elementos del paisaje hay en tu Comunidad? Márcalos.



⊙ Completa la frase:

El paisaje de mi Comunidad es .....

.....

Hay .....

.....

Lo que más me gusta es .....

.....

.....