


TERCER TRIMESTRE

Unidad 1. Lengua

AA

Nombre y apellidos:


Curso: Fecha:

 Escribe oraciones con el sonido que emite.

El gato: _____

La rana: _____

La oveja: _____

 Elige y escribe el final de la fábula.

1. El toro aplastó al ratón.
2. El toro mugía de ira, pues el ratón era tan pequeño que no podía vengarse.
3. El ratón lo dejó en paz.

El toro y el ratón

Un toro estaba descansando y un ratón lo molestaba continuamente con sus dientes.

El toro echaba al ratón, y este se escondía en un agujero y volvía a molestarlo.

MORALEJA: *No se debe menospreciar ni a los pequeños ni a los débiles.*

TERCER TRIMESTRE

Unidad 1. Matemáticas

AA

Nombre y apellidos:

Curso: Fecha:

 Relaciona cada multiplicación con su resultado:

3×5

12

5×8

24

4×3

15

3×8

40

5×7

35

2×10

50


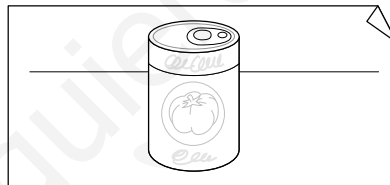
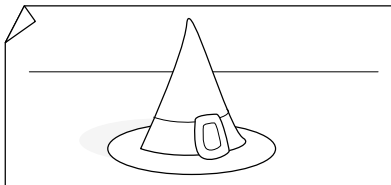
5×9

45

5×10

20

 Escribe de qué tienen forma estos objetos:



 Problema.

Ana ha comprado 3 bolsas de aceite de rosas y Raúl ha comprado 5. Si cada bolsa tiene 6 bolas, ¿cuántas bolas de aceite tienen entre los dos?

DATOS	OPERACIONES

Entre los dos tienen bolas de aceite.

TERCER TRIMESTRE
Unidad 1. Conocimiento del Medio

AA

Nombre y apellidos:

Curso: Fecha:

📶 Completa las frases con estas palabras:

hormigas - mariposas - avispa - mariquita

Cuando voy al campo, tengo que tener cuidado para que no me pique una


_____ . Allí puedo ver _____

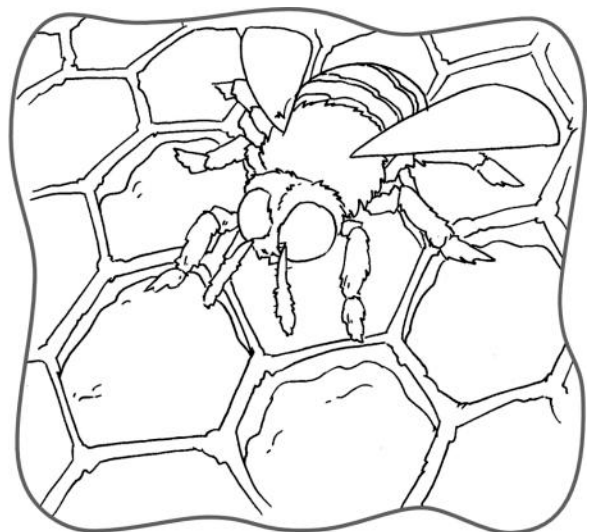
de colores y una _____ que

come insectos. En fila, las _____

van caminando con su comida a cuestas.

📶 Escribe una frase para cada dibujo y colorea.





TERCER TRIMESTRE
Unidad 2. Lengua

AA

Nombre y apellidos:

Curso: **Fecha:**


 Subraya los sujetos y escríbelos en las oraciones correctas.

La gaviota calienta fuerte.

El pescador vuela muy alto.

El sol pesca con su caña.

 Escribe el resumen de un cuento que te guste y haz un dibujo sobre él.



TERCER TRIMESTRE

Unidad 2. Matemáticas


AA

Nombre y apellidos:

Curso: Fecha:


 Dibuja:

3 círculos azules

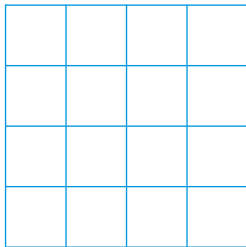


2 circunferencias verdes

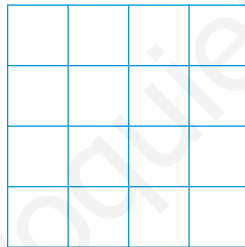


 Coloca y multiplica.


2×6



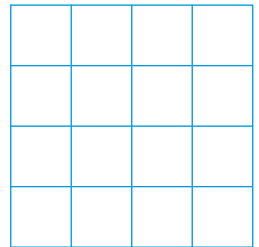
3×4



5×3




4×6



 Problema.



Juan, Luz y Raúl compran rosquillas.
¿Cuántas han comprado entre los tres?



Han comprado rosquillas.


TERCER TRIMESTRE

Unidad 2. Conocimiento del Medio

AA

Nombre y apellidos:

Curso: Fecha:

 Completa las frases con estas palabras:

la raíz – el tallo – las hojas – la flor – el fruto

De los puerros se come _____ .

De las acelgas se comen _____ .

Del naranjo se come _____ .

De las alcachofas se come _____ .

De la zanahoria se come _____ .

 Señala cómo se conservan estos alimentos:

	CONGELADO	ENLATADO	EMBUTIDO	SALADO
HELADO				
ATÚN				
JAMÓN				
BACALAO				
SALCHICHÓN				
GUISANTES				
MERLUZA				

TERCER TRIMESTRE

Unidad 3. Lengua

AA

Nombre y apellidos:

Curso: Fecha:

 Numera el predicado que corresponde a cada sujeto.

1 Los árboles

tiene muchas flores.

2 Mi hermano y yo

lleváis ropa de algodón.

3 El jardín

nos dan madera.

4 Ella y tú

toman café.

5 Mis padres

plantamos semillas.


 Escribe los diálogos en los bocadillos correspondientes.

¿Cómo se llama esta flor amarilla?

Manzanilla. Se toma en infusiones.

¿Y esta flor morada?

Se llama lavanda y sirve para hacer colonia.



TERCER TRIMESTRE

Unidad 3. Matemáticas

AA

Nombre y apellidos:

Curso: Fecha:

 Calcula.


$$\begin{array}{r} 13 \\ \times 6 \\ \hline \square \end{array}$$

$$\begin{array}{r} 24 \\ \times 7 \\ \hline \square \end{array}$$

$$\begin{array}{r} 18 \\ \times 8 \\ \hline \square \end{array}$$

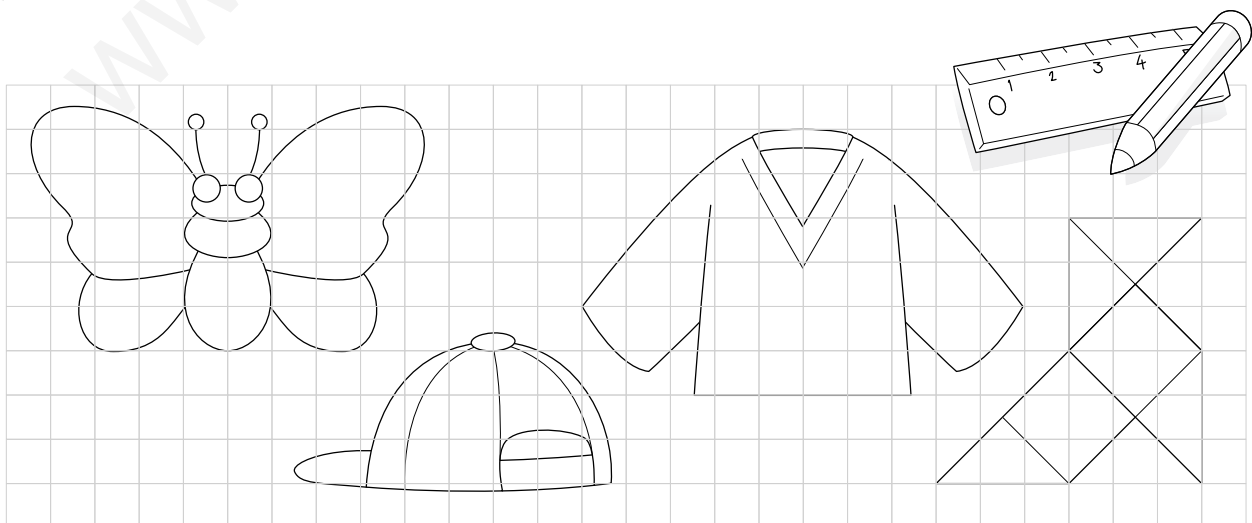
 Problema.

Juan, Eva y Miguel compran 1 paquete de poleo cada uno. Cada paquete cuesta 28 céntimos. ¿Cuánto pagan en total?



En total, pagan céntimos.

 Colorea las figuras simétricas y traza con la regla su eje de simetría.




TERCER TRIMESTRE

Unidad 3. Conocimiento del Medio


AA

Nombre y apellidos:

Curso: Fecha:

 Señala sí o no.

	Sí	No
Los muebles proceden de los árboles	<input type="checkbox"/>	<input type="checkbox"/>
Con la planta del algodón se fabrica ropa	<input type="checkbox"/>	<input type="checkbox"/>
Con la manzanilla no se prepara una infusión	<input type="checkbox"/>	<input type="checkbox"/>
El papel no procede de los árboles	<input type="checkbox"/>	<input type="checkbox"/>
Las plantas son necesarias para la vida	<input type="checkbox"/>	<input type="checkbox"/>

 Rodea lo correcto.

La manzanilla y la tila son plantas

medicinales
aromáticas

 porque se usan para curar enfermedades.

Con estas plantas hacemos

infusiones
flores

 .

La lavanda y el jazmín son plantas

medicinales
aromáticas

 y se usan para hacer jabones y perfumes.

Debemos
No debemos

 reciclar el papel.

TERCER TRIMESTRE

Unidad 4. Lengua

AA

Nombre y apellidos:

Curso: Fecha:

📡 Observa los dibujos y escribe una oración de cada clase.



Enunciativa



Interrogativa



Exclamativa

📡 Haz un cartel publicitario para anunciar unas gafas de sol.



TERCER TRIMESTRE

Unidad 4. Matemáticas

AA

Nombre y apellidos:

Curso: Fecha:

Completa el término que falta.



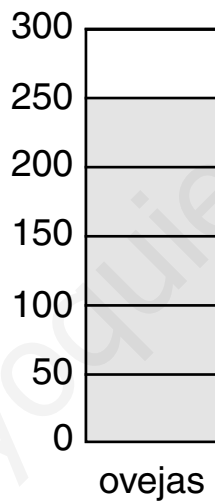
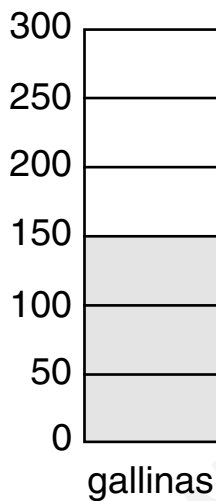
$$\begin{array}{r} 24 \\ \times \square \\ \hline 168 \end{array}$$

$$\begin{array}{r} 13 \\ \times 9 \\ \hline \square \end{array}$$

$$\begin{array}{r} 2\square \\ \times 7 \\ \hline 175 \end{array}$$


$$\begin{array}{r} \square 6 \\ \times 9 \\ \hline 144 \end{array}$$

Busca la información en los gráficos y contesta.



¿Qué hay más, gallinas o vacas?

¿Cuántos animales hay en total?



Hay animales en total.


TERCER TRIMESTRE

Unidad 4. Conocimiento del Medio

AA

Nombre y apellidos:

Curso: Fecha:

 Escribe un menú que tenga:

Primer plato → producto ganadero


Segundo plato → producto de pesca

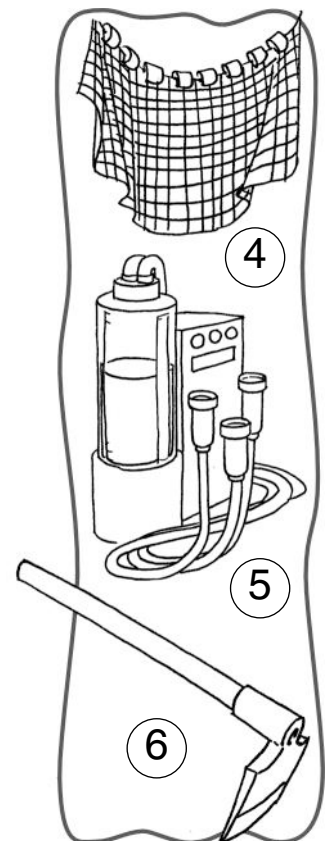
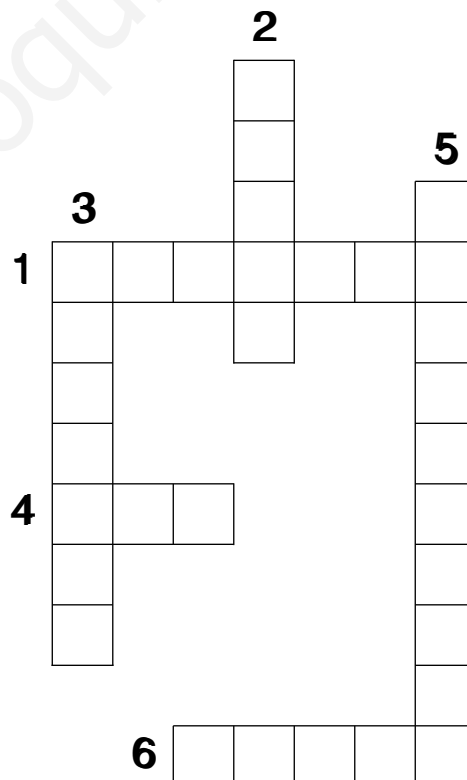

Postre → producto agrícola

Primer plato _____

Segundo plato _____

Postre _____


 Resuelve el crucigrama.



Nombre y apellidos:

Curso: Fecha:

 Representa los mensajes con dibujos. Utiliza algunos de los siguientes:






La niña

come

un

bocadillo.







El niño

ve

dos

aviones.



 Escribe de manera ordenada lo que has hecho por la mañana.

TERCER TRIMESTRE

Unidad 5. Matemáticas

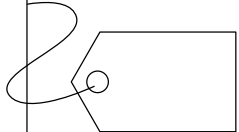
AA

Nombre y apellidos:

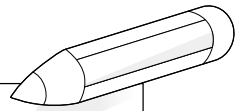
Curso: Fecha:

Lee, piensa y contesta.

- Tiene 3 centenas.
- La suma de las cifras de las decenas y de las unidades es 8.
- La cifra de las unidades es par y mayor que la cifra de las decenas.



- La cifra de las unidades es el doble de la cifra de las centenas.
- El lugar de la decena lo ocupa un 0.
- Tiene 40 decenas.



Opera.

$$\begin{array}{r} 523 \\ 17 \\ + 26 \\ \hline \end{array}$$

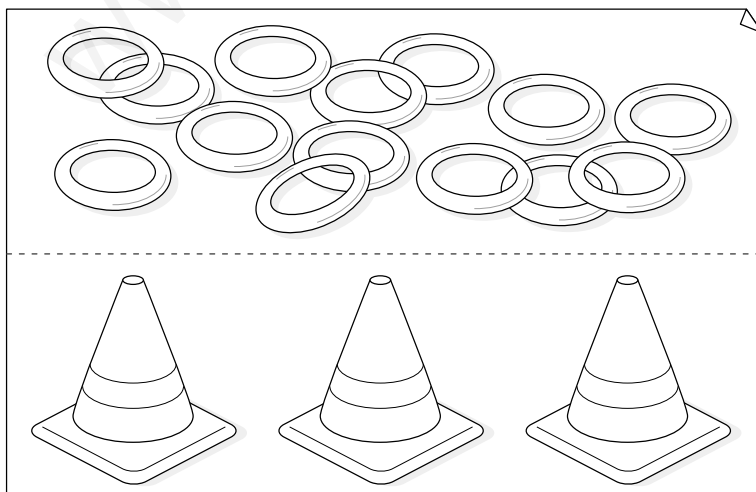
$$\begin{array}{r} 128 \\ 248 \\ + 13 \\ \hline \end{array}$$

$$\begin{array}{r} 842 \\ - 224 \\ \hline \end{array}$$

$$\begin{array}{r} 216 \\ - 28 \\ \hline \end{array}$$

$$\begin{array}{r} 978 \\ - 128 \\ \hline \end{array}$$

Reparte los aros entre los 3 conos.



¿Cuántos hay para cada cono? aros.

¿Cuántos sobran? aros.

TERCER TRIMESTRE

Unidad 5. Conocimiento del Medio

AA

Nombre y apellidos:

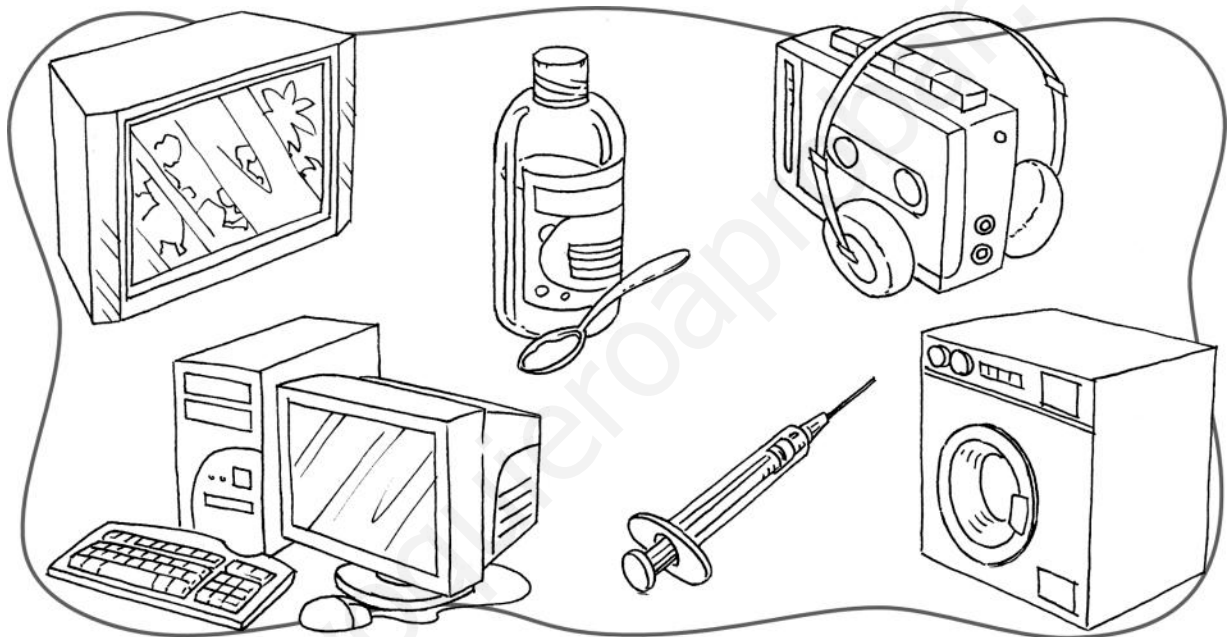
Curso: Fecha:

 Colorea así:

inventos que mejoran la salud → azul

inventos que ayudan en el trabajo → verde

inventos para divertirse → amarillo



 Completa las frases con estos inventos:

impresora – arado – coche – bombilla

El _____ sirve para viajar.

La _____ sirve para iluminar.

El _____ sirve para remover la tierra.

La _____ sirve para hacer muchas copias de un texto.