


PRIMER TRIMESTRE
Unidad 1. Lengua

AA

Nombre y apellidos:

Curso: **Fecha:**

 Separa las palabras, escribe las oraciones y rodea la palabra más larga.

Megustairalcolegio.

.....
.....

Losdisfracessonbonitos.

.....
.....

 Escribe tres oraciones que cuenten la historia.



.....
.....

.....
.....

.....
.....


PRIMER TRIMESTRE

Unidad 1. Matemáticas

AA

Nombre y apellidos:

Curso: Fecha:

 Piensa y colorea el número buscado.

Tengo 7 decenas.

Soy mayor que 74.

Soy menor que 77.

67

73

78

75

Soy menor que 59.

Mi decena más próxima es 50.

Tengo 2 unidades.

59

53

58

52

 Problema.

Diana ha recogido en la playa 5 piedras negras y 4 piedras blancas.

¿Cuántas ha recogido en total?

$$\square \bigcirc \square = \square \text{ en total.}$$

Si regala 2 piedras blancas y 3 negras, ¿cuántas le quedan?

$$\square \bigcirc \square = \square \quad \square \bigcirc \square = \square$$

Le quedan \square piedras.

 Piensa y dibuja.



1 hora antes

Son las \square

Son las \square


PRIMER TRIMESTRE

Unidad 1. Conocimiento del Medio

AA

Nombre y apellidos:

Curso: Fecha:

 Completa las frases con estas palabras:

articulaciones – esqueleto – huesos – músculos – movimiento

Todos los huesos forman el

Gracias a los , nuestro cuerpo se sostiene.

Los se estiran y permiten el .

Las son las uniones de unos huesos con otros.

 Rodea y escribe los nombres de tres órganos internos.

C	O	R	A	Z	Ó	N	K	P
P	R	S	F	L	V	Ñ	T	U
E	S	T	Ó	M	A	G	O	L
B	R	W	L	Q	K	H	P	M
H	A	F	R	L	L	B	V	Ó
P	Y	T	G	I	U	C	X	N

PRIMER TRIMESTRE

Unidad 2. Lengua


AA


Nombre y apellidos:

Curso: Fecha:

 Une y escribe los nombres de cuatro hortalizas.

ju-	-pi-	-a	→	<input type="text"/>
pe-	-dí-	-no	→	<input type="text"/>
a-	-mien-	-ga	→	<input type="text"/>
pi-	-cel-	-to	→	<input type="text"/>

 Lee la tarjeta y explica por qué no le va a llegar a su destinatario.

<p>¡Hola, primo Óscar!</p> <p>Te mando esta tarjeta para felicitarte por tu cumpleaños. ¡Que cumplas muchos más!</p> <p>Un tirón de orejas de tu prima, Maribel</p>	 <p>Maribel Fuertes</p> <p>C/ Villajocosa, 37</p> <p>28041 - Madrid</p>
---	--

<input type="text"/>	<input type="text"/>
<input type="text"/>	<input type="text"/>
<input type="text"/>	<input type="text"/>

PRIMER TRIMESTRE

Unidad 2. Matemáticas

AA

Nombre y apellidos:

Curso: Fecha:

Problema.

Marta tardó 15 minutos en hacer dos sumas. Javier tardó un cuarto de hora en hacer dos restas.

¿Quién fue más rápido?

¿Por qué?

La clase de Matemáticas dura 60 minutos.

¿Cuántas horas dura?

Coloca y opera.

2	7	+	4	9	7	8	+	5	4	6	3	+	9
8	9	-	4	4	5	7	-	6	3	9	-	3	0

Continúa la serie.

$$\boxed{119} \xrightarrow{-2} \boxed{} \xrightarrow{-3} \boxed{} \xrightarrow{-4} \boxed{} \xrightarrow{-1} \boxed{} \xrightarrow{-2} \boxed{107}$$

PRIMER TRIMESTRE

Unidad 2. Conocimiento del Medio

AA

Nombre y apellidos:

Curso: Fecha:

Colorea dónde se necesita consumir más energía y rodea los alimentos que aportan más.



fruta

patatas

macarrones

queso

huevos

pescado

pan

arroz

Completa las frases con estas palabras:

vitaminas – músculos – huesos

Las frutas y verduras aportan

La carne, el pescado, los huevos y las legumbres son buenos

para los .

La leche y derivados son buenos para el crecimiento

de los .


PRIMER TRIMESTRE

Unidad 3. Lengua

AA

Nombre y apellidos:

Curso: Fecha:

 Escribe un antónimo para cada una de estas palabras:

lejos: deprisa: caro: divertido: viejo: entrar: estrecho: grande:

 Une las oraciones y copia las que no son preguntas.

¿A qué hora

a ella!

¡Cómo te pareces

llega el tren?

¿Cómo se llama

hemos llegado!

¡Por fin,

tu profesora?

¿Me acompañas

has tenido!

¡Qué suerte

a dar un paseo?

PRIMER TRIMESTRE

Unidad 3. Matemáticas

AA

Nombre y apellidos:

Curso: Fecha:

 Colorea el valor de la cifra 2.

182 →

2 C	2 D	2 U
-----	-----	-----

129 →


2 C	2 D	2 U
-----	-----	-----

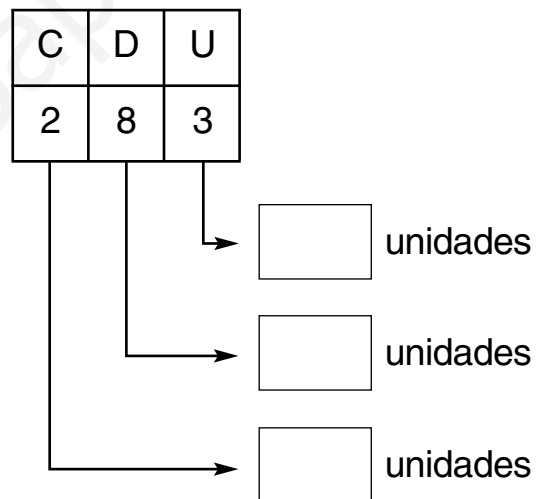
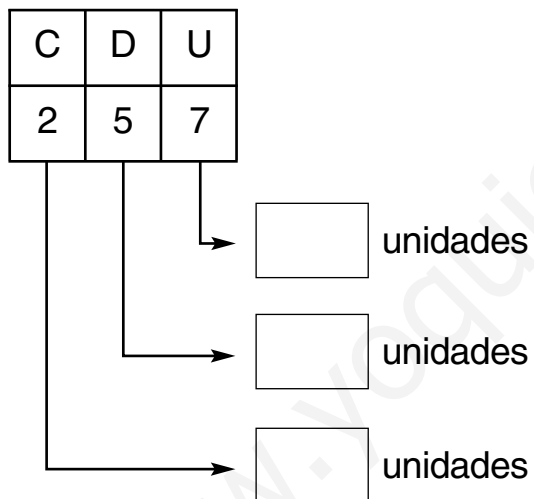
236 →


2 C	2 D	2 U
-----	-----	-----

152 →

2 C	2 D	2 U
-----	-----	-----

 Escribe el valor de las cifras de estos números:



 Relaciona estas sumas:

$12 + 3$

$8 + 4 + 3$

$6 + 10$

$13 + 3$

$9 + 2 + 6$

$11 + 6$

$9 + 8$

$6 + 7 + 3$

$8 + 7$


PRIMER TRIMESTRE

Unidad 3. Conocimiento del Medio

AA


Nombre y apellidos:


Curso: Fecha:


 Escribe los nombres y colorea de azul el animal omnívoro y de verde los herbívoros.

Hembra

Cría







 Señala donde corresponda.

	HUEVOS	MAMAS	PLUMAS	PELO
MAMÍFEROS				
AVES				

PRIMER TRIMESTRE

Unidad 4. Lengua

AA


Nombre y apellidos:

Curso: Fecha:

 Escribe el diminutivo de las siguientes palabras con estas terminaciones:

cuchara (-ita): casa (-illa):

teatro (-illo): papel (-ito):

 Completa con letras mayúsculas o minúsculas y colorea el dibujo que corresponde al personaje.

Mi mejor _____migo se llama _____rancisco
 _____ópez. No nos vemos mucho porque no
 vive en _____adrid. Él es de _____alencia. Es
 moreno y alto y tiene un _____ato muy
 gordo que se llama _____igotes.




PRIMER TRIMESTRE
Unidad 4. Matemáticas

AA


Nombre y apellidos:

Curso: Fecha:

 Problema.

En el garaje hay 148 coches y 79 motos. Salen 86 vehículos.
¿Cuántos quedan dentro?

DATOS




Quedan vehículos.

 Escribe dos objetos de la clase en cada caso.

Miden más de 1 metro

Miden menos de 1 metro

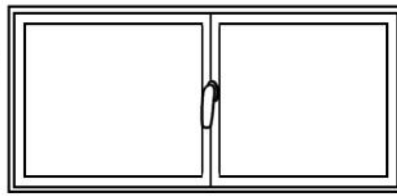
 Observa y ordena de mayor a menor:



120 cm



30 cm



1 m



75 cm

PRIMER TRIMESTRE

Unidad 4. Conocimiento del Medio

AA

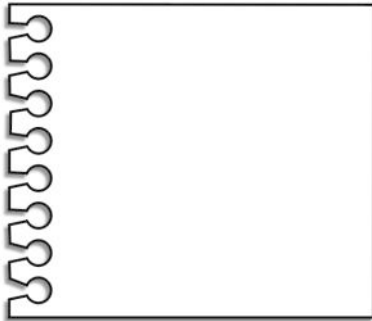
Nombre y apellidos:

Curso: Fecha:

 Escribe quiénes son y dibújalos.

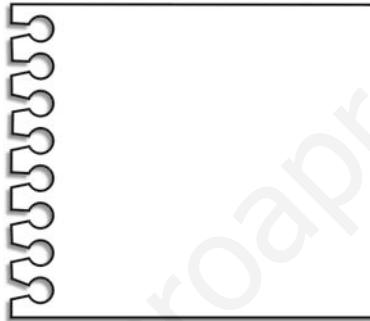
Los padres
de mis padres

.....
.....
.....



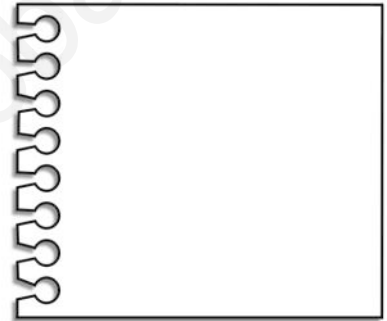
Los hermanos
de mis padres


.....
.....



Los hijos
de mis tíos

.....
.....
.....



 Escribe una frase con lo que hace cada profesional.



.....
.....

.....
.....

.....
.....

PRIMER TRIMESTRE

Unidad 5. Lengua

AA

Nombre y apellidos:

Curso: Fecha:

- 📶 Observa esta ciudad y escribe una pregunta y una respuesta.
Utiliza «por qué» y «porque».



- 📶 Escribe oraciones con estas palabras:

abeja – enjambre

músicos – orquesta

PRIMER TRIMESTRE

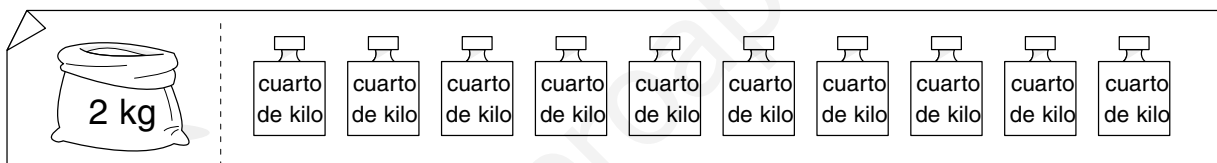
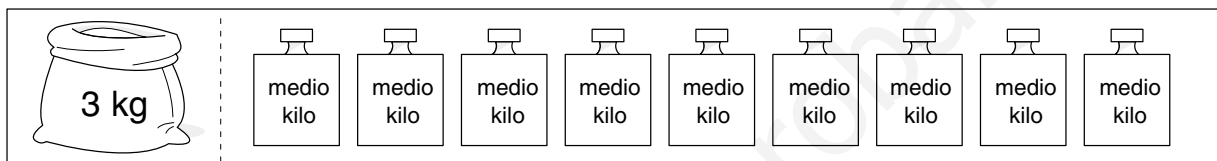
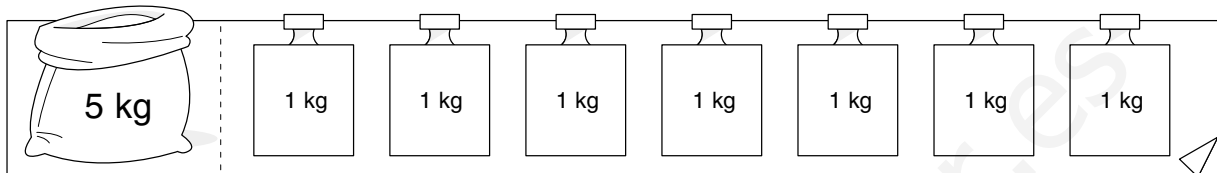
Unidad 5. Matemáticas


AA

Nombre y apellidos:


Curso: Fecha:

 Colorea las pesas que necesitas.



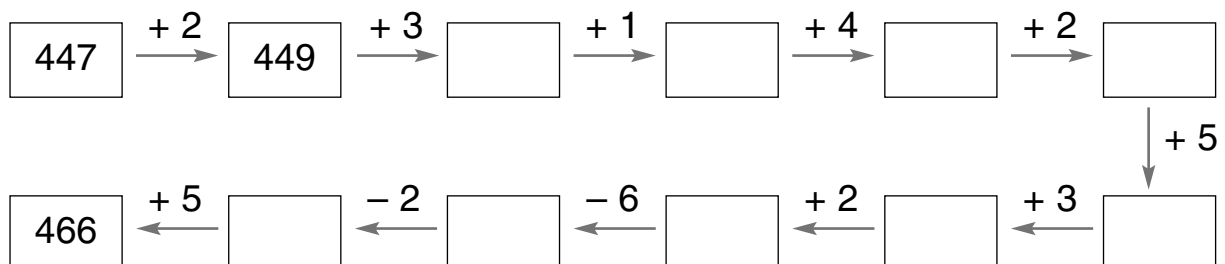
 Problema.

Eva ha comprado 1 kilo de naranjas, medio kilo de manzanas, un cuarto de kilo de mandarinas y otro cuarto de kilo de uvas. ¿Cuántos kilos de fruta ha comprado en total?



Eva ha comprado kilos de fruta.

 Completa.



PRIMER TRIMESTRE
Unidad 5. Conocimiento del Medio

AA


Nombre y apellidos:

Curso: **Fecha:**

Señala correcto (C) o incorrecto (I) y rodea lo que está bajo el suelo.

- | | C | I |
|---|--------------------------|--------------------------|
| Los peatones caminan por la acera | <input type="checkbox"/> | <input type="checkbox"/> |
| En la calle hay mobiliario urbano | <input type="checkbox"/> | <input type="checkbox"/> |
| Las tuberías conducen la electricidad | <input type="checkbox"/> | <input type="checkbox"/> |
| Las alcantarillas recogen el agua sucia | <input type="checkbox"/> | <input type="checkbox"/> |

Escribe los nombres de estos edificios y uno según corresponda:



.....

público



.....



.....

privado



.....

