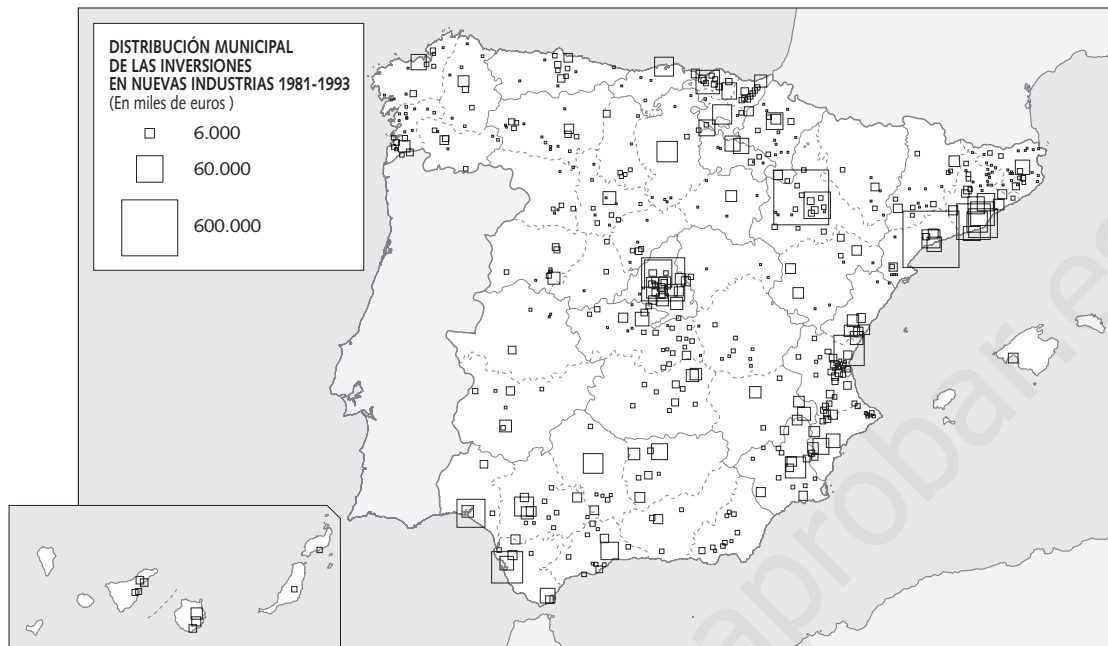


NOMBRE: _____ CURSO: _____ FECHA: _____

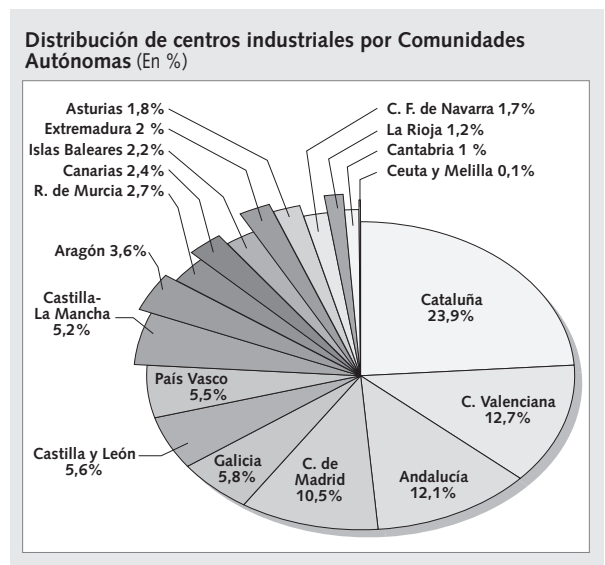


1 Comparar mapas. Vamos a hacer un recorrido por la industria española, haciendo primero un análisis nacional. Compara este mapa con el de industria de tu libro de texto.

- ¿Dónde se concentra la mayor parte de inversión en nuevas industrias? ¿Y dónde la menor inversión?
- ¿En qué provincias hay un porcentaje de población activa en la industria superior al 25% según el mapa de tu libro?
- ¿Existe una relación entre producción, empleo industrial e inversión en nuevas industrias?

2 Comentar un diagrama. Este gráfico nos permite ver la distribución de las industrias españolas por Comunidades Autónomas.

- ¿Qué nos indica el gráfico, el número de industrias o la producción industrial?
- ¿Qué Comunidades Autónomas tienen mayor número de industrias? ¿Cuáles tienen menos?
- Compara con el mapa de industria de tu libro. Relaciona el número de industrias con el nivel de producción. ¿De qué depende que en algunas zonas sea más alta la producción y en otras sea más alto el número de empresas?
 - De la producción total.
 - Del tamaño de las empresas.
 - De la inversión en Investigación y Desarrollo.
- ¿Crees que hay una relación entre peso industrial y nivel de desarrollo? Razona la respuesta.



- 3 Comentar un texto.** La industria española ha sido un elemento clave en nuestro desarrollo. ¿Qué perspectivas tiene la industria española en la actualidad? Lee el siguiente texto:

La evolución seguida por la producción industrial en España desde el inicio de la transición política no permite hacer un análisis positivo. Tras una fase de ajuste para numerosos sectores (1977-1984), ha habido momentos cíclicos de crecimiento (1985-1990, 1993-1998) y de freno (1990-1993), pero el balance final es desfavorable, en gran medida, debido a que la apertura de la industria española ha roto con su proteccionismo tradicional al integrarse en los mercados internacionales.

Los principales problemas de la industria española son la elevada proporción de pequeñas empresas

poco capitalizadas, el reducido esfuerzo tecnológico y la proporción de productos tradicionales y de demanda débil (textil, mueble, piel y calzado), que sufren la apertura de mercados ante otros competidores, en especial asiáticos, frente a los productos de demanda fuerte (tecnológicos, electrónicos, informáticos), en los que se aprecia una elevación del empleo y de la producción, pero siguen dependiendo del exterior. La modernización de la industria española, en la actualidad, contempla un aumento de la dependencia tecnológica del exterior y la creciente importancia de las multinacionales.

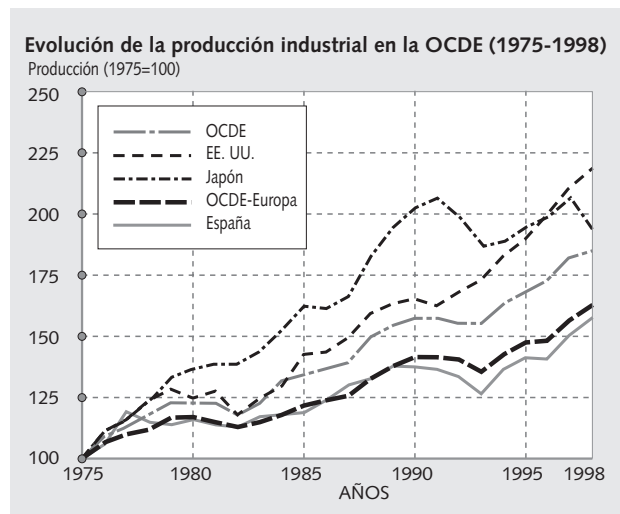
R. MÉNDEZ, «Minería e industria».

En A. GIL OLCINA, J. GÓMEZ, *Geografía de España*, 2001. Adaptado

- Señala cuáles de las siguientes afirmaciones son verdaderas (V) y cuáles son falsas (F) y convierte las falsas en verdaderas.
 - La evolución de la producción industrial en España ha tenido momentos de crecimiento (1985-1990, 1990-1993) y de freno (1993-1998), pero el balance final es desfavorable.
 - La industria española ha roto con el proteccionismo al integrarse en los mercados internacionales.
 - Los principales logros de la industria española son la elevada proporción de grandes empresas y el gran esfuerzo tecnológico.
 - Los productos tradicionales y de demanda débil (textil, mueble, piel y calzado) sufren la apertura de mercados frente a otros competidores, en especial asiáticos.
 - A pesar de la modernización de la industria española, hay un aumento de la dependencia tecnológica.

- 4 Relacionar cuadro y texto.** Observa el gráfico de la evolución de la producción industrial y contesta:

- ¿Cómo es la evolución de los países más desarrollados con relación a España?
- ¿Cuál es la evolución media de los países de la OCDE con relación a España?
- ¿A qué corresponden los momentos de menor crecimiento industrial?
- ¿Por qué el crecimiento industrial español es menor que el del conjunto de países desarrollados?



- 5 Trabajar en grupo.** Con ayuda de los mapas y las cifras de las que disponéis, haced un informe en el que señaléis la situación actual y las posibilidades de futuro de la industria de vuestra Comunidad Autónoma. ¿Qué sectores hay que impulsar?