

74. La organización territorial a lo largo del tiempo



FUENTE: A. GIL OLCINA y J. GÓMEZ MENDOZA (coord.), *Geografía de España*, Ariel.

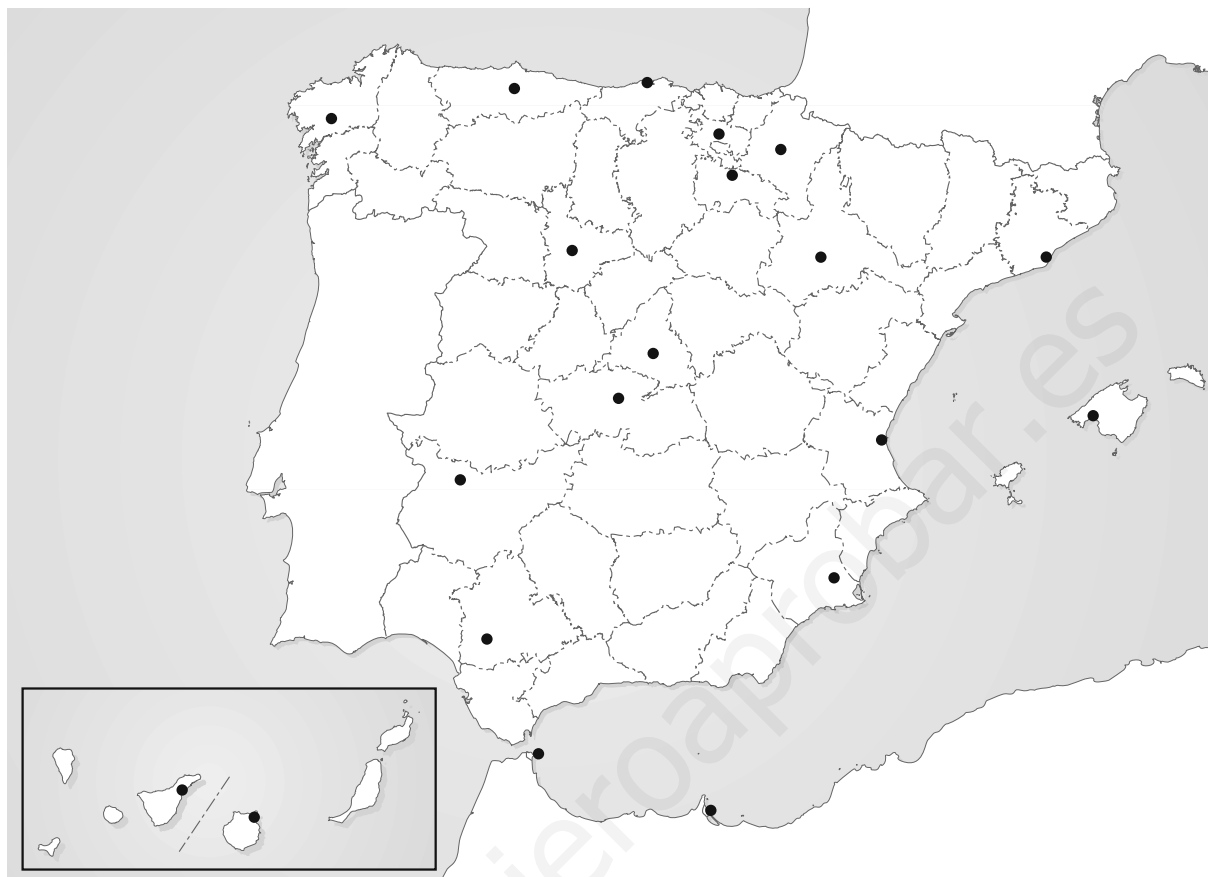


FUENTE: J. LÓPEZ-DAVALILLO LARREA, *Atlas de historia contemporánea de España y Portugal*, Síntesis (Adaptación).

Actividades

- 1** Compara el mapa de la organización territorial en el siglo XIII con el de la España actual de la UNIDAD 11 de tu libro de texto. ¿Qué diferencias encuentras? ¿Qué territorios que hoy son españoles no lo eran en el siglo XIII?
- 2** Compara el mapa de la organización territorial del siglo XIX con el de la UNIDAD 11 de tu libro de texto. ¿Qué diferencias aprecias? ¿Son muchas?
- 3** ¿Ha existido siempre la misma división territorial en España? ¿Por qué?

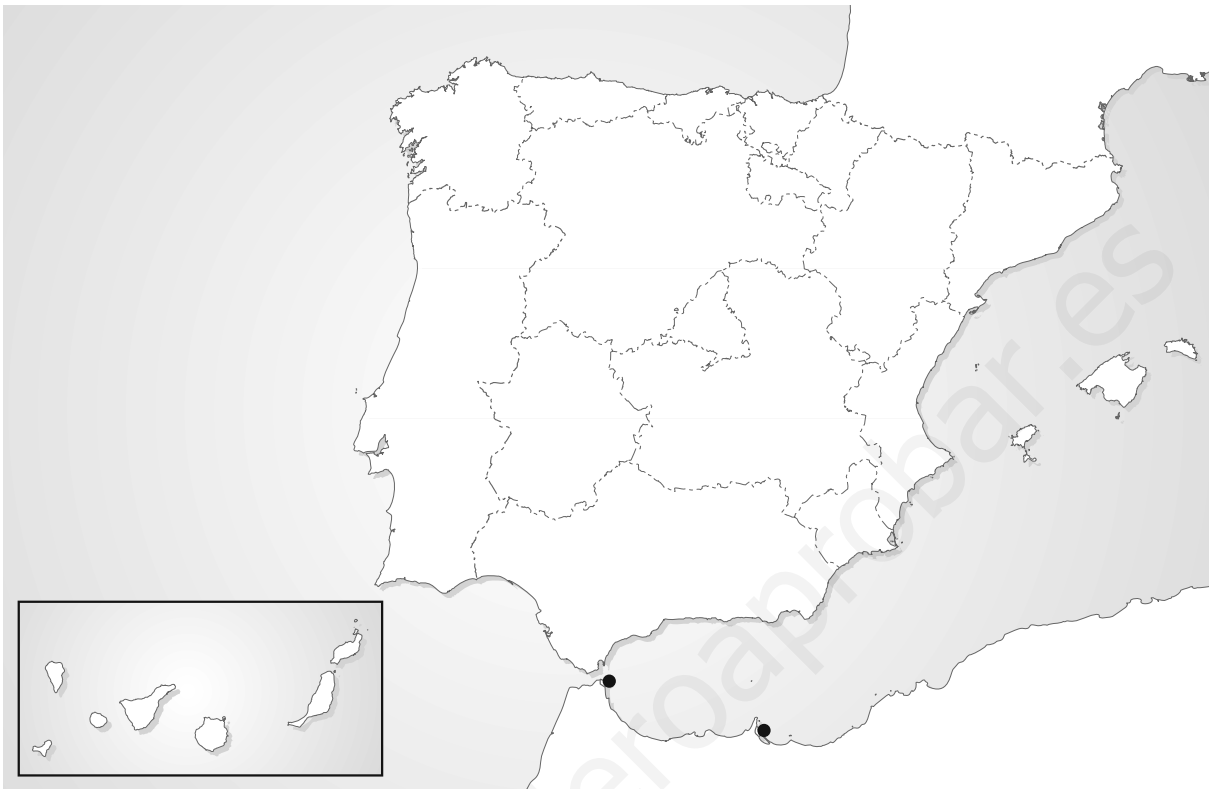
75. El mapa autonómico



Actividades

- 1** Marca en el mapa con color rojo los límites de las comunidades autónomas españolas.
- 2** Escribe en el mapa el nombre de las comunidades autónomas y de las provincias que las componen, así como el de las ciudades autónomas.
- 3** Localiza en el mapa la capital de cada comunidad y escribe su nombre.
- 4** Indica el nombre de las comunidades autónomas formadas por una sola provincia.
- 5** Escribe el nombre de las capitales autonómicas que no son capitales de provincia.

76. La población de las comunidades autónomas



Actividades

1 Consulta los datos de la unidad y responde:

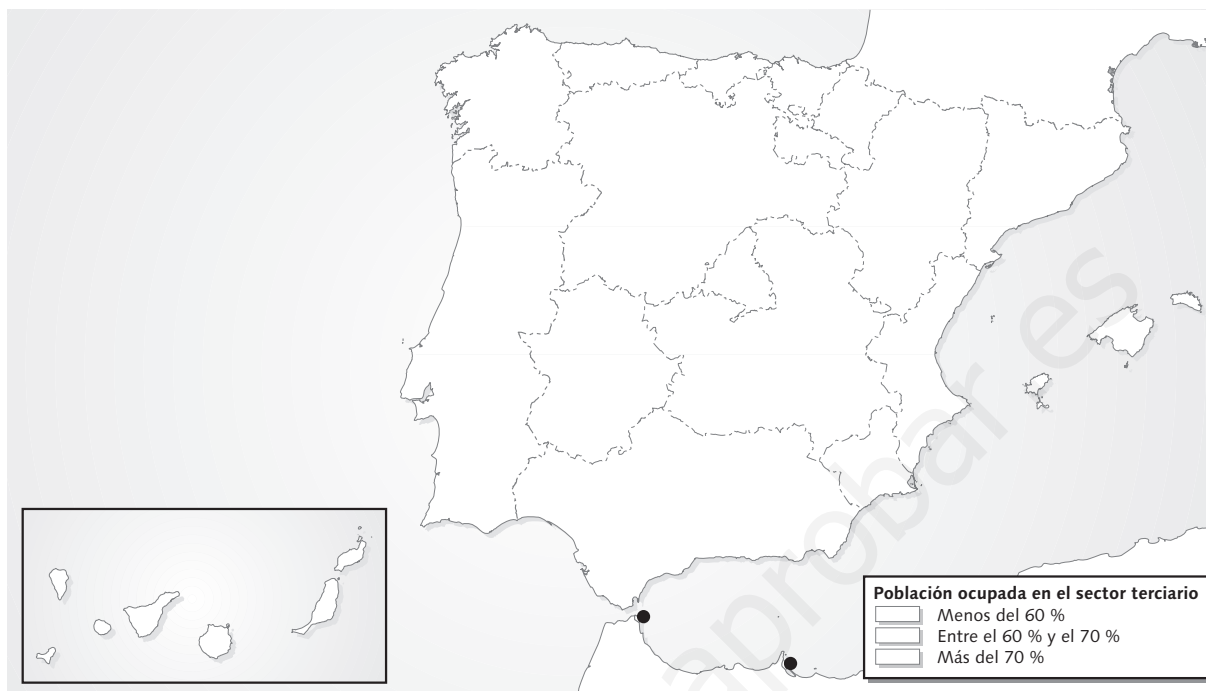
- ¿Qué comunidades tienen densidades de población superiores a 100 hab/km²?

- ¿Qué comunidades tienen densidades de población inferiores a 50 hab/km²?

- ¿Qué comunidades tienen un crecimiento natural positivo?

- ¿Qué comunidades tienen un crecimiento natural negativo?

77. La economía de las comunidades autónomas



Actividades

1 Consulta los datos proporcionados en la unidad y completa el cuadro.

POBLACIÓN OCUPADA POR SECTORES DE ACTIVIDAD							
Comunidad o ciudad autónoma	Sector primario (%)	Sector secundario (%)	Sector terciario (%)	Comunidad o ciudad autónoma	Sector primario (%)	Sector secundario (%)	Sector terciario (%)
Andalucía				Comunitat Valenciana			
Aragón				Extremadura			
Canarias				Galicia			
Cantabria				Illes Balears			
Castilla-La Mancha				La Rioja			
Castilla y León				País Vasco			
Cataluña				P. de Asturias			
Comunidad de Madrid				R. de Murcia			
Comunidad Foral de Navarra				Ceuta y Melilla			

2 Asigna un color a cada intervalo de la leyenda y colorea en el mapa cada comunidad autónoma según el color que le corresponda.

3 Escribe en el cuadro una «P» junto al nombre de la comunidad con mayor porcentaje de población ocupada en el sector primario, una «S» junto al de mayor porcentaje de población ocupada en el sector secundario y una «T» junto al de mayor porcentaje de población ocupada en el sector terciario.

78. Identifico mi comunidad



Actividades

- 1** Localiza tu comunidad autónoma en el mapa, ponle el nombre y píntala de color verde.
- 2** Escribe el nombre de cada una de las provincias que componen tu comunidad autónoma.
- 3** Colorea las comunidades autónomas que limitan con la tuya, cada una con un color diferente, y escribe sus nombres en el mapa.
- 4** ¿Cuál de todas las comunidades que has coloreado es la más grande? ¿Y la más pequeña?
- 5** ¿Cuál de ellas tiene más provincias?
¿Cuál tiene menos?
- 6** Escribe las tres características que crees que mejor definen a tu comunidad.