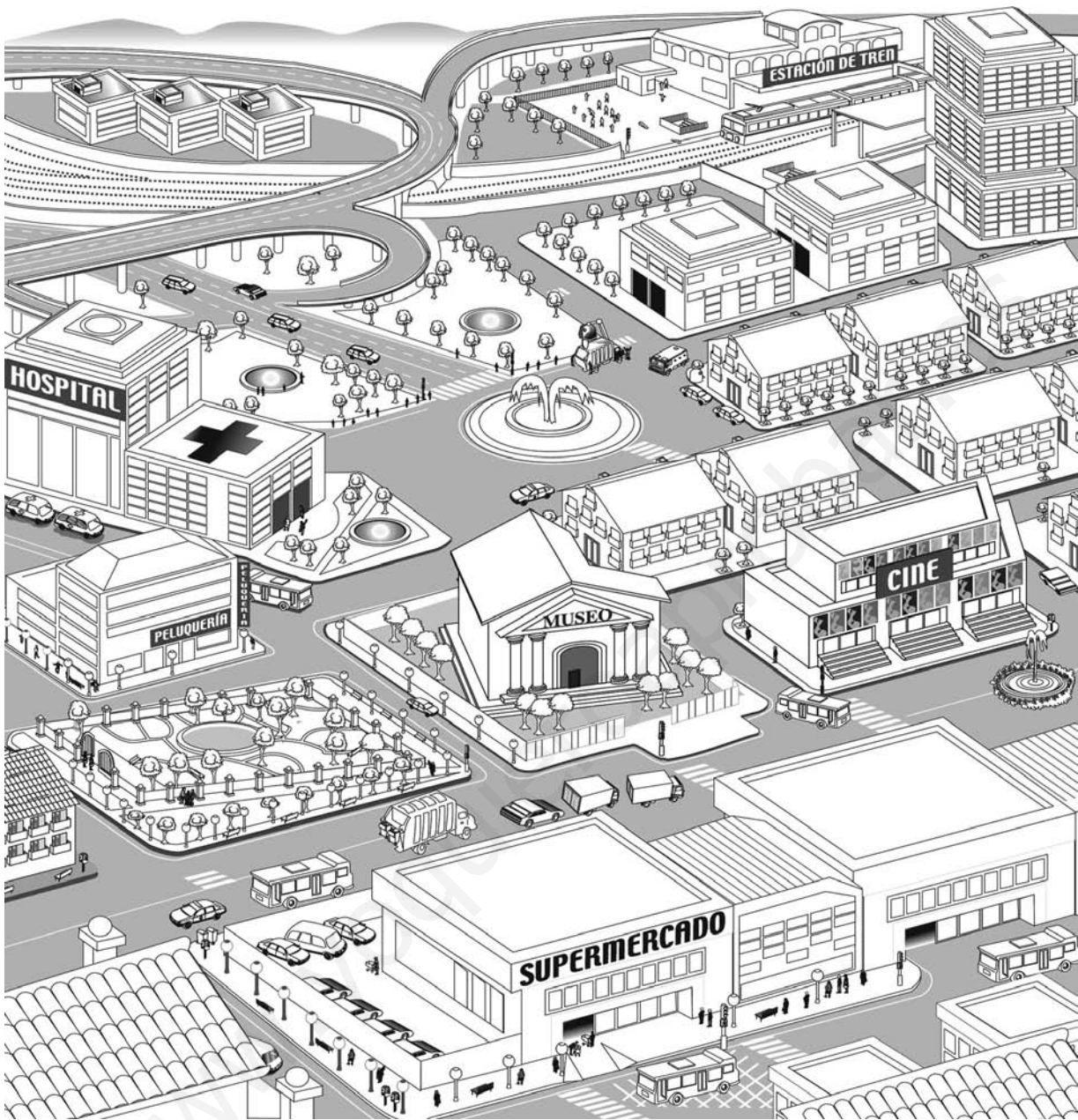


56. El sector servicios



Actividades

- 1 Enumera los lugares, actividades o personajes que aparecen en la ilustración y que tengan relación con el sector terciario, indicando la clasificación de la actividad y la función de los servicios representados.


57. Hacerse a la mar

En la actualidad existen distintos tipos de embarcaciones cuyas características se adecuan al tipo de transporte que tienen que realizar. Estos son algunos de ellos:



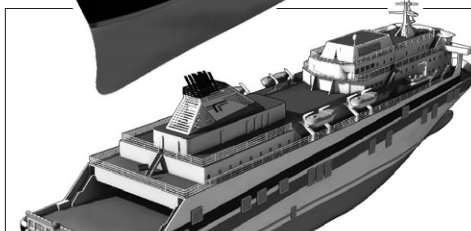
Petroleros

Estos barcos, de grandes dimensiones, se encargan de transportar el petróleo. Su tamaño no les permite atracar en cualquier puerto. Por ello, en ocasiones tienen que descargar el crudo en las inmediaciones del puerto, a través de tuberías submarinas.



Cargueros

Se trata de embarcaciones que transportan productos muy diversos (madera, minerales, automóviles, maquinaria, cereales, etc.) en contenedores o en sus bodegas. La carga debe distribuirse de forma homogénea para evitar que el barco se desestabilice.




Transbordadores

Por lo general, trasladan pasajeros y vehículos entre un punto del continente y una isla o entre dos continentes. Suelen realizar trayectos diarios y su frecuencia depende de la proximidad, la demanda y la relación económica que exista entre los puntos geográficos que conectan.



Trasatlánticos

Estos buques realizan cruceros y viajes de recreo por el mar. Poseen un gran número de camarotes para alojar a los pasajeros y ofrecen diversos servicios (piscina, restaurantes, biblioteca, tiendas, discotecas...) que hacen más agradable el viaje.



Yates

Son embarcaciones que funcionan a motor y/o vela, destinadas al simple disfrute de la navegación o a la práctica deportiva (vela). Su tamaño (desde 2 m hasta más de 12 m de longitud) y equipamiento varían mucho en función del tipo de yate.

Actividades

- 1** De las embarcaciones mencionadas, ¿cuáles son utilizadas para el transporte de mercancías y cuáles para el de pasajeros?
- 2** Indica qué tipo de barco emplearías para:
 - Trasladar un cargamento de limones desde Murcia hasta Venecia.
 - Trasladarte semanalmente de Dover (Reino Unido) a Calais (Francia).
 - Realizar un crucero por el Mediterráneo.
 - Viajar desde Bilbao hasta Nueva York.

58. El transporte marítimo



Actividades

- 1** Con ayuda de un atlas, sitúa los siguientes puertos: Nueva York, Londres, Rotterdam, Le Havre, Génova, Marsella, Singapur y Kove.
- 2** Con ayuda de un atlas, localiza en el mapa los canales de Panamá y de Suez y busca información sobre los mismos: características, fecha de construcción, ventajas que suponen para la navegación marítima, etcétera.
- 3** ¿Qué ventajas e inconvenientes presenta el transporte marítimo?
- 4** ¿Para qué mercancías resulta más conveniente este tipo de transporte?
- 5** ¿Qué rutas poseen mayor volumen de tráfico marítimo?

59. El turismo



Actividades

1 Colorea en el mapa los países que aparecen en el cuadro inferior. Consulta el mapa *Los desplazamientos turísticos del mundo* de tu libro de texto e indica el número de turistas que recibe cada país (más de 40 millones, entre 40 y 20 millones, entre 20 y 1 millón y menos de 1 millón). Busca información y averigua qué atractivos turísticos poseen estos países.

País	N.º de turistas	Atractivos turísticos
Estados Unidos		
Brasil		
Francia		
Italia		
Egipto		
Kenia		
China		
India		
Australia		

2 Con ayuda de un atlas, sitúa en el mapa el nombre de los siguientes lugares: Puerto Rico, Roma, Praga, cataratas Victoria, Estambul, Seychelles y Nepal. Busca información e indica qué clase de turismo podrías practicar en cada uno de ellos.