

UN TEXTO SOBRE PROBLEMAS DEMOGRÁFICOS ESPAÑOLES

NOMBRE: _____ CURSO: _____ FECHA: _____



A partir del análisis de la siguiente noticia, puedes estudiar la caída de la natalidad, el descenso poblacional, el problema del envejecimiento y el aumento de la inmigración que se está produciendo en los países desarrollados, en este caso en España.

ANTE LA FALTA DE NACIMIENTOS, EL AUMENTO DE LA POBLACIÓN VENDRÁ DE LA INMIGRACIÓN

A pesar de que en 2001 se constató un incremento en el número de nacimientos, también se produjo un envejecimiento de la población.

«La Comunidad Autónoma Vasca está todavía “lejos” del crecimiento vegetativo de signo positivo, por lo que su aumento poblacional vendrá dado por la inmigración, según señaló ayer en Bilbao el viceconsejero de Economía, Presupuestos y Control Económico, Manu Urquijo.

Según indicó, “a pesar de que el último dato disponible, referido a 2001, señala un incremento en el número de nacimientos, se produce, al mismo tiempo, un paulatino envejecimiento de la población y estamos todavía lejos de poder hablar

de un crecimiento vegetativo positivo, por lo que en un futuro próximo el incremento poblacional vendrá de los movimientos migratorios”.

En esa misma línea, el director general del EUSTAT, Josu Iradi, manifestó que, aunque las tasas de natalidad “se están recuperando” con pequeños crecimientos en el número de nacimientos, las tasas de mortalidad también se están incrementando, por efecto del propio envejecimiento de la población, por lo que el crecimiento vegetativo [...] “no será positivo en varios años y el crecimiento de la población vendrá dado por la inmigración”. Iradi añadió que, en 2000, este saldo migratorio fue positivo por primera vez desde hace 25 años y que las mayores tasas de foráneos corresponden en este momento a ciudadanos sudamericanos, procedentes de países como Ecuador, Perú o Colombia.»

Deia, 14 de marzo de 2003

RESUELVE

Lee atentamente la noticia y realiza las actividades.

- 1 Explica el significado de los conceptos que aparecen subrayados en el texto.
- 2 Señala si las siguientes frases son verdaderas (V) o falsas (F) y convierte las afirmaciones falsas en verdaderas.

	V	F
La población vasca está creciendo.		
Han aumentado los nacimientos, pero también muere más gente.		
Ha habido más emigración que inmigración.		
El mayor número de inmigrantes son iberoamericanos.		

- 3 Imagina que tienes que contarle la noticia a un compañero. Escríbela con tus propias palabras, para que sea más fácil de comprender.
- 4 Responde brevemente en tu cuaderno a las siguientes preguntas:
 - ¿Cuáles son las principales ideas que recoge el texto?
 - ¿Puedes relacionar estas ideas con alguna corriente demográfica actual? ¿Con cuál?

FUENTES DEMOGRÁFICAS: EL ESTUDIO DE LA FAMILIA

NOMBRE: _____ CURSO: _____ FECHA: _____



En esta ficha te proponemos que hagas una breve reconstrucción de tus raíces genealógicas deteniéndote en algunos rasgos de tus antecesores, de tal forma que puedas establecer ciertas conclusiones acerca de la evolución experimentada por tu familia en las últimas generaciones.

RESUELVE

1 Completa cada uno de los recuadros con la información correspondiente.

Abuelo paterno	Abuela paterna	Abuelo materno	Abuela materna
Lugar de nacimiento: _____	Lugar de nacimiento: _____	Lugar de nacimiento: _____	Lugar de nacimiento: _____
Fecha de nacimiento: _____	Fecha de nacimiento: _____	Fecha de nacimiento: _____	Fecha de nacimiento: _____
N.º de hermanos: _____	N.º de hermanos: _____	N.º de hermanos: _____	N.º de hermanos: _____
Estudios: _____	Estudios: _____	Estudios: _____	Estudios: _____
Profesión: _____	Profesión: _____	Profesión: _____	Profesión: _____

Padre	Madre
Lugar de nacimiento: _____	Lugar de nacimiento: _____
Fecha de nacimiento: _____	Fecha de nacimiento: _____
N.º de hermanos: _____	N.º de hermanos: _____
Estudios: _____	Estudios: _____
Profesión: _____	Profesión: _____

Yo
Lugar de nacimiento: _____
Fecha de nacimiento: _____
N.º de hermanos: _____
Estudios: _____

2 Observa cuidadosamente el resultado y elabora un informe sobre tu familia teniendo en cuenta los diferentes aspectos que has estudiado en este tema. Puedes ampliarlo hasta tus bisabuelos.

LA TASA DE FECUNDIDAD EN ESPAÑA

NOMBRE: _____ CURSO: _____ FECHA: _____



Esta ficha tiene como objetivo trabajar con la tasa de fecundidad general en las distintas Comunidades Autónomas españolas.

TASA DE FECUNDIDAD GENERAL (T.F.G.)

El concepto de fecundidad pone en relación el número de nacidos con la posibilidad concreta de procreación. Para medir este concepto existen varias tasas, entre las cuales está la tasa de fecundidad general (T.F.G.).

La **tasa de fecundidad general** expresa la relación de nacidos por cada 1.000 mujeres en edad de procrear (esa edad está establecida entre los 15 y los 49 años).

La fórmula es la siguiente:

$$\text{T.F.G.} = \frac{\text{Número de nacidos}}{\text{Número de mujeres entre 15 y 49 años}} \times 1.000$$

RESUELVE

- 1 A partir de los datos siguientes, calcula la T.F.G. por Comunidades y Ciudades Autónomas en España en 1999.

	N.º de nacidos	N.º de mujeres entre 15 y 49 años	T.F.G.
Andalucía	78.768	1.901.307	
Aragón	9.568	281.739	
P. de Asturias	6.547	269.170	
Islas Baleares	8.848	189.896	
Canarias	18.790	442.068	
Cantabria	4.021	137.013	
Castilla y León	17.328	601.675	
Castilla-La Mancha	16.756	414.030	
Cataluña	59.616	1.544.589	
C. Valenciana	38.764	1.030.649	
Extremadura	10.070	264.177	
Galicia	18.784	681.785	
C. de Madrid	51.981	1.343.046	
R. de Murcia	13.099	290.170	
C. F. de Navarra	5.122	135.098	
País Vasco	16.791	539.714	
La Rioja	2.275	64.350	
Ceuta	1.020	17.120	
Melilla	1.036	17.641	

LA POBLACIÓN EN ALEMANIA

NOMBRE: _____ CURSO: _____ FECHA: _____

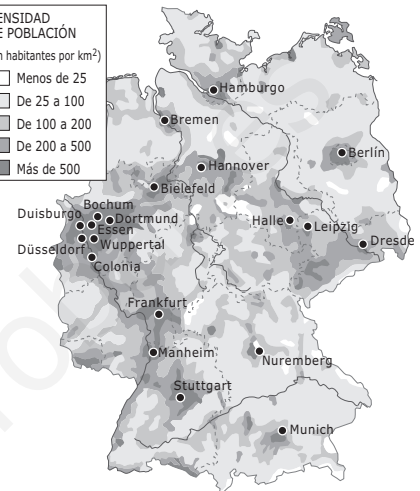
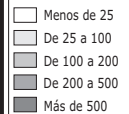


En esta ficha te proponemos aprender a manejar información demográfica para analizar los principales datos de población de un caso específico, concretamente el de Alemania.

DATOS SOBRE ALEMANIA

Situación	Situada en Centroeuropa, limita: al N, con el mar del Norte, Dinamarca y el mar Báltico; al E, con Polonia, la República Checa y Austria; al S, con Austria y Suiza; y al O, con Francia, Luxemburgo, Bélgica y los Países Bajos.
Población total	82.100.000 hab.
Superficie	350.261 km ²
PIB por habitante	26.600 dólares
Población activa por sectores	Agricultura, 2,8 %; industria, 33,4 %; servicios, 63,8 %
Población rural/urbana	86 % urbana y 14 % rural

DENSIDAD DE POBLACIÓN
(En habitantes por km²)



RESUELVE

- 1 Con los datos de esta ficha y los que encuentres en <http://www.census.gov/ipc/www/idbsum.html>, completa la siguiente ficha sobre la población de Alemania.

Población total:	Crecimiento vegetativo:
Densidad:	Mortalidad infantil:
Tasa de natalidad:	Esperanza de vida:
Tasa de mortalidad:	Fecundidad:

- 2 Anota en tu cuaderno.

- Cómo es la estructura de la población por sectores de la actividad económica.
- Cómo es la estructura de la población por sexo y edad. Puedes consultar www.census.gov/cgi-bin/ipc/idbsum?cty=GM

- 3 Haz las actividades.

- Indica qué porcentaje de la población es rural y cuál es urbana.
- Observa el mapa y señala cuáles son las zonas más pobladas.
- Enumera las principales ciudades.

- 4 Consulta www.census.gov/cgi-bin/ipc/idbsum?cty=GM y haz las actividades.

- Analiza cómo ha cambiado la población alemana desde 1950.
- Valora cómo evolucionará en el futuro.

LA INMIGRACIÓN EN EL CINE ESPAÑOL

NOMBRE: _____ CURSO: _____ FECHA: _____




Desde su entrada en la Unión Europea en el año 1986, España se ha convertido en un país receptor de inmigrantes, en su mayoría procedentes de países subdesarrollados. En la actualidad, muchos de estos inmigrantes se encuentran en una situación ilegal y se han convertido en lo que denominamos «sin papeles».

LA INMIGRACIÓN EN EL CINE ESPAÑOL

La inmigración es un tema que no se ha llevado al cine español hasta bien entrados los años ochenta del siglo pasado, cuando España empezó a convertirse en un país de inmigrantes. Anteriormente, muchas películas trataban el tema de la emigración y el exilio, que es lo que estaba viviendo la sociedad española por entonces.

- **Las cartas de Alou, dirigida por Montxo Armendáriz (1990)**

El protagonista es un joven senegalés de raza negra que llega a España de forma ilegal en busca de trabajo. Alou escribe cartas a su familia en las que cuenta sus incidencias: le roban sus pertenencias, trabaja como vendedor ambulante, se enamora de una mujer española pese a los problemas raciales que muestra el padre de ella, etc. Mientras legaliza su situación, la policía lo expulsa y él reinicia el camino de vuelta.



- **Flores de otro mundo, dirigida por Icíar Bollain (1999)**

Patricia, dominicana, busca un hogar y una seguridad económica que su situación ilegal en Madrid no le permiten alcanzar. Milady, nacida en La Habana, tiene 20 años y el mundo por recorrer. Marirrosi, de Bilbao, tiene trabajo, casa y la más completa soledad. Como la soledad que comparten Alfonso, Damián y Carmelo, hombres de Santa Eulalia, un pueblo sin mujeres casaderas ni futuro. Una fiesta de solteros fuerza el encuentro de unas con otros y el inicio de esta historia agrídulce de convivencias a veces imposibles.

- **Cosas que dejé en La Habana, dirigida por Manuel Gutiérrez Aragón (1997)**

La película narra la vida de tres hermanas cubanas que llegan a Madrid buscando un futuro mejor. Su tía, que reside en España, las guía en la nueva vida social que se abre ante ellas.



RESUELVE

1 Trata de ver alguna de las películas que te hemos propuesto y haz las actividades.

- Resume la historia. Explica qué aspectos de la película y de la forma en que está contada te han llamado más la atención.
- ¿Por qué crees que últimamente en España se están realizando películas con esta temática?
- Si tuvieras que hacer una película sobre la inmigración, ¿qué argumento elegirías? ¿Por qué?

LA POBLACIÓN EN INTERNET

NOMBRE: _____ CURSO: _____ FECHA: _____



En esta ficha, se muestran varias direcciones correspondientes a las principales organizaciones que puedes consultar en Internet para obtener información demográfica veraz, tanto de carácter estadístico como de análisis sobre la población mundial, por regiones y países.

DIRECCIONES INTERNACIONALES

- **Alto Comisionado de las Naciones Unidas para los Refugiados (ACNUR):** <http://www.acnur.org>
- **Banco Mundial:** <http://www.bancomundial.org>
- **Fondo de Población de las Naciones Unidas (FNUAP):** <http://www.unfpa.org>
- **Institut National d'Études Demographiques (INED):** <http://www.ined.fr>
- **ORC Macro El Programa de Encuestas de Demografía y Salud (DHS):** <http://www.measuredhs.com>
- **Organización Internacional para las Migraciones (OIM):** <http://www.iom.int>
- **Population Council:** <http://www.popcouncil.org>
y <http://www.popcouncil.org/espanol/espanol.html>
- **Population Information Program (PIP):** <http://www.jhuccp.org/popline/>
- **Statistics Canada:** <http://www.statcan.ca>
- **United Nations Population Division:** <http://www.un.org/popin/>
- **United Nations Statistics Division:** <http://www.un.org/Depts/unsd/statdiv.htm>
- **U.S. Census Bureau:** <http://www.census.gov/ipc/www/>

DIRECCIONES NACIONALES

- **Instituto Nacional de Estadística (INE):** <http://www.ine.es>
- **Instituto Nacional de Estadística (INE). Censo de España del año 2001:** <http://www.ine.es/censo2001/pob-cen01menu.htm>
- **Instituto de Estadística de Andalucía (IEA):** <http://www.juntadeandalucia.es/institutodeestadistica>
- **Instituto Aragonés de Estadística:** <http://www.portal.aragob.es/>
- **Institut Balear d'Estadística (IBAE):** <http://www.caib.es/ibae/ibae.htm>
- **Sociedad Asturiana de Estudios Económicos e Industriales (SADEI):** <http://www.sadei.es/>
- **Instituto Canario de Estadística (ISTAC):** <http://www.gobiernodecanarias.org/istac/>
- **Junta de Castilla y León. Consejería de Hacienda:** <http://www.jcyl.es/jcyl-client/jcyl/ch/dge/temas/inicio>
- **Institut d'Estadística de Catalunya (IDESCAT):** <http://www.idescat.es/>
- **Instituto de Estadística de la Comunidad de Madrid:** <http://www.madrid.org/iestadis/>
- **Junta de Extremadura. Consejería de Economía, Industria y Comercio:**
<http://www.juntaex.es/consejerias/eic/home.html>
- **Instituto Galego de Estatística (IGE):** <http://www.ige.xunta.es/>
- **Centro Regional de Estadística de Murcia:** <http://www.carm.es/econet/>
- **Instituto de Estadística de Navarra:** <http://www.cfnavarra.es/estadistica/>
- **Institut Valencià d'Estadística (IVE):** <http://www.ive.es/>
- **Instituto Vasco de Estadística (EUSTAT):** <http://www.eustat.es/>
- **Gobierno de La Rioja. Consejería de Hacienda y Economía:**
<http://www.larioja.org/web/centrales/economia/estadisticas.htm>