

# 9 La economía española

## 1 El sector primario en España

### 1.1 Características de la actividad agraria

La **agricultura** española es una agricultura moderna orientada a la venta en el mercado, donde cada región se especializa en los cultivos más aptos y rentables.

La **ganadería** tiende a las explotaciones estabuladas, donde el ganado es de razas seleccionadas y se alimenta con piensos. La ganadería bovina proporciona carne y leche; la ovina, carne y leche para la elaboración de quesos; la porcina, carne y embutidos; y la avícola, carne y huevos.

La **explotación forestal** es limitada. Proporciona madera, celulosa, resina y corcho.

### 1.2 Los paisajes agrarios

- **Paisaje agrario oceánico.** Se localiza en el norte y noroeste peninsular. Se caracteriza por parcelas pequeñas y cerradas por setos, y poblamiento disperso. La principal actividad es la ganadería vacuna. La agricultura se limita al fondo de los valles, y se especializa en cultivos de huerta (patatas, hortalizas, alubias) y plantas forrajeras.
- **Paisaje agrario mediterráneo.** Se localiza en la Península al sur del paisaje oceánico, y en las islas Baleares, en Ceuta y en Melilla. En él se diferencian dos paisajes:
  - a) El **paisaje agrario del interior** presenta parcelas grandes y poblamiento concentrado. La agricultura de secano cultiva cereales, vid y olivo; y la de regadío, forrajes y plantas industriales (remolacha azucarera, lúpulo y tabaco). La ganadería tradicional es ovina y porcina.
  - b) El **paisaje agrario del litoral** presenta parcelas pequeñas y poblamiento disperso. La agricultura predominante es de regadío, y cultiva productos de huerta bajo plástico, frutales y frutos tropicales. La ganadería tiene menos importancia.
- **Paisaje agrario de Canarias.** Es contrastado. En la costa predominan grandes explotaciones de monocultivo para la exportación (plátano, tomate, patata temprana), cultivos bajo plástico (pepino, pimiento, flores), y frutos tropicales (papaya, aguacate). En el interior dominan las pequeñas explotaciones que cultivan vid, papas y trigo. La ganadería es escasa.

### 1.3 Los paisajes agrarios

España ha sido tradicionalmente una gran potencia pesquera, aunque el medio físico era poco favorable por su reducida plataforma continental. En nuestros días, la actividad pesquera sigue siendo importante, tanto por el tamaño de la flota como por el volumen de capturas y el valor de la pesca desembarcada, aunque no tanto como en el pasado.



▶ Paisaje oceánico.



▶ Paisaje del interior mediterráneo.



▶ Paisaje del litoral mediterráneo.



▶ Paisaje canario.

## Tareas para progresar

### ▼ Usar el vocabulario

1 Cita tres características de la actividad agraria en España, una de cada subsector.

.....

.....

.....

.....

### ▼ Comprender textos e informaciones

2 A partir de la información del texto, escribe una relación de productos obtenidos de la agricultura, la ganadería y la explotación forestal.

.....

.....

.....

.....

.....

.....

### ▼ Relacionar informaciones

3 Relaciona cada paisaje agrario con su localización geográfica: a) centro y sur de España, islas Baleares, Ceuta y Melilla; b) islas Canarias; c) norte y noroeste peninsular.

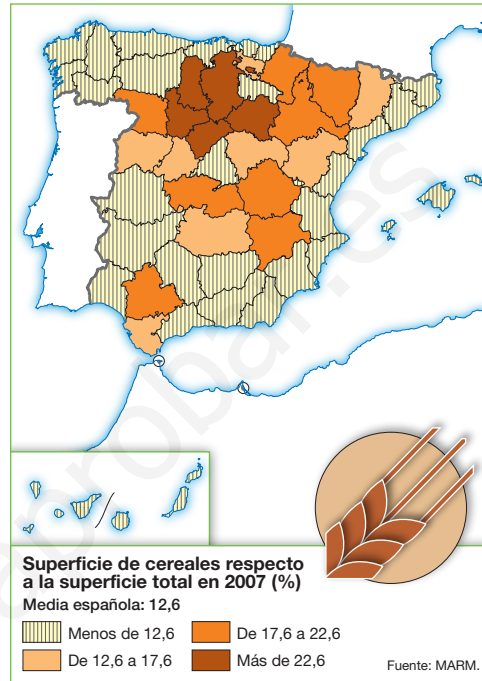
OCEÁNICO	MEDITERRÁNEO	CANARIO

4 Relaciona conceptos.

- |                      |                          |
|----------------------|--------------------------|
| a) Ganadería bovina  | 1) Carne y leche         |
| b) Ganadería ovina   | 2) Carne y embutidos     |
| c) Ganadería avícola | 3) Carne, leche y quesos |
| d) Ganadería porcina | 4) Carne y huevos        |
- .....

### ▼ Obtener y localizar información

5 Con la ayuda del siguiente mapa, nombra las provincias españolas que cuentan con una superficie destinada a cereales superior al 22%.



.....

.....

### ▼ Organizar la información

6 Completa el siguiente cuadro resumen.

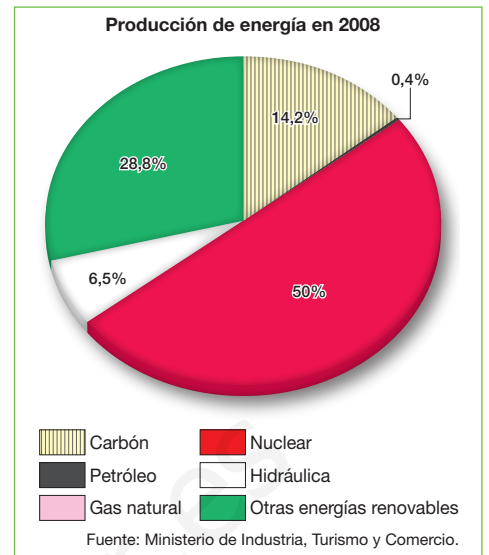
CARACTERÍSTICAS DEL PAISAJE AGRARIO DEL INTERIOR	CARACTERÍSTICAS DEL PAISAJE AGRARIO DEL LITORAL
- LOCALIZACIÓN	- LOCALIZACIÓN
- PARCELAS	- PARCELAS
- CULTIVOS	- CULTIVOS

# 2 La industria española

## 2.1 Caracteres generales

Las **materias primas minerales** tuvieron importancia en el pasado. En la actualidad se extraen minerales no metálicos (caolín o sal); rocas industriales (caliza, granito o arcilla;) y combustibles energéticos (carbón). No obstante, España importa grandes cantidades de minerales, ya que muchos yacimientos están agotados o su explotación resulta cara.

Las **fuentes de energía** tradicionales más utilizadas son el petróleo, que ocupa el primer lugar en el consumo, el gas natural, el carbón, la energía nuclear y la energía hidráulica. Todas ellas, excepto la hidroeléctrica, requieren costosas importaciones. Las fuentes de energía alternativas tienen un peso insuficiente, aunque crecen la eólica y la de biomasa.



## 2.2 Los sectores industriales

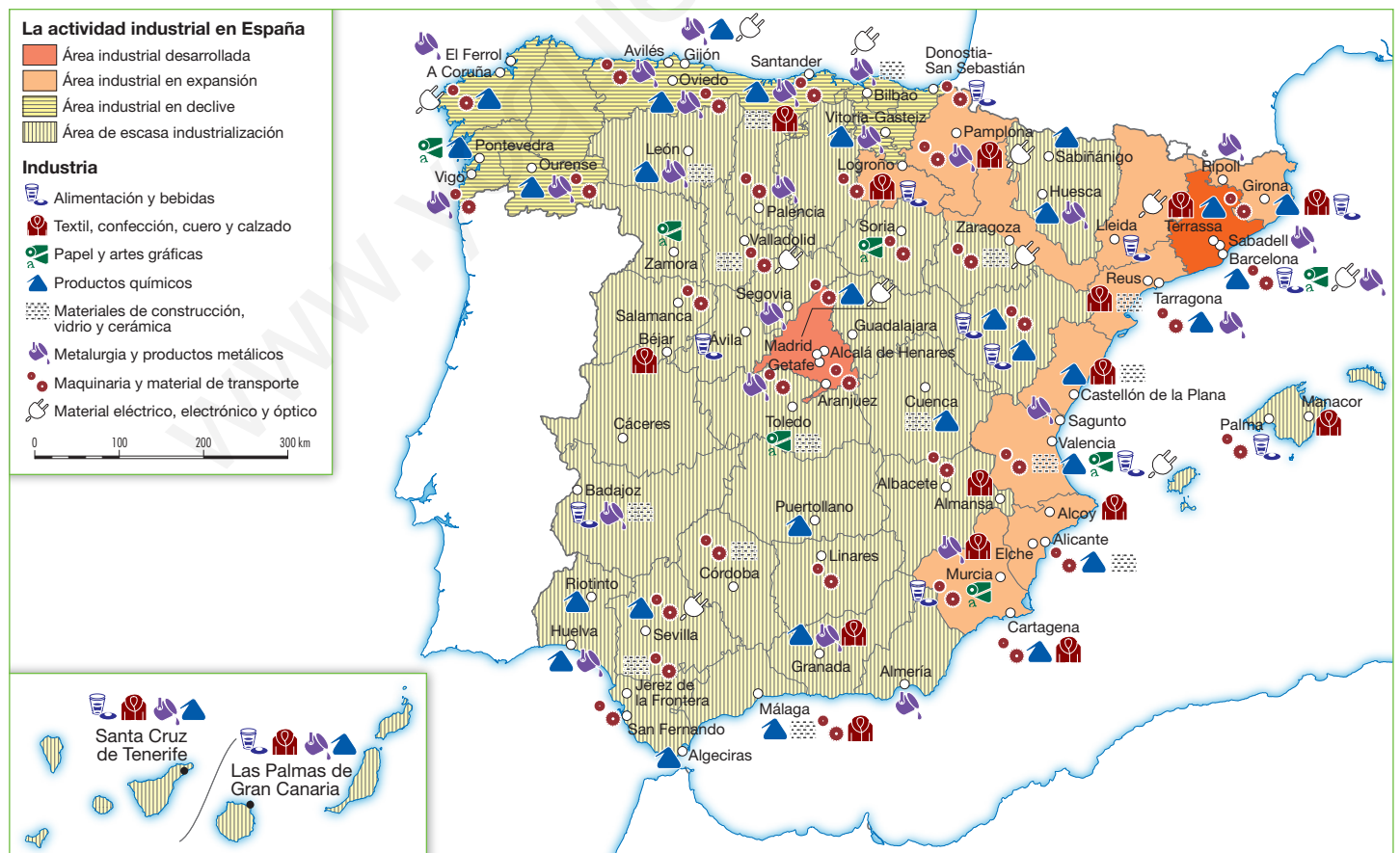
Los **sectores tradicionales** más destacados son la siderurgia, los transformados metálicos, los electrodomésticos de línea blanca, la construcción naval, y las industrias textil, del cuero y calzado y del mueble.

Los **sectores dinámicos** están representados por las industrias del automóvil, química, agroalimentaria y de la construcción.

Los **sectores de alta tecnología**, como la industria aeroespacial o la biotecnología, se han implantado con retraso y se localizan en parques tecnológicos.



Las industrias de nuevas tecnologías están instaladas, en general, en Madrid y en Barcelona.





## Tareas para progresar

### ▼ Usar el vocabulario

**7** Nombra los minerales que se extraen actualmente en España.

.....

.....

.....

**8** Cita sectores industriales tradicionales.

.....

.....

.....

### ▼ Relacionar informaciones

**9** Relaciona cada industria con su sector: a) construcción; b) biotecnología; c) agroalimentaria; d) automóvil; e) mueble; f) siderurgia; g) aeroespacial; h) naval.

TRADICIONALES	DINÁMICOS	ALTA TECNOLOGÍA

**10** Escribe si las frases siguientes son verdaderas (V) o falsas (F).

- a) España, antiguamente, contaba con una gran cantidad de materias primas.
- b) Los yacimientos minerales en España cuentan con grandes reservas.
- c) La industria española exporta gran cantidad de minerales.
- d) El consumo energético español se basa en fuentes de energía tradicionales.
- e) Las fuentes de energía alternativas tienen un peso insuficiente.

### ▼ Localizar información en el espacio

**11** Estudia el mapa de la página anterior. Después, escribe:

a) Dos provincias de las áreas industriales desarrolladas:

.....

b) Tres provincias de las áreas industriales en expansión:

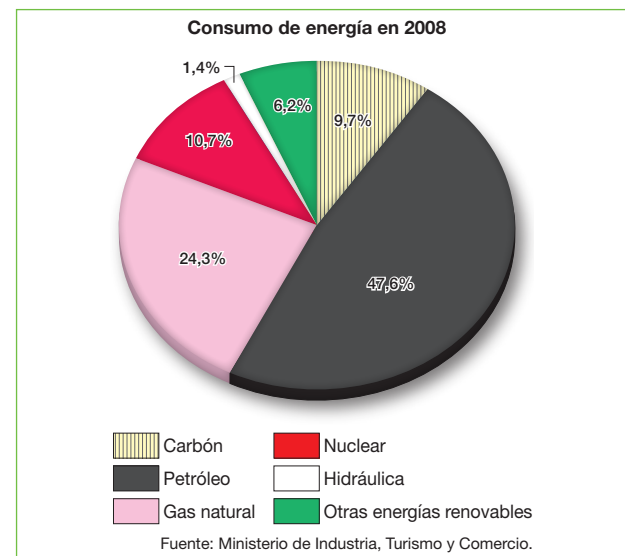
.....

c) Cuatro provincias de las áreas industriales en declive:

.....

### ▼ Comprender información gráfica

**12** Compara el siguiente gráfico con el de la página anterior. A continuación, di qué fuente de energía es la que más se produce en España, y cuál es la que más consume.



.....

.....

.....

.....

.....

# 3 El sector terciario en España

## 3.1 El comercio

El **comercio interior** predominante en España es el pequeño comercio tradicional. Este sufre la competencia de las grandes superficies comerciales.

El **comercio exterior** se realiza, sobre todo, con otros países de la Unión Europea; le siguen Estados Unidos, Japón o China. Se importan bienes de equipo y productos energéticos, y se exportan bienes de equipo, automóviles y alimentos. La balanza comercial es deficitaria.

## 3.2 El transporte

El **transporte terrestre** de pasajeros y mercancías usa, sobre todo, la carretera y, en menor medida, el ferrocarril para distancias medias y cortas, aunque el AVE está en expansión.

El **transporte naval** se utiliza para el tráfico internacional de mercancías pesadas. Se concentra en los puertos de Algeciras, Barcelona y Valencia.

El **transporte aéreo** predomina para el tráfico internacional de pasajeros. Los aeropuertos principales son los de Madrid, Barcelona y Palma de Mallorca.



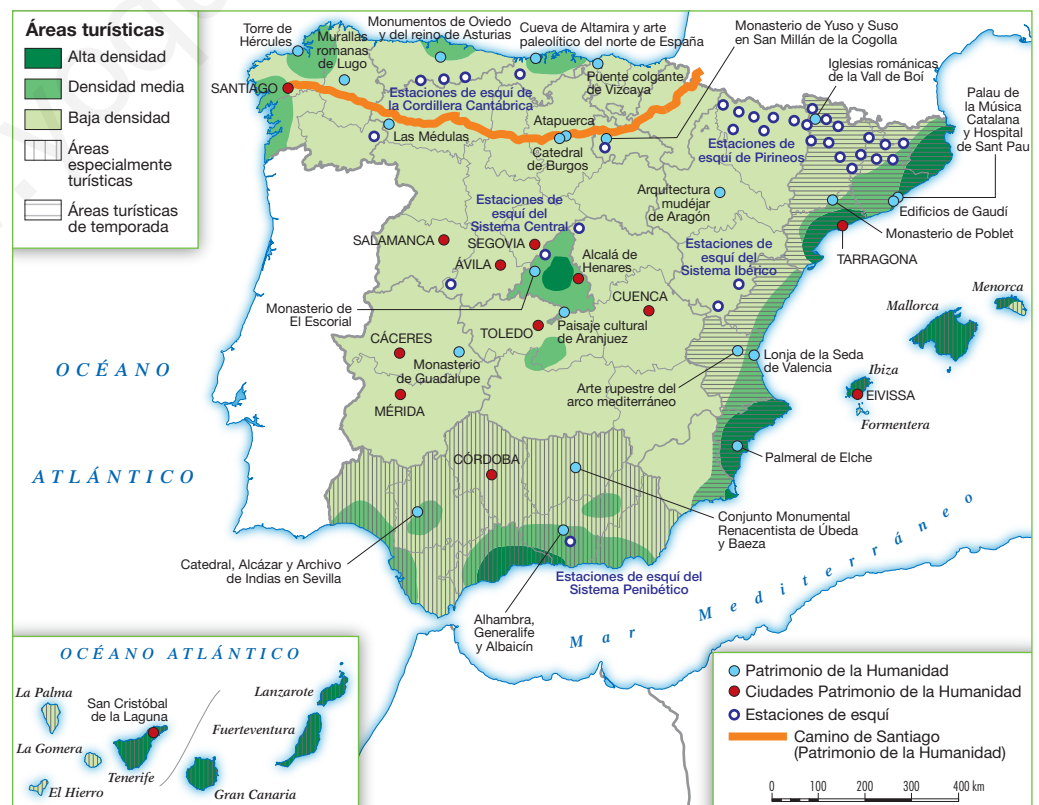
▶ Arriba, turismo de sol y playa; abajo, turismo cultural.

## 3.3 El turismo y sus modalidades

España es, junto a Francia y Estados Unidos, una de las principales potencias turísticas mundiales por la llegada de turistas y por los ingresos.

El **turismo de sol y playa** es el tipo de turismo principal. Se concentra en el litoral mediterráneo peninsular y en las islas Baleares y en las Canarias. Otros tipos de turismo en auge son el de montaña, el ecológico, el rural, el cultural y el de negocios.

La **demand**a extranjera es europea (especialmente, alemana, británica y francesa) y se concentra en el verano. La demanda nacional procede de Madrid, Cataluña y Andalucía, y se reparte mejor a lo largo del año.



# Tareas para progresar

## ▼ Comprender textos e informaciones

**13** Después de leer el texto explicativo, contesta a estas preguntas.

a) ¿Con qué zona exterior y países comercia España?

.....

.....

b) ¿Para qué se utiliza el transporte naval?

.....

.....

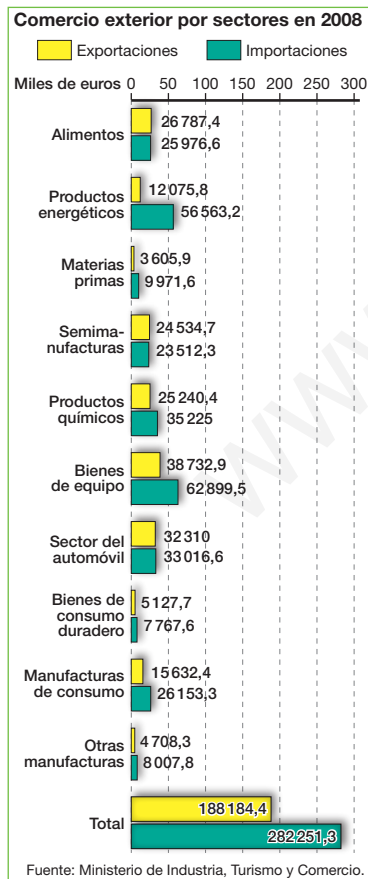
c) ¿De dónde proceden los turistas extranjeros?

.....

.....

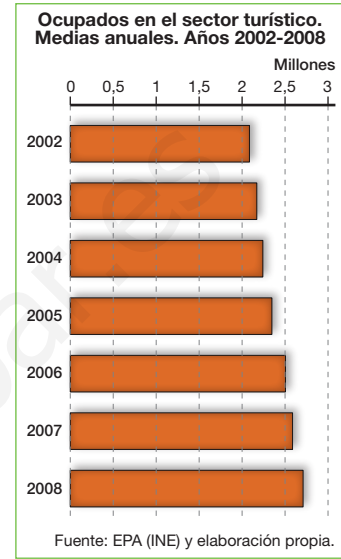
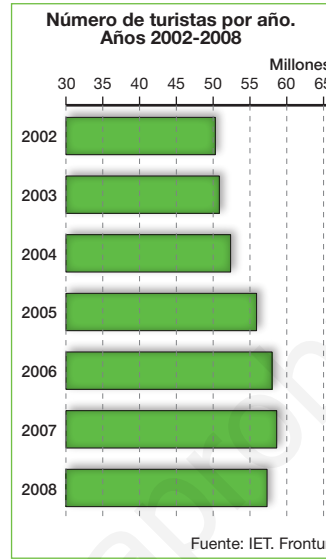
## ▼ Comprender información gráfica

**14** Analiza la siguiente gráfica y di qué productos exporta e importa en mayor cantidad España.



## ▼ Producir textos

**15** A partir de la información del texto y de los siguientes datos, redacta un texto explicando la importancia económica del turismo en España.



.....

.....

.....

.....

## ▼ Relacionar informaciones

**16** Relaciona el tipo de turismo con un lugar.

- |                           |                         |
|---------------------------|-------------------------|
| a) Turismo de sol y playa | 1) Espacios naturales   |
| b) Turismo de montaña     | 2) Estaciones de esquí  |
| c) Turismo ecológico      | 3) Madrid               |
| d) Turismo cultural       | 4) Litoral mediterráneo |

.....

**17** Escribe si las frases siguientes son verdaderas (V) o falsas (F).

- a) El pequeño comercio tradicional compite con las grandes superficies comerciales.
- b) El saldo comercial con el exterior tiene superávit, pues ingresamos más de lo que gastamos.
- c) España realiza intercambios comerciales solo con Estados Unidos.