

Nome: _____

Data: ___/___/___

COMPLETE A SEQUÊNCIA NUMÉRICA:

701				705					710
	712				716				
			724		727				730
		733						739	
741				745		747			
	752							759	
				765					
	771						778		
			784					789	
791					796				800

Nome: _____

Data: ___/___/___

COMPLETE A SEQUÊNCIA NUMÉRICA:

801						807			810
	812							819	
						827			
					836				
841									850
			854					859	
		863							
	872						878		
			884					889	
891									900

Nome: _____

Data: __/__/____

COMPLETE A SEQUÊNCIA NUMÉRICA:

901				905					910
	912					917			
921								929	
		933		935					
941					946				950
				955				959	
			964			967			
		973					978		
	982							989	
991									1000

Nome: _____

Data: ___/___/___

COMPLETE A SEQUÊNCIA NUMÉRICA:

601									610
	612				616				
621								629	
				635					
641							648		
				655				659	
			664						
	672						678		
		683							
691				695					700

Resuelve.

101 102 ○ ○ ○ ○ ○ ○

○ ○ ○ ○ ○ ○ ○ ○

290 ○ ○ ○ ○ ○ ○ 298

○ ○ ○ ○ ○ ○ ○ ○

389 ○ ○ ○ ○ ○ ○ 398

142 ○ ○ ○ ○ ○ ○ ○

143 ○ ○ ○ ○ ○ ○ 152

NOMBRE:

FECHA:

Continúa las series.

$325 \rightarrow \square \rightarrow \square \rightarrow 328$

$668 \rightarrow \square \rightarrow \square \rightarrow \square$

$497 \rightarrow \square \rightarrow \square \rightarrow \square$

$889 \rightarrow \square \rightarrow \square \rightarrow \square$

$708 \rightarrow \square \rightarrow \square \rightarrow \square$

$599 \rightarrow \square \rightarrow \square \rightarrow 602$

Descubre la regla que sigue cada serie y completa.

$500 \rightarrow 550 \rightarrow 600 \rightarrow \square \rightarrow \square \rightarrow \square \rightarrow \square \rightarrow \square \rightarrow \square$

$899 \rightarrow 897 \rightarrow 895 \rightarrow \square \rightarrow \square \rightarrow \square \rightarrow \square \rightarrow \square \rightarrow \square$

Calcula y completa.

$388 \xrightarrow{+3} 391 \xrightarrow{-1} \square \xrightarrow{+10} \square \xrightarrow{-2} \square \xrightarrow{+5} \square$

$525 \xrightarrow{+5} \square \xrightarrow{-1} \square \xrightarrow{+3} \square \xrightarrow{-10} \square \xrightarrow{+4} \square$

$799 \xrightarrow{+2} \square \xrightarrow{+9} \square \xrightarrow{-3} \square \xrightarrow{-7} \square \xrightarrow{-5} \square$

Escribe los números anterior y posterior.

$\square \leftarrow 889 \rightarrow \square$

$\square \leftarrow 200 \rightarrow \square$

$\square \leftarrow 760 \rightarrow \square$

$\square \leftarrow 400 \rightarrow \square$

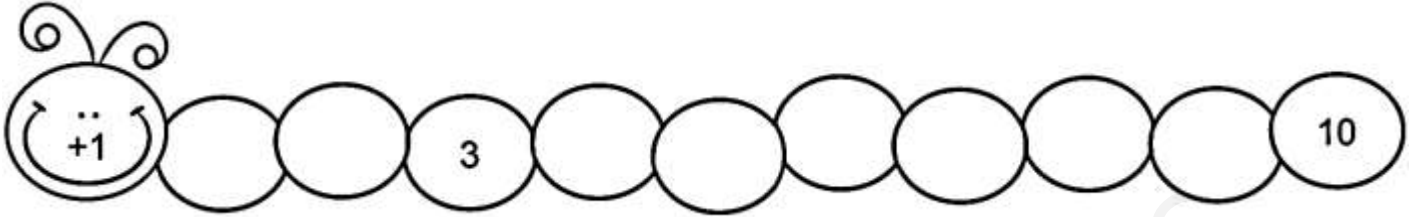
$\square \leftarrow 599 \rightarrow \square$

$\square \leftarrow 900 \rightarrow \square$


NOMBRE:

FECHA:


Completa la serie.



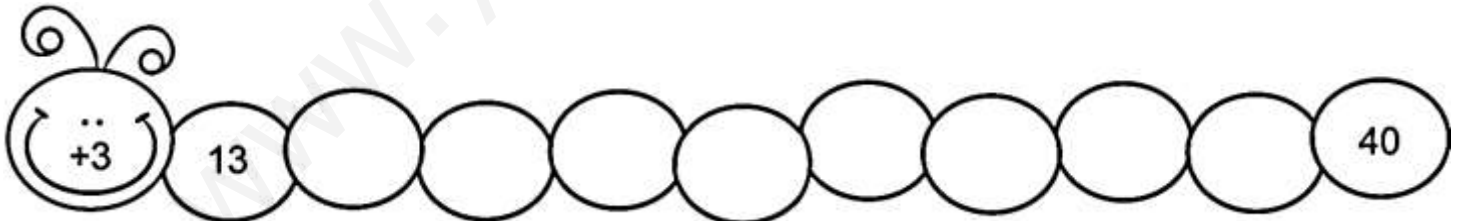
Escribe de 2 en 2 hasta el 20.



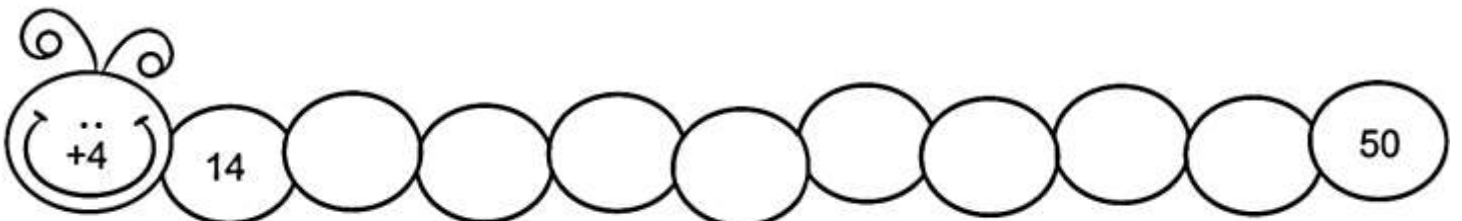
Escribe de 3 en 3 hasta el 30.



Escribe de 3 en 3 hasta el 40.



Escribe de 4 en 4 hasta el 50.



Nome: _____

Data: ___/___/___

COMPLETE A SEQUÊNCIA NUMÉRICA:

501				505					
511							518		
	522								530
		533			536				
			544			547			
				555				559	
561					566				
	572					577			
				585			588		
591								599	600