

Nombre: ..... Fecha: ..... Curso: .....

## 1 Completa y relaciona cada texto con su ilustración.

En las ..... se reúnen los .....  
y ..... de los partidos políticos,  
elegidos por los ciudadanos. Allí **proponen**  
y **aprueban** las .....



Los ..... y otras personas expertas  
trabajan en los ..... de justicia. Ellos  
vigilan y hacen que se **cumplan y respeten**  
las .....



Las Cortes eligen un .....,  
que está formado por el presidente  
y los ..... Su función es  
**hacer funcionar** las .....



## 2 Define los siguientes términos.

MUNICIPIO

.....  
.....

PROVINCIA

.....  
.....

COMUNIDAD AUTÓNOMA

.....  
.....

1 Completa y relaciona cada texto con su ilustración.

En las Cortes se reúnen los diputados y senadores de los partidos políticos, elegidos por los ciudadanos. Allí proponen y aprueban las leyes.



Los juces y otras personas expertas trabajan en los Tribunales de justicia. Ellos vigilan y hacen que se cumplan y respeten las leyes.



Las Cortes eligen un Gobierno, que está formado por el presidente y los ministros. Su función es hacer funcionar las leyes.



2 Define los siguientes términos.

MUNICIPIO

es el territorio formado por una o varias localidades gobernadas por el mismo ayuntamiento. Un ayuntamiento está gobernado por el Alcalde o Alcaldesa y los Concejales.


PROVINCIA

está formada por varios municipios. Cuevas del Almanzora pertenece a la provincia de Almería

COMUNIDAD AUTÓNOMA

está formada por una o más provincias. Nuestra comunidad es Andalucía y está formada por 8 provincias: ALMERÍA, CÁDIZ, CÓRDOBA, GRANADA, HUELVA, JAÉN, MÁLAGA Y SEVILLA.

3 Escribe el texto que corresponde a cada vía o medio de transporte.




4 Cada gráfica indica qué porcentaje de la población trabaja en cada sector económico. Señala a qué sector corresponde cada una.



.....



.....



.....

5 Indica si las siguientes oraciones son verdaderas (V) o falsas (F).

A. Las empresas usan la publicidad para mostrarnos sus productos.

B. Para ahorrar energía, podemos ir al colegio en coche.

C. Un consumo excesivo permite aumentar los recursos del planeta.

D. La comida, el calzado y la ropa son productos de primera necesidad.

3 Escribe el texto que corresponde a cada vía o medio de transporte.



4 Cada gráfica indica qué porcentaje de la población trabaja en cada sector económico. Señala a qué sector corresponde cada una.



.....Secundario.....



.....Terciario.....



.....Primario.....

5 Indica si las siguientes oraciones son verdaderas (V) o falsas (F).

A. Las empresas usan la publicidad para mostrarnos sus productos.

V

B. Para ahorrar energía, podemos ir al colegio en coche.

F

C. Un consumo excesivo permite aumentar los recursos del planeta.

F

D. La comida, el calzado y la ropa son productos de primera necesidad.

V

**1** Completa las frases.

- A. En la democracia, los mayores de ..... años eligen al partido político que quieren que les represente.
- B. Los españoles tenemos d....., como el derecho al trabajo, la educación, la salud y la igualdad.
- C. También tenemos d....., como el respeto a las leyes, el pago de los impuestos y la protección del medioambiente.
- D. Las Cortes eligen un G..... que pone en práctica las leyes.

**2** Relaciona cada texto con su ilustración.

En las **Cortes** se reúnen los diputados y senadores de los partidos políticos, elegidos por los ciudadanos. Ellos **proponen y aprueban las leyes**.



Los **jueces** y otras personas expertas trabajan en los tribunales de justicia. Ellos vigilan y hacen que se **cumplan y respeten** las leyes.



Las Cortes eligen un **Gobierno** que está formado por el presidente del Gobierno y los ministros para que **hagan funcionar** las leyes.



1 Completa las frases.

- A. En la democracia, los mayores de .....18..... años eligen al partido político que quieren que les represente.
- B. Los españoles tenemos *derechos*....., como el derecho al trabajo, la educación, la salud y la igualdad.
- C. También tenemos *deberes*....., como el respeto a las leyes, el pago de los impuestos y la protección del medioambiente.
- D. Las Cortes eligen un *Gobierno*.... que pone en práctica las leyes.

2 Relaciona cada texto con su ilustración.

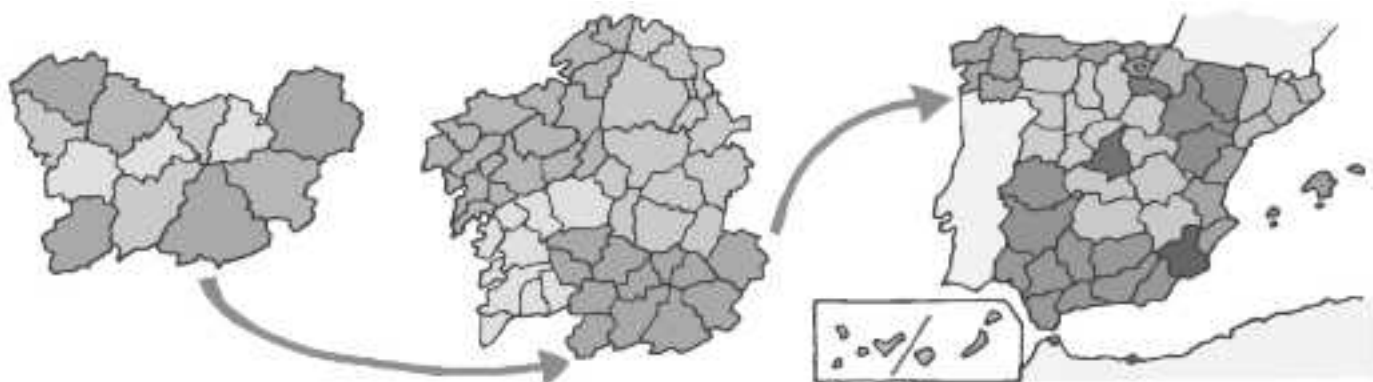
En las **Cortes** se reúnen los diputados y senadores de los partidos políticos, elegidos por los ciudadanos. Ellos **proponen y aprueban las leyes**.

Los **jueces** y otras personas expertas trabajan en los tribunales de justicia. Ellos **vigilan y hacen que se cumplan y respeten las leyes**.

Las Cortes eligen un **Gobierno** que está formado por el presidente del Gobierno y los ministros para que **hagan funcionar las leyes**.



1 Une cada término con su mapa correspondiente.



Mapa de España

Mapa provincial

Mapa de comunidad autónoma

2 Observa las ilustraciones y responde a las preguntas.



A. ¿Qué derecho practica la persona del dibujo?

.....

B. ¿A quiénes podemos elegir en las elecciones municipales?

.....

C. ¿Cómo se llaman las asambleas donde se reúnen el alcalde y los concejales de un municipio?

.....



D. ¿A qué se dedican los trabajadores de la ilustración?

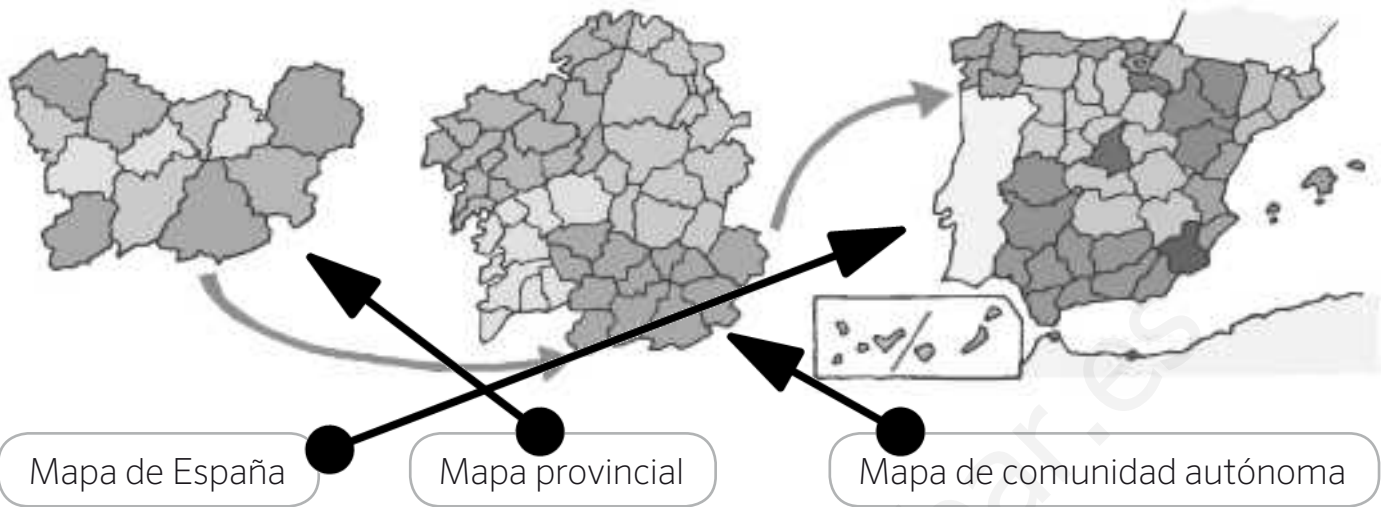
.....

E. ¿Qué otros servicios municipales existen?

.....

.....

1 Une cada término con su mapa correspondiente.



2 Observa las ilustraciones y responde a las preguntas.



A. ¿Qué derecho practica la persona del dibujo?

Derecho a votar a sus representantes.

B. ¿A quiénes podemos elegir en las elecciones municipales?

A los concejales.

C. ¿Cómo se llaman las asambleas donde se reúnen el alcalde y los concejales de un municipio?

Pleno municipal



D. ¿A qué se dedican los trabajadores de la ilustración?

limpiera

E. ¿Qué otros servicios municipales existen?

Conservar las calles

Policía local. Alumbrado público.