

UNIDAD 7

Matemáticas

AA

Nombre y apellidos:

Curso: Fecha:

1 Escribe las siguientes fracciones.

Un décimo \longrightarrow

Tres décimos \longrightarrow

Un doceavo \longrightarrow

Cinco doceavos \longrightarrow

2 Escribe cómo se leen estas fracciones:

$\frac{3}{8}$ \longrightarrow

$\frac{8}{8}$ \longrightarrow


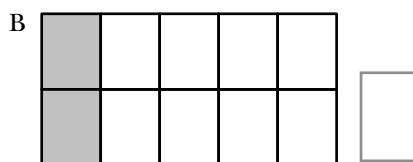
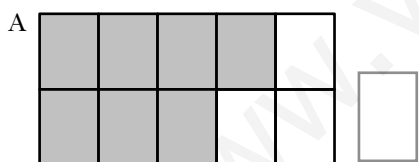
$\frac{4}{10}$ \longrightarrow

$\frac{7}{10}$ \longrightarrow

$\frac{2}{12}$ \longrightarrow

$\frac{10}{12}$ \longrightarrow

3 Escribe la fracción que se ha coloreado en cada rectángulo.

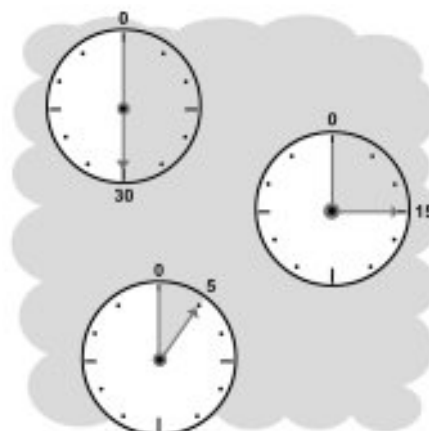


4 Contesta.

a) ¿Qué fracción de hora son 30 minutos?

b) ¿Qué fracción de hora son 15 minutos?

c) ¿Qué fracción de hora son 5 minutos?



UNIDAD 7

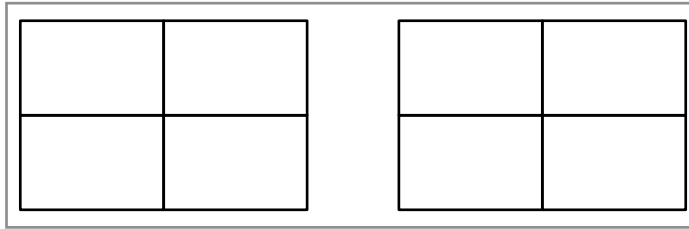
Matemáticas

AA

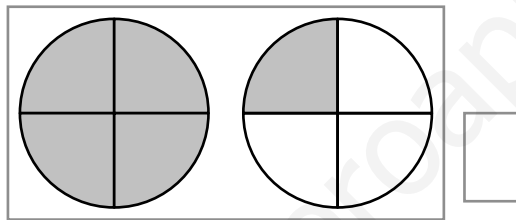
Nombre y apellidos:

Curso: Fecha:

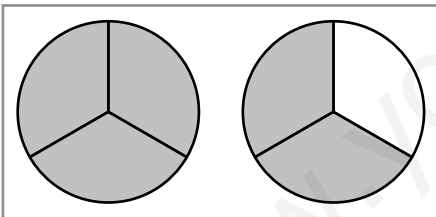
- 5 Colorea en este gráfico la fracción $\frac{5}{4}$:



- 6 Escribe una fracción que exprese la parte de círculo que se ha coloreado en el gráfico.



- 7 Observa el gráfico y completa.



$\frac{5}{3}$ de tarta es lo mismo que
1 tarta completa más de tarta.

- 8 Calcula.

a) La cuarta parte de 40 →

b) La quinta parte de 40 →

- 9 Observa la ilustración y contesta.



a) ¿Qué fracción de pizza ha comprado Ana?

b) Si la pizza entera cuesta 10 €, ¿cuánto ha pagado Ana por su porción?