


# 3 La resta

Nombre: ..... Fecha: .....

1. Realiza las siguientes restas y sus correspondientes pruebas.

$$9.000 - 4.301$$



$$9.651 - 136$$



$$3.482 - 1.694$$

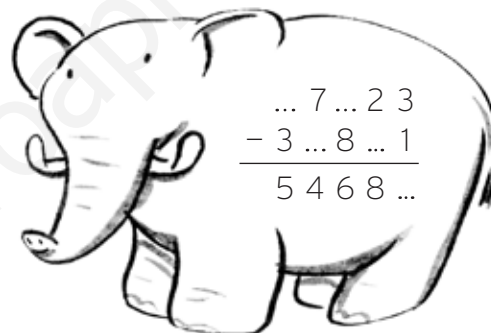
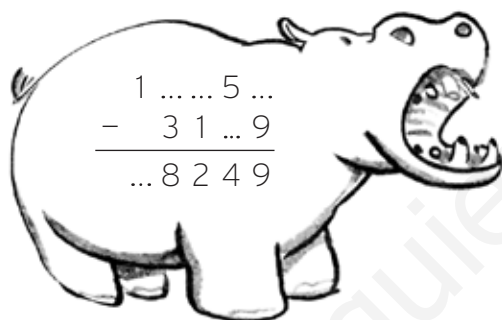


2. Resuelve estas sumas y restas.

$$1.320 + (220 - 18) = \dots + \dots = \dots$$

$$(2.345 - 150) + 80 = \dots + \dots = \dots$$

3. ¿Qué números faltan? Completa las operaciones.



4. Marina ha saltado a la cuerda sin engancharse 193 veces seguidas y Juan, 149. ¿Cuántos saltos ha dado Marina más que Juan?

5. Tres clases de 3.º de Primaria van a ir a una pista de patinaje sobre hielo. De una clase van 21 alumnos, de otra, 25 y de la tercera, 18. En la pista caben 75 personas. ¿Cuántos patinadores más podrán entrar?

