

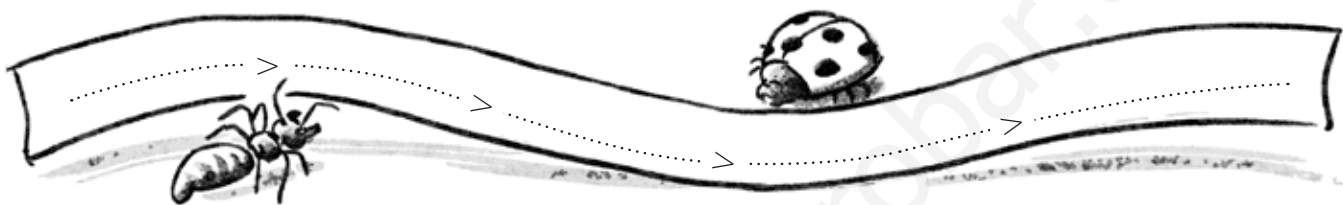
1

Los números



Nombre: Fecha:

1. Escribe en qué números se convierten 92 y 456 cuando a cada uno de ellos se le suma una decena.

2. Anota cinco números distintos de cinco cifras que tengan todos 3 decenas de millar, 7 centenas, 5 decenas y 6 unidades. Ordénalos de mayor a menor.



3. Indica el mayor y el menor número que puedas formar con las cifras 8, 5, 4, 7 y 2.



4. Cuando llegó Gonzalo al conservatorio de música ya habían llegado 6 niños. Después de Gonzalo, llegaron 2 niños más y a continuación llegó Ana. ¿En qué lugar llegó Gonzalo? ¿Y Ana?

5. En la calle donde vive Victoria se han recogido 1.350 botellas de vidrio para reciclar; y en la calle de su primo Alejandro, 14 centenas de botellas de vidrio. ¿En qué calle se han recogido más botellas?

