

- 1** Escribe los números ordenados de menor a mayor.

35 - 71 - 17 - 53

<input type="text"/>	→	<input type="text"/> <input type="text"/> <input type="text"/>	→	<input type="text"/> D y <input type="text"/> U
<input type="text"/>	→	<input type="text"/> <input type="text"/> <input type="text"/>	→	<input type="text"/> D y <input type="text"/> U
<input type="text"/>	→	<input type="text"/> <input type="text"/> <input type="text"/>	→	<input type="text"/> D y <input type="text"/> U
<input type="text"/>	→	<input type="text"/> <input type="text"/> <input type="text"/>	→	<input type="text"/> D y <input type="text"/> U

- 2** ¿Qué número soy? Escribe.

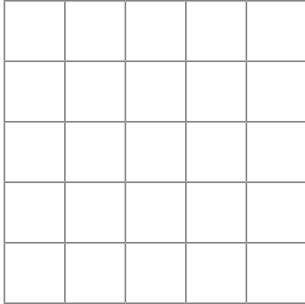
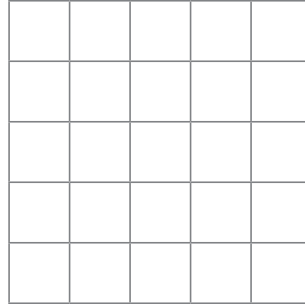
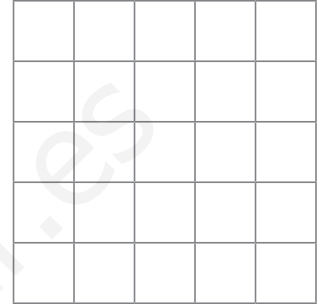
Anterior a 3 D y 9 U → <input type="text"/>	Anterior a 6 decenas → <input type="text"/>
Posterior a 8 decenas → <input type="text"/>	Posterior a 9 D y 8 U → <input type="text"/>

- 3** Coloca los signos >, < e =.

treinta y nueve <input type="radio"/> cincuenta	ochenta y dos <input type="radio"/> veintisiete
setenta y cinco <input type="radio"/> sesenta y nueve	cuarenta y uno <input type="radio"/> treinta y siete
noventa y uno <input type="radio"/> noventa y seis	sesenta y tres <input type="radio"/> sesenta y tres

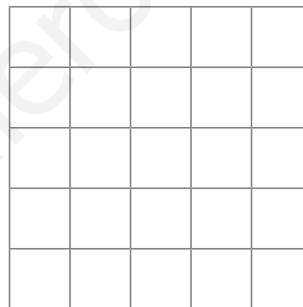
- 4** Suma y ordena los resultados de menor a mayor.

$\begin{array}{r} 66 \\ + 33 \\ \hline \end{array}$	$\begin{array}{r} 42 \\ + 37 \\ \hline \end{array}$	$\begin{array}{r} 51 \\ + 15 \\ \hline \end{array}$	$\begin{array}{r} 90 \\ + 6 \\ \hline \end{array}$	$\begin{array}{r} 73 \\ + 25 \\ \hline \end{array}$	$\begin{array}{r} 39 \\ + 30 \\ \hline \end{array}$
<input type="text"/>	<input type="text"/>	<input type="text"/>	<input type="text"/>	<input type="text"/>	<input type="text"/>
<input type="text"/>	<input type="text"/>	<input type="text"/>	<input type="text"/>	<input type="text"/>	<input type="text"/>

5 Calcula las diferencias.minuendo \rightarrow 95sustraendo \rightarrow 32minuendo \rightarrow 78sustraendo \rightarrow 36minuendo \rightarrow 62sustraendo \rightarrow 40**6** Lee y responde.

A la clase de flamenco vamos 20 niños y 37 niñas.

¿Cuántos niños y niñas bailamos flamenco?



Bailamos flamenco

7 Colorea los bolos según se indica:rojo \rightarrow a la derecha de la niña.amarillo \rightarrow a la izquierda del niño.

1 Dibuja las decenas y las unidades que faltan.

38	<div style="position: absolute; left: 5px; top: 5px;"> </div> <div style="position: absolute; left: 100px; top: 15px;">■ ■ ■</div>	<div style="position: absolute; left: 5px; top: 5px;"> </div> <div style="position: absolute; left: 100px; top: 15px;"> </div>	82
57	<div style="position: absolute; left: 5px; top: 5px;"> </div> <div style="position: absolute; left: 100px; top: 15px;">■ ■ ■</div>	<div style="position: absolute; left: 5px; top: 5px;"> </div> <div style="position: absolute; left: 100px; top: 15px;">■ ■</div>	75

2 Escribe los números.

cuarenta y seis → setenta y dos → cincuenta →
 diecinueve → sesenta y seis → veinticuatro →

3 Ordena los números anteriores de menor a mayor.

< ○ ○ ○ ○

4 Escribe el número anterior y el número posterior.

→ 46 → → 30 →

5 Coloca y calcula.

Sumandos:

21 y 57

Sumandos:

69 y 20

Minuendo: 88

Sustraendo: 26

Minuendo: 93

Sustraendo: 50

6 Calcula y rodea el resultado mayor.

$$\begin{array}{r} 61 \\ + 27 \\ \hline \end{array}$$

$$\begin{array}{r} 83 \\ - 22 \\ \hline \end{array}$$

$$\begin{array}{r} 39 \\ + 40 \\ \hline \end{array}$$

$$\begin{array}{r} 91 \\ - 31 \\ \hline \end{array}$$


$$\begin{array}{r} 44 \\ + 35 \\ \hline \end{array}$$

$$\begin{array}{r} 89 \\ - 47 \\ \hline \end{array}$$

7 Colorea las zapatillas según se indica:

a la izquierda de la niña → rojo

a la derecha del niño → verde



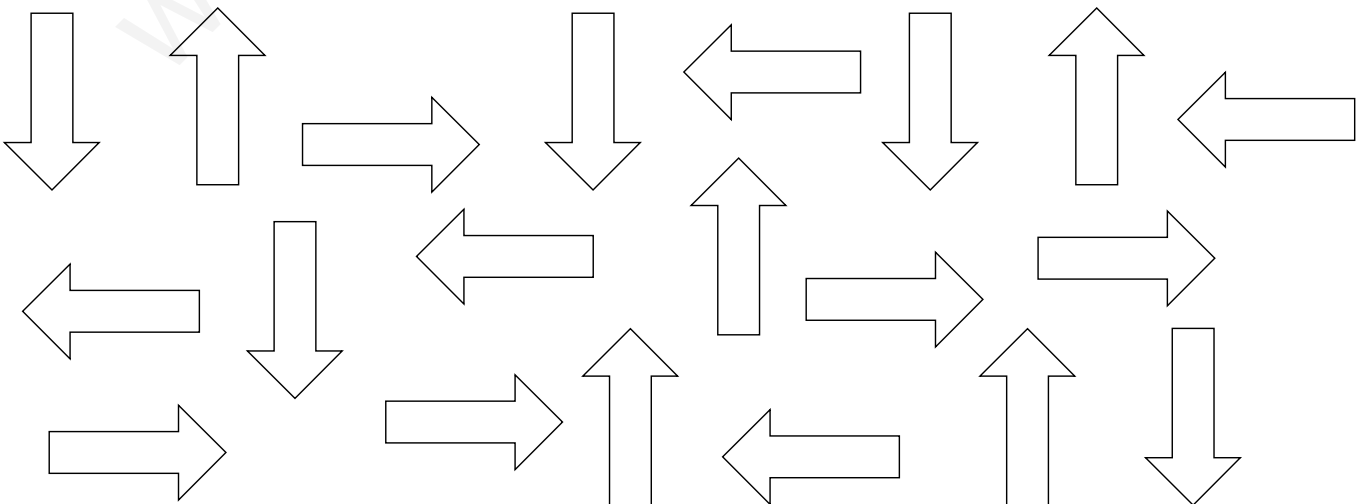
8 Colorea las flechas como se indica:

izquierda: azul

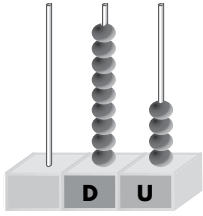
derecha: amarillo

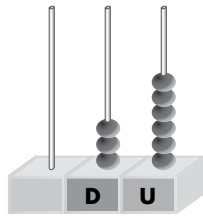
arriba: rojo

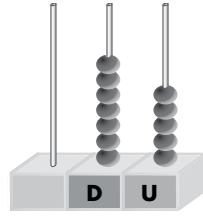
abajo: verde

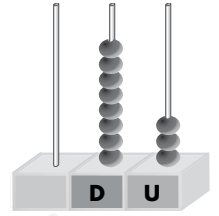


1 Escribe los números que están representados en los ábacos y completa.



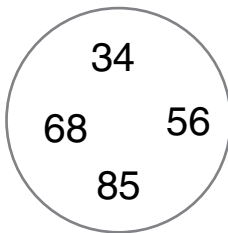
 D y U


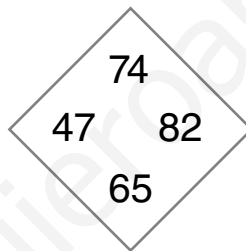
 D y U


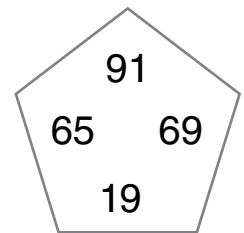
 D y U


 D y U

2 Escribe el número mayor y el número menor en cada caso.


 Número mayor:

 Número menor:

 Número mayor:

 Número menor:

 Número mayor:

 Número menor:

3 Rodea el número anterior y tacha el posterior.

 65 → 66 - 64 - 68 33 → 34 - 30 - 32 28 → 29 - 27 - 30

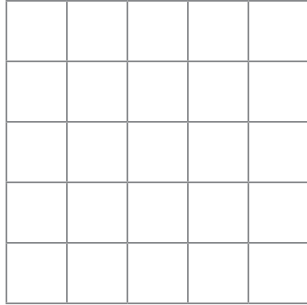
 19 → 17 - 20 - 18 71 → 70 - 69 - 72 49 → 51 - 48 - 50

 56 → 57 - 58 - 55 39 → 37 - 40 - 38 87 → 88 - 89 - 86

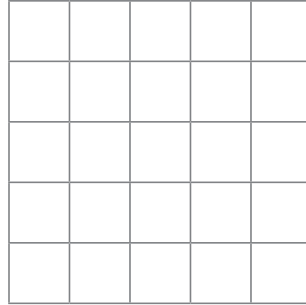
 22 → 20 - 23 - 21 58 → 57 - 60 - 59 11 → 12 - 13 - 10

4 Coloca los siguientes sumandos y suma.

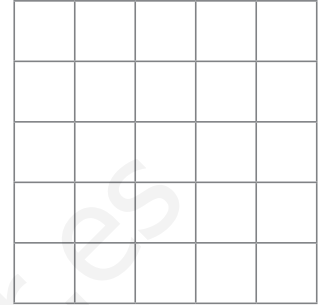
sumandos: $35 + 43$



sumandos: $55 + 42$



sumandos: $87 + 2$



5 Resta y rodea así:

minuendo → rojo

sustraendo → azul

diferencia → verde

$$\begin{array}{r} 86 \\ - 36 \\ \hline \end{array}$$


$$\begin{array}{r} 95 \\ - 42 \\ \hline \end{array}$$

$$\begin{array}{r} 76 \\ - 30 \\ \hline \end{array}$$

$$\begin{array}{r} 89 \\ - 67 \\ \hline \end{array}$$

$$\begin{array}{r} 66 \\ - 14 \\ \hline \end{array}$$

6 Colorea los caracoles que están arriba de la hoja.



7 Rodea el juguete que está a la derecha de Andrea y colorea el que está a su izquierda.

