

TEMA 3:
PAISAJE Y RELIEVE DE ESPAÑA Y
ANDALUCÍA
PLANOS Y MAPAS

(Libro de texto pág.6-35 y cuadernillo geografía)

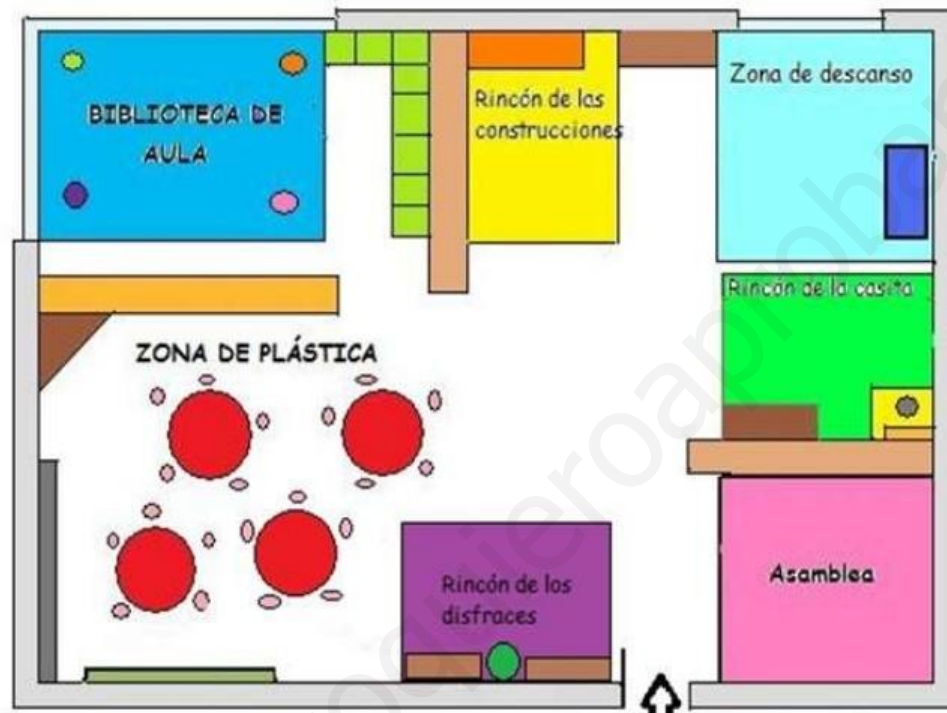


LOS PLANOS

Un plano es un dibujo en el que se representa un lugar, un edificio, una sala o un objeto a tamaño reducido y tal como se vería desde arriba.

Los planos son muy útiles, porque contienen información que nos permite situar las cosas en un lugar, medir distancias o tamaños, llegar hasta una calle o un edificio en una ciudad...

La información en los planos se da mediante marcas de orientación, los símbolos convencionales y la leyenda.



Marcas de orientación.

Un plano debe tener marcas de orientación. Son líneas que permiten situar el plano respecto al entorno que representa. En los planos de lugares, estas marcas indican los puntos cardinales.

Símbolos convencionales.

Los símbolos o signos convencionales son los dibujos, los números, los textos y los colores que se emplean en los planos para representar distancias, objetos, edificios...



La leyenda.

Todos los planos llevan leyenda. Es una zona del plano en la que se explica el significado de los símbolos convencionales.



MAPAS Y TIPOS

Un mapa es un plano de un territorio extenso de la superficie de la Tierra o incluso de toda la superficie terrestre.

Los mapas tienen marcas de orientación que señalan los puntos cardinales y permiten situar el territorio que representan sobre la superficie terrestre.

También tienen símbolos convencionales cuyo significado se explica en una leyenda.

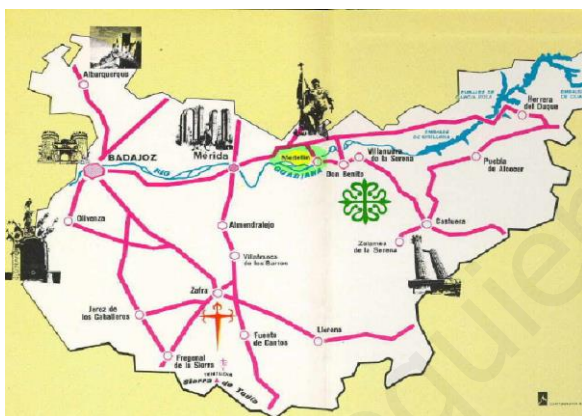
Tipos de mapas:

Dependiendo de la información que contengan, los mapas pueden ser físicos, políticos o temáticos.

En los **mapas físicos** se representan el relieve y las masas de agua de un territorio: las tierras, los mares, las islas, los ríos, las montañas...

En los **mapas políticos** se representan fronteras, países, ciudades y pueblos.

En los **mapas temáticos** se representa información sobre un tema muy concreto. Los hay que informan sobre las carreteras de una zona, sobre la cantidad de personas que viven en las distintas partes de un territorio, sobre el tipo de actividades humanas que se desarrollan en cada zona.



El globo terráqueo

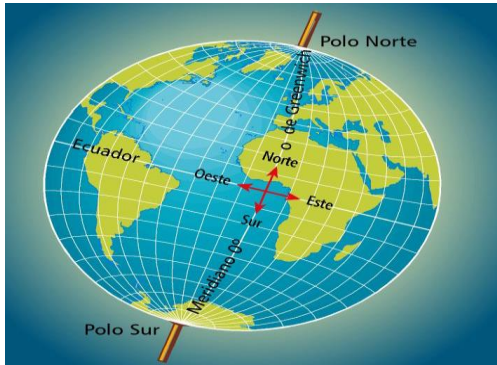
La Tierra tiene una forma aproximadamente esférica. Por esa razón, la mejor forma de representar la superficie terrestre es dibujarla sobre una esfera de plástico o de otro material.

La representación de la Tierra sobre una esfera se llama globo terráqueo.

En un globo terráqueo se señalan:

- Dos polos: polo norte, parte superior, y el polo sur, parte inferior.
- El Ecuador: es una línea que divide el globo en dos mitades: hemisferio norte y hemisferio sur.

Los globos terráqueos se colocan en un soporte con un eje inclinado que los atraviesa por los polos y permite su giro.



Planisferio y mapamundi.

El mapa de toda la superficie terrestre se llama planisferio o mapamundi.

En el mapa de la superficie terrestre se delimitan y nombran cinco grandes océanos: Atlántico, Pacífico, Índico, Glacial Ártico y Glacial Antártico.

Del mismo modo, las grandes extensiones de tierra no cubiertas por el mar se dividen en seis continentes: Europa, Asia, África, América, Oceanía y la Antártida.



¿Dónde está España?

Nuestro país, España, está formado por los territorios siguientes:

- Gran parte de la Península Ibérica, que está en Europa.
- Las islas Baleares, que están en el mar Mediterráneo.
- Las islas Canarias, que están en el océano Atlántico.
- Las ciudades autónomas de Ceuta y Melilla, que están en el norte África.

**RESPONDONES:**

1) ¿Qué es un paisaje?

Es una extensión de la superficie terrestre que se ve desde un determinado lugar

2) ¿Cuáles son los elementos del paisaje?

El relieve, el agua, la vegetación, la fauna y los elementos introducidos por el ser humano.

3) ¿Qué es el relieve?

Extensión del terreno más o menos plana

4) ¿Qué es la vegetación?

Las plantas

5) Si me asomo a la Giralda veo un paisaje...

Urbano

6) ¿Desde dónde y hasta dónde se extiende la costa atlántica andaluza?

Desde la desembocadura del río Guadiana, en el este, hasta el estrecho de Gibraltar.

7) ¿Por dónde se extiende la costa Mediterránea?

Desde el estrecho de Gibraltar hasta el límite con la Región de Murcia.

8) ¿En qué se diferencia la costa atlántica y la mediterránea?

La costa atlántica es una costa baja y arenosa, con playas muy extensas de arena fina. La costa mediterránea es una costa alta, rocosa y acantilada, aunque abundan también las playas y las calas.

9) ¿Desde dónde se extiende la costa gallega?

Desde el cabo Ortegal hasta la desembocadura del río Miño.

10) ¿Qué nombre recibe las zonas arenosas de las costas?

Playas

11) ¿Qué es una península? Es un trozo de tierra rodeada de agua por todas partes menos por una, llamada **istmo**.

12) ¿Qué es una depresión?

Hundimiento de terreno

13) ¿Qué es una montaña?

Una montaña es una elevación del terreno.

14) ¿Qué es una llanura?

Una llanura es una extensión de terreno más o menos plana.

15) ¿Qué es una sierra?

Una sierra es un grupo de cordilleras.

16) ¿Qué es un golfo?

Un golfo es una zona de la costa en la que el mar entra en la tierra.

17) ¿Y un cabo?

Un cabo es una saliente de terreno que se adentra en el mar

18) ¿Qué es una isla?

Una isla es un terreno rodeado de agua por todas partes. Si es pequeño es islote.

19) ¿Cuál es la cumbre más alta de España? ¿Dónde se encuentra?

Es el Teide (un volcán de 3.718 metros) y se encuentra en la isla de Tenerife.

20) ¿Cómo se le llama a un conjunto de islas?

Un conjunto de islas se llama archipiélago.

21) ¿Qué son los acantilados?

Los acantilados es una zona rocosa de la costa que se corta de manera muy brusca, a una cierta altura sobre el mar.

22) ¿Qué es el relieve?

El relieve es el conjunto de las formas del terreno que pueden verse en ese paisaje.

23) ¿Cuál es el río más largo de Andalucía?

Guadalquivir.

24) ¿Qué son los paisajes humanizados?

Los paisajes humanizados son aquellos que presentan elementos humanos (casas, carreteras, personas...).

25) ¿Qué es un plano?

Un dibujo hecho a tamaño reducido y visto desde arriba, en que se representa un lugar no muy extenso.

26) ¿Qué es un mapa?

Un dibujo en el que se representa, a tamaño reducido y desde arriba, un lugar extenso.

27) ¿Qué es la leyenda de un mapa?

Un recuadro en el que aparecen los significados de los símbolos y los colores.

28) ¿Cuántos continentes forman la Tierra?

Los continentes que forman la tierra son 6.

29) ¿Qué representamos en un mapa físico?

En un mapa físico se representan: Mares, continentes, ríos...

30) ¿En qué continentes se encuentran los territorios de España?

Los continentes donde se encuentran territorios Españoles son: Europa y África

31) ¿Qué diferencias hay entre los símbolos convencionales de un plano y las marcas de orientación?

Las marcas de orientación de un plano nos indican los puntos cardinales y los símbolos convencionales son los dibujos, los números, los textos y los colores que se emplean en los planos para representar distancias, objetos, edificios...

32) ¿Qué diferencia hay entre un mapa político y uno físico?

Un mapa político representa fronteras, países, ciudades y pueblos. Y el mapa físico representa el relieve y las masas de agua de un territorio.

33) ¿Qué es un globo terráqueo?

Un globo terráqueo es la representación de la tierra en una esfera.

34) ¿Cuáles son los dos polos que hay en la tierra?

En la tierra hay dos polos; el polo sur y el polo norte.

35) ¿Qué es el ecuador?

El ecuador es la línea imaginaria que divide la tierra en dos Hemisferio Norte y Hemisferio Sur.

36)¿Cómo se llaman las dos mitades en las que divide la tierra el ecuador?

El ecuador divide la tierra en dos mitades el hemisferio norte y el hemisferio sur.

37)¿Qué es un planisferio o mapamundi?

Un planisferio o mapamundi es la representación de la tierra de forma plana.

38). ¿En qué tipo de mapas buscarías los nombres de las dos montañas más grandes de Europa?

Lo buscaría en un mapa físico.

ACTIVIDADES TEMA 3.

1. Observa este plano:

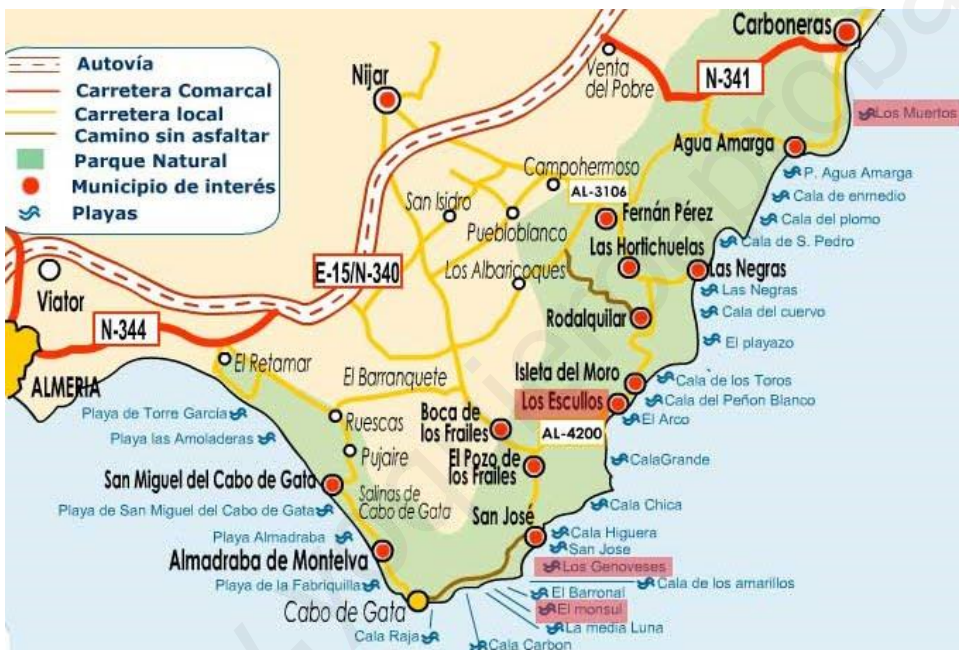
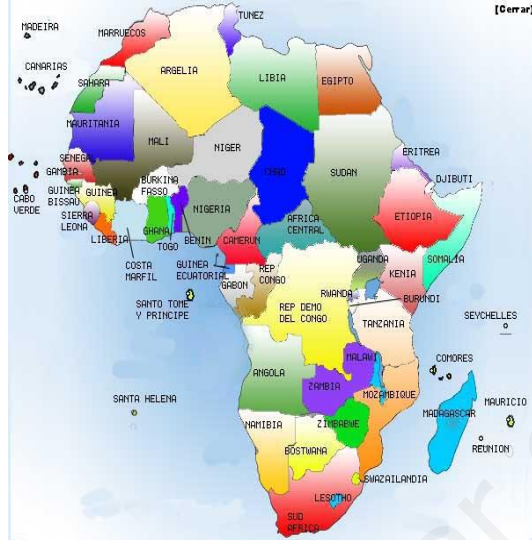


a) ¿Qué se representa en él?

b) ¿Cuántos espacios diferentes se ven en él?

c) Sabrías representar la leyenda y los símbolos convencionales en este mapa.

2.. Mira estos mapas y clasifícalos, según el tipo que sea:



3-Coloca en este paisaje todos los elementos de paisaje de costa que has visto.



www.yoquiero