

# La numeración romana

## Utilizamos letras para escribir números

El sistema de numeración romano utilizaba estas letras mayúsculas para escribir los números:

<b>I</b>	<b>V</b>	<b>X</b>	<b>L</b>	<b>C</b>	<b>D</b>	<b>M</b>
1	5	10	50	100	500	1 000

Para escribir números seguían estas reglas:

1.<sup>a</sup> Solo las letras I, X, C y M se pueden repetir dos o tres veces seguidas.

II = 2	XXX = 30
CC = 200	MMM = 3 000

3.<sup>a</sup> Las letras I, X y C escritas a la izquierda de otra de mayor valor le restan su valor.

IV = 5 - 1 = 4
XC = 100 - 10 = 90

2.<sup>a</sup> Si una letra se pone a la derecha de otra de igual o mayor valor, se suman sus valores.

XII = 10 + 2 = 12
CLV = 100 + 50 + 5 = 155

4.<sup>a</sup> Una raya encima de una o varias letras indica que el número queda multiplicado por 1 000.

$\overline{\text{VII}}$ = 7 000
$\overline{\text{XVI}}$ = 16 000

## Actividades

### APLICO LO APRENDIDO

**1** Escribe en nuestro sistema los números romanos siguientes:

XII = ..... XVII = ..... XCV = ..... XCIX = .....

XLIX = ..... MI = ..... DCCXX = ..... CMX = .....

DCCV = ..... LXIX = ..... DCCCVI = .....  $\overline{\text{XXV}}$  = .....

**2** Escribe con números romanos.

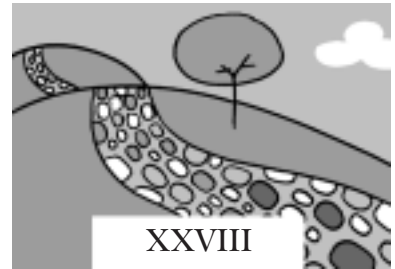

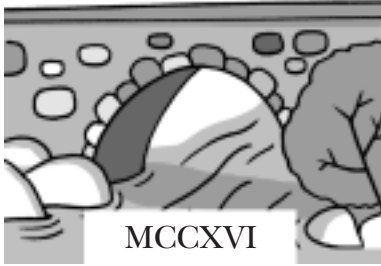
816 = ..... 74 = ..... 1 014 = .....

89 = ..... 29 = ..... 91 = .....

2 306 = ..... 7 010 = ..... 4 512 = .....

1 200 = ..... 314 = ..... 59 = .....

**3** ¿En qué año se construyeron estos monumentos?:



**4** Escribe cuatro números romanos más en cada serie.

a) VI - IX - XII - XV - .....

b) I - III - VI - X - XV - .....

**5** Escribe el signo >, < o =, según corresponda.

7 209  VIIICIX    2 516  MMDXXV    1 942  MCMLII    VIIILVI  8 036

**AVANZO**

**6** Realiza estas operaciones:

a) XL + CXXXV + XCIX = .....

b) CMXC - DCCXCIV = .....

**HAGO PROBLEMAS**

**7** Claudio reparte el dinero que tiene en la bolsa entre sus dos hijos. ¿Cuántos sestercios le corresponde a cada uno?

