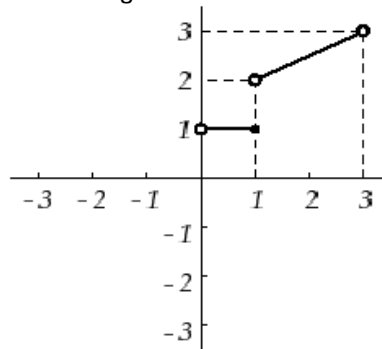


Opción A

Ejercicio 1 de la Opción A del modelo 2 de 2003.

En la figura adjunta puedes ver representada parte de la gráfica de una función f que está definida en el intervalo $(-3, 3)$ y que es simétrica respecto al origen de coordenadas.



- (a) [0'75 puntos] Razona cual debe ser el valor de $f(0)$.
- (b) [0'75 puntos] Completa la gráfica de f .
- (c) [1 punto] Halla $f'(x)$ para los $x \in (-3, 3)$ en los que dicha derivada exista.

Solución

(a)

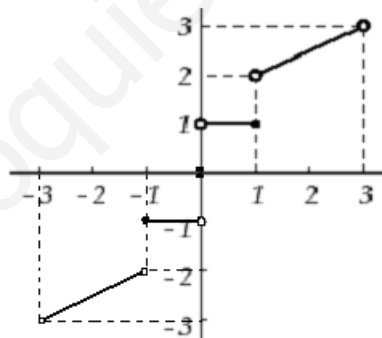
Como la función $f(x)$ es simétrica respecto al origen $(0, 0)$ sabemos que $f(-x) = -f(x)$, es decir al punto de coordenadas (x, y) del semiplano $x > 0$ le corresponde el punto $(-x, -y)$ en el semiplano $x < 0$, es decir:

- Al punto $(1, 1)$ le corresponde el punto $(-1, -1)$
- Al punto $(0^+, 1)$ le corresponde el punto $(0^-, -1)$
- Al punto $(1^+, 2)$ le corresponde el punto $(-1^-, -2)$
- Al punto $(3^-, 3)$ le corresponde el punto $(-3^+, -3^+)$

A una recta le corresponde una recta

Como la función está definida en $(-3, 3)$ y es simétrica respecto al $(0, 0)$ la única posibilidad que nos queda para definir $f(0)$, es que sea 0.

Por tanto la gráfica de $f(x)$ es la siguiente



De la gráfica se observa que los límites laterales en $x = 0$ son los siguientes

$$\lim_{x \rightarrow 0^+} f(x) = +1 \quad \text{y} \quad \lim_{x \rightarrow 0^-} f(x) = -1, \quad \text{por tanto no existe } \lim_{x \rightarrow 0} f(x), \quad \text{con lo cual no es continua en } x = 0..$$

(b)

La gráfica de $f(x)$ es la que ya he dibujado en el apartado (a)

Vamos a calcular su expresión analítica:

Si $-3 < x < -1$ la función es una recta $y = mx+n$ que pasa por los puntos $(-3, -3)$ y $(-1, -2)$. Entrando con estos valores en $y = mx+n$ tenemos el sistema

$$-2 = -m+n$$

$$-3 = -3m+n. \quad \text{Resolviendolo obtenemos } m = (1/2) \quad \text{y} \quad n = -(3/2), \quad \text{por tanto } y = (1/2)x - (3/2)$$

Si $-1 \leq x < 0$, la función es la constante $f(x) = -1$.

Si $0 < x \leq 1$, la función es la constante $f(x) = 1$.

Si $1 < x < 3$ la función es una recta $y = mx+n$ que pasa por los puntos $(3, 3)$ y $(1, 2)$. Entrando con estos valores en $y = mx+n$ tenemos el sistema

$$2 = m+n$$

$$3 = 3m+n. \quad \text{Resolviendolo obtenemos } m = (1/2) \quad \text{y} \quad n = (3/2), \quad \text{por tanto } y = (1/2)x + (3/2)$$

Resumiendo:

$$f(x) = \begin{cases} (1/2)x - (3/2) & \text{si } -3 < x < -1 \\ -1 & \text{si } -1 < x < 0 \\ 0 & \text{si } x = 0 \\ 1 & \text{si } 0 < x < 1 \\ (1/2)x + (3/2) & \text{si } 1 < x < 3 \end{cases}$$

(c)

Como $f(x)$ no es continua en $x=0$, $x=-1$ y $x=1$, tampoco es derivable en dichos puntos.

$$\text{La función derivada sería } f'(x) = \begin{cases} (1/2) & \text{si } -3 < x < -1 \\ 0 & \text{si } -1 < x < 0 \\ 0 & \text{si } 0 < x < 1 \\ (1/2) & \text{si } 1 < x < 3 \end{cases}$$

Ejercicio 2 de la Opción A del modelo 2 de 2003.

[2'5 puntos] Se sabe que la función $f: \mathbb{R} \rightarrow \mathbb{R}$ definida por $f(x) = ax^2 + bx + c$ tiene máximo absoluto en el punto de abscisa $x = 1$, que su gráfica pasa por el punto $(1, 4)$ y que $\int_{-1}^3 f(x) dx = 32/2$. Halla a, b y c .

Solución

La función que me han dado $f(x) = ax^2 + bx + c$ es polinómica por tanto continua y derivable las veces que haga falta en \mathbb{R} .

Como $x = 1$ es un máximo absoluto, también es un máximo relativo luego $f'(1) = 0$

Como pasa por $(1,4)$ tenemos que $f(1) = 4$

También tenemos $\int_{-1}^3 f(x) dx = 32/2 = 16$, con estas tres condiciones calcularemos a, b y c

$$f(x) = ax^2 + bx + c$$

$$f'(x) = 2ax + b$$

De $f'(1) = 0$ tenemos $0 = 2a + b$, luego $b = -2a$

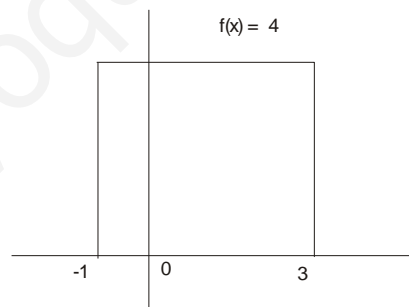
De $f(1) = 4$ tenemos $4 = a + b + c = a - 2a + c = -a + c = 4$, luego $c = 4 + a$

$$\text{De } \int_{-1}^3 f(x) dx = 16 \text{ tenemos } 16 = \int_{-1}^3 [ax^2 + bx + c] dx = [ax^3/3 + bx^2/2 + cx]_{-1}^3 =$$

$$= (9a + (9/2)(-2a) + 3(4 + a)) - (-a/3 + (1/2)(-2a) - 1(4+a)) = 9a - 9a + 12 + 3a + a/3 + a + 4 + a$$

Es decir $16 = 16 + 5a + a/3 = 16 + a(5 + 1/3)$, es decir $a(5 + 1/3) = 0$, de donde $a = 0$, $b = 0$ y $c = 4$. Por tanto la función que me han dado es la constante $f(x) = 4$.

Su gráfica, aunque no lo piden es



Ejercicio 3 de la Opción A del modelo 2 de 2003.

[2'5 puntos] Determina razonadamente los valores de m para los que el sistema de ecuaciones

$$\begin{aligned} 2x + y + z &= mx \\ x + 2y + z &= my \\ x + 2y + 4z &= mz \end{aligned}$$

tiene más de una solución.

Solución

El sistema

$$\begin{aligned} 2x + y + z &= mx \\ x + 2y + z &= my \\ x + 2y + 4z &= mz \end{aligned}$$

, pasándolo todo a un miembro, m y sacando factor común, es el sistema homogéneo

$$\begin{aligned} (2-m)x + y + z &= 0 \\ x + (2-m)y + z &= 0 \\ x + 2y + (4-m)z &= 0 \end{aligned}$$

Sabemos que un sistema homogéneo de tres ecuaciones con tres incógnitas tiene solución distinta de la

trivial (0,0,0) si y solo si el determinante de la matriz de los coeficientes es cero, es decir

$$\begin{vmatrix} 2-m & 1 & 1 \\ 1 & 2-m & 1 \\ 1 & 2 & 4-m \end{vmatrix} = 0 = \{\text{Desarrollo por los adjuntos de la primera fila}\} =$$

$$= (2-m)[(2-m)(4-m) - 2] - 1(4-m - 1) + 1[2-(2-m)] = (2-m)[m^2 - 6m + 6] + m - 3 + m =$$

$$= -m^3 + 8m^2 - 16m + 9$$

Sacamos una raíz por Ruffini

$$\begin{array}{r|rrrr} & -1 & 8 & -16 & 9 \\ 1 & & -1 & 7 & -9 \\ \hline & -1 & 7 & -9 & 0 \end{array}$$

Luego $-m^3 + 8m^2 - 16m + 9 = (m - 1)(-m^2 + 7m - 9) = 0$, de donde $m - 1 = 0$, que nos da como solución $m = 1$

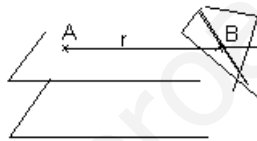
$$-m^2 + 7m - 9 = 0, \text{ que nos dan como soluciones } m = \frac{7 \pm \sqrt{13}}{2}.$$

Por tanto para $m = 1$, $x = \frac{7 + \sqrt{13}}{2}$ y $x = \frac{7 - \sqrt{13}}{2}$, el sistema homogéneo dado tiene solución distinta de la trivial y es compatible e indeterminado, y tiene más de una solución.

Ejercicio 4 de la Opción A del modelo de 2003.-

[2'5 puntos] Halla la ecuación de la recta que pasa por el punto (3, 1, -1), es paralela al plano $3x - y + z = 4$ y corta a la recta intersección de los planos $x + z = 4$ y $x - 2y + z = 1$.

Solución



Trazamos el plano paralelo a $3x - y + z = 4$ que pasa por el punto A(3, 1, -1), que es $3x - y + z = k$, le imponemos la condición de que pase por (3, 1, -1)

$$3(3) - (1) + (-1) = k, \text{ de donde } k = 7, \text{ es decir el plano es } 3x - y + z = 7$$

Como la recta r está contenida en el plano $3x - y + z = 7$, y corta a la recta intersección de los planos $x + z = 4$ y $x - 2y + z = 1$, la recta r pasa por el punto B punto de corte de los planos $3x - y + z = 7$, $x + z = 4$ y $x - 2y + z = 1$.

Resolvemos el sistema

$$3x - y + z = 7$$

$$x + z = 4$$

$$x - 2y + z = 1, \text{ para calcular el punto B}$$

$$3x - y + z = 7$$

$$x + z = 4$$

$$x - 2y + z = 1$$

$$3x - y + z = 7 \{2^a + 1^a(-1); 3^a + 1^a(-3)\}$$

$$x + z = 4$$

$$0 - 2y + 0 = -3$$

$$0 - y - 2z = -5$$

$$y = 3/2,$$

$$2z = 15 - y = 15 - 3/2 = 27/2, \text{ de donde } z = 7/4$$

$$x = 4 - z = 4 - 7/4 = 9/4$$

Luego el punto de corte es B(9/4, 3/2, 7/4)

La recta que me piden es la que pasa por los puntos A y B, luego tomo como punto el A y como vector $\mathbf{v} =$

$$\mathbf{AB} = (9/4 - 3, 3/2 - 1, 7/4 - (-1)) = (-3/4, 1/2, 11/4). \text{ Otro vector paralelo a la recta es } \mathbf{w} = (-3, 2, 11)$$

La recta pedida es $r \equiv (x - 3)/(-3) = (y - 1)/2 = (z + 1)/11$

Opción B

Ejercicio 1 de la Opción B del modelo 2 de 2003

[2'5 puntos] Se sabe que la función $f: \mathbb{R} \rightarrow \mathbb{R}$ definida por $f(x) = ax^3 + bx^2 + cx + d$ es tal que $f(0) = 4$ y que

su gráfica tiene un punto de inflexión en (1, 2). Conociendo además que la recta tangente a la gráfica de f en el punto de abscisa $x = 0$ es horizontal, calcula a , b , c y d .

Solución

$$f(x) = ax^3 + bx^2 + cx + d$$

Nos dan $f(0) = 4$

Como (1, 2) es un punto de inflexión tenemos $f''(1) = 0$ y además $f(1) = 2$

Como $x = 0$ es un punto de tangencia horizontal tenemos $f'(0) = 0$

$$f(x) = ax^3 + bx^2 + cx + d$$

$$f'(x) = 3ax^2 + 2bx + c$$

$$f''(x) = 6ax + 2b$$

De $f'(0) = 0$, tenemos $0 = 0 + 0 + c$, luego $c = 0$

De $f''(1) = 0$, tenemos $0 = 6a + 2b$, luego $b = -3a$

De $f(1) = 2$, tenemos $2 = a + b + c + d = a - 3a + d = -2a + d = 2$

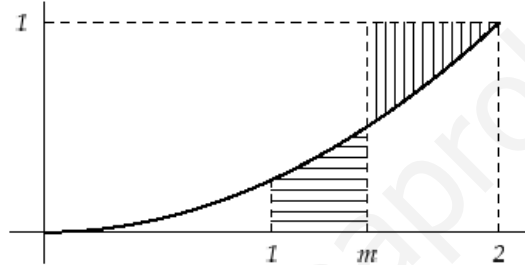
De $f(0) = 4$, tenemos $4 = 0 + 0 + 0 + d$, luego $d = 4$

Operando tenemos $2a = 2 - d = 2 - 4 = -2$, luego $a = -1$ y $b = -3a = -3(-1) = 3$

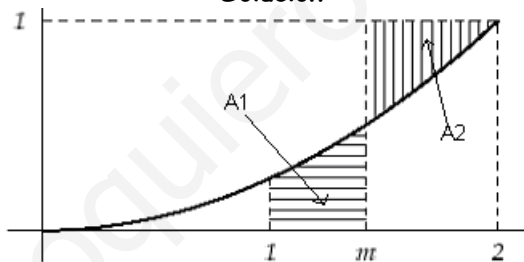
Por tanto los coeficientes pedidos son $a = -1$, $b = 3$, $c = 0$ y $d = 4$

Ejercicio 2 de la Opción B del modelo 2 de 2003.

[2'5 puntos] En la figura adjunta puedes ver representada en el intervalo $[0; 2]$ la gráfica de la parábola de ecuación $y = x^2/4$. Halla el valor de m para el que las áreas de las superficies rayadas son iguales.



Solución



$$A_1 = \int_1^m (x^2/4) dx = [x^3/12]_1^m = m^3/12 - 1/12$$

$$A_2 = \text{área del rectángulo} - \text{área bajo curva} =$$

$$= (2 - m)(1) - \int_m^2 (x^2/4) dx = [x^3/12]_m^2 = (2 - m) - [8/12 - m^3/12]$$

Igualando $A_1 = A_2$, tenemos

$$m^3/12 - 1/12 = (2 - m) - [8/12 - m^3/12]. \text{ Operando tenemos } m = 17/12$$

Ejercicio 3 de la Opción B del modelo 2 de 2003.

(a) [1 punto] Se sabe que el determinante de una matriz cuadrada A de orden 3 vale -2 ¿Cuánto vale el determinante de la matriz $4A$?

(b) [1'5 puntos] Dada la matriz $B = \begin{pmatrix} 1 & 2 & 0 \\ \lambda & 0 & 1 \\ 0 & 1 & -2 \end{pmatrix}$, ¿para qué valores de λ la matriz $3B + B^2$ no tiene inversa?

Solución

(a)

Sabemos que si A es una matriz cuadrada de orden n , entonces el determinante

$|k \cdot A| = k^n \cdot |A|$, puesto que la k sale una vez por cada fila o columna multiplicando, luego

$|4 \cdot A| = 4^3 \cdot |A| = 64(-2) = -128$, puesto que el orden de A es 3

(b)

$$B = \begin{pmatrix} 1 & 2 & 0 \\ \lambda & 0 & 1 \\ 0 & 1 & -2 \end{pmatrix}$$

$$B^2 = B \cdot B = \begin{pmatrix} 1 & 2 & 0 \\ \lambda & 0 & 1 \\ 0 & 1 & -2 \end{pmatrix} \cdot \begin{pmatrix} 1 & 2 & 0 \\ \lambda & 0 & 1 \\ 0 & 1 & -2 \end{pmatrix} = \begin{pmatrix} 1+2\lambda & 2 & 2 \\ \lambda & 2\lambda+1 & -2 \\ \lambda & -2 & 5 \end{pmatrix}$$

$$3B + B^2 = 3 \cdot \begin{pmatrix} 1 & 2 & 0 \\ \lambda & 0 & 1 \\ 0 & 1 & -2 \end{pmatrix} + \begin{pmatrix} 1+2\lambda & 2 & 2 \\ \lambda & 2\lambda+1 & -2 \\ \lambda & -2 & 5 \end{pmatrix} = \begin{pmatrix} 4+2\lambda & 8 & 2 \\ 4\lambda & 2\lambda+1 & 1 \\ \lambda & 1 & -1 \end{pmatrix}$$

Para que $3B + B^2$ no tenga inversa el determinante $|3B + B^2|$ tiene que ser cero. Desarrollamos el determinante por los adjuntos de la primera fila

$$\begin{vmatrix} 4+2\lambda & 8 & 2 \\ 4\lambda & 2\lambda+1 & 1 \\ \lambda & 1 & -1 \end{vmatrix} = (4+2\lambda) \cdot \begin{vmatrix} 2\lambda+1 & 1 \\ 1 & -1 \end{vmatrix} - 8 \cdot \begin{vmatrix} 4\lambda & 1 \\ \lambda & -1 \end{vmatrix} + 2 \cdot \begin{vmatrix} 4\lambda & 2\lambda+1 \\ \lambda & 1 \end{vmatrix} =$$

$$= (4+2\lambda) \cdot (-2\lambda - 2) - 8(-4\lambda - \lambda) + 2(3\lambda - 2\lambda^2) = -8\lambda^2 + 34\lambda - 8 = 0$$

Resolviendo la ecuación de segundo grado $-8\lambda^2 + 34\lambda - 8 = 0$, se obtiene $\lambda = 4$ y $\lambda = 1/4$, luego la matriz $3B + B^2$ no tiene inversa si $\lambda = 4$ y $\lambda = 1/4$.

Ejercicio 4 de la Opción B del modelo 2 de 2003.

Considera la recta $r \equiv \begin{cases} x+y-z = 1 \\ y = 2 \end{cases}$ y el plano $\pi \equiv x - 2y + z = 0$.

(a) [1 punto] Calcula el haz de planos que contienen a la recta r .

(b) [1'5 puntos] Halla el plano que contiene a la recta r y corta al plano π en una recta paralela al plano $z = 0$.

Solución

recta $r \equiv \begin{cases} x+y-z = 1 \\ y = 2 \end{cases}$ y el plano $\pi \equiv x - 2y + z = 0$.

(a)

El haz de planos que contiene a la recta r es $(x + y - z - 1) + \lambda(y - 2) = 0$ con $\lambda \in \mathfrak{R}$

$$(x + y - z - 1) + \lambda(y - 2) = x + (1 + \lambda)y - z - (1 + 2\lambda) = 0$$

(b)

El plano que contiene a la recta r es de la forma $x + (1 + \lambda)y - z - (1 + 2\lambda) = 0$

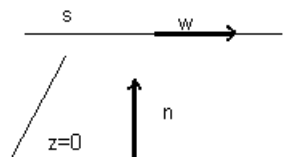
La recta s que corta al plano anterior (falta determinar el λ) y al plano $\pi \equiv x - 2y + z = 0$, tiene de ecuaciones en implícita:

$$x + (1 + \lambda)y - z - (1 + 2\lambda) = 0$$

$$x - 2y + z = 0$$

Un vector director w de dicha recta s es

$$w = \begin{vmatrix} i & j & k \\ 1 & 1+\lambda & -1 \\ 1 & -2 & 1 \end{vmatrix} = i(1+\lambda-2) - j(1+1) + k(-2-1-\lambda) = (\lambda - 1, -2, -3 - \lambda)$$



Si la recta s es paralela al plano $z=0$, el vector director w de s es perpendicular al vector normal n de $z = 0$, luego su producto escalar es cero, es decir

$$w \cdot n = (\lambda - 1, -2, -3 - \lambda) \cdot (0, 0, 1) = -3 - \lambda = 0, \text{ de donde } \lambda = -3, \text{ y el plano pedido es}$$

$$x + (1 + (-3))y - z - (1 + 2(-3)\lambda) = x - 2y - z + 5 = 0.$$