

**PREGUNTA 1.-** Sean las funciones:  $f(x) = 2x - 1$  ;  $g(x) = \frac{2}{x+1}$  ;

$h(x) = \sqrt{x^2 - 9}$  . Se pide:

- Calcular los dominios de las funciones  $f(x)$ ,  $g(x)$  y  $h(x)$
- Calcular la expresión y el dominio de definición de  $(g \circ f)(x)$
- Calcular la expresión y el dominio de definición de  $h^{-1}(x)$

**PREGUNTA 2.-** Del precio de un viaje en tren en función de los km recorridos sabemos que recorrer 57km cuesta 2,85€ y 68km 3,40€.

- Hallar por interpolación la función más apropiada que exprese el coste del billete en función de los km recorridos.
- Calcular por extrapolación el precio del billete para un viaje de 500km.
- Si un billete cuesta 4€ ¿cuántos km tiene el recorrido?

Representar gráficamente los resultados.

**PREGUNTA 3.-** Calcula:

a)  $\lim_{x \rightarrow 2} \frac{x^2 - 4}{\sqrt{7+x} - 3}$       b)  $\lim_{x \rightarrow \infty} \left[ \frac{10x^2 + 3x}{5x + 1} - 2x \right]$

**PREGUNTA 4.-** Calcula el valor de  $k$  para que la función:

$$f(x) = \begin{cases} \frac{x^2 - 1}{x - 1} & \text{si } x \neq 1 \\ k & \text{si } x = 1 \end{cases} \quad \text{sea continua en todo } \mathbb{R} .$$

**PREGUNTA 5.-** Dada la función  $y = f(x) = \frac{x^3}{x^2 - 4}$ , se pide:

- Estudiar su continuidad.
- Hallar sus asíntotas.
- Esbozar su gráfica.

Calificaciones:

PREGUNTA	PUNTUACIÓN
1	a) 0,75 ; b) 0,75 ; c) 0,75
2	a) 1 ; b) 0,5 ; c) 0,5
3	a) 1 ; b) 1
4	a) 0,75
5	a) 0,5 ; b) 1,5 ; c) 1

### PREGUNTA 1

a)  $\text{Dom}(f) = \mathbb{R}$ , por ser un polinomio.

~~b)~~  $\text{Dom}(g) = \mathbb{R} - \{1\}$

$$\text{Dom}(h) = \{x / x^2 - 9 \geq 0\} = (-\infty, -3] \cup [3, \infty)$$

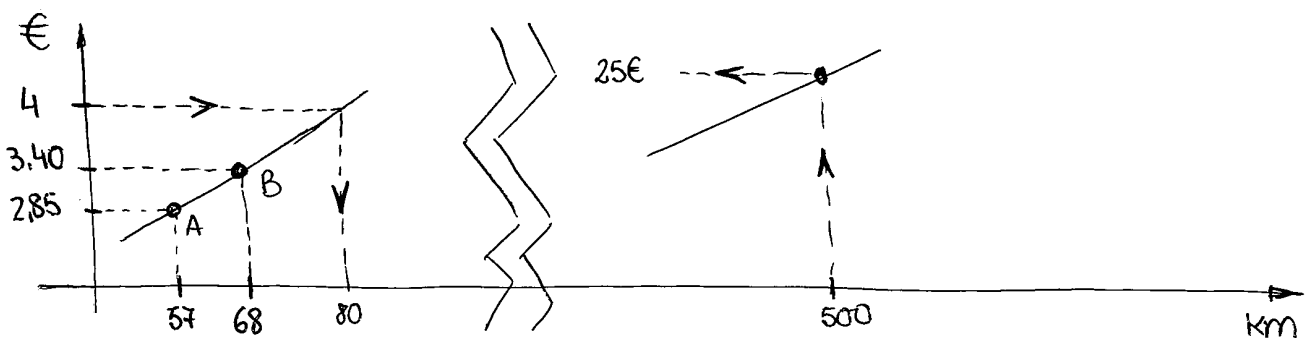
b)  $x \xrightarrow{f} f(x) \xrightarrow{g} g[f(x)] = (g \circ f)(x) = \frac{2}{f(x)+1} = \frac{2}{2x+1} = \frac{2}{2x} = \frac{1}{x}$

$$D(g \circ f) = \mathbb{R} - \{0\}$$

e)  $y = \sqrt{x^2 - 9}$ ;  $y^2 = x^2 - 9$ ;  $y^2 + 9 = x^2 \Rightarrow x = \sqrt{y^2 + 9} \Rightarrow y^{-1} = \sqrt{x^2 + 9}$

$$h^{-1}(x) = \sqrt{x^2 + 9} \Rightarrow \text{Dom}(h^{-1}) = \mathbb{R}$$

### PREGUNTA 2



Interpolación lineal:  $y = mx + n$

• PUNTO A: (57; 2,85)  $2,85 = 57m + n$  (I)  
• PUNTO B: (68; 3,40)  $3,40 = 68m + n$  (II)

Reducción:

$$(II) - (I)$$

$$0,55 = 11m \Rightarrow \boxed{m = \frac{0,55}{11} = 0,05}$$

$$2,85 = 57 \cdot 0,05 + n \Rightarrow \boxed{n = 0}$$

$$\boxed{y = 0,05x}$$

b) Si  $x = 500 \text{ km} \Rightarrow y = 0,05 \cdot 500 = \underline{\underline{25 \text{ €}}}$

c) Si  $y = 4 \text{ €} \Rightarrow 4 = 0,05 \cdot x \Rightarrow x = \frac{4}{0,05} = \underline{\underline{80 \text{ km}}}$

PREGUNTA 3

$$a) \lim_{x \rightarrow 2} \frac{x^2 - 4}{\sqrt{7+x} - 3} = \left[ \frac{0}{0} \right] = \lim_{x \rightarrow 2} \frac{(x^2 - 4)(\sqrt{7+x} + 3)}{(\sqrt{7+x} - 3)(\sqrt{7+x} + 3)} = \lim_{x \rightarrow 2} \frac{(x^2 - 4)(\sqrt{7+x} + 3)}{7 + x - 9} =$$
$$= \lim_{x \rightarrow 2} \frac{(x+2)(x-2)(\sqrt{7+x} + 3)}{(x-2)} = 4 \cdot 6 = 24$$

$$b) \lim_{x \rightarrow \infty} \left[ \frac{10x^2 + 3x}{5x + 1} - 2x \right] = [\infty - \infty] = \lim_{x \rightarrow \infty} \frac{10x^2 + 3x - 10x^2 - 2x}{5x + 1} =$$
$$= \lim_{x \rightarrow \infty} \frac{x}{5x + 1} = \frac{1}{5}$$

PREGUNTA 4

$$\lim_{x \rightarrow 1} \frac{x^2 - 1}{x - 1} = \lim_{x \rightarrow 1} \frac{(x+1)(x-1)}{(x-1)} = 2$$

La función es continua en  $\mathbb{R} - \{1\}$  por ser un cociente de polinomios donde el denominador no se anula.

Para que la función sea continua en  $x=1$  ha de suceder que:

$$\lim_{x \rightarrow 1^-} f(x) = \lim_{x \rightarrow 1^+} f(x) = 2 = f(1) = K \Rightarrow \boxed{K=2}$$

PREGUNTA 5

a) Continuidad: Una función racional está definida en todo  $\mathbb{R}$ , salvo donde se anule el denominador:

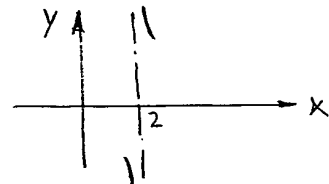
$$x^2 - 4 = 0 \Leftrightarrow x = \pm 2$$

Luego:  $f$  es continua en  $\mathbb{R} - \{2, -2\}$

b) Asíntotas:

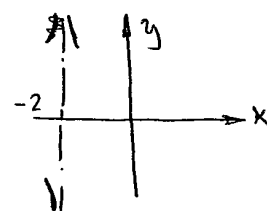
• VERTICALES: En  $x=2$

$$\begin{cases} \lim_{x \rightarrow 2^-} \frac{x^3}{x^2 - 4} = -\infty \\ \lim_{x \rightarrow 2^+} \frac{x^3}{x^2 - 4} = +\infty \end{cases}$$



•  $x=-2$

$$\begin{cases} \lim_{x \rightarrow -2^-} \frac{x^3}{x^2 - 4} = -\infty \\ \lim_{x \rightarrow -2^+} \frac{x^3}{x^2 - 4} = +\infty \end{cases}$$



• HORIZONTALES :  $\lim_{x \rightarrow \infty} \frac{x^3}{x^2-4} = \infty$  NO HAY ASÍNTOTA

$\lim_{x \rightarrow -\infty} \frac{x^3}{x^2-4} = -\infty$  " "

• OBLICUA :  $y = mx + n$

$m = \lim_{x \rightarrow \infty} \frac{f(x)}{x} = \lim_{x \rightarrow \infty} \frac{x^3}{x^3-4x} = 1$

$n = \lim_{x \rightarrow \infty} [f(x) - mx] = \lim_{x \rightarrow \infty} \left( \frac{x^3}{x^2-4} - x \right) = \lim_{x \rightarrow \infty} \frac{\cancel{x^3} - \cancel{x^3} + 4x}{x^2-4} = 0$

$y = x$

c) Puntos de corte :

eje X ( $y=0$ )  $0 = \frac{x^3}{x^2-4} \Rightarrow x=0$  } (0,0)

eje Y ( $x=0$ )  $y = \frac{0^3}{0^2-4} = 0$

