

Nombre _____ Fecha _____

RECUERDA

- Un segmento es la parte de recta comprendida entre dos puntos.
- Las rectas paralelas no se cortan.
- Las rectas secantes se cortan en un punto.

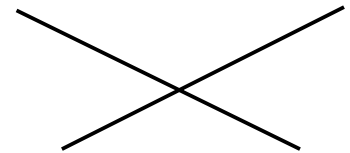
Segmento



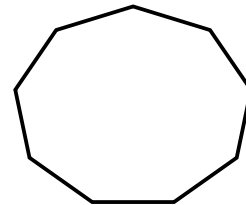
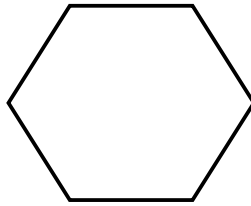
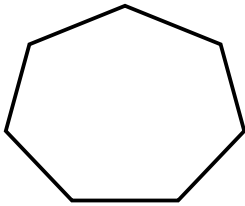
Rectas paralelas



Rectas secantes



1 Cuenta y escribe cuántos segmentos forman cada figura.



2 Dibuja una figura formada por los segmentos que se indican.

- 4 segmentos

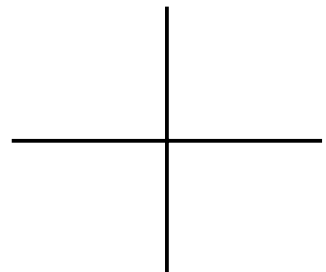
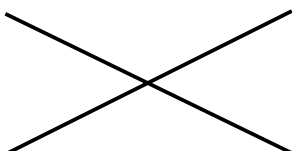
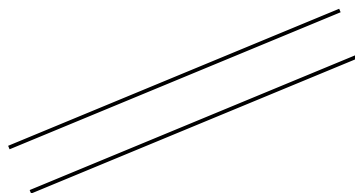
- 5 segmentos



3 Repasa.

ROJO Las rectas paralelas.

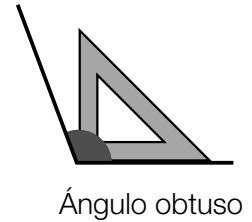
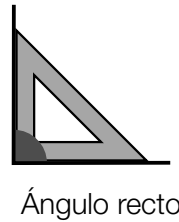
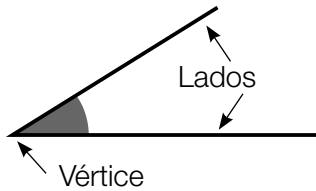
AZUL Las rectas secantes.



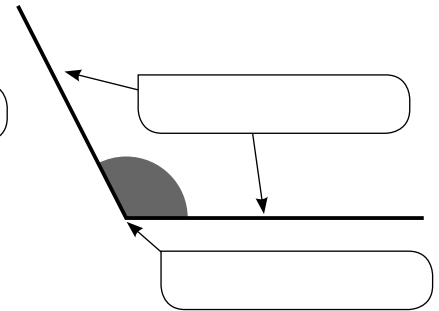
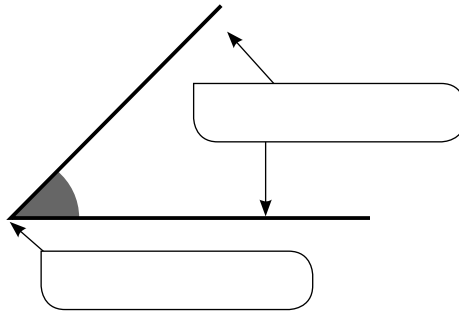
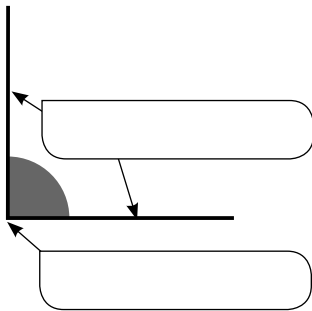
Nombre _____ Fecha _____

RECUERDA

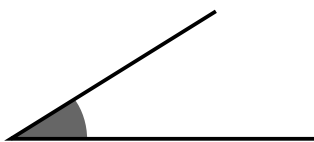
- Dos rectas secantes al cortarse forman cuatro ángulos. Un ángulo tiene dos lados y un vértice.
- Los ángulos pueden ser: rectos, agudos y obtusos.



1 Escribe *lados* y *vértice* donde corresponda.



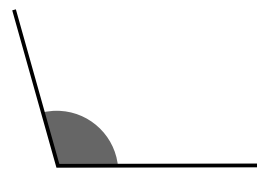
2 Utiliza la escuadra y relaciona.



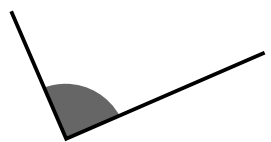
Ángulo recto



Ángulo agudo



Ángulo obtuso



3 Dibuja y comprueba con la escuadra.

ROJO Un ángulo recto.


AZUL Un ángulo obtuso.

Nombre _____ Fecha _____

RECUERDA

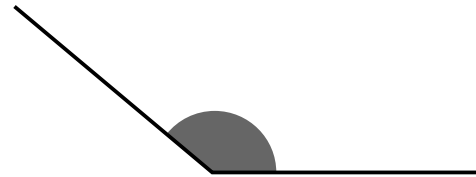
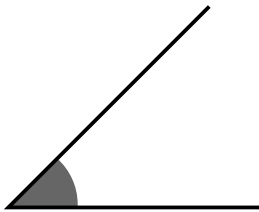
Para medir un ángulo con el transportador:

- 1.º Coloca el transportador como indica la figura.
- 2.º Mira en el transportador la medida del ángulo.



Este ángulo mide 60° .

1 Utiliza el transportador y relaciona cada ángulo con su medida.



90°

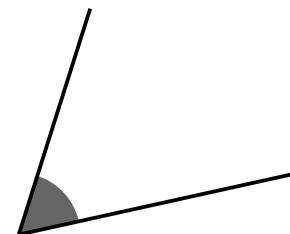
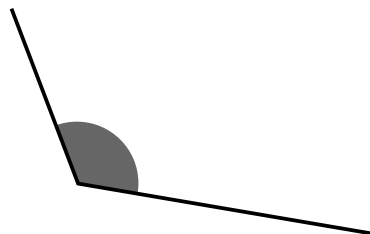
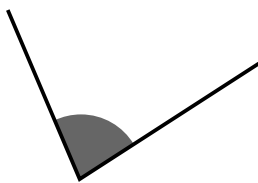
45°

60°

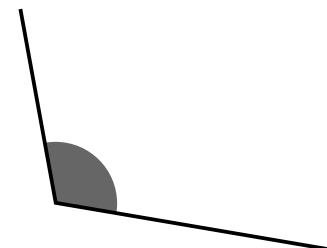
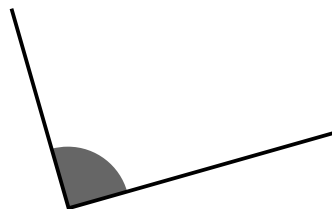
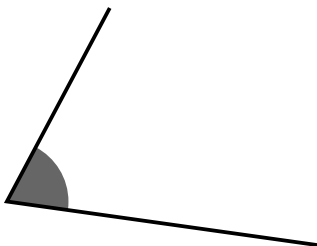
120°

140°

80°



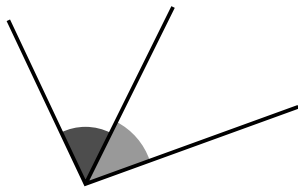
2 Utiliza el transportador y escribe la medida de cada ángulo.



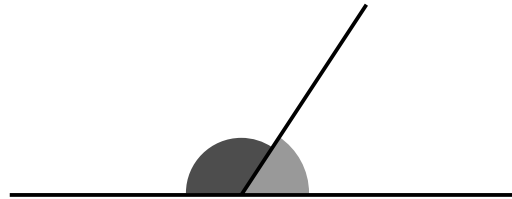
Nombre _____ Fecha _____

RECUERDA

- Los ángulos consecutivos tienen en común el vértice y un lado.
- Los ángulos adyacentes son ángulos consecutivos que tienen los lados no comunes en la misma recta.



Ángulos consecutivos



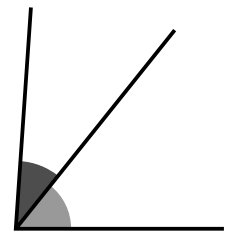
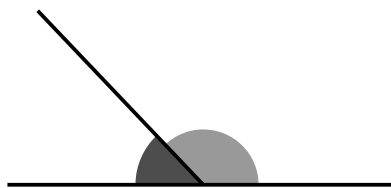
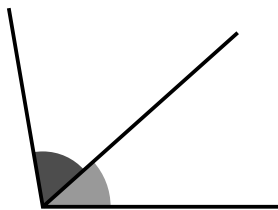
Ángulos adyacentes

1 Escribe la diferencia entre ángulos consecutivos y ángulos adyacentes.

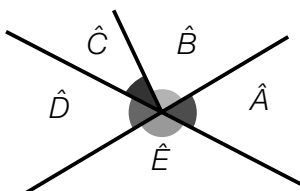
- Ángulos consecutivos _____

- Ángulos adyacentes _____

2 Escribe *ángulos consecutivos* o *ángulos adyacentes*.



3 Observa el dibujo y escribe.



- Dos ángulos consecutivos.
- Dos ángulos adyacentes.