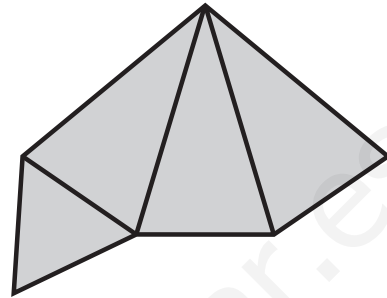
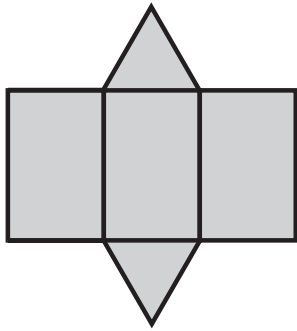
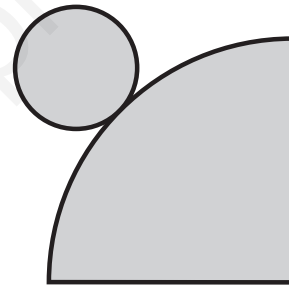
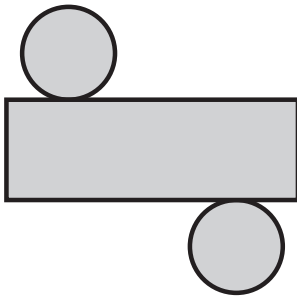


Nombre _____

Fecha _____

1 Rodea las bases y escribe el nombre del cuerpo geométrico que se puede construir con cada desarrollo.





2 Averigua en qué cuerpo está pensando cada niño y completa.

Es un cuerpo redondo sin bases ni vértices.

Pepe



Tiene dos bases en forma de pentágono.

Marta



Tiene tres caras laterales y cuatro vértices.

Miguel



- Pepe está pensando en _____ y Miguel en _____.
- Marta está pensando en _____.