

¿Cuál es el dominio de estas funciones?

a) $f(x) = \sqrt{x + 4}$

c) $f(x) = 9x^3 + 6x^2 - 9x$

b) $f(x) = \frac{2x - 5}{x^2 - 16}$

d) $f(x) = \cos x$

a) $\text{Dom } f = [-4, +\infty)$

c) $\text{Dom } f = \mathbb{R}$

b) $\text{Dom } f = \mathbb{R} - \{-4, 4\}$

d) $\text{Dom } f = \mathbb{R}$

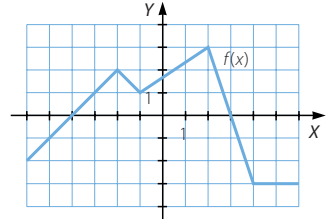
¿En qué intervalos es creciente esta función?

¿Y decreciente? En $x = 2$, ¿es cóncava o convexa?

La función es creciente en $(-6, -2) \cup (-1, 2)$.

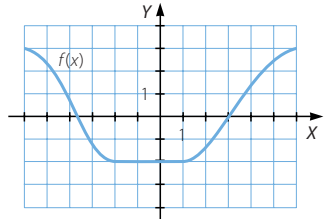
La función es decreciente en $(-2, -1) \cup (2, 4)$.

En $x = 2$, la función no es ni cóncava ni convexa.



Estudia el crecimiento de la función.

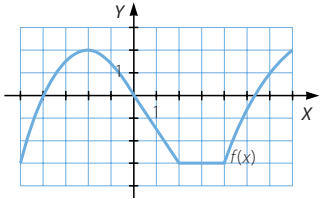
La función es decreciente en $(-\infty, -2)$, es constante en $(-2, 1)$ y es creciente en $(1, +\infty)$.



¿En qué puntos de la función hay máximos relativos? ¿Y mínimos relativos? ¿Tiene máximos o mínimos absolutos?

Existe un máximo relativo en el punto $x = -2$.

No tiene mínimos relativos ni absolutos y no hay máximos absolutos.



Estudia el dominio, el recorrido, el crecimiento y los máximos y mínimos de $f(x)$.

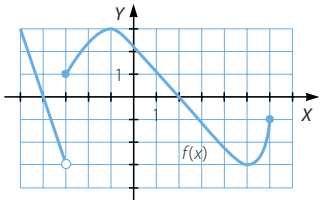
$\text{Dom } f = (-\infty, 6]$

$\text{Im } f = [-3, +\infty)$

La función es decreciente en $(-\infty, -3) \cup (-1, 5)$ y es creciente en $(-3, -1) \cup (5, 6)$.

Existe un máximo relativo en $x = -1$ y un mínimo absoluto en $x = 5$.

No hay máximos absolutos.



Justifica si estas funciones son simétricas.

a) $f(x) = \frac{x^4 + 2}{x^2}$

b) $g(x) = \sqrt{x^3 - 3}$

a) $f(-x) = \frac{(-x)^4 + 2}{(-x)^2} = \frac{x^4 + 2}{x^2} = f(x) \rightarrow f(x)$ es simétrica respecto del eje Y.

b) $g(-x) = \sqrt{(-x)^3 - 3} = \sqrt{-x^3 - 3} \rightarrow g(x)$ no es simétrica.