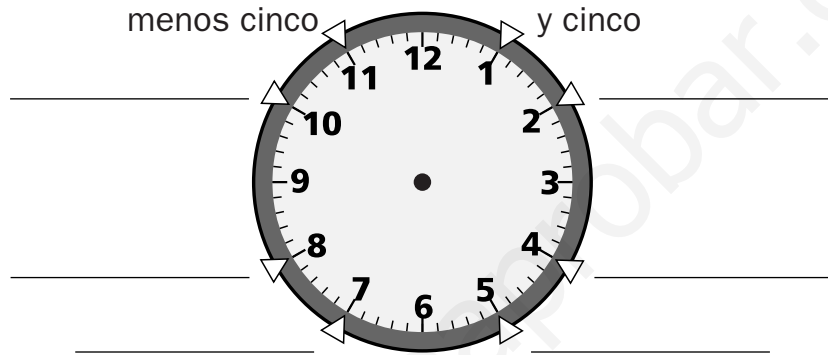


Nombre _____ Fecha _____

Recuerda

- El reloj tiene **dos agujas**: una **corta**, que marca las **horas**, y una **larga**, que marca los **minutos**.
- Una **hora** tiene **60 minutos**.

1. Escribe los minutos que indica cada una de las posiciones indicadas.



2. Escribe la hora que marca cada reloj.



Son las 9 _____



Son las 12 _____



Son las _____



Son las _____

3. Dibuja las manecillas en cada reloj.



Las 3 y veinticinco.



Las 8 menos cinco.



Las 5 menos diez.



Las 4 y veinte.

Horas antes y después del mediodía









Nombre _____ Fecha _____

Recuerda

A partir del mediodía, los relojes marcan así las horas de la tarde y la noche:

- En el reloj digital se marcan las 13, las 14, las 15...
- En el reloj de agujas se vuelve a marcar la 1, las 2, las 3...

1. Completa.

	Antes del mediodía		Después del mediodía
La 1 ▶		$12 + 1 = 13$ ▶	
Las 3 ▶		$12 + \underline{\quad} = \underline{\quad}$ ▶	
Las 7 ▶		$12 + \underline{\quad} = \underline{\quad}$ ▶	
Las 10 ▶		$12 + \underline{\quad} = \underline{\quad}$ ▶	

2. Dibuja en los dos relojes la hora indicada.

Las 4 de la tarde



Las 10 de la noche



Las 11 de la noche



Las 2 de la tarde

