

APLICACIÓN DE LAS DERIVADAS: ESTUDIO DE UNA FUNCIÓN

Resumen

- El signo de la derivada primera de una función permite conocer los intervalos de crecimiento y decrecimiento de la curva asociada a ella. Además, en muchos casos posibilita la determinación de máximos y mínimos relativos.

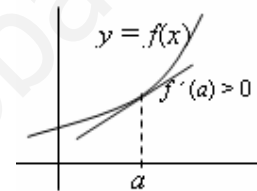
Crecimiento y decrecimiento (monotonía)

- $f(x)$ es creciente en un punto $x = a$ si $f(a-h) \leq f(a) \leq f(a+h)$, para $h > 0$ y pequeño. (Si se sustituye \leq por $<$, se hablaría de crecimiento estricto.)
- $f(x)$ es decreciente en un punto $x = a$ si $f(a-h) \geq f(a) \geq f(a+h)$, para $h > 0$ y pequeño.
- La función $f(x)$ es creciente (decreciente) en un intervalo cuando crece (decrece) en todos los puntos de él.

Caracterización mediante la derivada primera

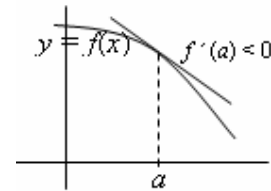
- Crecimiento: Si $f'(a) > 0 \Rightarrow f(x)$ es creciente en $x = a$.

En general, si una función $f(x)$ es tal que $f'(x) > 0$ para todo x de un intervalo, entonces $f(x)$ es creciente en ese intervalo.



- Decrecimiento: Si $f'(a) < 0 \Rightarrow f(x)$ es decreciente en $x = a$.

Si una función $f(x)$ es tal que $f'(x) < 0$ para todo x de un intervalo, entonces $f(x)$ es decreciente en ese intervalo.



- Máximos. El punto x_1 es un máximo relativo cuando la función es creciente a su izquierda y decreciente a su derecha.

Por tanto: x_1 es un máximo si: $f'(x_1^-) > 0$, $f'(x_1) = 0$, $f'(x_1^+) < 0$

- Mínimos. El punto x_2 es un mínimo relativo cuando la función es decreciente a su izquierda y creciente a su derecha.

Por tanto: x_2 es un mínimo si: $f'(x_2^-) < 0$, $f'(x_2) = 0$, $f'(x_2^+) > 0$

- La determinación de los puntos singulares (aquellos en los que la derivada vale 0, llamados también estacionarios; y los puntos en los que la función no está definida) nos permitirá obtener el crecimiento, el decrecimiento, los máximos y los mínimos.

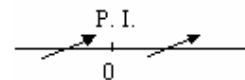
Advertencia. No siempre que $f'(x) = 0$ se tiene un máximo o un mínimo; ni siquiera esto es una condición necesaria.

- Puede haber mínimo sin que $f'(x) = 0$: Así, por ejemplo, la función $f(x) = |x|$ tiene un mínimo en $x = 0$ y en ese punto no es derivable la función.
- Puede suceder que $f'(x) = 0$ y no haya mínimo ni máximo. Así pasa en el punto $x = 0$ para la función $f(x) = x^3$. Su derivada, $f'(x) = 3x^2$, se anula en $x = 0$, pero:

Si $x < 0$, (por ejemplo, $x = -1$), $f'(x) > 0 \Rightarrow f(x)$ es creciente.

Si $x > 0$, (por ejemplo, $x = 1$), $f'(x) > 0 \Rightarrow f(x)$ es creciente.

Por tanto, en $x = 0$ no hay máximo ni mínimo. Hay un punto de inflexión.



Trazado de gráficas con ayuda de la derivada primera

Dada la función $y = f(x)$, para dibujarla es útil el siguiente proceso:

1. Determinar los puntos en los que no está definida $f(x)$.
2. Hallar la derivada $f'(x)$.
3. Calcular las soluciones de la ecuación $f'(x) = 0$ (puntos singulares).
4. Marcar sobre el eje OX los puntos singulares y aquellos en los que la función no está definida. Esos puntos dividen al eje OX en varios intervalos.
5. Estudiando el signo de la derivada en cada intervalo anterior, determinar si la función es creciente o decreciente. (Basta con probar un punto de cada intervalo y ver si $f'(x)$ es positiva o negativa.)
6. Deducir (de lo anterior) dónde se dan los máximos y los mínimos, si es el caso.
7. Trazar la gráfica ajustándose a la información obtenida y dando algunos de sus puntos, entre los correspondientes a los puntos singulares y a los cortes con los ejes de coordenadas.

Ejemplo: Trazado de la gráfica de la función $f(x) = x^5 - 2x^3$.

1. Está definida siempre.

2 y 3. $f'(x) = 5x^4 - 6x^2 \Rightarrow 5x^4 - 6x^2 = 0 \Rightarrow x^2(5x^2 - 6) = 0 \Rightarrow x = 0, x = \sqrt{\frac{6}{5}}, x = -\sqrt{\frac{6}{5}}$

4, 5 y 6. Marcamos los puntos:

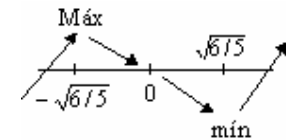
• Si $x < -\sqrt{\frac{6}{5}}$, (por ejemplo, $x = -2$), $f'(x) > 0 \Rightarrow f(x)$ es creciente.

• Si $-\sqrt{\frac{6}{5}} < x < 0$, (por ejemplo, $x = -1$), $f'(x) < 0 \Rightarrow f(x)$ es

decreciente \Rightarrow en $x = -\sqrt{\frac{6}{5}}$ hay máximo

• Si $0 < x < \sqrt{\frac{6}{5}}$, (por ejemplo, $x = 1$), $f'(x) < 0 \Rightarrow f(x)$ es decreciente \Rightarrow en $x = 0$ no hay ni máximo ni mínimo.

• Si $x > \sqrt{\frac{6}{5}}$, (por ejemplo, $x = 3$), $f'(x) > 0 \Rightarrow f(x)$ es creciente \Rightarrow en $x = \sqrt{\frac{6}{5}}$ hay mínimo



7. Dando algunos valores se obtiene la gráfica adjunta.

Para $x = 0$, $f(0) = 0 \rightarrow$ punto $(0, 0)$

Para $x = -\sqrt{\frac{6}{5}} \approx -1,1$, $f(-\sqrt{\frac{6}{5}}) \approx 1,05 \rightarrow$ punto $(-1,1, 1,05)$

Para $x = \sqrt{\frac{6}{5}} \approx 1,1$, $f(\sqrt{\frac{6}{5}}) \approx -1,05 \rightarrow$ punto $(1,1, -1,05)$

Los cortes con el eje OX son las soluciones de $x^5 - 2x^3 = 0$, que son $x = 0$ y $x = \pm\sqrt{2} \rightarrow$ puntos $(-\sqrt{2}, 0)$, $(0, 0)$ y $(\sqrt{2}, 0)$.

