

# Litro, medio litro y cuarto de litro

Alumno: \_\_\_\_\_ Curso: \_\_\_\_\_ Fecha: \_\_\_\_\_

1 Observa las botellas y dibuja las que faltan para tener la cantidad indicada.



= un litro



= medio litro



= cuarto de litro







un litro y medio

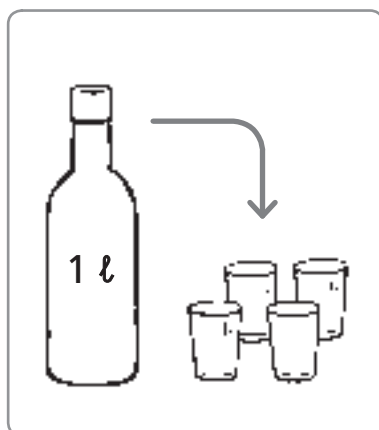


dos cuartos de litro

2 Completa la tabla siguiente poniendo una X en las casillas correctas.

				
<b>Cabe más de 1 litro</b>				
<b>Cabe menos de 1 litro</b>				

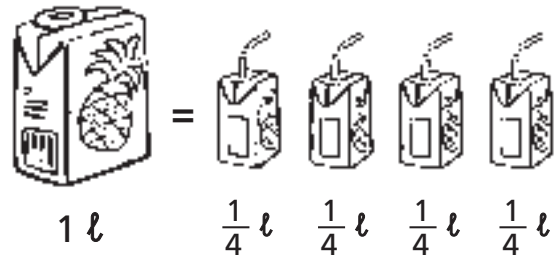
3 ¿Cuántos litros necesitamos para llenar 24 vasos? Colorea las botellas necesarias.



Alumno: \_\_\_\_\_ Curso: \_\_\_\_\_ Fecha: \_\_\_\_\_

Podemos escribir un cuarto de litro también de esta forma.

un cuarto de litro  $\longrightarrow \frac{1}{4} \ell$



1 Observa el ejemplo y dibuja los recipientes necesarios para llenar cada botella.

	1 $\ell$	$\frac{1}{2} \ell$	$\frac{1}{4} \ell$
$\frac{1}{4} \ell$			
$\frac{1}{4} \ell$			

2 Colorea  $\frac{1}{4} \ell$  de cada recipiente.

