

6

Los sectores productivos de España

2014, un año récord de turistas

España recibió en el año 2014 más turistas extranjeros que nunca: 65 millones. La oferta de sol y playa es la que sigue atrayendo a estos turistas. ¿Son 65 millones de visitantes demasiados para un país de 46 millones de habitantes? Según los hosteleros «las visitas son siempre una buena noticia».

Los turistas que más nos visitaron procedían de Reino Unido, Francia y Alemania, que suman más de la mitad. Italia, Bélgica y Portugal protagonizaron los mayores aumentos, mientras que Rusia fue el país que más descendió en número de visitantes.

Por otra parte, también los españoles volvemos a viajar, aunque las cifras siguen por debajo de los niveles anteriores a la crisis. La presencia turística española no solo se nota en destinos de sol y playa, sino también en los alojamientos rurales y en zonas de interior. Además, se vuelve a soñar con nuevos destinos.

Información adaptada de noticias de *El País*.



Lee y comprende el problema

- ¿Por qué se considera que 2014 fue un año excelente para el turismo en España?
- ¿Qué tipo de turismo es el que atrae a más visitantes a nuestro país?
- ¿De qué países procedían más de la mitad de los turistas que llegaron a España en el año 2014? ¿Qué país ha reducido considerablemente el número de turistas hacia nuestro país?
- Observa las fotografías. ¿Qué tipos de turismo crees que representan?
- **EXPRESIÓN ORAL.** Reflexiona y prepara una presentación en la que expongas ante tu clase dos beneficios de proteger el medio ambiente, además de atraer a turistas.

➔ SABER HACER



TAREA FINAL

Extraer información de una noticia y diseñar un folleto

Al final de la unidad comprenderás por qué es importante proteger los espacios naturales para que podamos disfrutar de ellos y atraer a los turistas.

Antes, aprenderás a qué sector económico pertenece el turismo y otras actividades de los tres sectores.



¿QUÉ SABES YA?



La población y el trabajo

Desde el punto de vista del trabajo, la población se clasifica en dos grupos:

- **Población activa.** Son las personas adultas que tienen capacidad para trabajar. Las personas activas que trabajan forman la población **ocupada**; las que buscan un trabajo son la población **parada**.
- **Población inactiva.** Son las personas que, por edad o discapacidad, no pueden trabajar y también las que no cobran por su actividad. Por ejemplo, las personas jubiladas, los menores de 16 años, los estudiantes, las amas de casa y los enfermos.

- **¿En qué grupo de población te encuentras: la activa o la inactiva? ¿Por qué?**



El sector primario en España

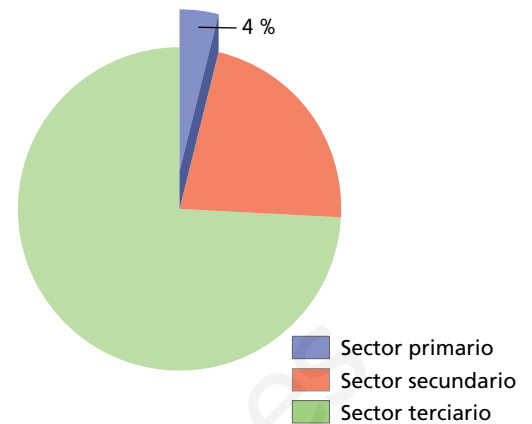
Qué es el sector primario

El sector primario agrupa las actividades económicas que se dedican a obtener recursos de la naturaleza.

Son actividades del sector primario la agricultura, la ganadería, la pesca y la minería, entre otras.

En España, el sector primario fue durante siglos el sector en el que trabajaban más personas. A mediados del siglo pasado, buena parte de la población emigró hacia las ciudades para trabajar en la industria y en los servicios.

En la actualidad, tan solo 4 de cada 100 personas de la población ocupada se dedican al sector primario. ①



① Gráfico de la población ocupada en el sector primario en España.

La agricultura

La agricultura es la actividad del sector primario que ocupa a más personas.

En España se obtiene una gran variedad de productos agrícolas. Se dividen en cultivos de secano y cultivos de regadío.

- Los **cultivos de secano** ocupan la mayoría de la superficie de las tierras de cultivo. Los **cereales**, la **vid** y el **olivo** son los productos más cultivados. Se cultivan sobre todo en Castilla-La Mancha, Castilla y León y Andalucía.
- Los **cultivos de regadío** se extienden tan solo por el 21% de la superficie agrícola. Se obtienen **frutas**, **arroz** y **hortalizas**. Son frecuentes en la Comunidad Valenciana, la Región de Murcia y Andalucía.

La ganadería

La ganadería es la segunda actividad en número de personas ocupadas del sector primario.

En España se crían diferentes tipos de ganado, pero los más abundantes son el porcino, el ovino y el aviar.

- El ganado **porcino** es el más abundante. Las Comunidades de Cataluña y Aragón son las que más granjas de cerdos tienen.
- El ganado **ovino** es el siguiente por el número de animales. Se crían principalmente en Extremadura, Castilla y León y Castilla-La Mancha.
- El **ganado aviar** se cría en granjas por toda España.

TRABAJA CON LA IMAGEN

- ¿Qué sectores de actividad están representados en el gráfico?
- ¿Cuál es el que ocupa menor proporción?

COMPRENDER MEJOR

Los **cultivos de secano** son los que no se riegan, crecen solo con el agua de lluvia. Son cultivos de secano la vid, el olivo y muchos cereales.

Los **cultivos de regadío** necesitan ser regados con el agua de acequias y canales. Son cultivos de regadío las hortalizas, los frutales y algunos cereales, como el maíz y el arroz.



La pesca

España es uno de los principales países pesqueros del mundo, aunque en la actualidad esta actividad ha perdido muchos puestos de trabajo. En España, la pesca puede ser de bajura o de altura.

- La **pesca de bajura** se realiza cerca de la costa en barcos pequeños. En el mar Cantábrico y en el océano Atlántico se capturan peces como la sardina, la anchoa, la pescadilla o el rape. En el mar Mediterráneo, la anchoa, el jurel o la caballa.
- La **pesca de altura** se realiza en barcos grandes en los océanos Atlántico e Índico. ²

Las regiones con más personas ocupadas en la pesca son Galicia y Andalucía.

La minería

La actividad minera en España ha ido disminuyendo por varias causas: el agotamiento de los yacimientos, que se han explotado desde hace siglos; el fuerte impacto ambiental de algunas extracciones; y el menor precio de los productos de otros países.

Por eso, hay pocas minas en activo en España. Se concentran en León, Teruel y Asturias, sobre todo.

La mayoría de las personas de este sector trabaja fundamentalmente en **canteras**. ³ Las principales rocas que se extraen son la pizarra, el mármol, el granito y la sepiolita.



- ² Los barcos que se dedican a la pesca de altura son como fábricas flotantes. Capturan peces y los preparan en conserva o en congelación.



- ³ Cantera de granito.

ACTIVIDADES

- ¹ **Copia y completa esta ficha sobre el sector primario en España.**



Sector primario

- Porcentaje de población que trabaja en él:
- Principales actividades que desarrolla:
- Características que tiene en España:

- ² **Contesta.**

- ¿Qué cultivos ocupan más extensión en España?
- ¿Qué cultivos de regadío son los más frecuentes?

- ³ **USA LAS TIC.** Busca información sobre los tipos de pesca y los barcos que se utilizan. Describe cada uno de ellos.

- ⁴ ¿Cuáles son las causas del descenso de la minería en España? Explica.

El sector secundario en España

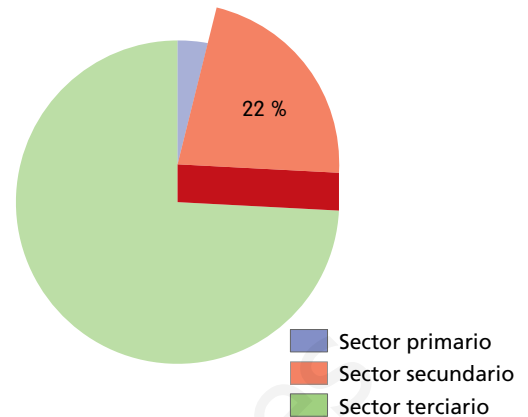
Qué es el sector secundario

El sector secundario agrupa las actividades económicas que se dedican a transformar materias primas en productos elaborados.

Son actividades del sector secundario la industria, la construcción y la artesanía.

En los últimos años, en España se ha reducido el número de personas que trabajan en este sector.

En España trabajan en el sector secundario 22 de cada 100 personas. ¹



¹ Gráfico de la población ocupada en el sector secundario en España.

La industria en España

La industria es la actividad del sector secundario que emplea a más personas: ocupa a 14 de cada 100 trabajadores.


Los principales productos que obtienen las industrias españolas son alimentarios, metalúrgicos, material de transporte y químicos. La mayoría de las fábricas de España son pequeñas y medianas. Cataluña es la Comunidad con mayor producción industrial.

TRABAJA CON LA IMAGEN

- Observa el proceso de elaboración del queso. Indica qué fases pertenecen al sector primario y cuáles al secundario.
- ¿Qué materias primas se utilizan?
- Explica cómo se transforma la leche en queso.

SABER MÁS

Proceso de elaboración, distribución y comercialización del queso



Los tipos de industria

En las fábricas se elaboran distintos productos industriales. Según los productos que se obtengan, las industrias se clasifican en tres tipos. ²

- **Industrias de base.** Fabrican materias primas para otras industrias. Entre estas fábricas están las siguientes:
 - La **siderurgia**, que obtiene acero.
 - La **metalurgia**, que obtiene otros metales, como el aluminio.
 - La **industria química**, que obtiene productos derivados del petróleo y otras sustancias, como ácidos y fosfatos.

Las Comunidades en las que hay más industrias de base son País Vasco, Cataluña, la Comunidad de Madrid, Asturias y Andalucía.

- **Industrias de bienes de equipo.** Se dedican a construir máquinas y piezas para otras industrias, por ejemplo, los neumáticos que luego se montan en los coches. Estas industrias se encuentran sobre todo en Cataluña, la Comunidad de Madrid y la Comunidad Valenciana.
- **Industrias de bienes de consumo.** Fabrican productos que consumen directamente las personas. Por eso, las fábricas que los obtienen se reparten por todo el país. Se localizan en zonas próximas a las ciudades. Destacan la industria alimentaria, la textil, la del automóvil, la electrónica y la informática, la del mueble y la de artes gráficas.

La construcción

La construcción es otra actividad del sector secundario.

Consiste en la edificación de casas, edificios y obras públicas, como puentes y carreteras. Para levantar las construcciones se utilizan productos industriales, como cimientos metálicos, cemento, hormigón, ladrillos y otros productos.

En los últimos años, en España ha descendido mucho el número de trabajadores de la construcción. En la actualidad, tan solo trabajan en esta actividad 8 de cada 100 personas.



- ² Tipos de industria. A. Industria de base: metalurgia. B. Industria de bienes de equipo: neumáticos. C. Industria de bienes de consumo: automóvil.

ACTIVIDADES

- 1 ¿Qué es el sector secundario? ¿Qué actividades agrupa? ¿Cuántas personas trabajan en ese sector en España?
- 2 ¿Cuáles son los principales productos industriales en España? Explica.
- 3 Copia y completa esta tabla.



LA INDUSTRIA EN ESPAÑA	
Tipos de industria	Comunidades en las que destaca
—	—
—	—
—	—

El sector terciario en España

Qué es el sector terciario

El sector terciario incluye todas las actividades económicas que no producen objetos materiales, sino que dan servicios.

Los servicios pueden ser educativos, sanitarios, financieros, administrativos, comerciales, turísticos, culturales, de comunicaciones o del transporte. Al sector terciario también se le llama **sector servicios**.

Algunos servicios se suelen prestar donde pueden ser utilizados por muchas personas, como los hospitales, las universidades, los aeropuertos o los servicios administrativos. Por eso, se dan más en las ciudades que en los pueblos.

El sector terciario ocupa a 74 de cada 100 trabajadores en España y genera la mayor parte de la riqueza en el país. ①

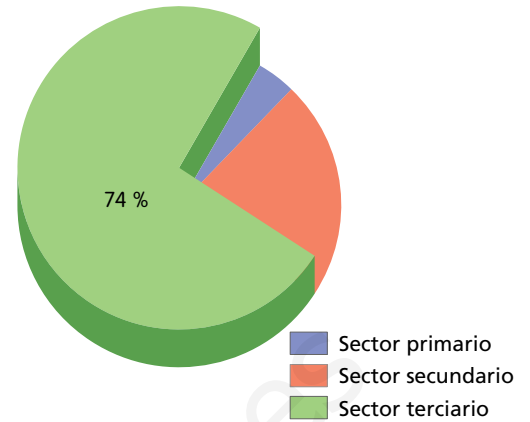
Por tanto, se puede decir que España es un país que basa su economía en los servicios.

El comercio

El **comercio** es el servicio que ofrece los productos que se obtienen de los sectores primario y secundario a los **consumidores** a cambio de dinero.

El comercio se puede realizar entre distintos países o dentro de un país:

- El **comercio exterior** es el intercambio de productos entre distintos países. El país que vende un producto a otro país realiza una **exportación**. Sin embargo, el país que lo compra realiza una **importación**.
España exporta productos agroalimentarios y otros productos industriales, como calzado y automóviles. Importa minerales, productos informáticos y combustibles, como el petróleo o el gas natural.
- El **comercio interior** es el intercambio de productos dentro de un mismo país. Puede ser minorista o mayorista:
 - El **comercio minorista** es el que vende directamente productos a los consumidores: tiendas, supermercados, hipermercados y grandes almacenes.
 - El **comercio mayorista** es el que compra grandes cantidades de productos a quienes los producen y los vende a los comercios minoristas.



① Gráfico de la población ocupada en el sector terciario en España.

TRABAJA CON LA IMAGEN

- ¿Cuál es el sector que ocupa más extensión del gráfico?
- Explica cómo se distribuye la población ocupada en España.

SABER MÁS

Las señales de tráfico

Es importante conocer y respetar las normas de circulación y las señales de tráfico para evitar accidentes.

Existen distintos tipos de señales:

- Las **señales de prohibición** son circulares.
- Las **señales que advierten de un peligro** son triangulares.
- Las **señales informativas** son cuadradas o rectangulares y de color azul.

Los transportes

Los transportes son el servicio que traslada pasajeros y distribuye mercancías por el territorio. Para ello, utiliza distintas vías de comunicación:

- **Transporte terrestre.** Se usan las vías de ferrocarril y las carreteras. El transporte de mercancías en España se realiza principalmente en camión y el de pasajeros, en autobús y en ferrocarril.
- **Transporte marítimo.** Se transportan mercancías en buques mercantes de un puerto a otro, a través de rutas marítimas. Los principales puertos españoles son los de Algeciras, Barcelona y Bilbao. El transporte de pasajeros es importante en Canarias y en las islas Baleares. ²
- **Transporte aéreo.** Se transportan fundamentalmente pasajeros entre aeropuertos, usando aviones y helicópteros. El aeropuerto con más tráfico aéreo es el Adolfo Suárez Madrid-Barajas.

El turismo

El turismo es la actividad que realizan las personas durante sus viajes y estancias en lugares distintos al habitual para su descanso o diversión.

Los **servicios turísticos** atienden las necesidades de los turistas. Por ejemplo, hoteles, agencias de viajes, guías, restaurantes, etc.

En España, el turismo es una actividad que ocupa a 12 de cada 100 personas que trabajan.

España es el tercer país del mundo que acoge a más turistas. Destaca por el turismo de sol y playa y el cultural, por su patrimonio histórico y artístico. ³



² Transporte de mercancías: buque mercante.



³ Gijón es una localidad que visitan numerosos turistas.

ACTIVIDADES

- 1** ¿Por qué se dice que España es un país de servicios?
- 2** **EXPRESIÓN ESCRITA.** Explica en qué se parecen y en qué se diferencian el comercio interior y el comercio exterior. Pon un ejemplo de cada uno.
- 3** ¿Por qué crees que es tan importante el transporte para el comercio y para el turismo?
- 4** Define qué es el turismo y di cuáles son los tipos de turismo más frecuentes en España.

🗨️ **Extraer información de una noticia y diseñar un folleto**

Aves en un mar artificial

Cerca de la localidad de Villamar se encuentra la Reserva de Los Mujoles, un formidable ecosistema formado por una laguna artificial. Por aquí vuelan y viven somormujos, malvasías, porrones pardos y avetoros. Es un lugar adecuado para el avistamiento de aves. Por eso, cada año acuden numerosos turistas a disfrutar de ese espacio.



➔ **Lee la noticia.**

1 Contesta.

- ¿De qué trata la noticia?
- ¿Por qué es importante ese ecosistema? ¿Qué aves viven en él?
- ¿A qué crees que se refiere el título de esta noticia con «mar artificial»?

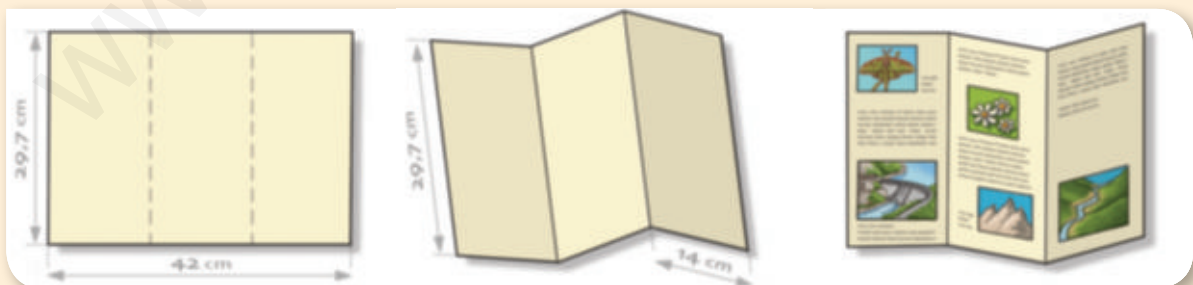
➔ **Busca información.**

2 USA LAS TIC. Consulta en Internet y busca información sobre el turismo de naturaleza en la Comunidad.

- Averigua qué es y por qué es importante el turismo de naturaleza en nuestra Comunidad.
- Luego busca tres lugares de la Comunidad importantes para el turismo de naturaleza.
- Consigue fotografías de cada uno de ellos.

➔ **Demuestra que sabes hacerlo.**

3 Diseña y elabora tu folleto sobre el turismo de naturaleza en la Comunidad. Puedes seguir estos pasos.



a. En una cartulina, marca a lápiz tres divisiones correspondientes a cada parte de tu folleto.

b. A continuación, dobla la cartulina por las marcas. De esta forma, tendrás preparado el folleto.

c. Por último, escribe los textos, pega las fotografías o haz dibujos. No olvides cuidar la presentación.



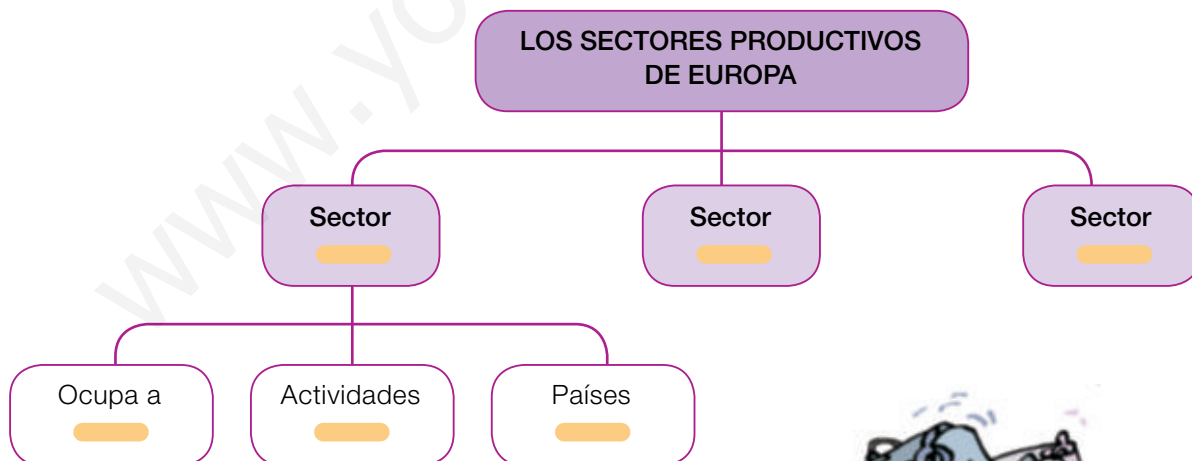
1 RESUMEN. Copia y completa en tu cuaderno estas oraciones que resumen la unidad.

Los sectores productivos de España y Europa

- La población ocupada de España se distribuye en tres sectores productivos: el sector , el sector y el sector .
- Las principales actividades del sector primario en España son .
- Las principales actividades del sector secundario en España son .
- Las principales actividades del sector terciario en España son .
- En el sector primario en Europa trabaja el de la población activa.
- En el sector secundario en Europa trabaja el de la población activa.
- En el sector terciario en Europa trabaja el de la población activa.



2 ESQUEMA. Completa en tu cuaderno el siguiente esquema.



3 PALABRAS CLAVE. Haz una lista en tu cuaderno con cinco palabras nuevas que has aprendido en esta unidad y escribe su significado.

ACTIVIDADES FINALES


1 Escribe en tu cuaderno el nombre al que se refiere cada definición.

- Las actividades que transforman materias primas en productos elaborados.
- Servicio a través del cual se distribuyen productos y se ofrecen a los consumidores.
- Sector al que pertenecen las actividades relacionadas con la explotación de las canteras y las minas.

2 Di el nombre de un país europeo en cada caso:

- País del este de Europa con una gran producción de cereales.
- País del norte de Europa en el que la pesca tiene mucha importancia.
- País del centro de Europa con un sector industrial muy relevante.

3 **TOMA LA INICIATIVA.** Un empresario está buscando un lugar para instalar una fábrica de harina de trigo.



- ¿Qué Comunidad Autónoma le recomendarías: Castilla y León o Canarias? ¿Por qué?
- Explica el proceso de la elaboración y venta de la harina de trigo.
- Teniendo en cuenta cómo es este proceso, ¿cómo le aconsejarías a ese empresario que organizase la empresa?

4 Copia y completa esta ficha sobre el comercio exterior en España. Luego, haz una ficha para el comercio interior.



El comercio exterior es _____.

Exportar es _____.

Importar es _____.

España exporta _____.

España importa _____.

5 En esta tabla se han representado los principales países a los que España importa y exporta productos.

EL COMERCIO EN ESPAÑA EN 2013	
Países a los que España exporta productos	Países de los que España importa productos
Francia	Alemania
Alemania	Francia
Portugal	China
Italia	Italia
Reino Unido	Estados Unidos
Estados Unidos	Países Bajos
Países Bajos	Reino Unido
Bélgica	Portugal
Marruecos	Argelia
Turquía	Rusia

- ¿A qué continente pertenecen los países con los que España comercia más?
- ¿A qué países España compra y no vende productos?

6 **PARA PENSAR.** Escribe en tu cuaderno dos razones para explicar por qué los servicios se concentran en las ciudades.

7 Observa el mapa y contesta.

Número de turistas extranjeros que visitaron las Comunidades y Ciudades Autónomas de España en 2013



- ¿Qué se ha representado en este mapa?
- ¿A qué año corresponde?
- ¿Cuáles fueron las tres Comunidades Autónomas más visitadas por los turistas en ese año?
- ¿Por qué crees que visitaron esas Comunidades?

Demuestra tu talento

Elige y realiza una de estas actividades.

- A.** Haz una encuesta a diez personas que conozcas y elabora una lista con sus profesiones. Después, representa en un gráfico los sectores económicos a los que pertenecen esas profesiones.
- B.** Averigua cuál es la actividad de cada uno de los sectores de la economía que destaca en tu localidad. Explica en qué consisten, cuántas personas trabajan en ellas, por qué son importantes...
- C.** Busca información sobre la Organización Mundial del Turismo y di dónde tiene su sede y cuáles son sus objetivos.

